


**Урок
математики
в 3 классе**



Девиз урока

Мы умеем думать,
Мы умеем
рассуждать!
Всё, что нужно для
работы
То и будем
выполнять!



Как спрыгнуть с
д... ой
е



ть с
ни





<http://gallery.world/wallpaper/571702.html>

**Запишите ответы на
таблицу умножения на 5
в порядке возрастания**



5, 10, 15, 20, 25, 30, 35, 40, 45, 50

Назови ответы



Вырази в кг

1 Т =

1000 кг



Вырази в кг

1 ц =

100 кг




Вырази в ц

1 т =

10 ц



20 мешков



Назови меры массы в порядке возрастания

1000 г

100 кг

10 ц

1 г

1 кг

1 ц

1 т

Вырази

$$5 \text{ Т} = 50 \text{ ц}$$

$$9 \text{ Т} = 9000 \text{ кг}$$

$$5 \text{ Т } 300 \text{ кг} = 5300 \text{ кг}$$

$$2 \text{ Т} = 2000 \text{ кг}$$

$$7 \text{ Т} = 70 \text{ ц}$$

$$3 \text{ ц} = 300 \text{ кг}$$

$$8 \text{ Т } 7 \text{ кг} = 8007 \text{ кг}$$

$$4 \text{ ц} = 400 \text{ кг}$$

$$6 \text{ Т } 20 \text{ кг} = 6020 \text{ кг}$$

$$6 \text{ Т } 5 \text{ ц} = 65 \text{ ц}$$



Вычисли

$$5 \text{ Т} + 3 \text{ Ц} =$$

$$53 \text{ Ц}$$

$$5 \text{ Т} - 3 \text{ Ц} =$$


$$47 \text{ Ц}$$

$$8 \text{ Т} + 2 \text{ Ц} =$$

$$82 \text{ Ц}$$

$$9 \text{ Т} - 6 \text{ Ц} =$$

$$84 \text{ Ц}$$



Самостоятельная работа

10 правильных ответов - 5

8-9 правильных ответов - 4

5-7 правильных ответов - 3



?????

	Маша	Миша	всего
яблоки	40	50	?



??????

Маша – 40 яблочк

Миша – 50 яблочк

Всего - ?

The image features a notebook page with a grid pattern and a red margin line. On the left side, there are decorative elements: a stack of papers at the top, a pencil sharpener, and a blue pencil with a red eraser. The background of the notebook page is white with a light blue grid. The text is centered on the page.

Тема урока

**Таблица и
краткая
запись
задачи**



Цель урока

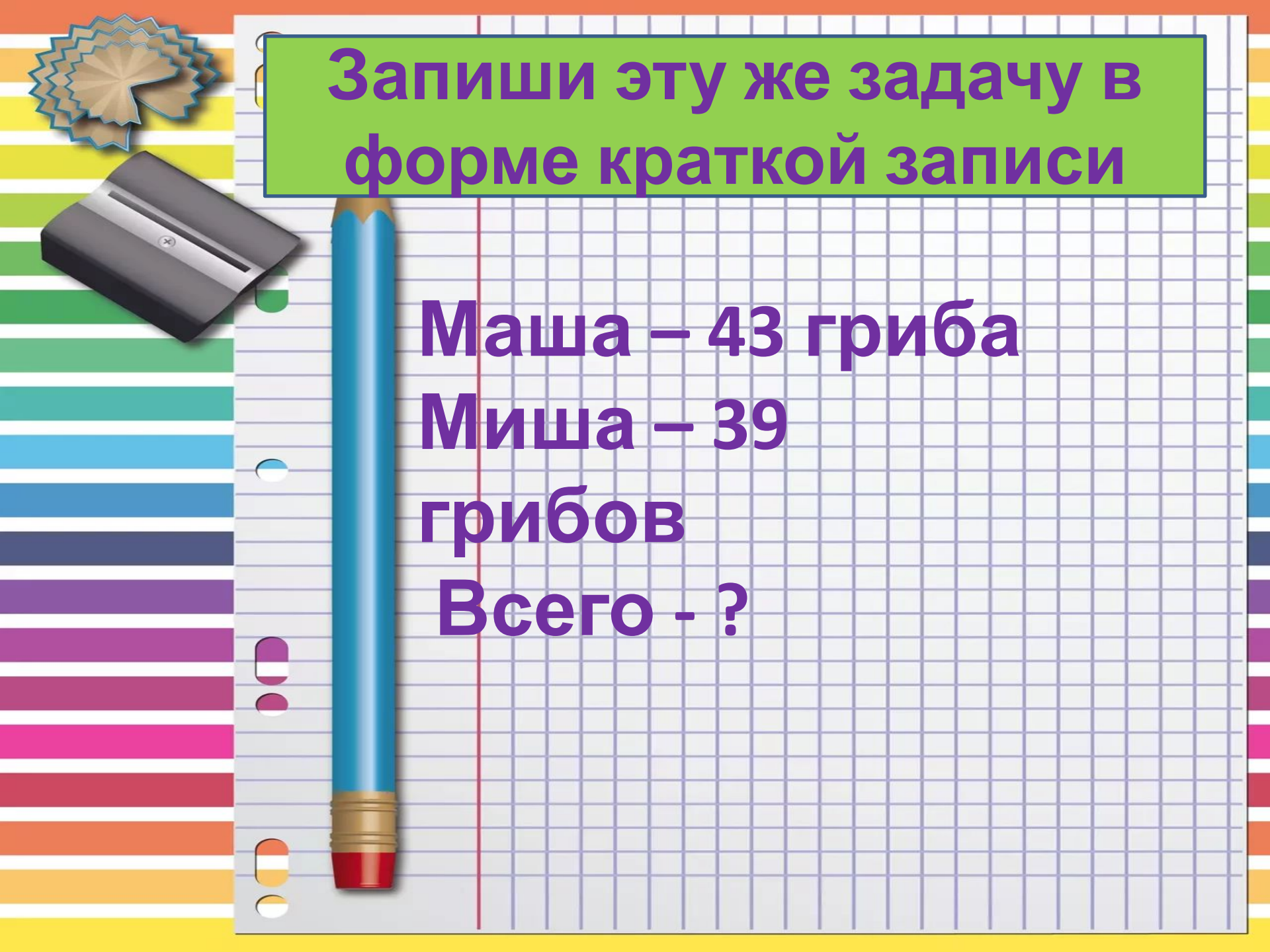
Уметь решать
задачи,
пользуясь
таблицей и
краткой
записью

№206. с. 60



	Маша	Миша	всего
грибы	43	39	?



The background features a stack of colorful paper with horizontal stripes in shades of orange, yellow, green, blue, purple, and pink. On the left side, there is a silver paper cutter and a blue pencil with a red eraser and a gold ferrule. A green rectangular box with a purple border is positioned at the top, containing the text.

**Запиши эту же задачу в
форме краткой записи**

Маша – 43 гриба

Миша – 39


грибов

Всего - ?

№207. с. 60

1 бриг.	2 бриг.	3 бриг.	ВСЕГО
450 кг	500 кг	470 кг	?





Запиши эту же задачу в
форме краткой записи

1 бригада – 450

кг

2 бригада – 500

кг

3 бригада – 470

кг





A stack of papers with a scalloped edge is in the top left. A black pencil sharpener is below it. A blue pencil with a red eraser and a gold ferrule is positioned vertically on the left side of the page. The background is a grid of light blue and white squares with a red margin line on the left. The left edge of the page has colorful horizontal stripes and punch holes.


Домашнее задание

№210. с. 62

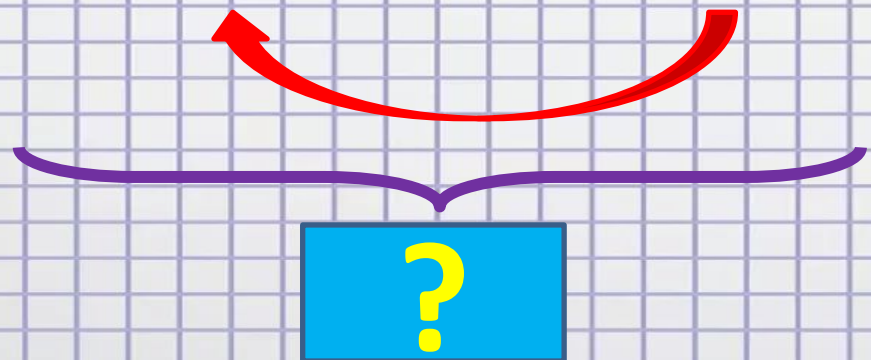
Физминутка




Измени вопрос так, чтоб задача решалась в 2 действия



	1 день	2 день
Время в пути	4 часа	?, в 2 раза >






Запиши эту же задачу в
форме краткой записи

1 день – 4 часа

2 день – ?, в 2 раза >



Самооценка



Мишень
лучно-арбалетная
FITA - 80 см центр 5 колец



Итог урока

Я знаю...

Я умею...

Мне еще

СЛОЖНО...