

Урок математики в 3 классе



Настрой на урок

Руки в кулачки сожмем,
Крылья носа разотрем.

Точка есть и в центре
лба –


Помассируй для ума.

Возле уха и внутри

Точки хорошо потри.



Шли 7 братьев, у каждого
брата по одной сестре.
Сколько шло человек?



Вдоль дорожки друг за другом растут 5 деревьев, между которыми стоят скамейки. Сколько всего скамеек?



У животного 2 правые
ноги, 2 левые, 2 ноги
спереди, 2 сзади. Сколько
у него ног?



4 ноги



Назови числа, которые
при умножении да

12

$$3 \times 4$$

$$2 \times 6$$

$$4 \times 3$$

$$6 \times 2$$



Назови числа, которые
при умножении да

18

$$3 \times 6$$

$$2 \times 9$$

$$6 \times 3$$

$$9 \times 2$$



Назови числа, которые
при умножении да **20**

$$2 \times 10$$

$$4 \times 5$$

$$10 \times 2$$

$$5 \times 4$$



Назови числа, которые
при умножении да

24

$$3 \times 8$$

$$4 \times 6$$

$$8 \times 3$$

$$6 \times 4$$



Придумай вопрос к

зад

Мама купила
конфетки, каж

$$3 \times 5 = 15$$

сколько конфет
купила мама?



Придумай вопрос к задаче

Бабушка связала
внукам.

$$5 \times 2 = 10$$

Сколько всего
связала бабушка




Придумай вопрос к

Папа купил
сока, по 20

$$3 \times 20 = 60$$

сколько в
купил папа



Придумай вопрос к задаче

Дедушка купил
гвоздями, по 60

$$4 \times 60 = 240$$

Сколько всего
купил дедушка



???????

$$3 \times 20 = 60$$

$$4 \times 60 = 240$$



Тема урока

Умножение «круглого» числа на однозначные



Цель урока

Научиться выполнять...

умножение «круглого»

числа на однозначные



Проверь!

$$4 \times 3 = 4 + 4 + 4 = 12$$

$$4 \text{ дес.} + 4 \text{ дес.} + 4 \text{ дес.} = 12 \text{ дес.}$$

$$4 \text{ дес.} \times 3 = 12 \text{ дес.}$$



Вывод

**Десятки
умножаются на
число так же, как и
единицы**



№240. с. 74

$$5 \text{ дес.} \times 3 = 15 \text{ дес.}$$


$$9 \text{ дес.} \times 2 = 18 \text{ дес.}$$

$$7 \text{ дес.} \times 5 = 35 \text{ дес.}$$

$$4 \text{ дес.} \times 6 = 24 \text{ дес.}$$



Физминутка



Самопроверка

$$50 \times 3 = 150$$

$$40 \times 6 = 240$$

$$80 \times 5 = 400$$

$$60 \times 7 = 420$$



Взаимопроверка

$$70 \times 4 = 280$$

$$90 \times 5 = 450$$

$$50 \times 9 = 450$$

$$30 \times 8 = 240$$

$$20 \times 7 = 140$$

$$80 \times 6 = 480$$



Придумай свои
подобные
5 примеров

Найди пару, проверь



Реши задачу

Дети взяли в поход 4
ящика с водой по 10 л в
каждой. Сколько всего
литров воды взяли дети?



Придумай задачу



Итог урока

Я узнал...

Я уже умел...

Для этого нужно
знать....

