

Урок окружающего мира класс



Девиз урока

Не страшны нам
любые испытания.
И мы всегда готовы
к новым знаниям!



Раздел №2

О чём рассказала карта?



Что значит читать карту?



Граница плавучих льдов в период наибольшего распространения (апрель, май) для Северного полушария, (сентябрь) для Южного полушария

Граница плавучих льдов в период наименьшего распространения (август) для Северного полушария, (март) для Южного полушария

ШКАЛА ГЛУБИНЫ И ВЫСОТЫ В МЕТРАХ

10000 8000 6000 5000 4000 2000 0 200 500 1000 2000 4000 6000 метры

Взаимооценка



5 океанов

6 материков

3 моря

3 реки

2 горы

Западно-Сибирскую равнину

Среднесибирское

плато



**Что такое шкала глубин и
высот?**

**Покажи, где на физической
карте России находится
шкала глубин и высот?**



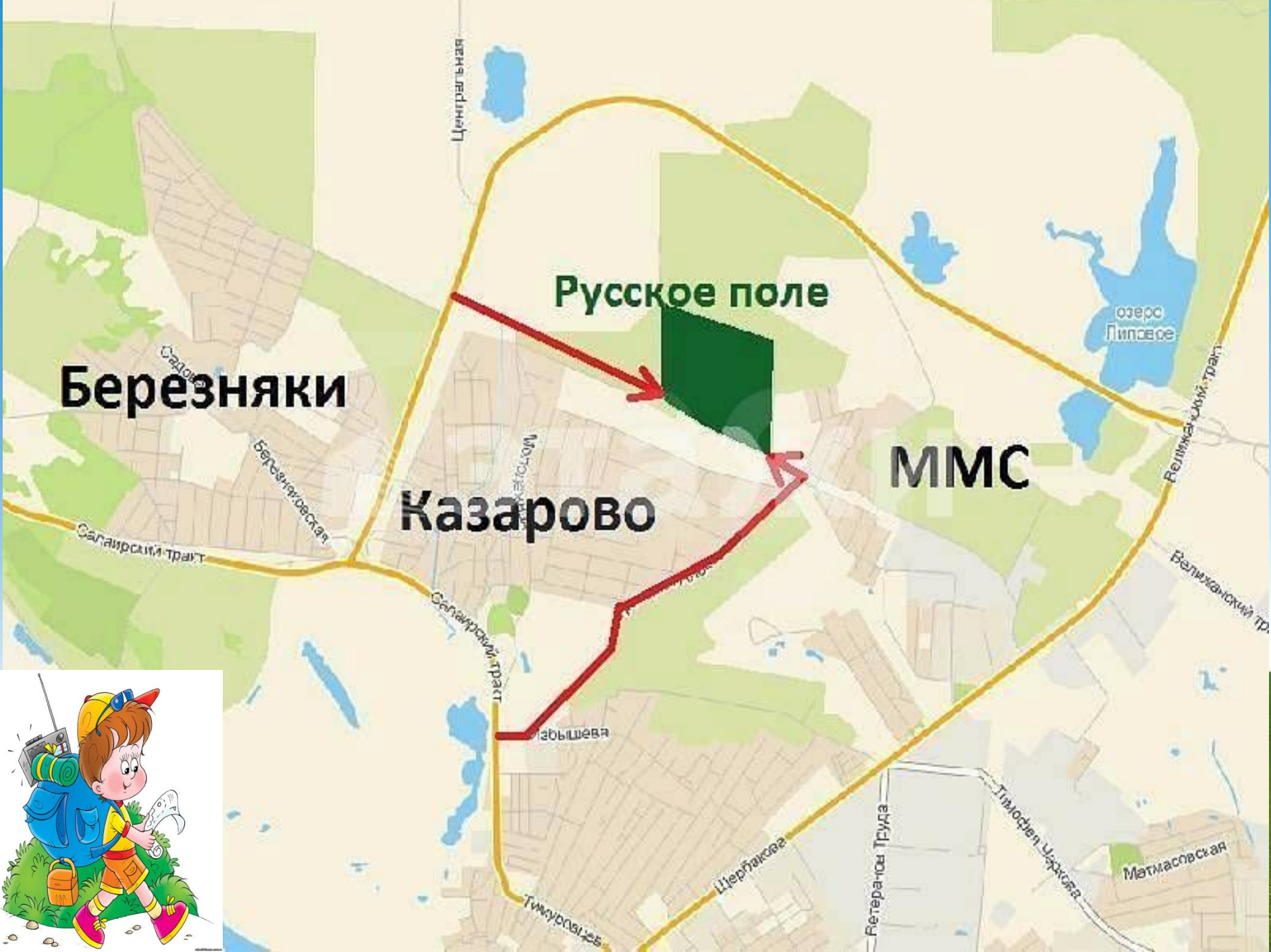
Березняки

Русское поле

Казарово

ММС

озеро
Липовое



Тема урока

План местности



Цель урока

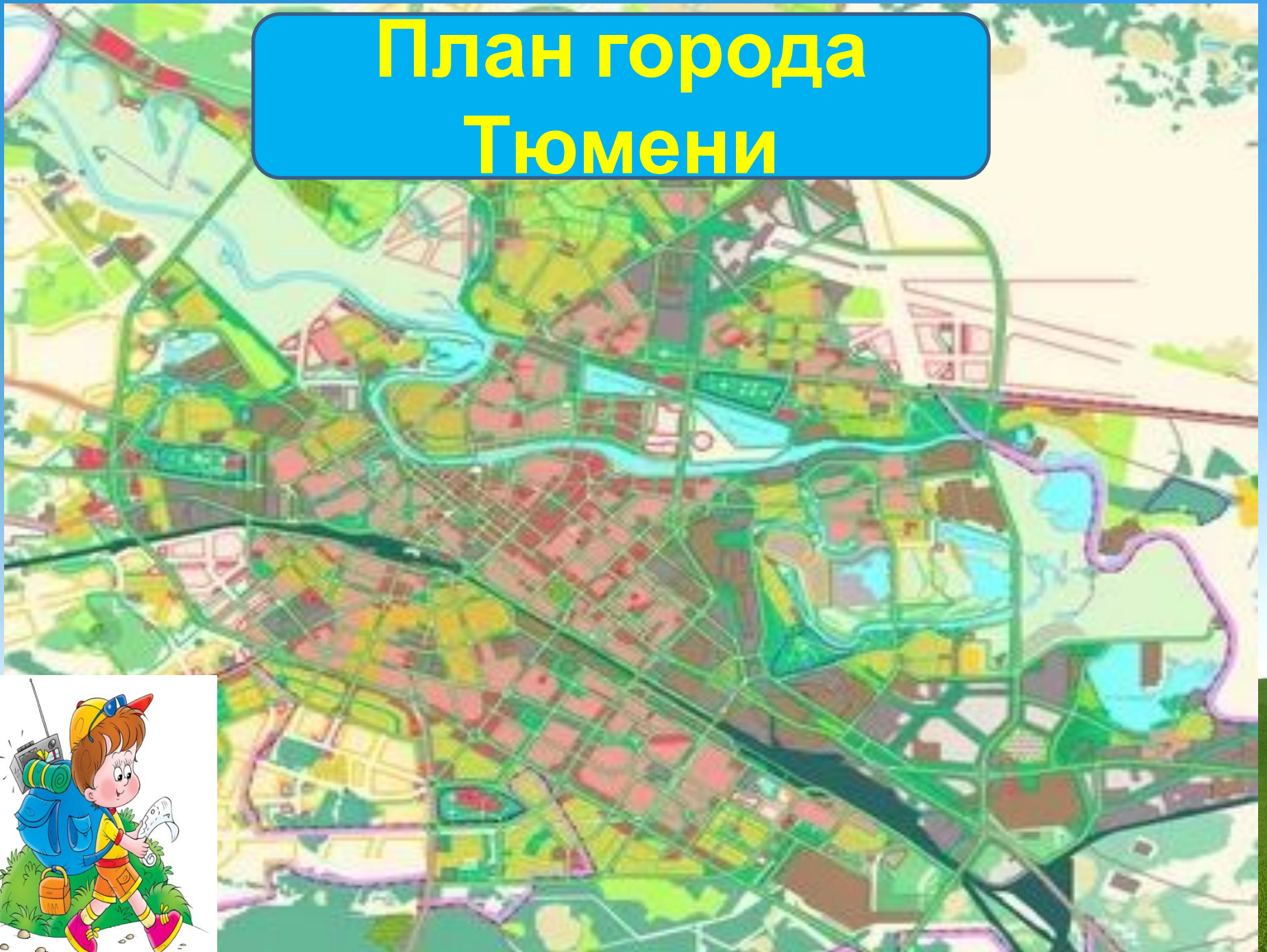
Узнать, что
такое **план местности**



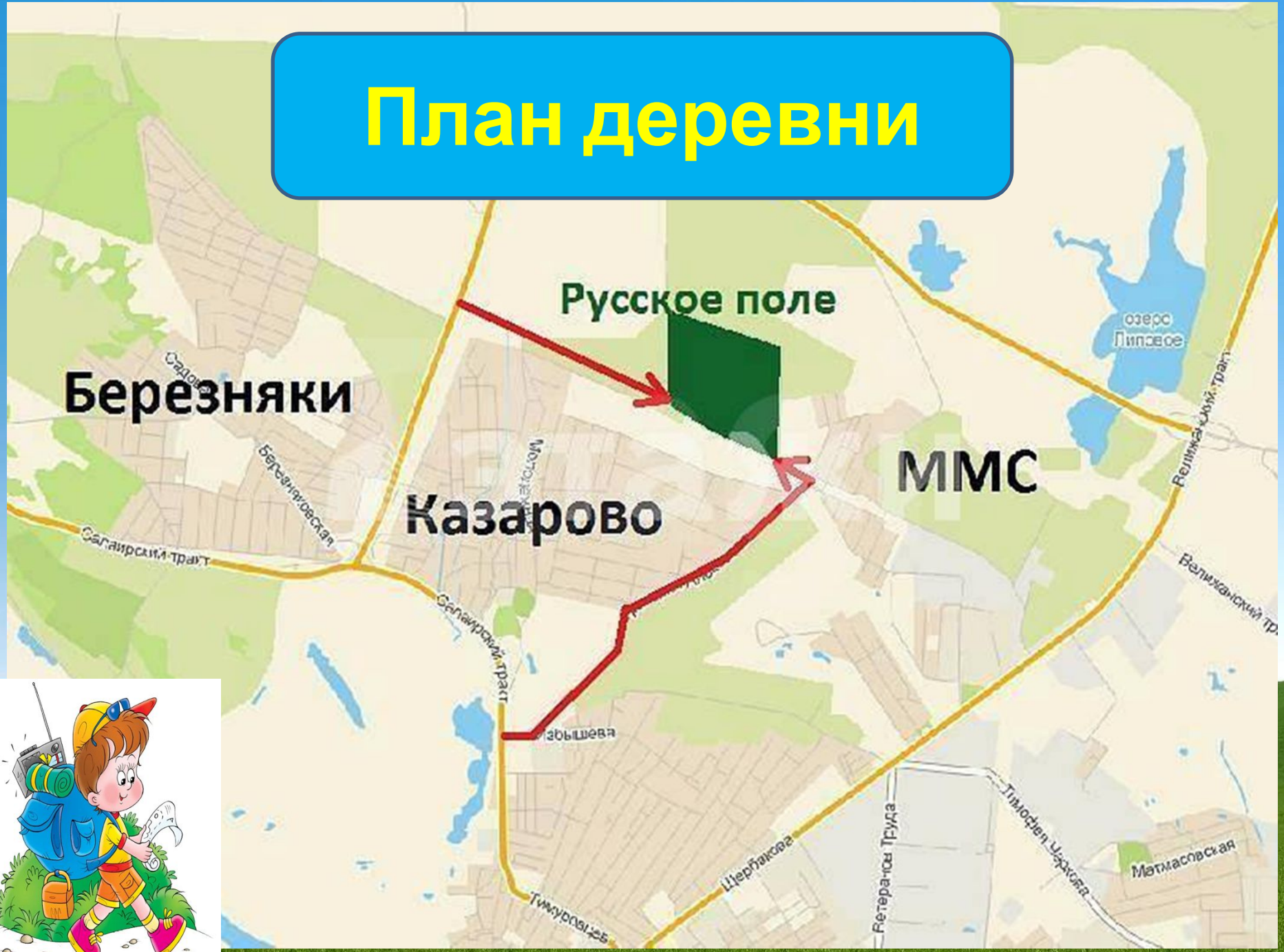
**Какие
планы
могут
быть?**



План города Тюмени

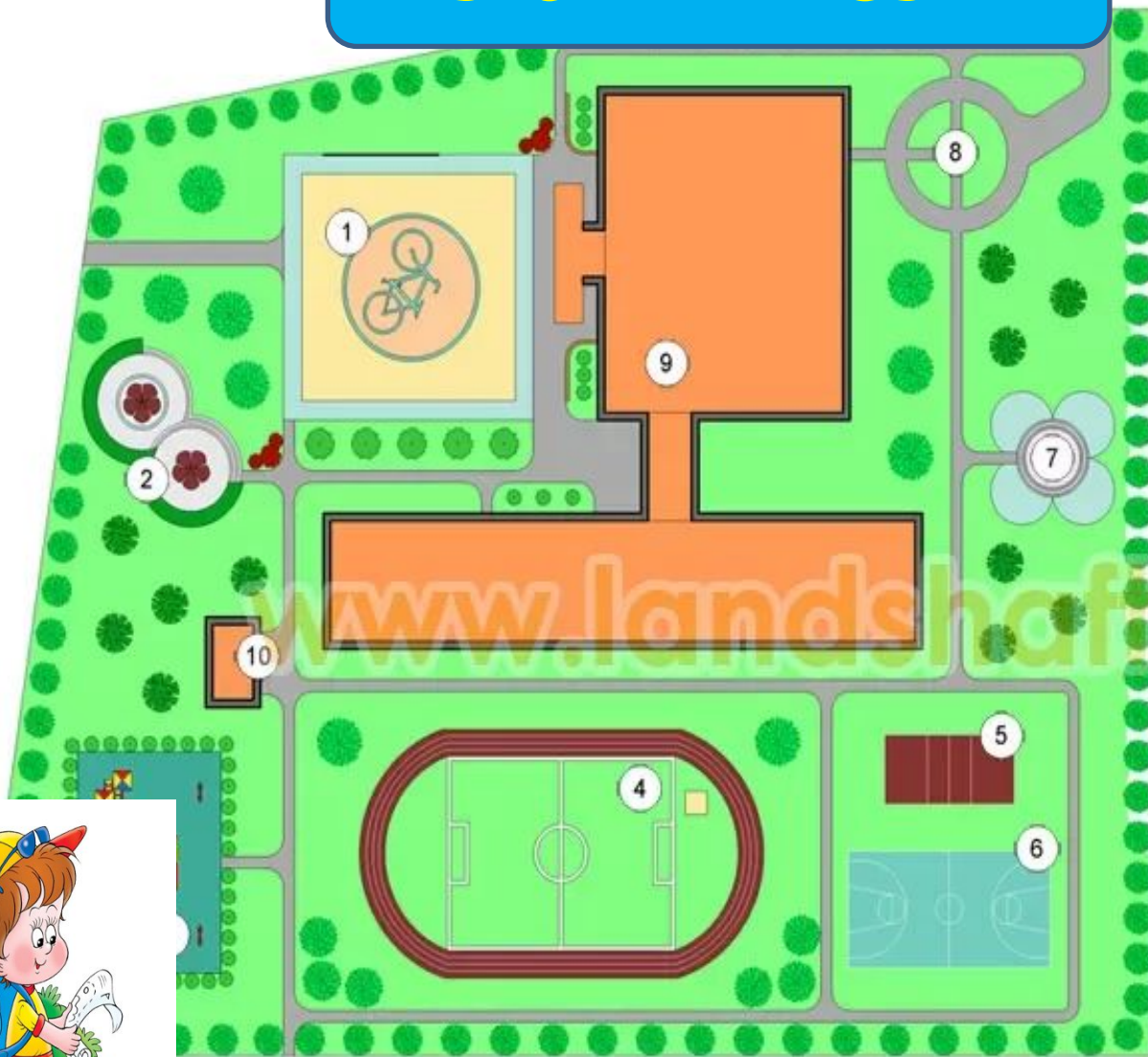


План деревни



План школы

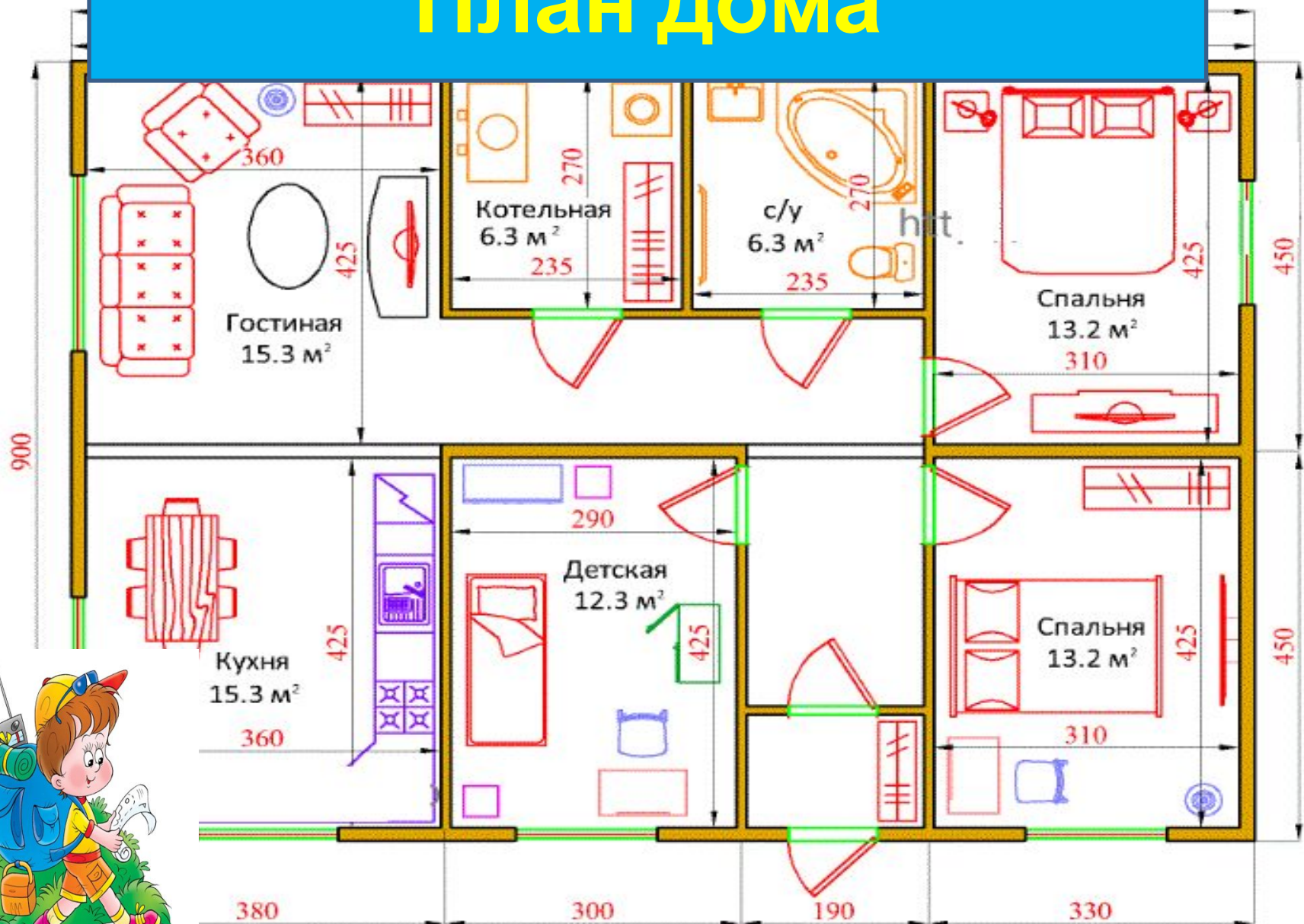
С М 1:200
1 см
200 см



- 1 Мощеная площадка перед центральным входом
- 2 Площадка для пассивного отдыха
- 3 Площадка для прогулки детей начальных классов
- 4 Футбольное поле, беговая дорожка
- 5 Волейбольная площадка
- 6 Баскетбольная площадка
- 7 Площадка для проведения театрализованных представлений, уроков рисования
- 8 Зона заезда спецтехники
- 9 Здание школы
- 10 Хозяйственная постройка



План дома



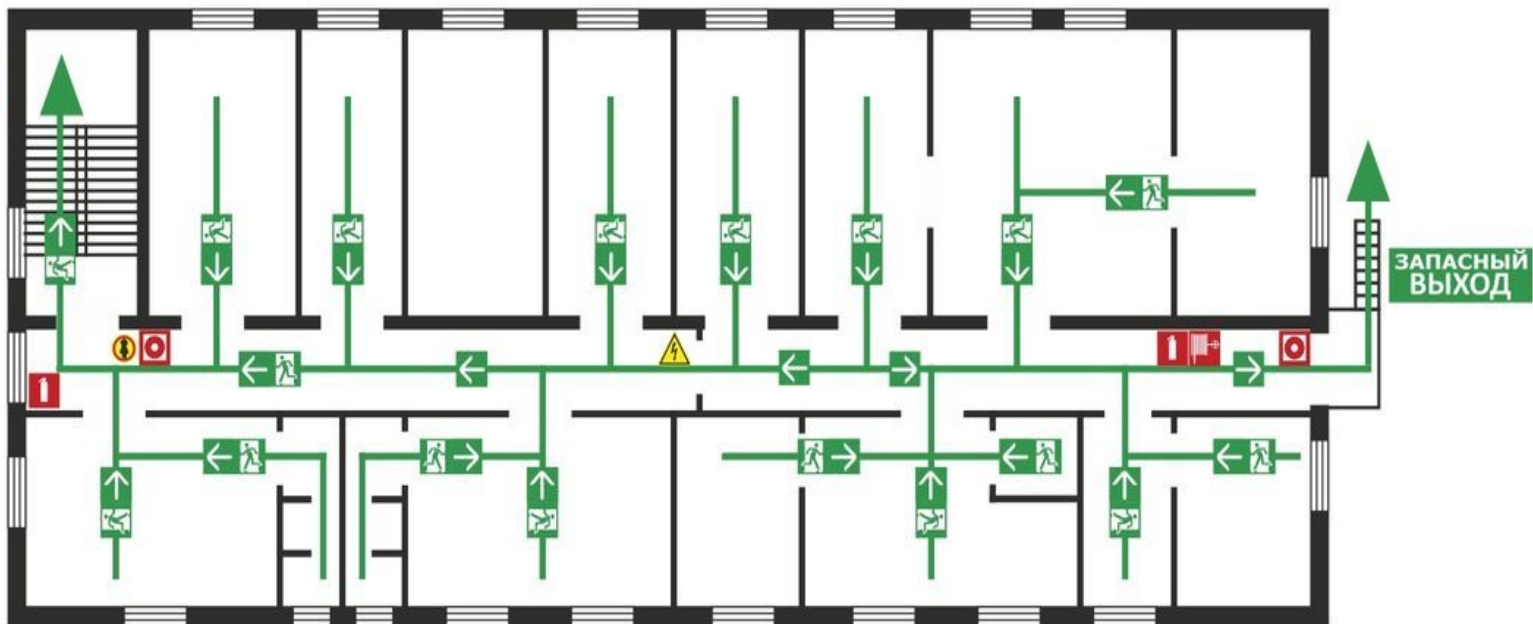
ИЗГОТОВЛЕНО:
 центр полиграфических услуг
 ООО «АиБ»
 г. Кашира, ул. Комсомольская д. 2
 8 (496) 695-33-11
 8 (495) 778-55-78

План эвакуации

УТВЕРЖДАЮ:
 Директор
 ООО «КАШИРАПРОМСТРОЙ»
 Ермаков И. В.
 Т «___» _____ 20__ г.

ООО «КАШИРАПРОМСТРОЙ» в случае возникновения пожара

ВЫХОД



1 ПОЖАРЕ ДЕЙСТВУЙТЕ!

ОПРЕДЕЛИТЕ

ПРИЧИНУ ВОЗНИКНОВЕНИЯ
 ПОЖАРА
 ОЦЕНИТЕ СИСТЕМУ
 ПОЖАРНОЙ ЗАЩИТЫ
 ПОЗНАКОМЬТЕСЬ
 С ПОЖАРНЫМИ
 СИГНАЛАМИ
 ПОЗНАКОМЬТЕСЬ
 С ПОЖАРНЫМИ
 СИГНАЛАМИ
 ПОЗНАКОМЬТЕСЬ
 С ПОЖАРНЫМИ
 СИГНАЛАМИ

ПОЖАРЕ УСЛОВНЫЕ ОБОЗНАЧЕНИЯ

				
ОГНЕТУШИТЕЛЬ	ПОЖАРНЫЙ КРАН	ПОЖАРНЫЙ ШИТ	КНОПКА ВКЛЮЧЕНИЯ СРЕДСТВ ПОЖАРНОЙ АВТОМАТИКИ	ЭЛЕКТРОЩИТ
				
ОСНОВНОЙ ЭВАКУАЦИОННЫЙ ВЫХОД	ПУТЬ К ОСНОВНОМУ ЭВАКУАЦИОННОМУ ВЫХОДУ	АПТЕЧКА ДЛЯ ОКАЗАНИЯ ПЕРВОЙ МЕДИЦИНСКОЙ ПОМОЩИ	ВЫ НАХОДИТЕСЬ ЗДЕСЬ	

ДЕЙСТВИЯ ПРИ АВАРИИ СОХРАНЯЙТЕ СПОКОЙСТВИЕ!

-  СООБЩИТЬ ПО ТЕЛЕФОНУ: **01** или **112**

 - АДРЕС ОБЪЕКТА
 - ЧТО СЛУЧИЛОСЬ
 - ИМЕЮТСЯ ЛИ ПОСТРАДАВШИЕ
 - СВОЮ ФИАМИЛИЮ
-  ОРИЕНТИРОВАТЬСЯ ПО ЗНАКАМ НАПРАВЛЕНИЯ ДВИЖЕНИЯ

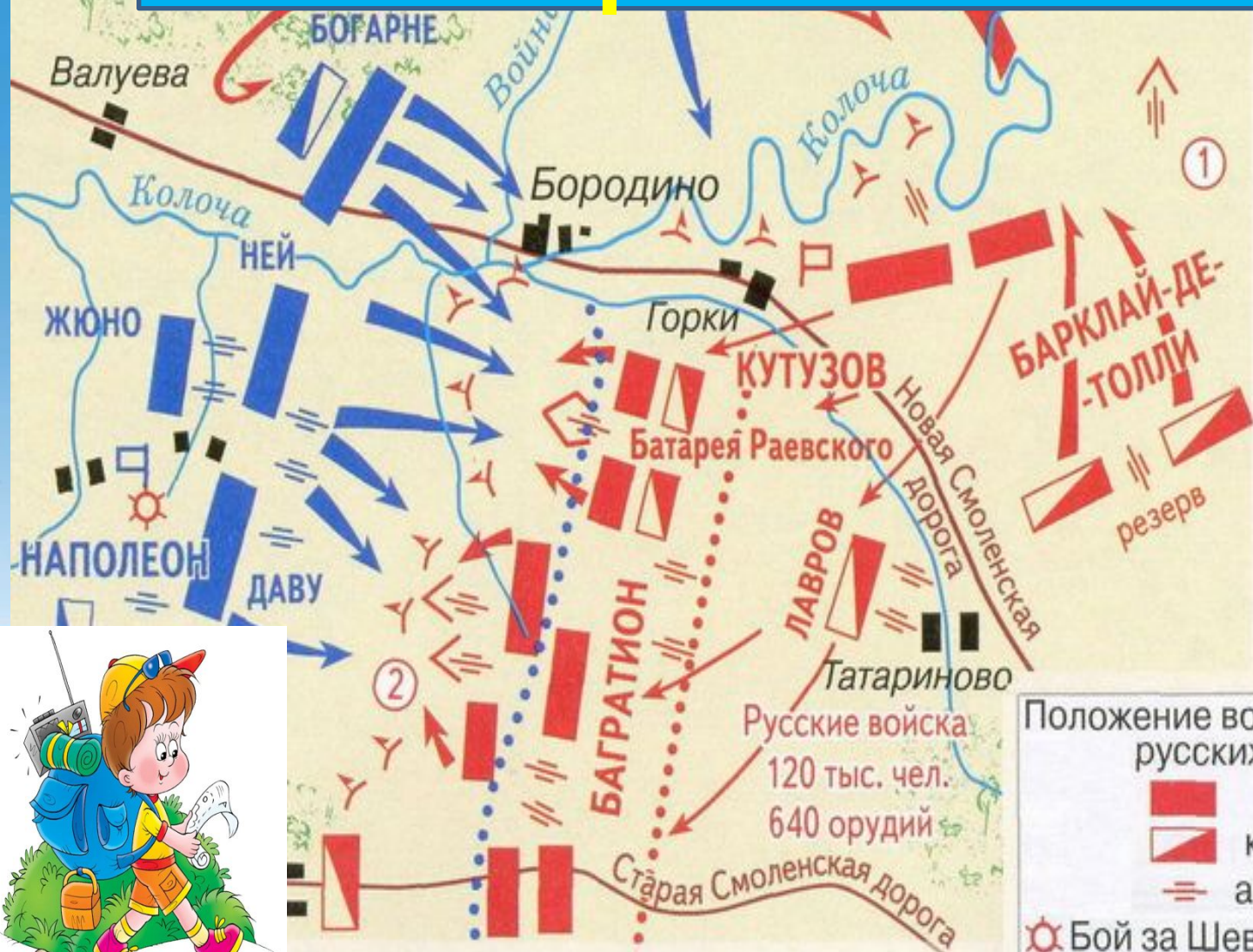
 ЭВАКУИРОВАТЬ ЛЮДЕЙ

 - ВЗЯТЬ С СОБОЙ ПОСТРАДАВШИХ
 - ОКАЗАТЬ ПОМОЩЬ ПОСТРАДАВШИМ
- ПРИНЯТЬ МЕРЫ ПО ЛОКАЛИЗАЦИИ АВАРИИ

 - ИСПОЛЬЗОВАТЬ СРЕДСТВА ЗАЩИТЫ
 - ПРЕДОТВРАТИТЬ РАЗВИТИЕ АВАРИИ
 - ОБОЗНАЧИТЬ МЕСТО АВАРИИ



План Бородинского сражения



- Положение войск к концу сражения:
- русских
 - французских
- На карте цифрами обозначены батареи:
- ① Масловские флеши
 - ② Багратионовы флеши
 - Ставка Кутузова
 - Ставка Наполеона


- Положение войск перед сражением:
- | | |
|--------------|--------------|
| русских | французских |
| ■ пехота | ■ пехота |
| ▤ кавалерия | ▤ кавалерия |
| ≡ артиллерия | ≡ артиллерия |
- ⚙ Бой за Шевардинский редут




**Для чего человеку
нужен план
местности?**



Почему село назвали Мирное?





10/03/2010

Что такое план местности?


Изображение на
плоскости небольшого
участка земли
принятыми условными
знаками




Заполни таблицу условными обозначениями

Условные обозначения


Мост	
Шоссе	
Грунтовая дорога	
овраг	
песок	
река	
родник	
лес	
луг	
овраг	
Строение огнестойкое	
Строение неогнестойкое	
огород	
сад	
болото	
кустарник	
Железная дорога	
пашня	
обрыв	
тропа	



луг



Смешанный лес



Домашнее задание

**С. 29, выучить
условные знаки,
сделать карточки
(10-15 штук)**




Мы по лесу

шли...



огород



сад




овраг



болото



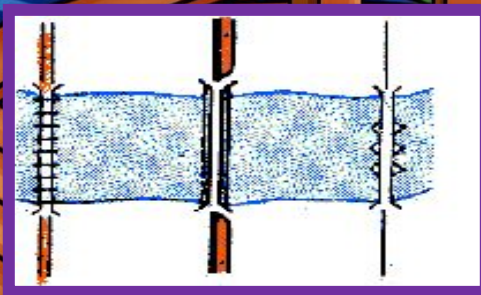

кустарник





родник



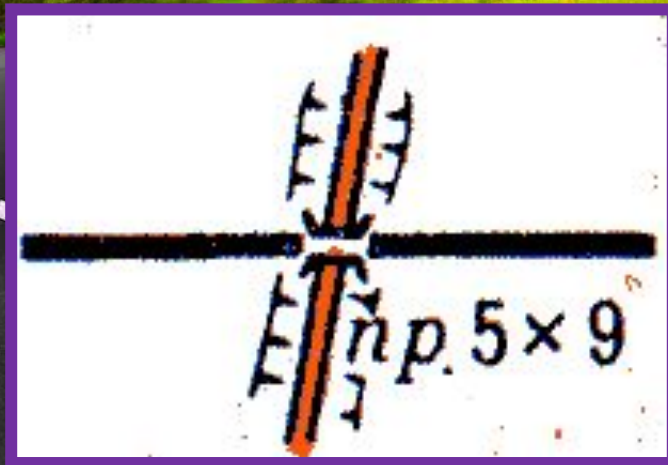
МОСТ



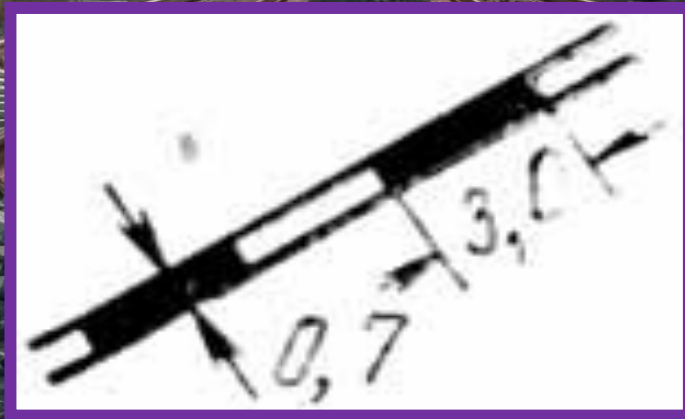
река



Грунтовая дорога, шоссе



Железная дорога




Строения огнестойкие



Строения неогнестойкие

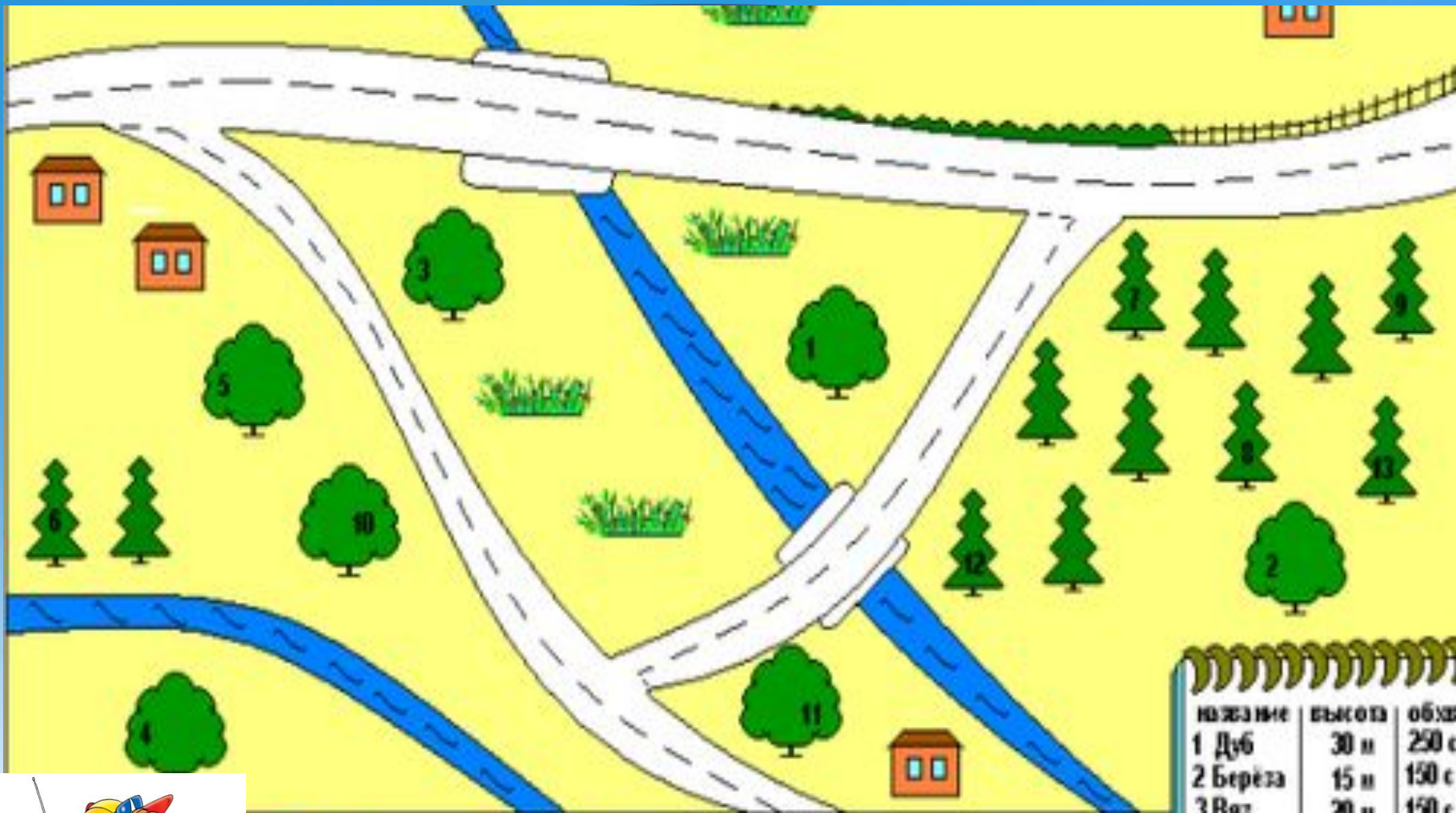


песок




Используя план
местности и условные
обозначения, расскажи
соседу, как ему дойти от
школы до метеостанции





 Луг
 Дом
 Река
 Забор
 Хвойное дерево
 Лиственное дерево
 Зелёная изгородь
 Мост

название	высота	объем
1 Дуб	30 м	250 с
2 Берёза	15 м	150 с
3 Вяз	20 м	150 с
4 Бук	25 м	200 с
5 Ясень	8 м	30 с
6 Пихта	40 м	110 с
7 Сосна	25 м	105 с
8 Ель	10 м	150 с
9 Ель	25 м	170 с
10 Дуб	23 м	160 с
11 Берёза	15 м	210 с
12 Пихта	40 м	100 с
13 Сосна	35 м	110 с



Что такое масштаб?

Мера, показывающая во сколько раз расстояния уменьшены при изображении их на плоскости



???????

Масштаб села Мирного

**Масштаб физической
карты полушарий**

**Масштаб физической
карты России**



Итог урока

-С какими новыми понятиями познакомились?

-Для чего нужен план местности?

-Какие условные знаки вы теперь знаете?

