

8 класс
Тема «Центральные и вписанные
углы»

Решаем устно!



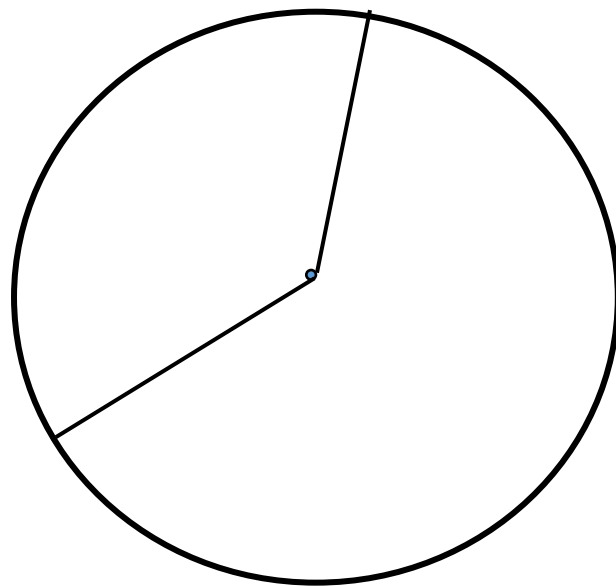
Автор: Беянина С.Н. учитель математики МОУ СОШ д.
Сарафаново
Им.Героя России Ю.П.Яковлева

Ответьте на

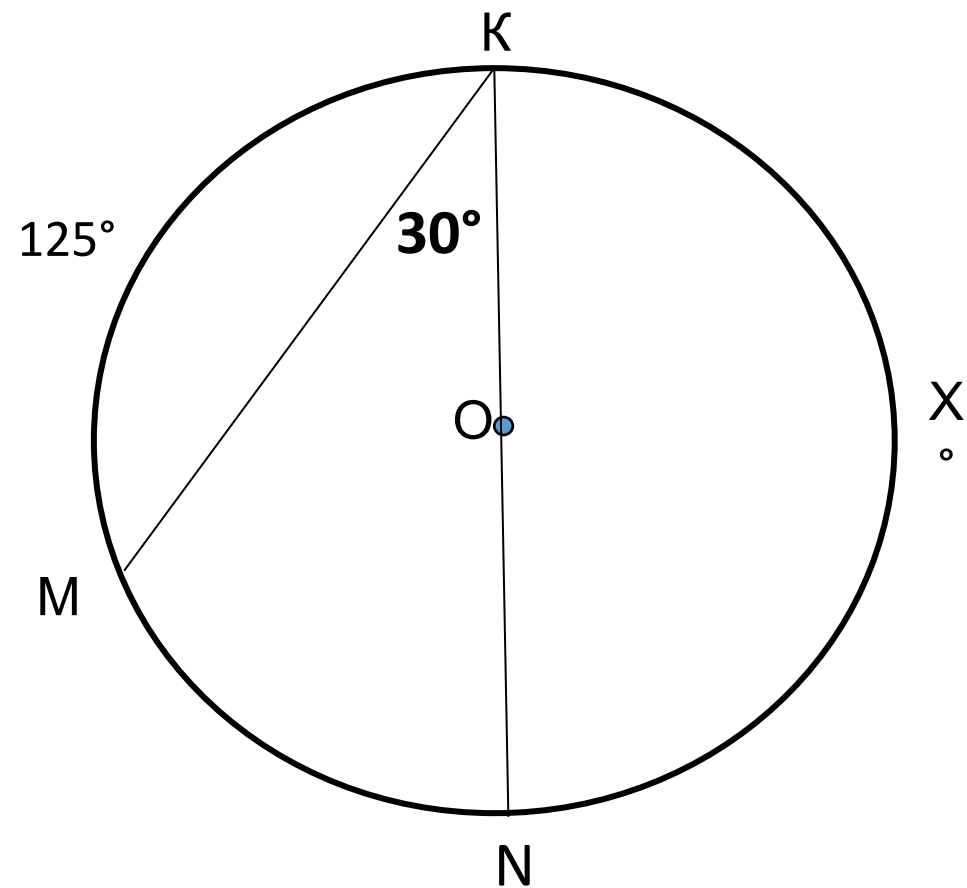
Вопрос 13:

Сформулировать теорему об отрезках пересекающихся хорд.

**Как называется изображённый
угол?**




Найти x ,



Решите задачу:

Найти вписанный угол, опирающийся на дугу, которая составляет 10% окружности.

Проверочная работа



Интернет-
источник:

1.
Картинка

