

# Устный счет В 1 классе

Составила работу учитель Титяева В.В.

Ребята, помогите сосчитать  
шарики!







Сосчитайте от 3 до 11

Сосчитайте от 12 до 2

Сосчитайте от 5 до 15

Что здесь не правильно?

1 5 7 9 10 11 12 14 15

1 2 3 5 7 9 10 11 13

2 3 5 7 9 10 11 15



$1+7=$

$9+5=$

$7+4=$

$8+7=$

$15-5=$










$12-2=$

$7-5=$




$9-6=$



# Назови соседей числа



Дополните фигуру в каждом ряду





Молодцы!  
Желаем Вам  
удачи!

