


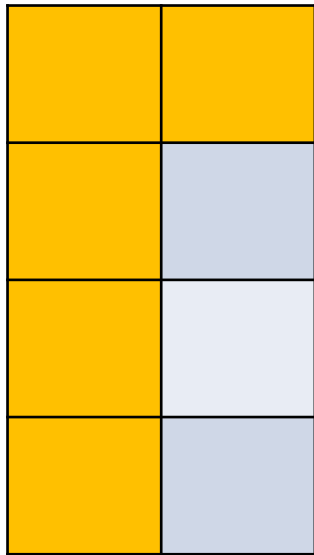
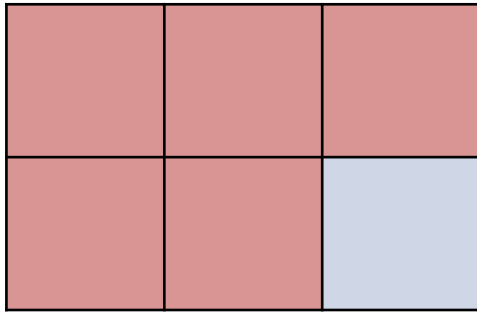
УСТНЫЙ СЧЁТ





Каждый может за версту
Видеть дробную черту.
Над чертой – числитель,
знайте, Под чертою –
знаменатель.
Дробь такую, непременно,
Надо звать обыкновенной.

ПОДБЕРИ К РИСУНКУ СВОЮ ДРОБЬ



$$\frac{5}{8}$$

$$\frac{3}{5}$$

$$\frac{5}{6}$$



Буратино $\frac{1}{6}$ часть суток проводит в школе. Сколько часов Буратино учится?

6 часов

5 часов

4 часа

7 часов



Какую часть торта съел Буратино на дне рождения Мальвины?



$$\frac{3}{8}$$

$$\frac{2}{6}$$

$$\frac{2}{8}$$

$$\frac{1}{6}$$

Путь от дома до школы **300** метров.

1/3 пути Буратино прыгает на правой ноге,
а остальную часть пути прыгает на левой ноге. Сколько
метров пути Буратино прыгает на левой ноге?

150 метров

200 метров

100 метров



Ресурсы интернета:

- <http://moziru.com/images/curtain-clipart-blue-curtain-1.png>
- http://mamabook.com.ua/wp-content/uploads/2014/12/1130hou_7.jpg

