


12.09.2020

A map of Russia is shown with the colors of the Russian flag (white, blue, and red) overlaid on it. The map is centered on the Russian Federation, with the colors filling the landmass. The background is a light gray map of the world with a grid of latitude and longitude lines.

Тема урока:
**Виды географического
положения России**

Ершова Н.А., МАОУ Московская СОШ, Тюменская область

Экономико-географическое положение —




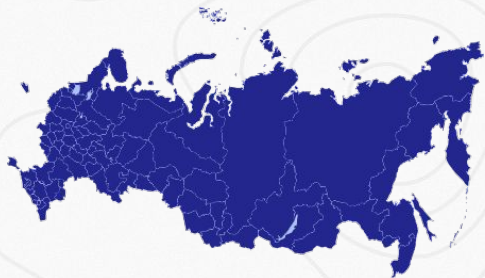
положение в экономическом пространстве, которое определяется по отношению и к природным элементам окружающей среды, и к созданным человеком элементам искусственной среды, и к размещению самого населения.

Николай Николаевич Баранский

1881–1963 гг.

Является автором нескольких учебников по экономической географии СССР для средних школ. А также автором трудов по социально-экономической географии и экономической картографии.





Положительные аспекты ЭГП России



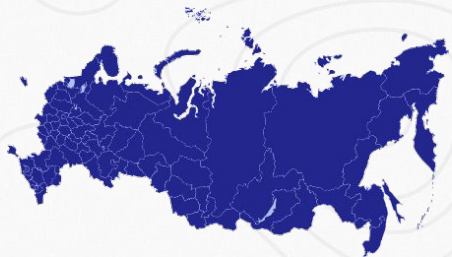
Огромная
по площади
территория

Наличие
крупных
судоходных
рек

Большое
разнообразие
природных
условий и
ресурсов

Свободный
выход в
Мировой
океан

Большое
количество
стран-
соседей



Негативные аспекты ЭГП России



Огромная
по площади
территория

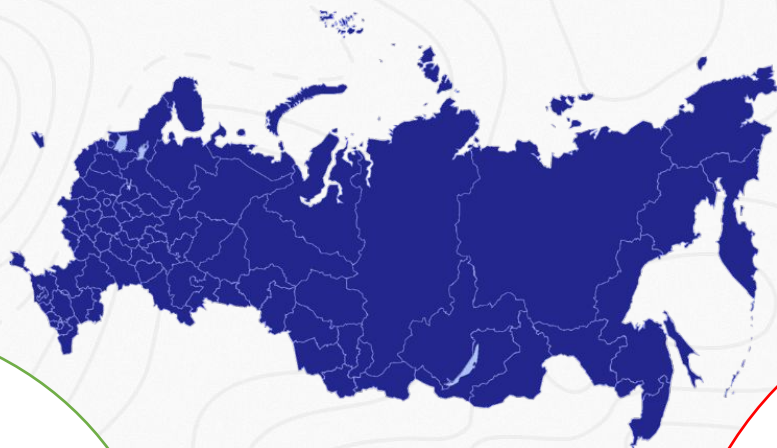
Слишком большая
вытянутость
территории с запада
на восток

Около 20 %
территории лежит
за полярным
кругом

Большое количество
российских морей и
рек замерзают на
длительный период
времени



Это большой
ассортимент
природных
условий и
ресурсов, что
открывает крупные
перспективы для
развития
промышленности


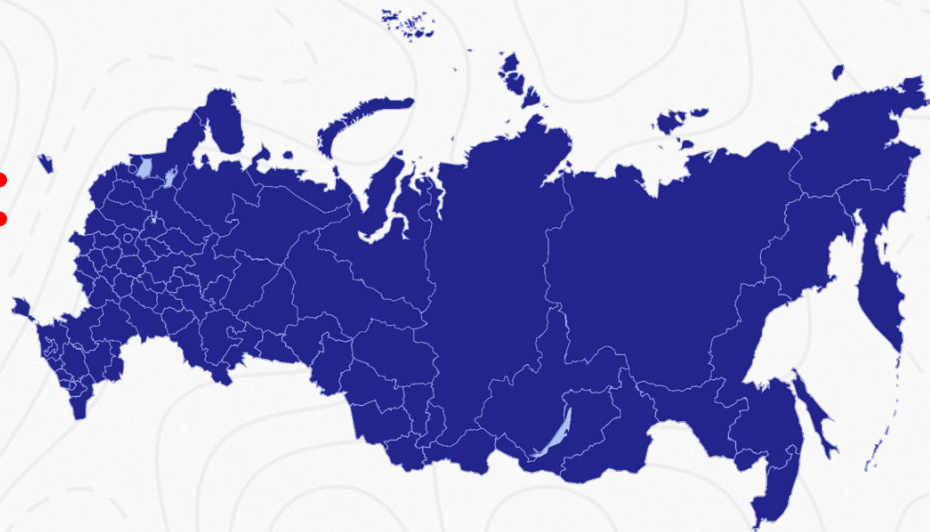


Большая по площади территория России

Слишком большими
просторами очень
сложно управлять.
На такой территории
практически
невозможно создать
целостную и
качественную
систему
транспортной
инфраструктуры



Россия богата на:



Водные ресурсы




Минеральные ресурсы



Лесные ресурсы





Транспортно-географическое положение

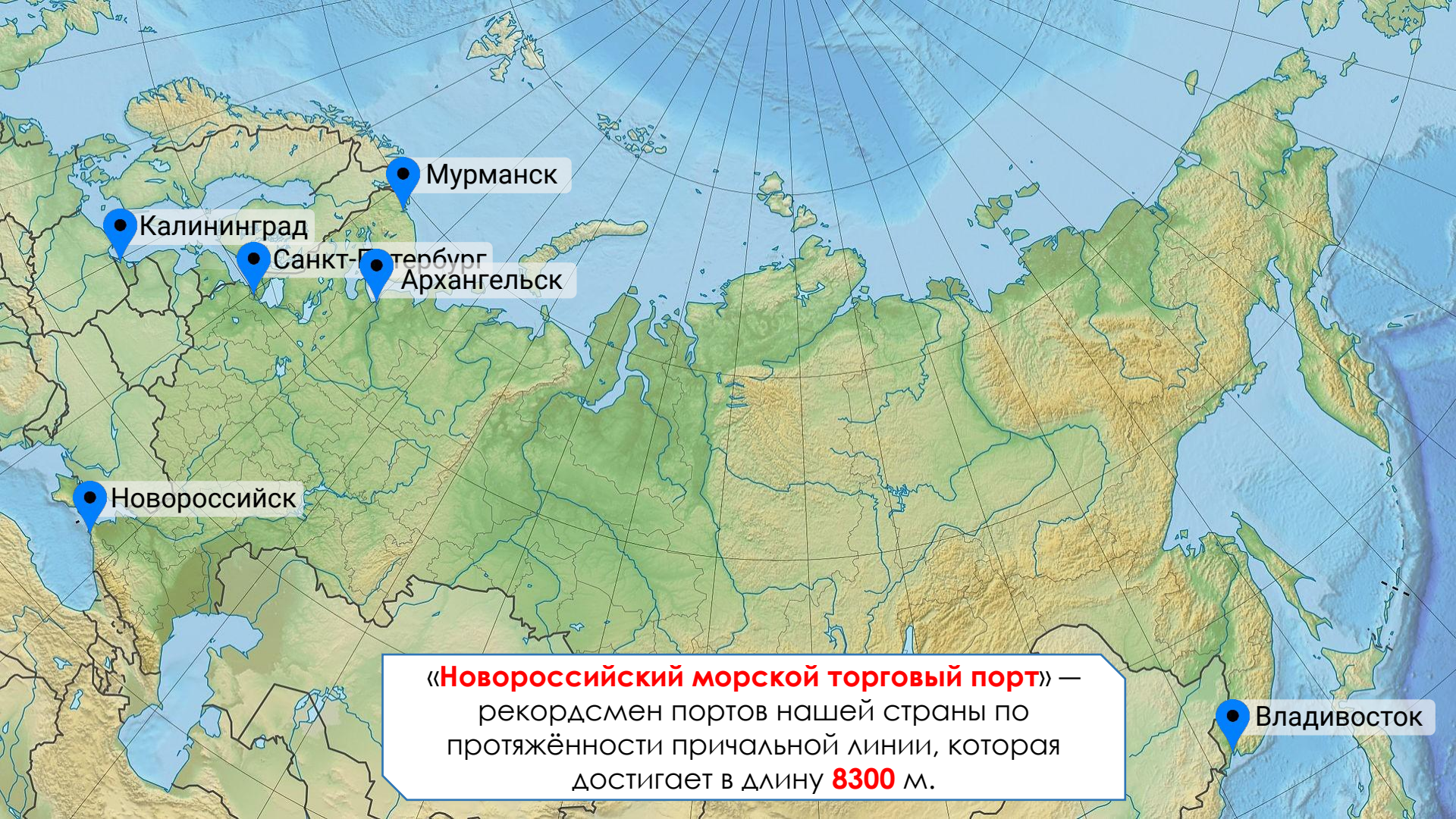
России
оценивает
особенности и
возможности
транспортных
связей с другими
странами.



Транспортная система России характеризуется:

- развитием всех видов транспорта;
- значительной протяжённостью транспортных путей;
- крайней неравномерностью их размещения по территории страны.





● Калининград

● Санкт-Петербург

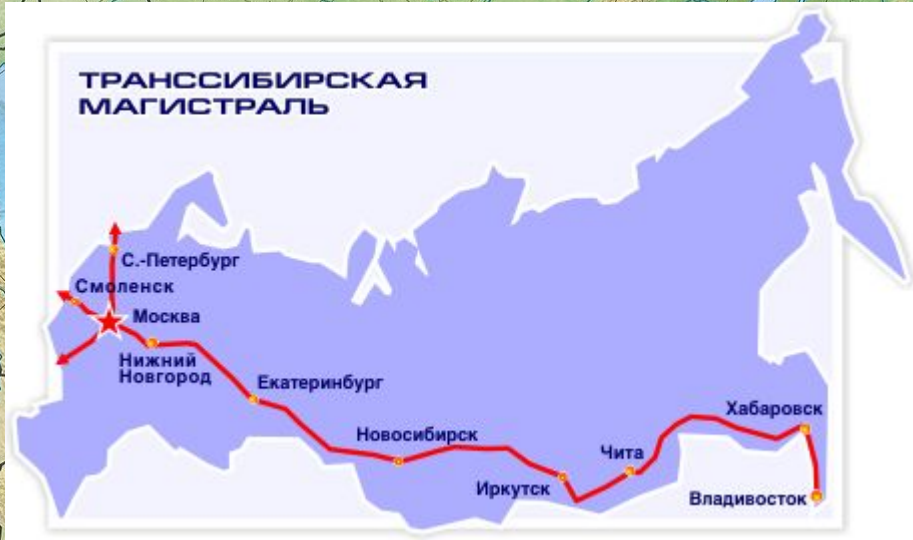
● Архангельск

● Мурманск

● Новороссийск

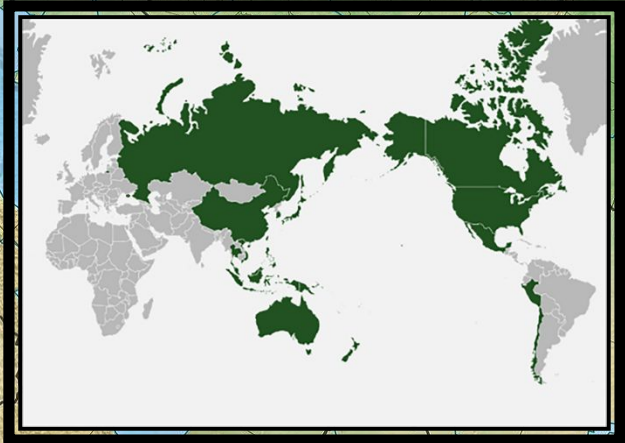
● Владивосток

«**Новороссийский морской торговый порт**» — рекордсмен портов нашей страны по протяжённости причальной линии, которая достигает в длину **8300 м**.



Атлантический океан

Тихий океан



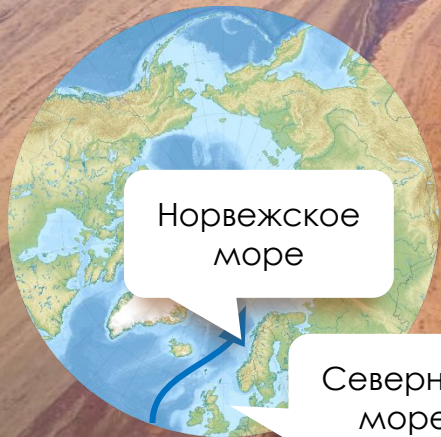
Эколого-географическое положение России:

- выявляет внешние источники экологической опасности для нашей страны;
- учитывает расположение крупных промышленных районов соседних стран, количество и характер вредных выбросов, направление водных и воздушных потоков.





До начала обмеления **Аральское море было 4-м по величине озером** в мире.

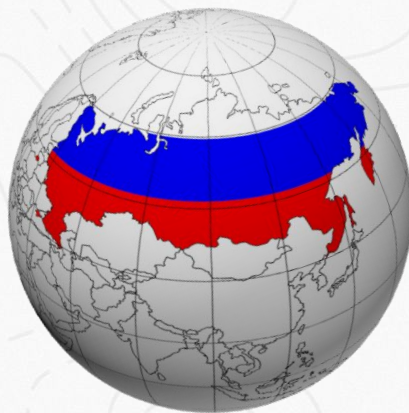


Норвежское
море

Северное
море

Геополитическое положение страны —

это её место на политической карте мира и отношение к различным государствам или группам государств.



Геополитическое положение России предполагает оценку отношений нашей страны с другими странами (или группами стран) с точки зрения:



- её собственной безопасности;
- дружеских межгосударственных отношений (союзов);
- возможных военных угроз.

Россия ВХОДИТ
также в
«**Большую
двадцатку**»
экономически
развитых
государств.



Союз **России** и
Беларуси
предполагает
единое
политическое,
экономическое,
военное,
таможенное,
валютное,
юридическое,
гуманитарное и
культурное
пространство.

Виды географического положения России

(Выводы)

1. Экономико- и транспортно-географическое положение нашей страны не остаются неизменными: меняются отношения между странами, прокладываются новые пути сообщения.
2. Эколого-географическое и геополитическое положение России весьма сложное. Россия формирует весьма тесные экологические взаимосвязи с сопредельными странами. Геополитическое положение России за последнее время значительно изменилось в связи с осложнением её отношений с НАТО.

Домашнее задание

- Прочитать §3,
- Выполнить контурную карту на стр.2
(сдать можно до след. субботы)

