

$9-1=?$

5

$4-2=?$

2

$6+0=?$

8

5

Занимательная

математика

$2+5=?$

6

$5+3=?$





7



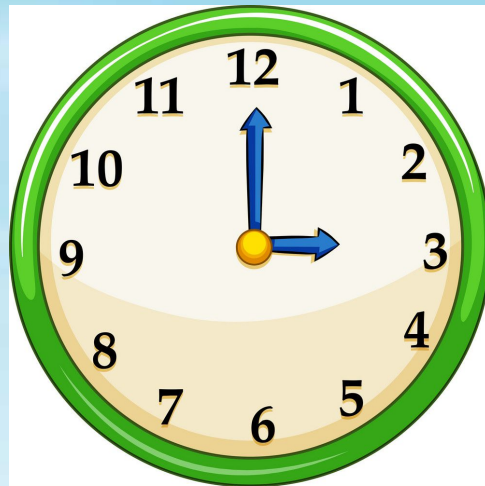
Кате подарили книги. Книга со стихами красного цвета.
Книга со сказками не зеленого цвета. В желтой книге
оказались одни картинки. Какого цвета книга со
сказками?



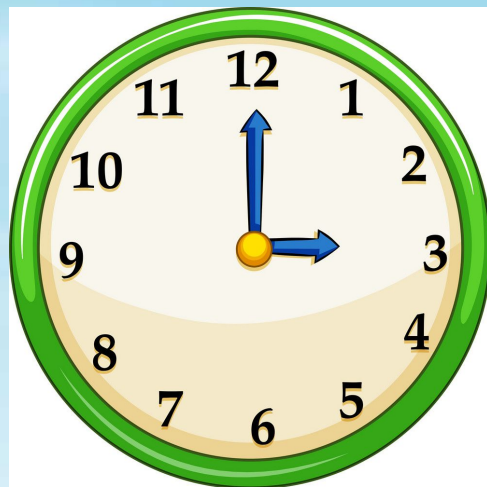
Миша купил 4 мяча. Красных мячей было больше, чем желтых. Раскрась мячи.



Помоги Максиму выбрать часы, которые показывают время обеда.



Помоги Максиму выбрать часы, которые показывают время отдыха и прогулки после уроков.



Помоги Максиму выбрать часы, которые показывают то время, когда Максим собирается утром в школу.



Помоги Нине решить примеры, поставьте знаки «плюс» или «минус» в пустые окошки.



$4 \square 3 = 1$

$5 \square 4 = 9$

$1 \square 4 = 5$

$6 \square 3 = 3$

$2 \square 4 = 6$

$7 \square 5 = 2$

Помоги Вадиму расставить знаки «больше», «меньше» или «равно».



$5 \square 3$

$2 \square 1$

$1 \square 7$

$2 \square 2$

$3 \square 8$

$4 \square 4$

$1 \square 4$

$5 \square 5$

$7 \square 3$

$9 \square 7$

$2 \square 6$

$4 \square 1$