

Что по 1 и по 2?

Кого больше: бабочек или птиц?

Как это записать?





Выбери знак, чтобы получилась верная запись

ежевика



$$3 > 1$$

>

=

<



**Выбери знак, чтобы получилась
верная запись**

ежевика



3 < 4

>

=

<





Выбери знак, чтобы получилась
верная запись

малина



$3 = 3$



Выбери знак, чтобы получилась верная запись

малина



1 < 3

>

=

<





Выбери знак, чтобы получилась верная запись

яника



5 < 4



Найди и исправь ошибки

$4 > 3$

$2 > 1$

$3 < 4$

$5 > 3$

$2 < 3$

$2 < 1$

$4 < 2$

$2 < 5$

$4 < 5$

$5 < 5$

