

# Ребусы к уроку окружающего мира «Строение тела человека» №2, 2 класс



Подготовила: учитель начальных классов  
МАОУ СШ №9 г.Красноуфимска  
Пролубщикова Н.В.

2019

# Задание

1. Угадайте **названия внутренних органов** человека.
2. Укажите их стрелками на схеме в рабочей тетради на с.3
3. Сверьте правильность выполнения задания с эталоном.

# Головной МОЗГ



# ЛЁГКИЕ



# СЕРДЦЕ



“





# ПЕЧЕНЬ




“



”



# ЖЕЛУДОК



# КИШЕЧНИК



“



,



”

””





# Проверка

Головной мозг

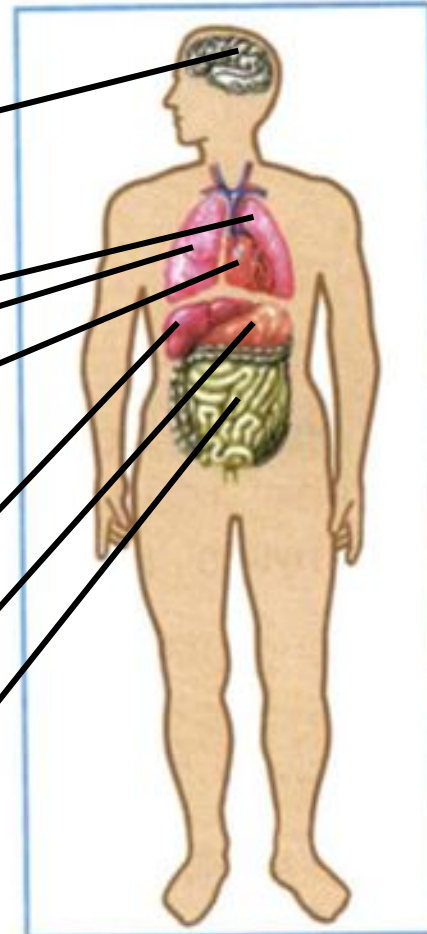
Лёгкие

Сердце

Печень

Желудок

Кишечник



Ребусы созданы с помощью  
сервиса:

[http://rebus1.com/index.php?ite  
m=rebus\\_generator&slovo=%C0%  
CE%C3%C8&skip=1&mode=0](http://rebus1.com/index.php?item=rebus_generator&slovo=%C0%CE%C3%C8&skip=1&mode=0)

Источник шаблона:

Фокина Лидия Петровна  
учитель начальных классов  
МКОУ «СОШ ст. Евсино»  
Искитимского района  
Новосибирской области

Сайт <http://linda6035.ucoz.ru/>

На момент создания ресурса ссылки являются  
активными