


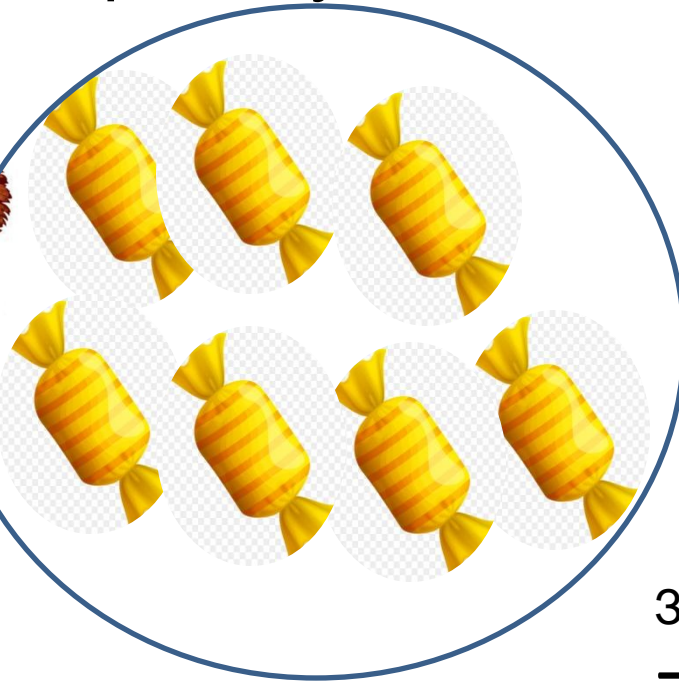
# Состав числа 7

Учитель-  
дефектолог  
Амосова О.Н.

Сколько конфет? Давай разделим  
конфеты между девочкой Машей и  
мальчиком Ваней.



Как можно разделить конфеты между Машей и Ваней? Можно все конфеты отдать Маше. Тогда у Маши будет 7 конфет, а у Вани ноль конфет.





Значит 7 это 7 и 0 или 0 и 7

Запишем  
пример:

$$7+0=7$$

$$0+7=7$$

Можно Маше дать 6 конфет. Тогда у  
Вани будет 1 конфета.




Значит 7 это 6 и 1 или 1 и 6

Запишем  
пример:

$$6+1=7$$

$$1+6=7$$

Можно Маше дать 5 конфет, а Ване 2 конфеты.





Значит 7 это 5 и 2 или 2 и 5

Запишем  
пример:

$$5+2=7$$

$$2+5=7$$

Маше дадим 4 конфеты, а Ване 3 конфеты.



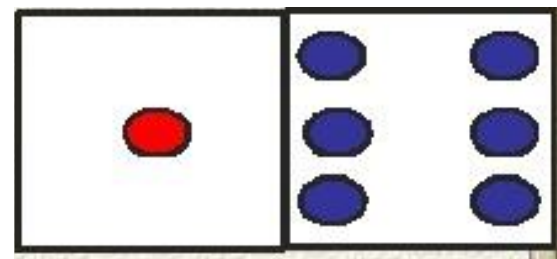
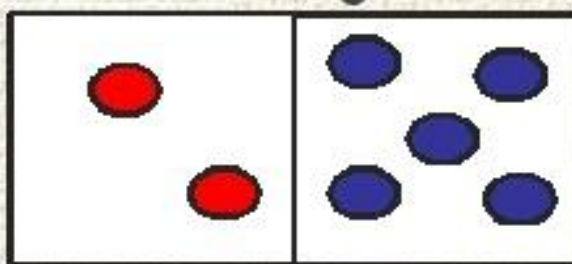
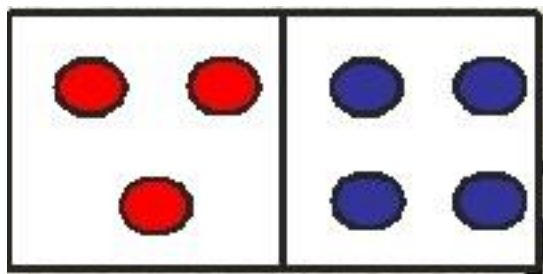
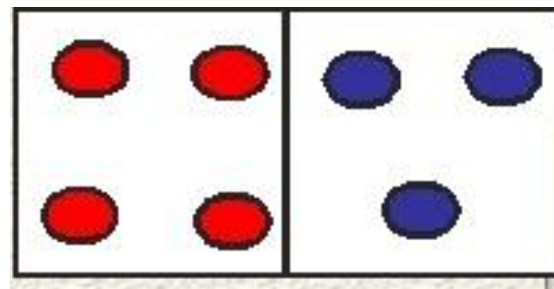
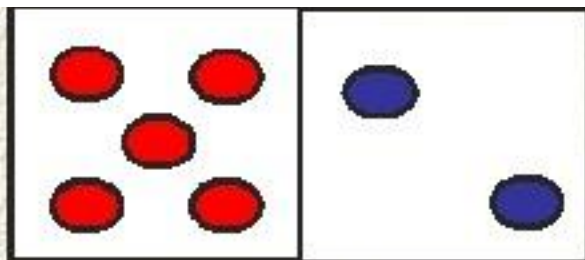
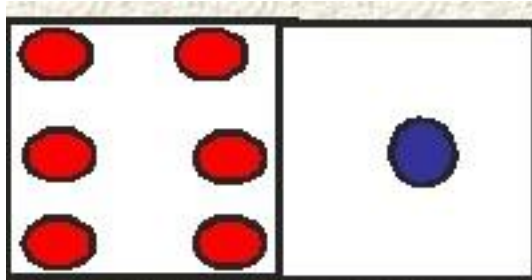
Значит 7 это 4 и 3 или 3 и 4

Запишем  
пример:

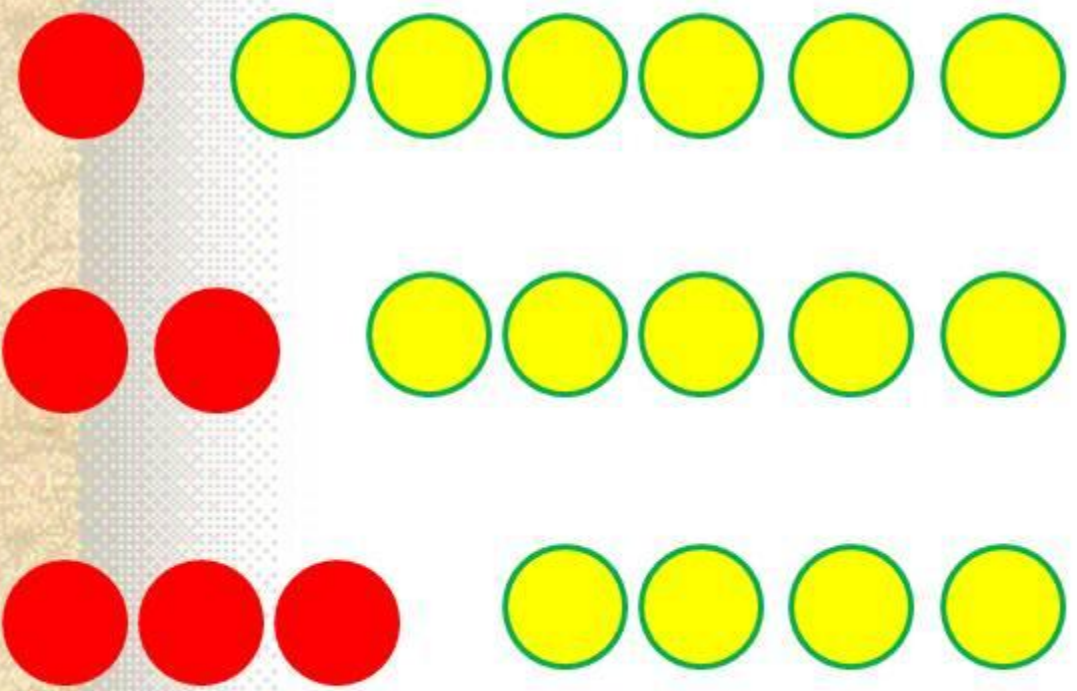
$$4+3=7$$

$$3+4=7$$

Еще раз повторим 7 это ... и ...



7


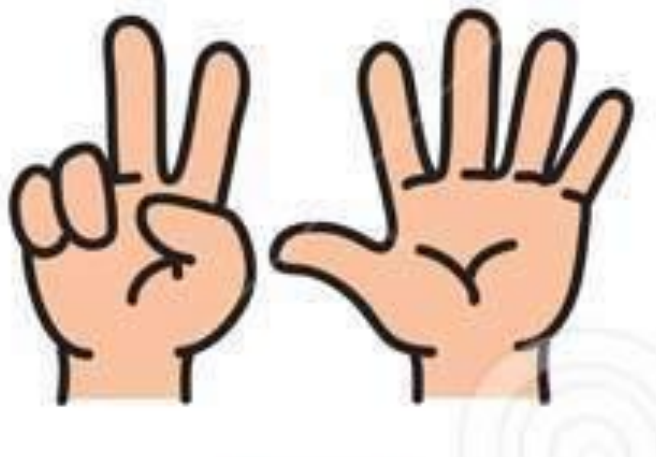


1	6
2	5
3	4

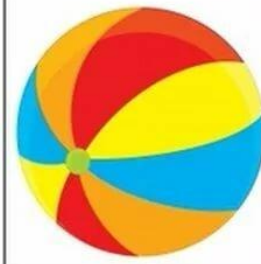
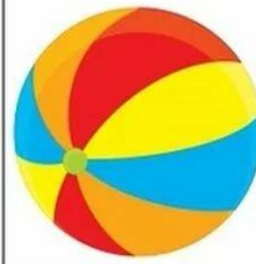



Покажи на пальцах, как  
МОЖНО СОСТАВИТЬ ЧИСЛО

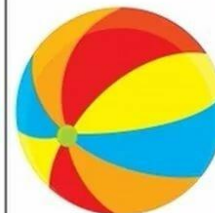
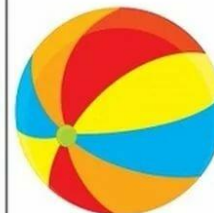
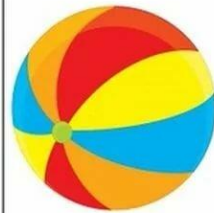
7



Посчитай игрушки, сколько матрешек, сколько мячиков,  
сколько самолетов



" Угадай, сколько предметов спрятал Незнайка"



МОЛОДЕЦ!



# Используемые источники

<https://www.pinterest.com.au/pin/462463455470358688/>

<https://yandex.kz/collections/card/5a55e6dbacbcf6de7259d732/>

<https://www.freepng.ru/png-168tkm/>

<http://900igr.net/prezentacija/matematika/sostav-chisla-7-iz-dvukh-menshikh-chisel-101889/slajd-10-15.html>

<https://yandex.ru/collections/card/5ccde479ada596ddc6ae1de1/>

<https://yandex.com/collections/card/5aa18ab2699b12009c1f8dcd/>

<https://ru.dreamstime.com/руки-с-пальцами-значок-установленный-для-подсчитывать-образование-image102150093>