



Средневековая деревня и ее обитатели

Задания по
теме «В
рыцарском
замке

Проверь свои
знания





Вся земля принадлежала феодалу и делилась на две части - господскую и крестьянские наделы, оставшиеся собственностью феодала.

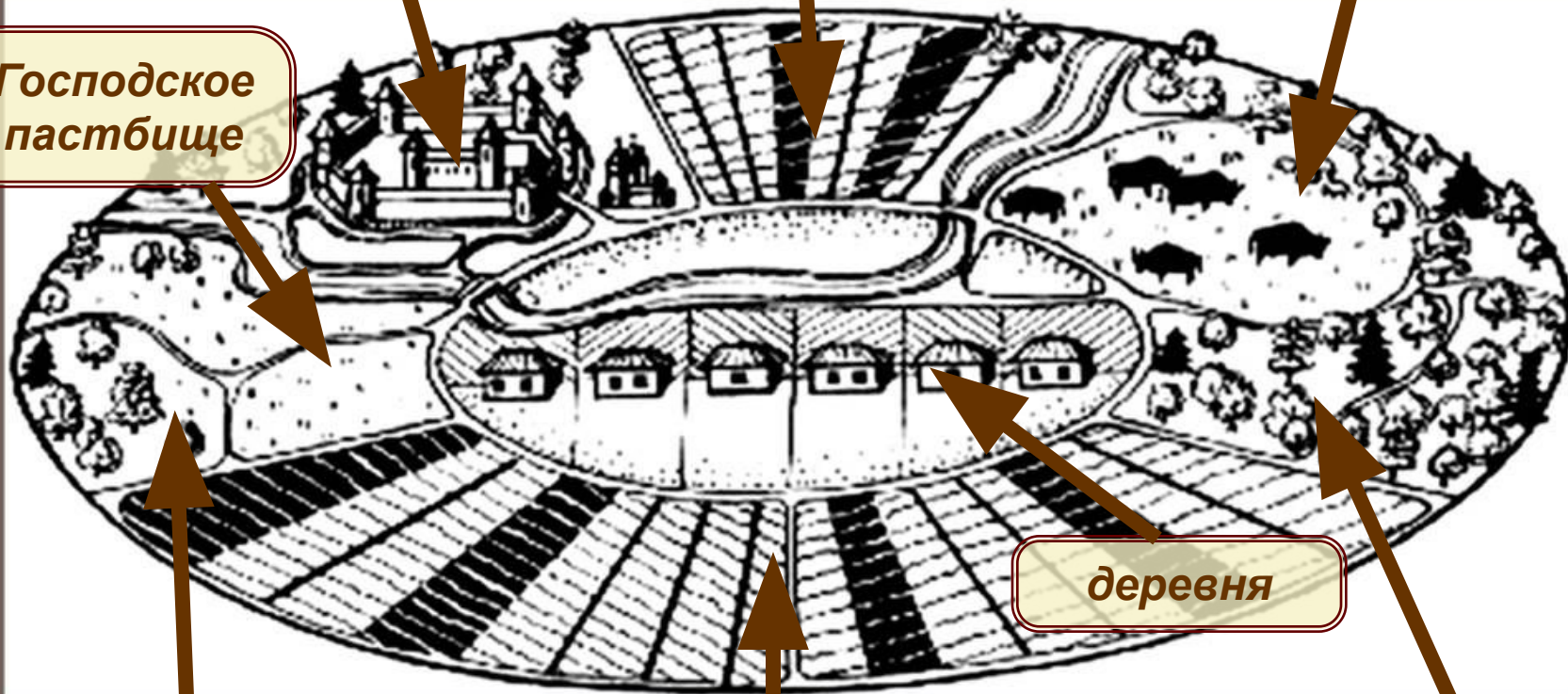
Господскую землю обрабатывали крестьяне.

Замок феодала

Господская земля

Пастбище

*Господское
пастбище*



деревня

*Господский
лес*

*Крестьянские
наделы*

Общинный лес





**Оброк – часть урожая, отдаваемая крестьянином
господину за пользование участком земли**

Барщина — даровой принудительный труд зависимого крестьянина, работавшего собственным инвентарем в хозяйстве феодала за полученный в пользование участок земли



Повинности – принудительные обязанности

Повинности средневековых крестьян

барщина



Работать на поле сеньора, в хозяйстве сеньора, на перевозке грузов, строительстве дорог



Оброк



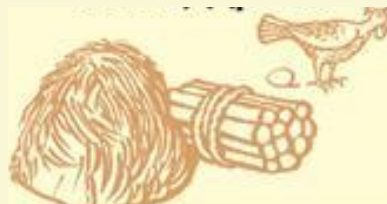
Приносить сеньору часть урожая, овощи, фрукты, сено, ремесленные изделия и т.п.



Церковная десятина



Отдавать 1/10 часть урожая



Другие повинности



Печь хлеб в печи сеньора, давить виноград на прессе сеньора, являться на суд сеньора



Виды зависимости средневековых крестьян

Поземельная



Судебная



Личная





община

Ремонт мостов и дорог

Распределение повинностей



Ремонт и строительство церквей

Помощь вдовам и сиротам



Разрешение конфликтов

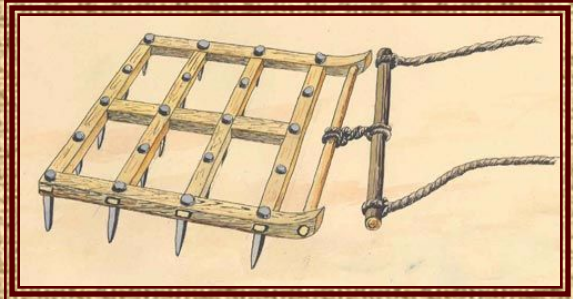
Обеспечение порядка в деревне



Распределение наделной земли




Орудия труда крестьян



борона




соха



серп




цеп



плуг

*Назовите орудия.
Для каких работ они
применялись?
Кто их изготавливал?*



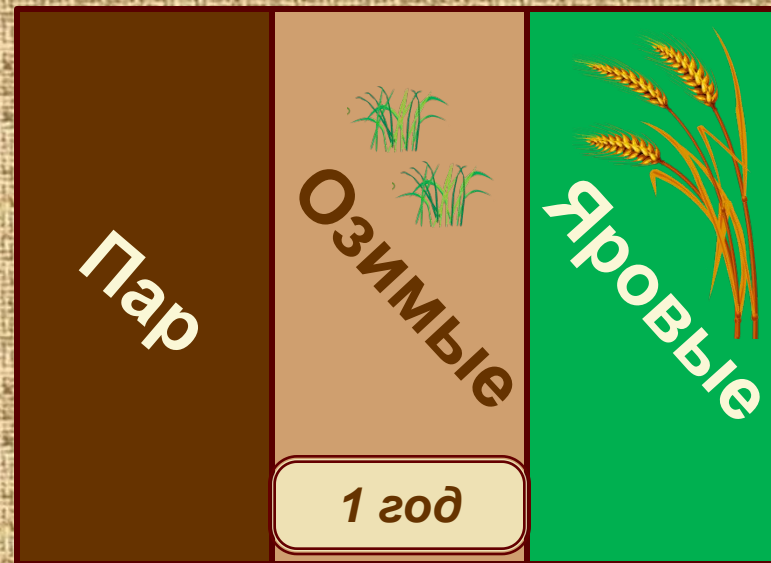
Колесный плуг



коса





вилы






В чем преимущества трехполья? Рассчитайте, как увеличится урожайность при переходе с двуполья на трехполье.







*Какие работы
крестьянина
изображены на
миниатюрах?
В какие сезоны
выполнялись
работы?*





Определите, что имел в своем хозяйстве средневековый крестьянин. Исходя из занятий, сделайте вывод о питании крестьянской семьи.



**Выберите продукты питания средневекового крестьянина.
Какие из них он употреблял в пищу редко?**





Натуральное хозяйство – это хозяйство, при котором продукты и вещи производились не для продажи, а для собственного потребления

Устройство средневековой деревни



Мельница



1. Замок
сеньора

2. Лес сеньора

3. Первое поле

4. Второе поле

5. Третье поле



Церковь и кладбище



Сады и огороды

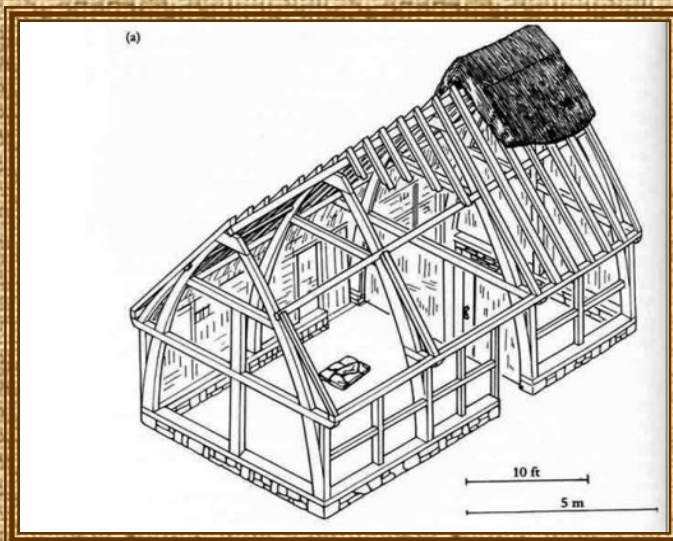


Колодец




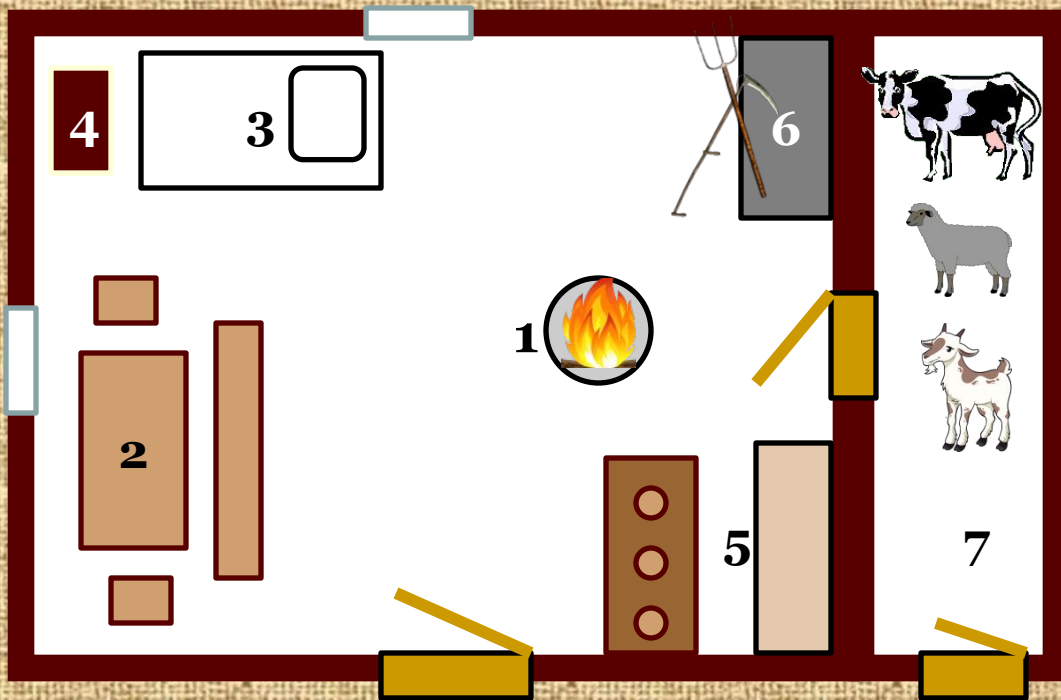
Крестьянские дома

Средневековый крестьянский дом



Опишите средневековый крестьянский дом. От чего зависел тип жилища и материал для его строительства?





Скот держали во дворе под легким навесом, внутри плетеной изгороди, или в хлеву. В сильные морозы домашних животных переводили в дом, где они содержались за невысоким ограждением.



Одежда средневекового крестьянина



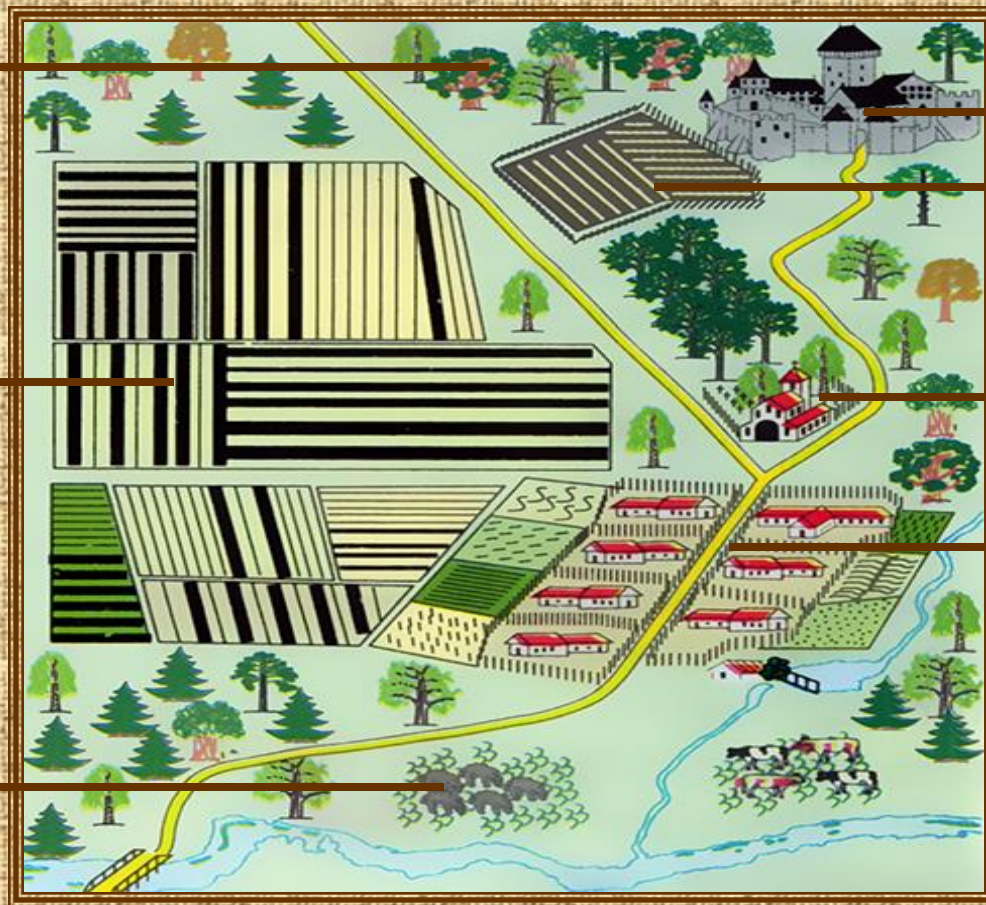
Опишите костюм средневекового крестьянина: верхнюю одежду, рубаху, штаны, головной убор, обувь.

2. Мог ли средневековый крестьянин носить длинную тунику? Объясните свой ответ?

3. Как вы думаете, какого цвета была одежда у крестьян? Почему они редко носили одежды яркого цвета?

4. Как вы думаете, из какого материала была сшита крестьянская одежда? Кто ее изготавливал?

Проверь свои знания



Подпишите элементы феодального поместья



Проверь свои знания

Прочитайте текст и ответьте на вопрос

Прежде всего они (крестьяне) должны давать ко дню осеннего равноденствия 6 мер пива, 3 меры пшеницы для белого хлеба и вспахивать 3 акра... и засеять их, и давать 3 меры ячменя в качестве подати. И сложить урожай в скирды, и нарубить 4 подводы дров в качестве подати, и на Пасху давать 2 овец с ягнятами.

Какие обязанности можно назвать оброком (подчеркните одной чертой), а какие — барщиной (подчеркните двумя чертами)?



Проверь свои знания



Найдите миниатюру «выпадающую» из общего ряда.
Объясните ваш выбор

Заполните пропуски в предложении

_____ - это способ обработки пашни, при котором поле каждый год делится на 3 части. Одна засеивается _____ культурами и дает урожай в тот же год; другая часть засеивается осенью _____ культурами и дает урожай на следующий год, а третья часть _____ - «отдыхает».



Проверь свои знания



Чем занимаются эти люди? Для чего каждый из них производил сельскохозяйственные продукты и изготавливал изделия домашнего ремесла? Как называлось такое хозяйство?



Герольд

Турнир

Забрало

Донжон

Паж

девиз

**Установите
соответствие
между
понятием и
определением**

**Краткое изречение,
объяснявшее смысл герба**

Главная башня замка

**Состязания рыцарей в
силе и ловкости**

**Глашатай на
состязаниях**

**Часть доспеха –
металлическая
пластина с прорезями для
глаз**

**Мальчик 7-15 лет,
готовящийся стать
рыцарем**



Представьте: вы владелец замка, ваше жилище собираются атаковать враги. Как бы вы стали оборонять свой замок? Где расставили бы его защитников?



рыцарь



оруженосец



Котлы со
смолой



арбалетчик



лучник



бревна



камни

