



Сказочные зверушки решили построить себе новую школу. Помогите им построить новое здание. Для этого выполните тестовые задания.

Вперед

**Тест с выбором варианта ответа.
Раздел : «Художественные материалы и техники»**

**Тест выбором одного и множественным выбором ответов.
Раздел: «Анализ формы предметов»**

**Тест со свободным изложением ответов. Кроссворд наоборот.
Раздел: «Терминология»**

**Тест с восстановлением последовательности.
Раздел: «Этапы работы над рисунком»**

**Тест на соответствие.
Раздел :«Цветоведение»**

Тест с выбором варианта ответа.
Раздел : «Художественные материалы и техники»



Для постройки здания необходимы кирпичи. Каждый правильный ответ поможет приобрести новый кирпичик.

Вперед

1

Определи материал, при
помощи
которого создан рисунок



1

Уголь



Ты думать
будешь?!

2


Карандаш



Умница!

3

Тушь



Ты думать
будешь?!

При выполнении письменного варианта
тестирования запиши номер правильного
варианта ответа.



Вперед

2

Определи материал, при
помощи
которого создан рисунок




1

Гелиевая
ручка




2

Краски



3

Карандаш



При выполнении письменного варианта
тестирования запиши номер правильного
варианта ответа



Вперед

3

Определи материал, при
помощи
которого создан рисунок



1

Гелиевая
ручка



Ты думать
будешь?!

2


Уголь



Умница!

3

Тушь



Ты думать
будешь?!

При выполнении письменного варианта
тестирования запиши номер правильного
варианта ответа



Вперед



4

Определи материал, при
помощи
которого создан рисунок.




1

Пастель




2

Уголь



3

Тушь



При выполнении письменного варианта
тестирования запиши номер правильного
варианта ответа



[Вперед](#)

5

Определи художественную технику



1

«Мазками»

2




«Сухая кисть»

3

«По сырому»

4

«Вливание цвета в цвет»



При выполнении письменного варианта тестирования запиши номер правильного варианта ответа



Вперед

6

Определи художественную технику




1

«Мазками»



2

«Сухая кисть»



3

«По сырому»



4

«Вливание цвета в цвет»



При выполнении письменного варианта тестирования запиши номер правильного варианта ответа



Вперед

7

Определи художественную технику



1

«Мазками»




2

«Сухая кисть»




3

«По сырому»



4

«Вливание
цвета в цвет»



При выполнении письменного варианта тестирования запиши номер правильного варианта ответа



Вперед

9

Определи художественную технику




1

«Мазками»



2

«Сухая кисть»



3

«По сырому»



4

«Вливание цвета в цвет»



При выполнении письменного варианта тестирования запиши номер правильного варианта ответа



Вперед

Тест выбором одного и множественным выбором ответов.
Раздел: «Анализ формы предметов»



Для постройки здания необходимы доски. Каждый правильный ответ поможет приобрести новую доску.





Вперед

1

Отгадай загадку и нажми на картинку с
ОТВЕТОМ

Во дворе построен дом
На цепи хозяин в нем.




При выполнении письменного варианта
тестирования запиши номер правильного
варианта ответа



Вперед

2

Проанализируйте форму предмета



Распределите цифры к соответствующим геометрическим фигурам

Ромбы

Квадраты

Прямоугольники

Правильные ответы




Вперед



2

Проанализируйте форму предмета



Распределите цифры к соответствующим геометрическим фигурам

Ромбы

2,4

Квадраты

1

Прямоугольники

3, 5, 6



Вперед



Ошибочка вышла!
Подумай еще!

← Вернуться к заданию

3

Отгадай загадку и нажми на картинку с
ответом

Расчесался без
расчески
И умылся без воды.
В кресло мягкое
забрался
И запел на все пады.

1




2



3



4



При выполнении письменного варианта
тестирования запиши номер правильного
варианта ответа



Вперед




Ошибочка вышла!
Подумай еще!

← Вернуться к заданию

4

Проанализируйте форму предмета



Распределите цифры к соответствующим геометрическим фигурам

Ромбы

Квадраты

Прямоугольник

Правильные ответы




Вперед



4

Проанализируйте форму предмета



Распределите цифры к соответствующим геометрическим фигурам

Ромбы

1, 5

Квадраты

2, 3

Прямоугольник

4, 6





Вперед

5

Отгадай загадку и нажми на картинку с
ОТВЕТОМ

Нос — как лепешка,
Копытца на ножках,
Круглое брюшко,
Хвостик, как стружка.



При выполнении письменного варианта
тестирования запиши номер правильного
варианта ответа



Вперед

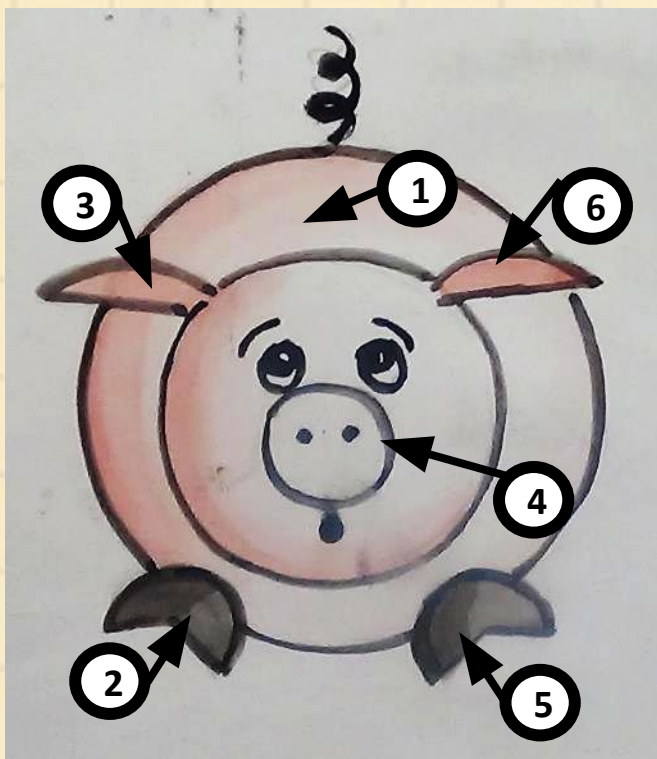


Ошибочка вышла!
Подумай еще!

← Вернуться к заданию

6

Проанализируйте форму предмета



Распределите цифры к соответствующим геометрическим фигурам

Круги

Сектора

Сегменты

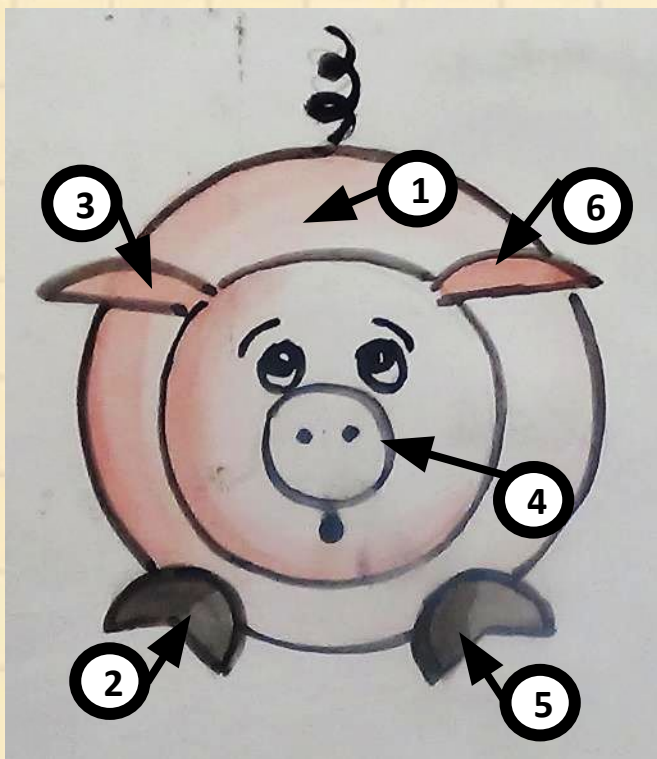
Правильные ответы



Вперед

6

Проанализируйте форму предмета



Распределите цифры к соответствующим геометрическим фигурам

Круги

1

Сектора

2, 5

Сегменты

3, 6


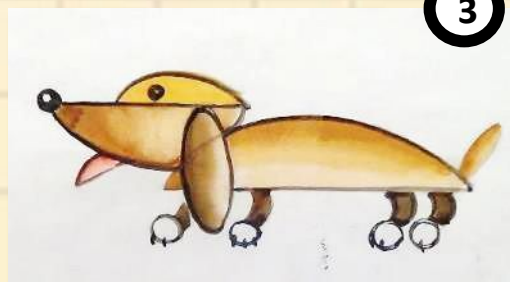


Вперед

7

Отгадай загадку и нажми на картинку с
ответом

Лесная рыжая плутовка –
Известна всем её
сноровка.
С ней аккуратней, не
зевай,
А дверь в курятник
запирай...



При выполнении письменного варианта
тестирования запиши номер правильного
варианта ответа



Вперед

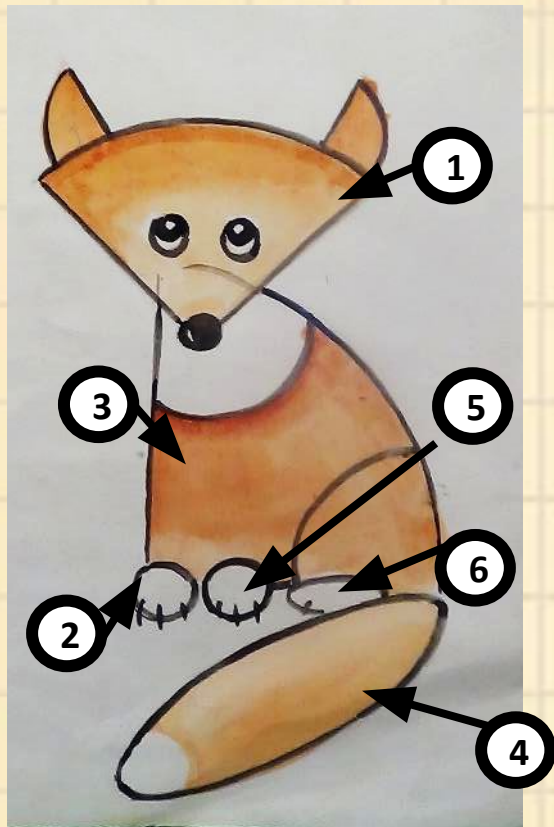


Ошибочка вышла!
Подумай еще!

← Вернуться к заданию

8

Проанализируйте форму предмета



Распределите цифры к соответствующим геометрическим фигурам

Круги

Сектора

Овалы

Правильные ответы

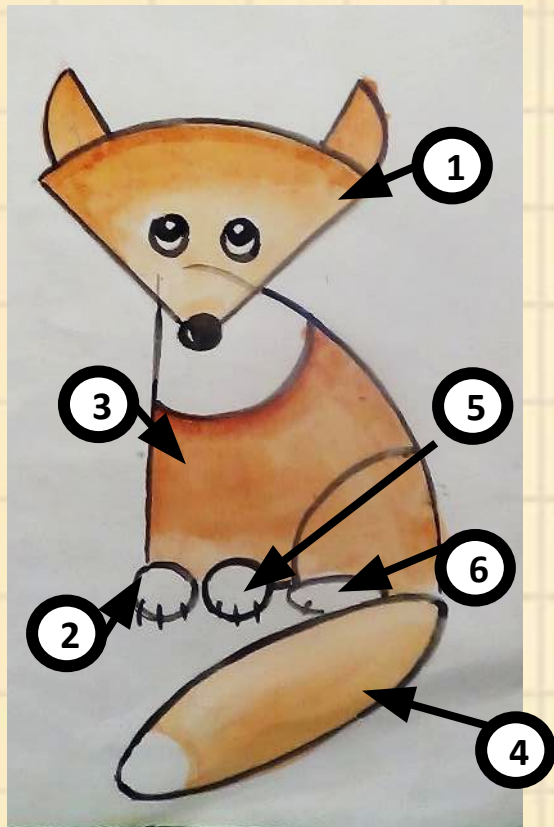


Вперед



8

Проанализируйте форму предмета



Распределите цифры к соответствующим геометрическим фигурам

Круги

2, 5

Сектора

1, 3



Овалы

4, 6



Вперед

Рассмотри геометрические
фигуры, из которых созданы
образы животных. Кто в этом
ряду лишний?
Приведи аргументы.



Правильные ответы



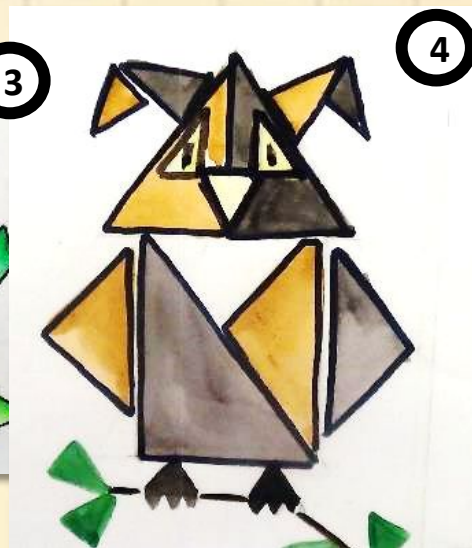


Вперед



Ошибочка вышла!
Подумай еще!

← Вернуться к заданию

Рассмотри геометрические
фигуры, из которых созданы
образы животных. Кто в этом
ряду лишний?
Приведи аргументы.



Верно! Сова создана из
треугольников,
а все остальные звери
из четырехугольников




Вперед

Рассмотри геометрические фигуры, из которых созданы образы животных. Кто в этом ряду лишний? Приведи аргументы.


1



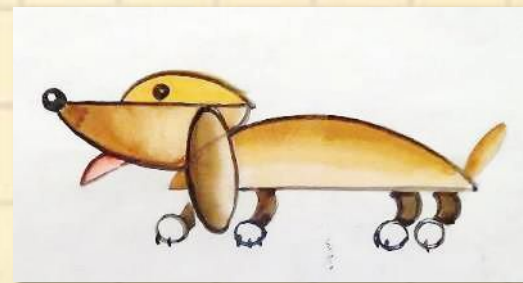
2



3



4



Правильные ответы



Вперед



Ошибочка вышла!
Подумай еще!

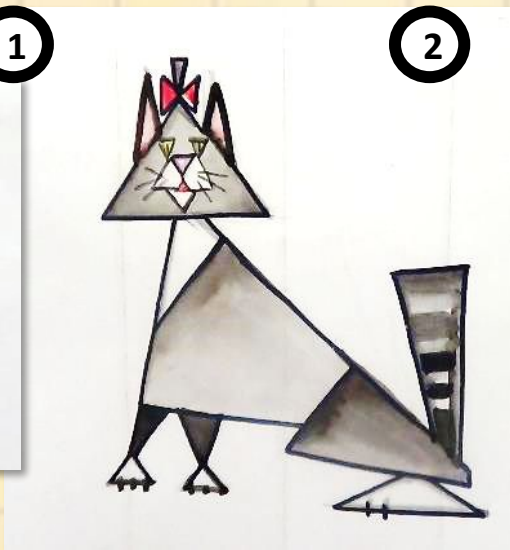
← Вернуться к заданию

Рассмотри геометрические фигуры, из которых созданы образы животных. Кто в этом ряду лишний? Приведи аргументы.


1




2



3



4



Верно! Кошка создана из треугольников, а все остальные звери из частей круга



Вперед

Тест со свободным изложением ответов. Кроссворд наоборот.
Раздел: «Терминология»



Пора вставлять
оконные блоки.
Попробуйте решить
кроссворд наоборот,
и новые окна
появятся в школе.



Вперед

1

Кроссворд наоборот



Обычно, решая кроссворд, нужно по описанию узнать слово. «Кроссворд наоборот» поможет сформулировать значение слов.

Прочитайте слова в кроссворде, выберите два слова и запишите их значение.

Правильные ответы



Вперед

Ответы

Анималист- художник, изображающий в своих картинах **ЖИВОТНЫХ**



Натюрморт- жанр искусства, связанный с изображением предметов быта.



Портрет- жанр искусства, связанный с изображением **человека**.



Орнамент- это узор, который **повторяется или чередуется**.



Картина- это произведение искусства, созданное художником.



назад


**Тест с восстановлением последовательности.
Раздел: «Этапы работы над рисунком»**



Пора построить ступени и вставить двери. Попробуйте распределить этапы работы над рисунком в правильном порядке, и новые двери и ступени появятся в школе.





Вперед

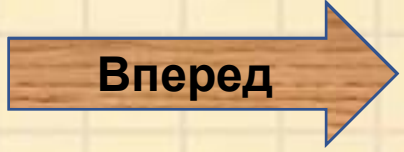



Установи последовательность работы над рисунком

Восстанови последовательность этапов рисунка,
записав буквы и символы обозначенные на
изображениях в нужном порядке.




Правильные ответы





Установи последовательность работы над рисунком

Восстанови последовательность этапов рисунка,
записав буквы и символы обозначенные на
изображениях в нужном порядке.




М О Л О Д Е Ц ! !



Вперед

**Тест на соответствие.
Раздел :«Цветоведение»**



Какая же школа без крыши? Помогите определить цветовую гамму при окраске крыш, и новая крыша появится в школе.

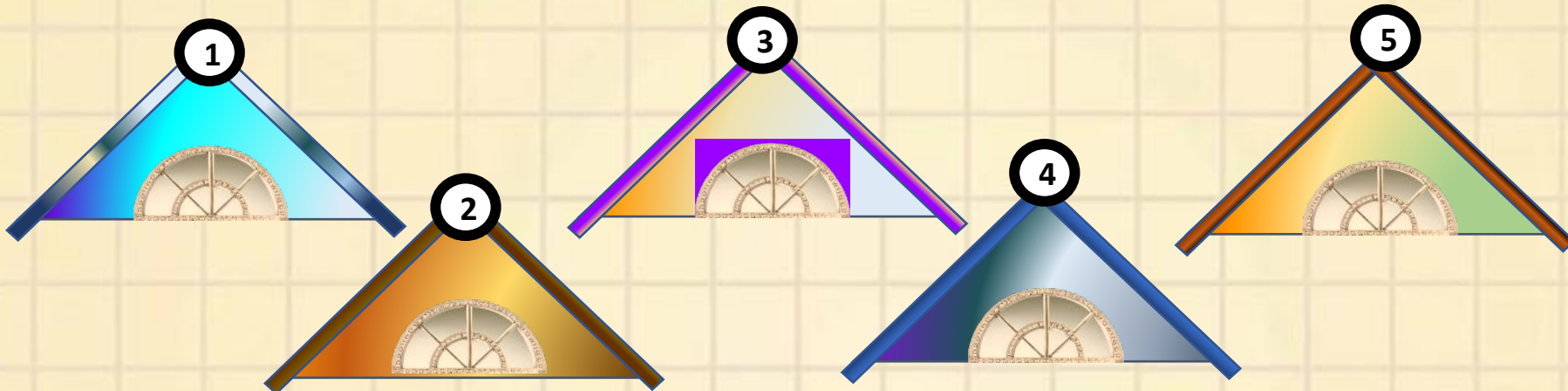


Вперед



Установите соответствие между цветом крыши и цветовой гаммой

Запишите номера крыш теплой, холодной или теплохолодной цветовой гамме



Холодная
цветовая

???



Теплая
цветовая

???



Теплохолодная

???

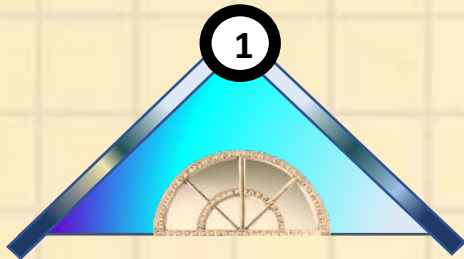
Правильные ответы



Вперед

Установите соответствие между цветом крыши и цветовой гаммой

Запишите номера крыш теплой, холодной или теплохолодной цветовой гамме

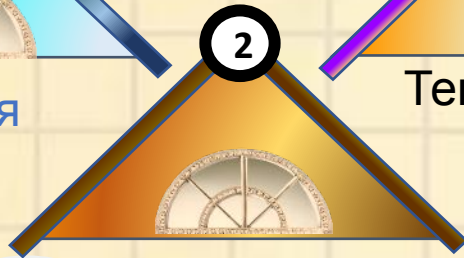


Холодная гамма



Холодная цветовая

1,4

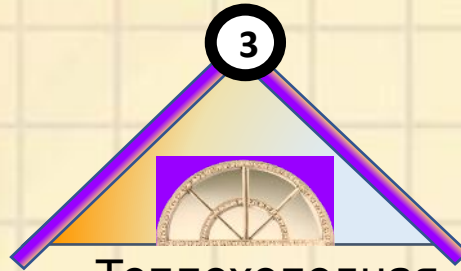


Теплая гамма

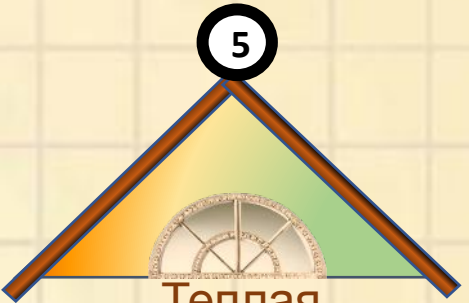


Теплая цветовая

2,5



Теплохолодная гамма

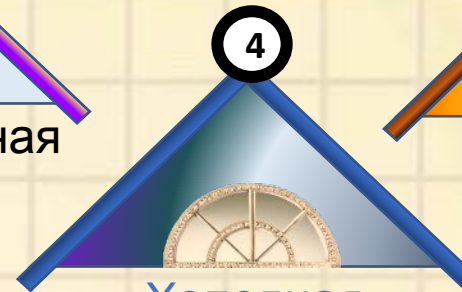


Теплая гамма



Теплохолодная

3



Холодная гамма



Вперед

Спасибо за
ПОМОЩЬ!



Вперед

ИСТОЧНИКИ

<https://www.vectorstock.com/royalty-free-vector/bricklayer-vector-395669>

https://st2.depositphotos.com/1719108/9047/i/950/depositphotos_90477934-stock-photo-cartoon-construction-site.jpg

<https://www.comboplayer.ru/videos/view/pesenska-myshonka-sssr-1967>

https://yandex.ru/images/search?text=%D0%B7%D0%B0%D1%8F%D1%86%20%D1%81%D1%82%D1%80%D0%BE%D0%B8%D1%82%D0%B5%D0%BB%D1%8C%20%D0%BA%D0%B0%D1%80%D1%82%D0%B8%D0%BD%D0%BA%D0%B8&stype=image&lr=8&source=wiz&pos=30&img_url=https%3A%2F%2Fzvzda.ru%2Fwp-content%2Fuploads%2Fd35211d0995ab

<https://pixabay.com/ru/photos/%D1%81%D1%82%D0%B5%D0%BD%D0%B0-%D0%BA%D0%B8%D1%80%D0%BF%D0%B8%D1%87-%D1%84%D0%BE%D0%BD-%D1%82%D0%B5%D0%BA%D1%81%D1%82%D1%83%D1%80%D0%B0-2918858/>

<https://yandex.ru/search/?text=%D0%BE%D1%80%D0%BD%D0%B0%D0%BC%D0%B5%D0%BD%D1%82%20%D0%BA%D0%B0%D1%80%D1%82%D0%B8%D0%BD%D0%BA%D0%B0&lr=193&clid=2242347>

<https://ru.stockfresh.com/image/3540154/house-construction>

<https://mamamozhetvse.ru/zagadki-pro-lisu-dlya-detej-22-luchshih.html>

<https://yandex.kz/collections/card/5ce852fa874e97e53da3298d/>

<https://roomester.ru/dekor/kartiny-v-interere-gostinoj.html>

<https://vdp.mycdn.me/getImage?id=358142183936&idx=2&thumbType=32>

<https://doc4web.ru/izo/risuem-vmeste-s-detmi.html>



Вперед

В презентации использованы рисунки учеников
МБОУ «СОШ № №38» г.Курска:

Рышковой У.

Бутовой Д.

Пешхальской Д.

Зеленоборской Н.

Бакотина С.

Давыдовой В.

Лукиной А.

Сергеевой В.

В презентации использованы рисунки из
мультфильма:

«Песенка мышонка»

Режиссер Прытков Ю.

Автор сценария Карганова Е.

