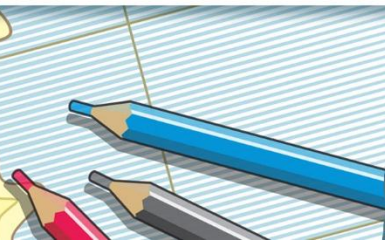




# ГЕОГРАФИЯ


## 8 класс

Учитель географии МБОУ СОШ № 30 г.Костромы  
Кострова Евгения Сергеевна



1) Полупустыни и пустыни в России  
находятся:

- а) на Восточно-Европейской равнине
- б) на Западно-Сибирской равнине
- в) в Восточной Сибири
- г) на Дальнем Востоке

A map of Russia is shown in the background, with various geographical features like rivers (Енисей, Ангара, Обь, Вишунь, Шилка, Амур) and lakes (оз. Байкал) labeled. The text is overlaid on the map.

2) Население зоны полупустынь и пустынь **НЕ** задействовано:

а) в добыче газа

б) в животноводстве

в) в добыче железной руды

г) в растениеводстве



### 3) Почвы полупустынь и пустынь:

а) бурые

в) серые

б) подзолистые

г) глеевые

A map of Russia showing major rivers and geographical features. The map is overlaid with a grid. The text is centered on the map. The rivers shown include the Ob, Yenisey, Lena, Angara, Vitim, Shilka, and Amur. The Caspian Sea is visible in the south. The map also shows the location of Lake Baikal (оз. Байкал).

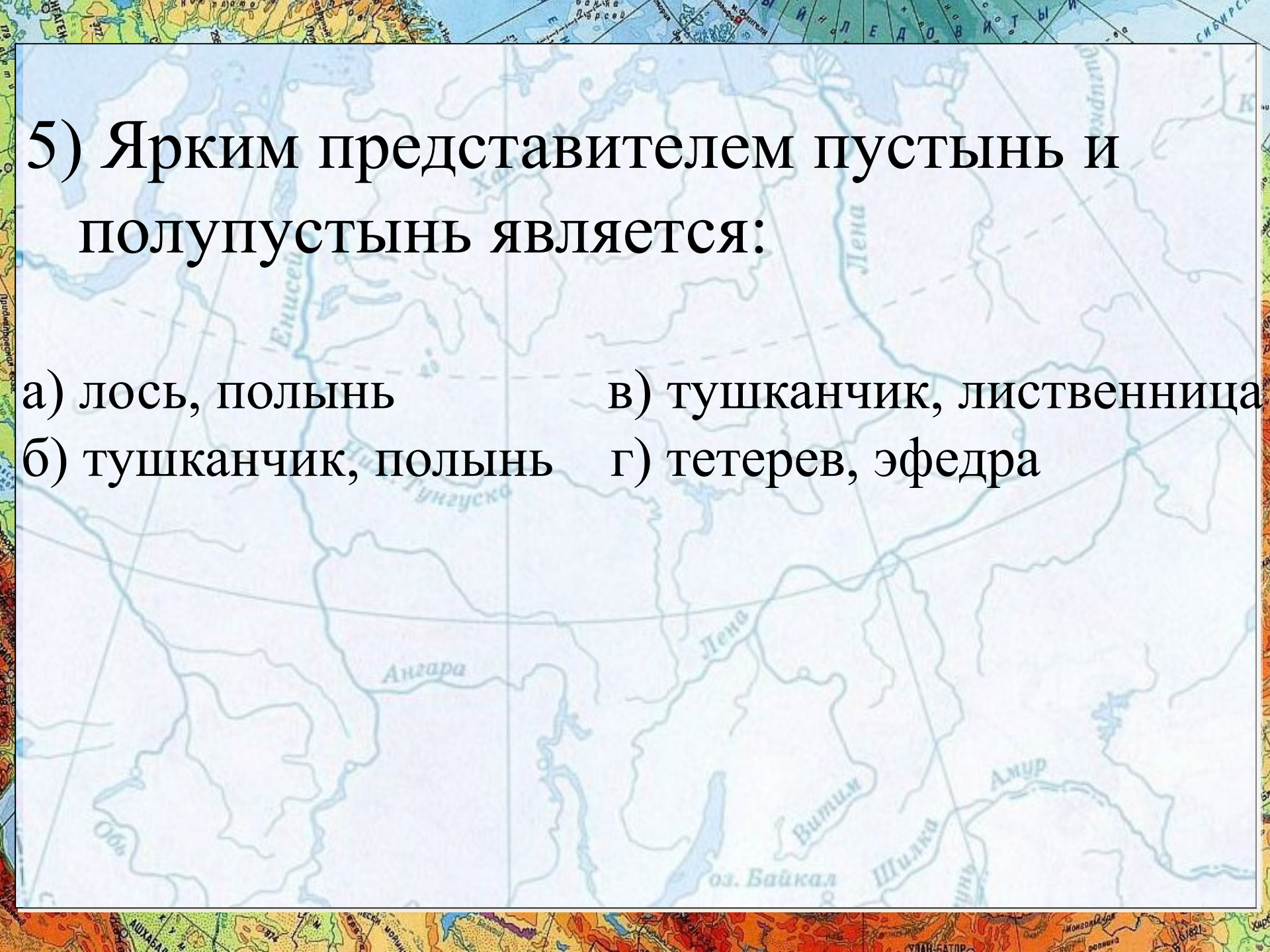
4) Город, который находится в  
зоне полупустынь и пустынь:

а) Архангельск

в) Рязань

б) Анадырь

г) Астрахань



5) Ярким представителем пустынь и полупустынь является:

а) лось, полынь

в) тушканчик, лиственница

б) тушканчик, полынь

г) тетерев, эфедра

# ОТВЕТЫ



A map of Siberia showing a grid of latitude and longitude lines. Major rivers are labeled in Russian: Енисей (Enisey), Хатанга (Khatanga), Лена (Lena), Ниж. Тунгуска (Nizh. Tunguska), Ангара (Angara), Обь (Ob'), Вилюй (Vilyuy), оз. Байкал (Lake Baikal), Шилка (Shilka), and Амур (Amur). The map is overlaid with a grid of dashed lines. The text '1 - а' is positioned in the upper central part of the map.

**1 – а**

**2 – в**

**3 – а**

**4 – г**

**5 – б**



A map of Siberia, Russia, showing major rivers and geographical features. The map is overlaid with a large, bold, black text block. The text lists several types of plants: ягель (lichen), земляника (strawberry), карликовая берёзка (dwarf birch), полярная ива (polar willow), and голубика (blueberry). The map shows the Lena, Yenisey, and Amur rivers, as well as Lake Baikal. The text is centered on the map.

**ягель**  
**земляника**  
**карликовая берёзка**  
**полярная ива**  
**голубика**

**Ar → PR → PZ → MZ → KZ**

A map of Eastern Siberia and the Far East of Russia. The map shows major rivers including the Ob, Yenisey, Lena, Angara, Vitim, Shilka, and Amur. It also depicts Lake Baikal (оз. Байкал) and the city of Khabarovsk. The text 'Ar → PR → PZ → MZ → KZ' is overlaid in large, bold, black letters across the center of the map. The map includes a grid of latitude and longitude lines and various geographical labels in Cyrillic.



Енисей

Хатанга

Лена

Ниж. Тунгуска

Ангара

Лена

Витим

Амур

оз. Байкал

Шилка

Обь



# Лена, Енисей, Амур



Енисей

Хатанга

Лена

Ниж. Тунгуска

Ангара

Лена

Витим

Амур

Обь

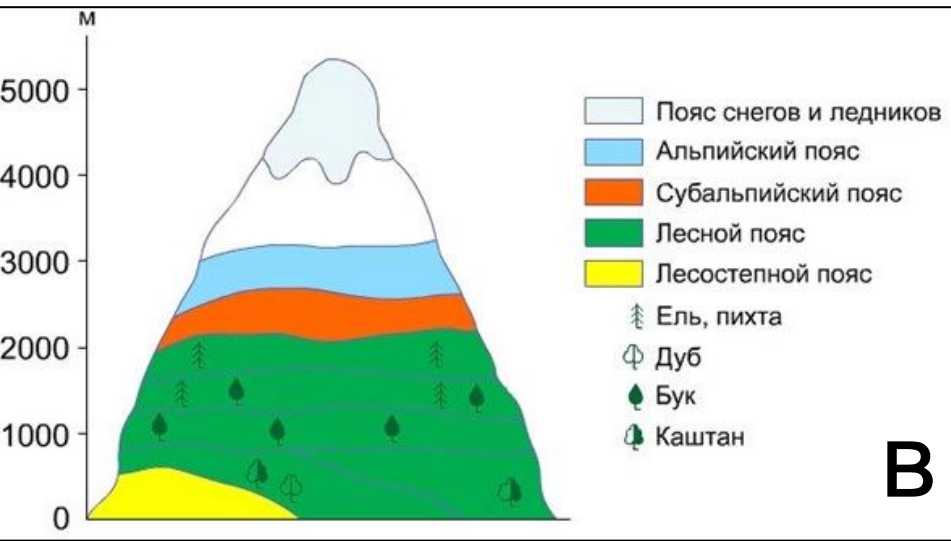
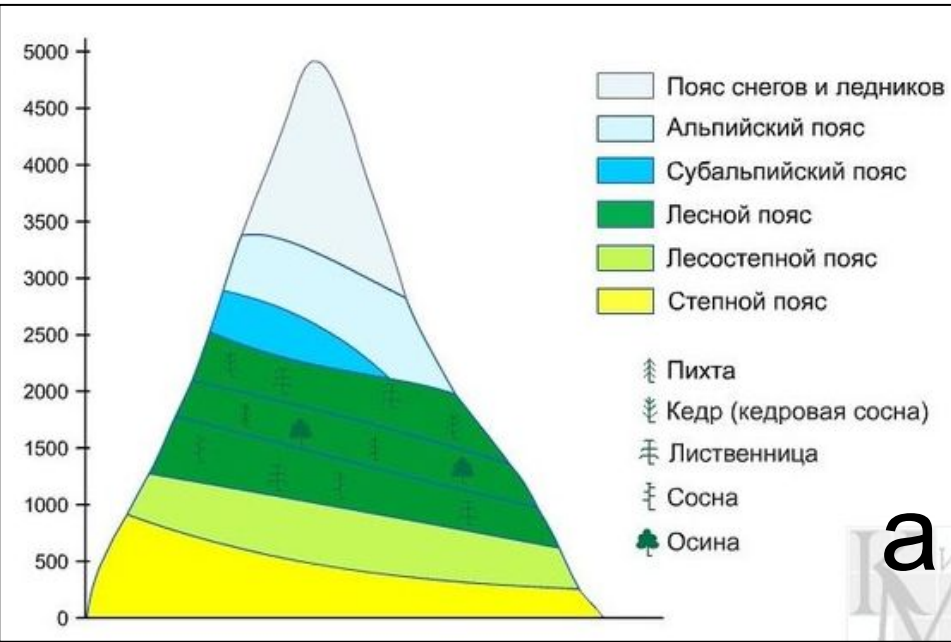
оз. Байкал

Шилка

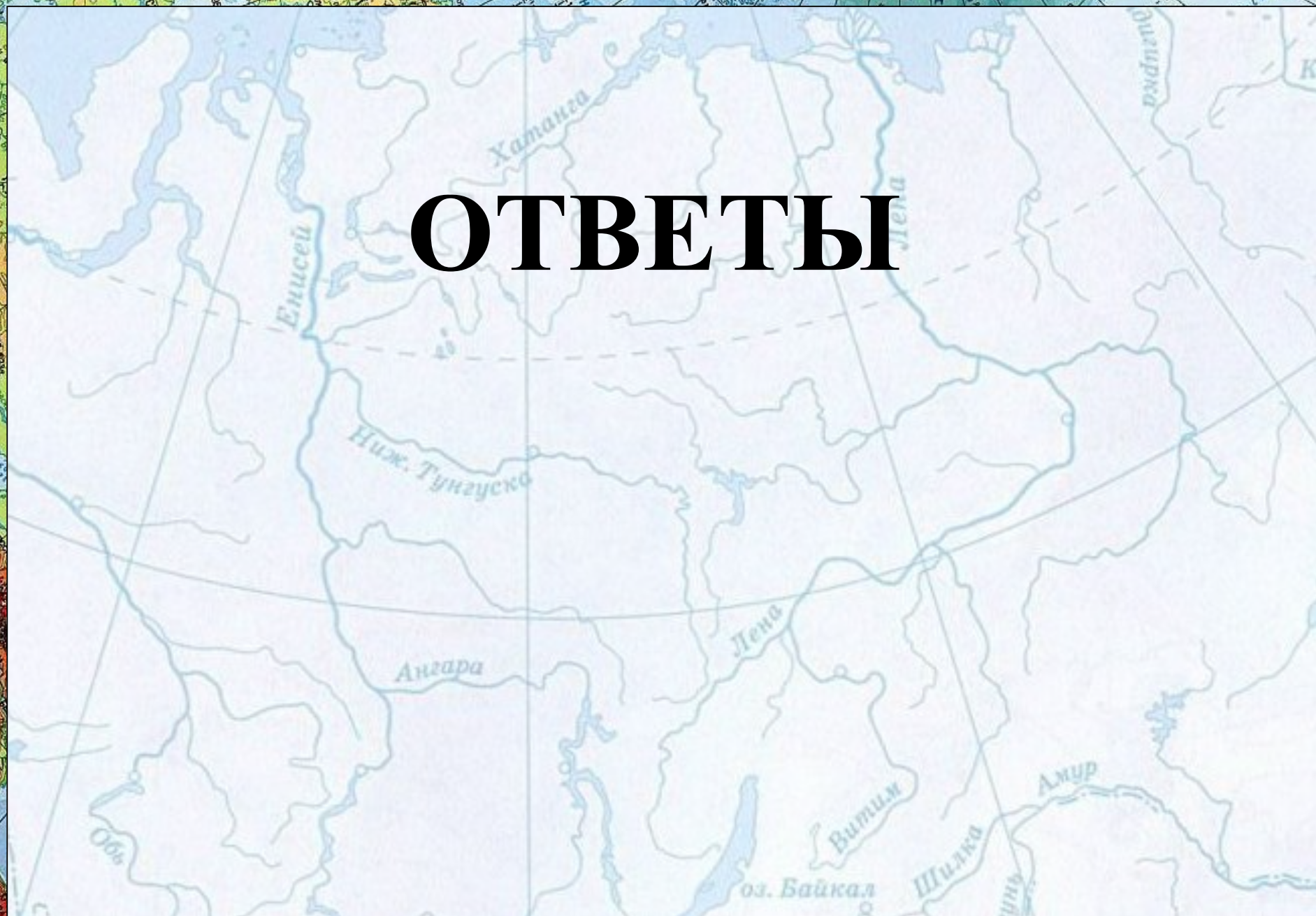
СИБИРСКИ

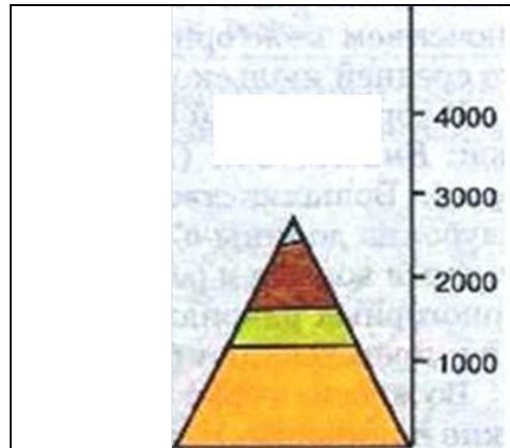
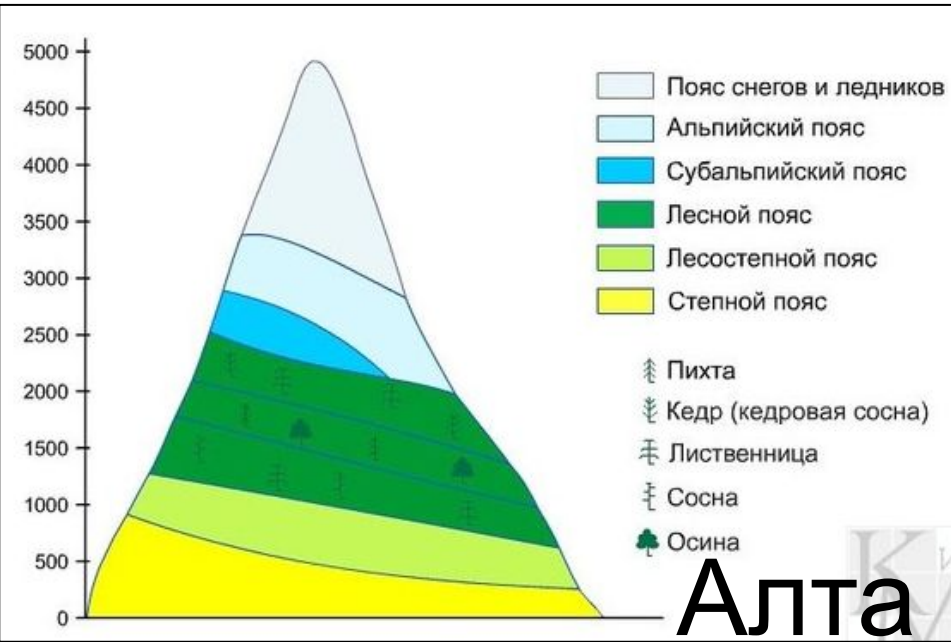
Правобережье

Улан-Батор

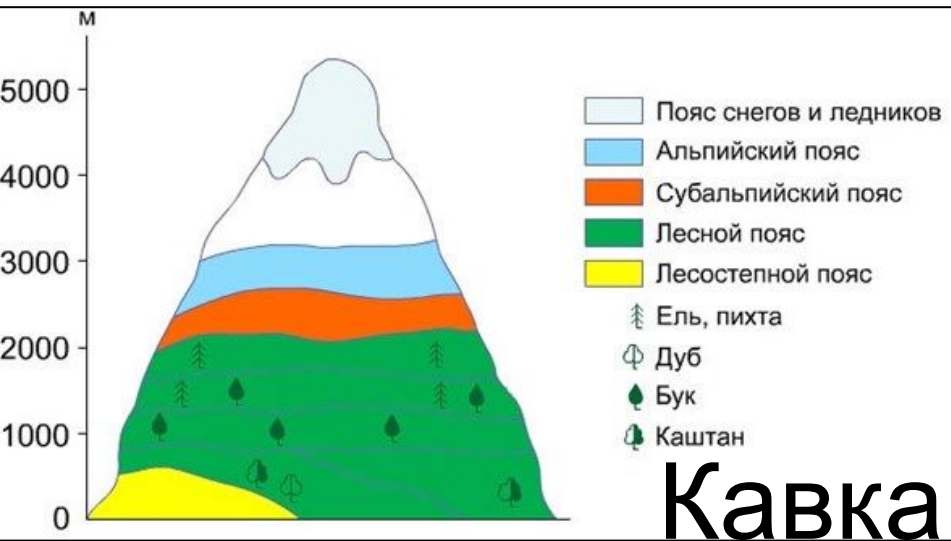


# ОТВЕТЫ





**Станово  
е  
нагорье**



1-в, 2-а, 3-б.

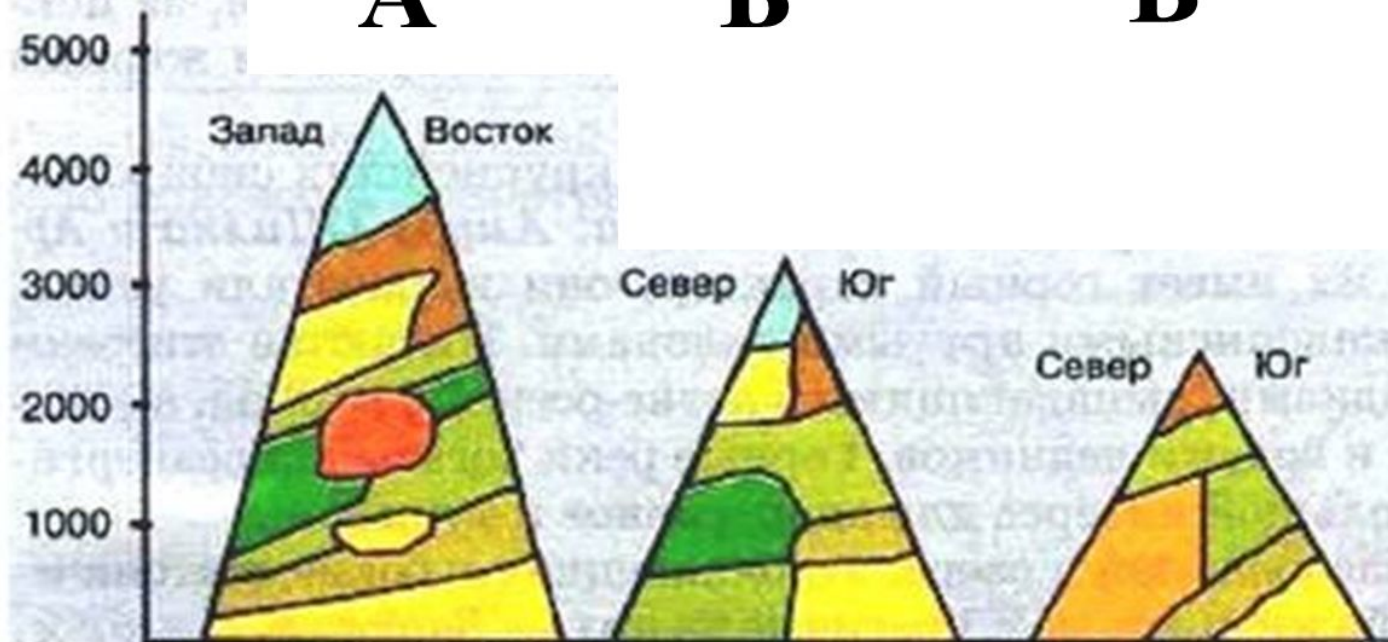


Абсолютная  
высота, м

**А**

**Б**

**В**



**ВЫСОТНЫЕ ПОЯСА**



1) Саяны

2) Яблоневый хребет

3) Алтай

# ОТВЕТЫ





**1 – Б**

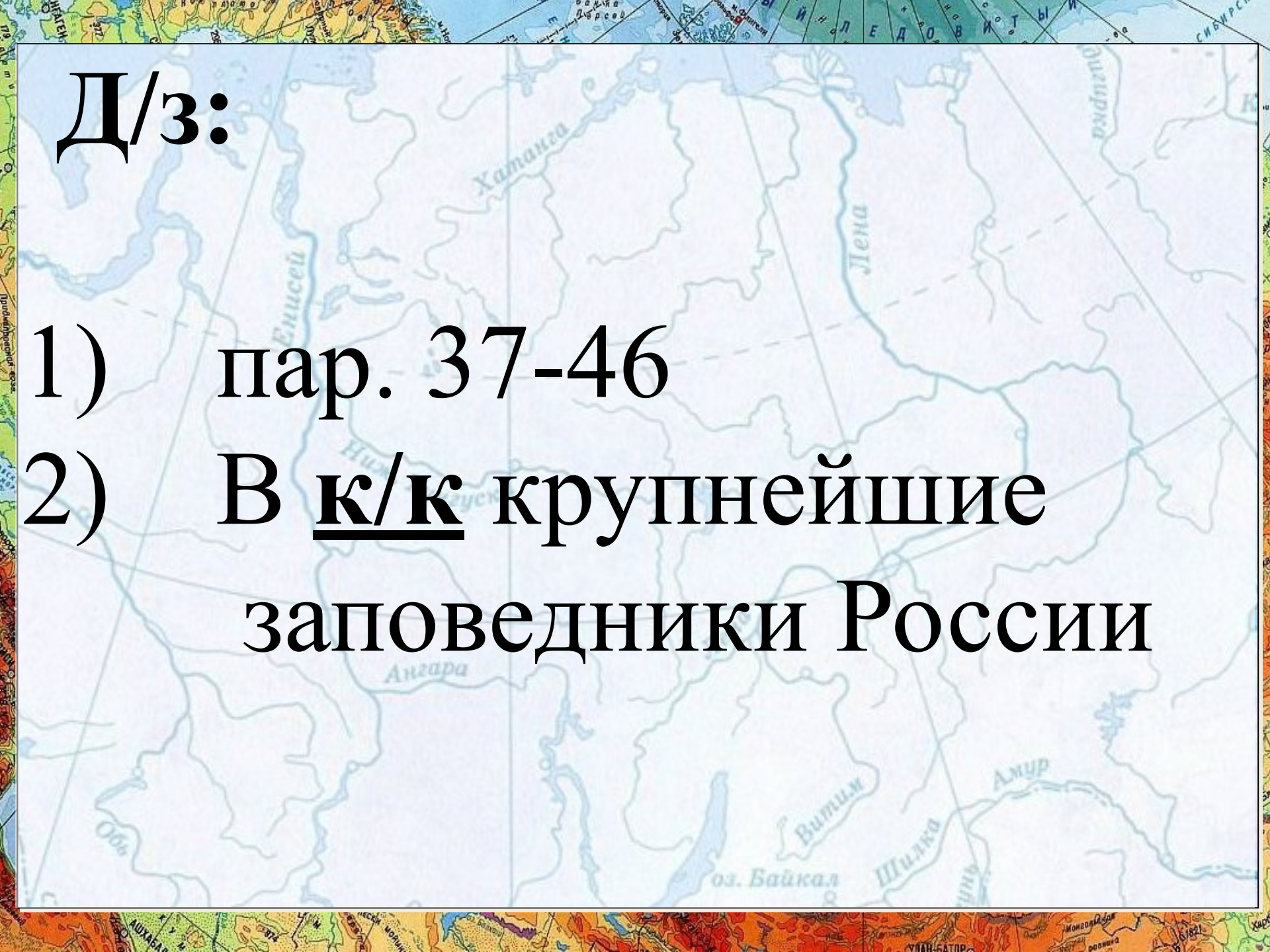
**2 – В**

**3 – А**



# Дагеста н



A map of Russia is shown in the background, with various rivers and lakes labeled in Russian. The text is overlaid on the map. The text is in a large, bold, black font. The map shows the Lena, Yenisey, and Amur rivers, and Lake Baikal. The text is centered on the map.

Д/з:

1) пар. 37-46

2) В к/к крупнейшие  
заповедники России