



ТЕСТ ПО ТЕМЕ «МИРОВОЙ ОКЕАН- СИННЯЯ БЕЗДНА»

Предмет:
Классография
7

Семянникова Татьяна Александровна
МБОУСОШ №2 р.п.Башмаково
Башмаковского района Пензенской области



Инструкция по выполнению теста «Мировой океан-синяя бездна».

Продолжительность выполнения работы: 40 минут. Тест состоит из 19 заданий. Прежде чем ответить, внимательно прочитайте задание. При выполнении заданий 1-14, 19 выберите только один верный ответ из четырех предложенных. Для этого наведите курсор на кружок с цифрой с верным, по-вашему мнению, ответом. При правильном ответе кружок с цифрой поменяет свой цвет на зеленый  , а при неправильном – на красный  . Обратите внимание, что в заданиях 15, 16 нужно выбрать 3 ответа из шести предложенных, а в заданиях 17, 18 нужно выбрать все правильные ответы.

**НАЧАТЬ
ТЕСТ**

1. Какая диаграмма верно отражает долю
Мирового океана в общей площади планеты?

1



2



3






4



- Суша

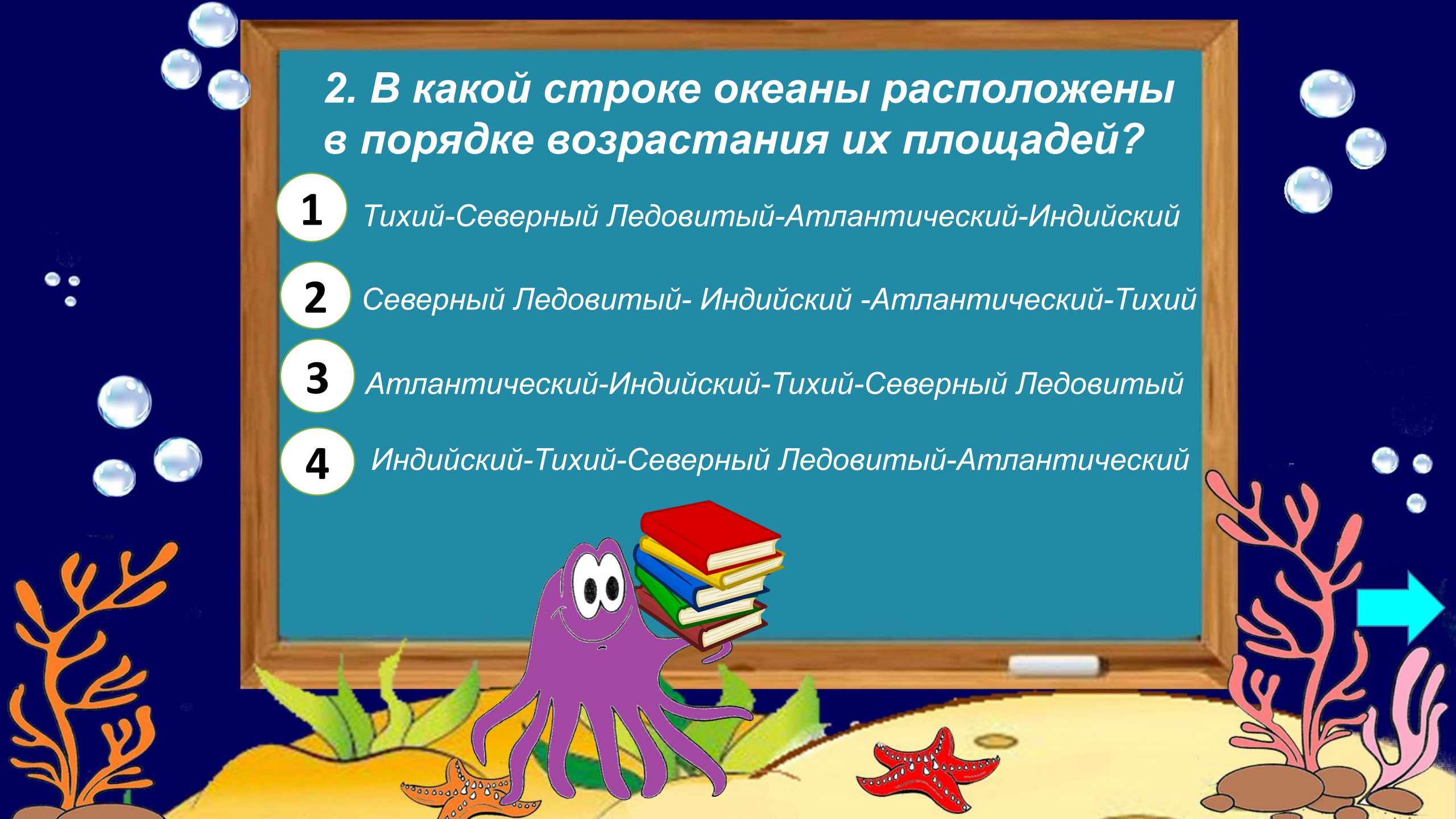


- Мировой океан

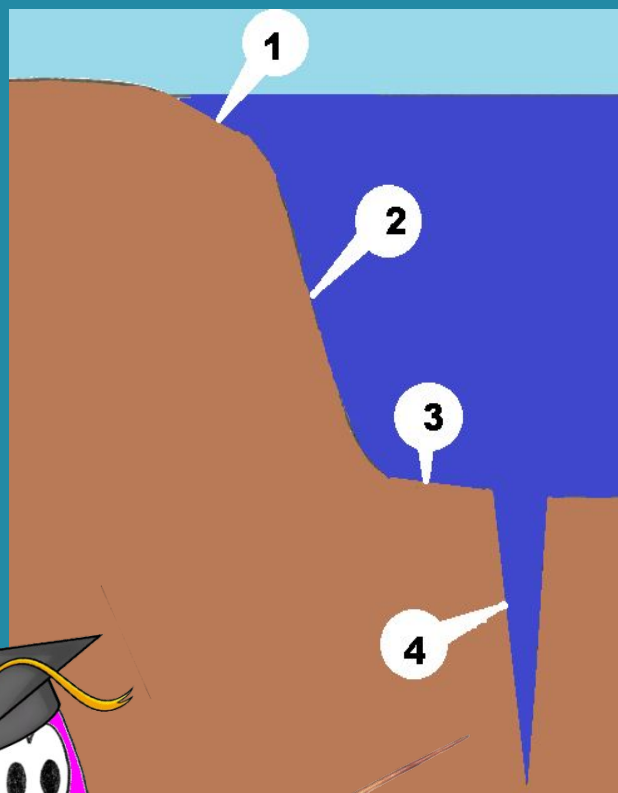


2. В какой строке океаны расположены в порядке возрастания их площадей?

- 1** Тихий-Северный Ледовитый-Атлантический-Индийский
- 2** Северный Ледовитый- Индийский -Атлантический-Тихий
- 3** Атлантический-Индийский-Тихий-Северный Ледовитый
- 4** Индийский-Тихий-Северный Ледовитый-Атлантический



3. Какой цифрой на рисунке показан
глубоководный желоб?




1

2

3

4



*4. Океан, в котором нет глубоководных
желобов*

1

Индийский

2

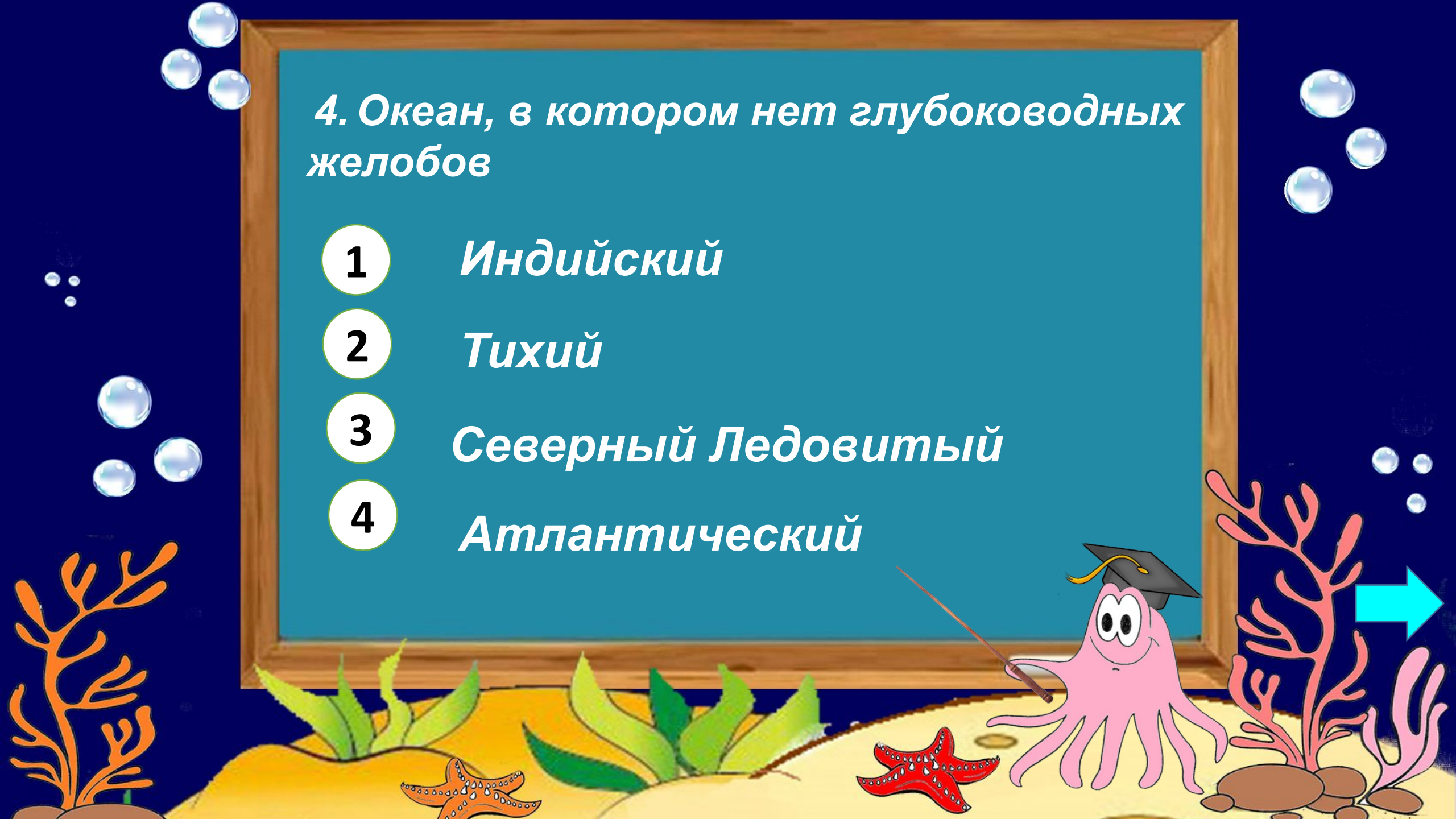
Тихий

3

Северный Ледовитый

4

Атлантический



**5. Средняя соленость вод
Мирового океана составляет:**

1 35 ‰

3 53 ‰

2 30 ‰

4 17 ‰



6. Максимальный показатель солености вод Мирового океана наблюдается в широтах:

1

умеренных

2

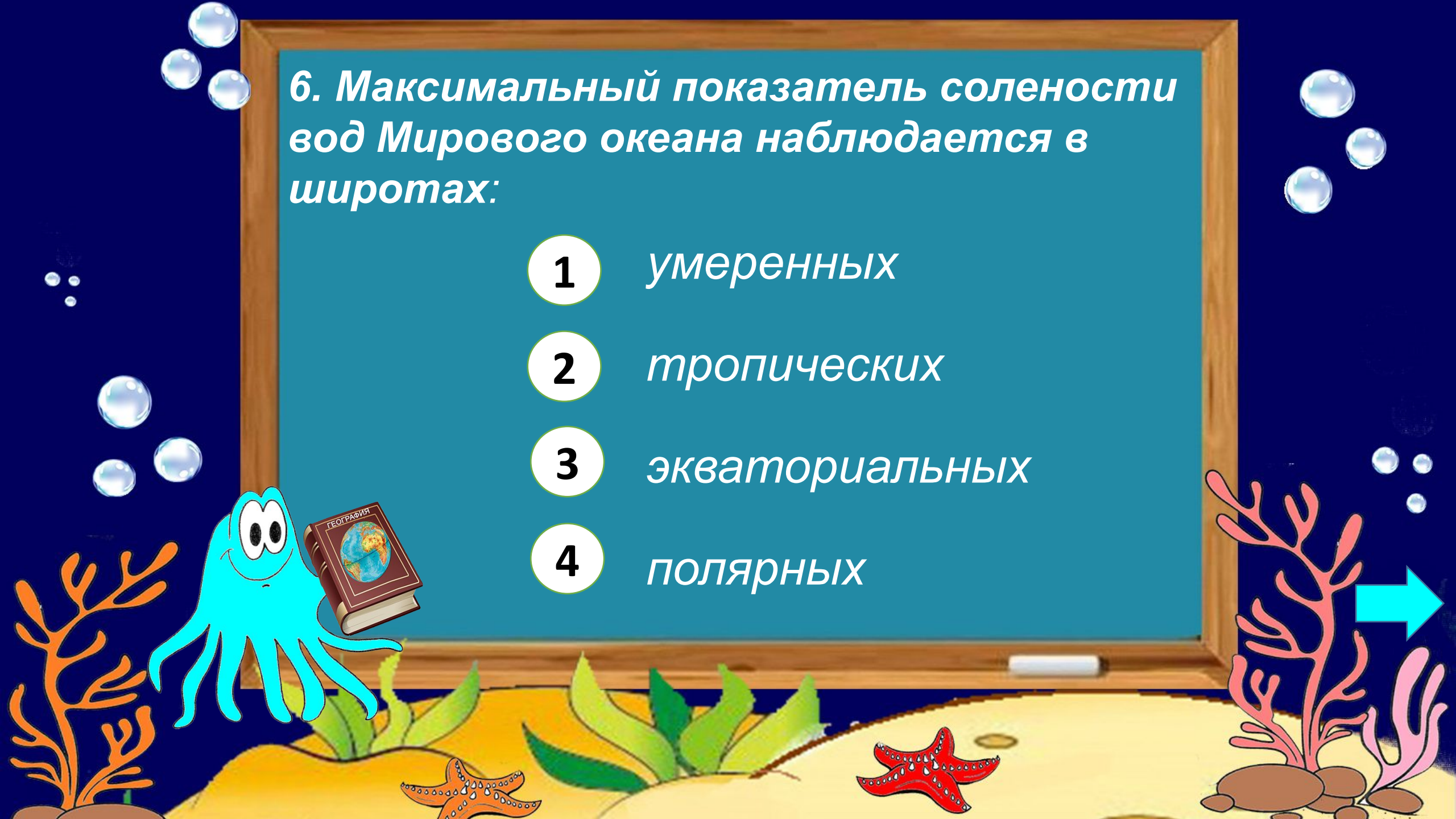
тропических

3

экваториальных

4

полярных



7. Какой цифрой на карте показано самое соленое море в Мировом океане?




1

2

3

4



8. Этот предупреждающий знак - один из способов оповещения населения о приближении гигантских разрушительных волн. В какой стране его можно увидеть?



1 Монголия

2 Япония

3 Швеция

4 Польша



9. Какое животное не относится к нектону?

1 Дельфин



3 Морской ёж



2 Китовая акула

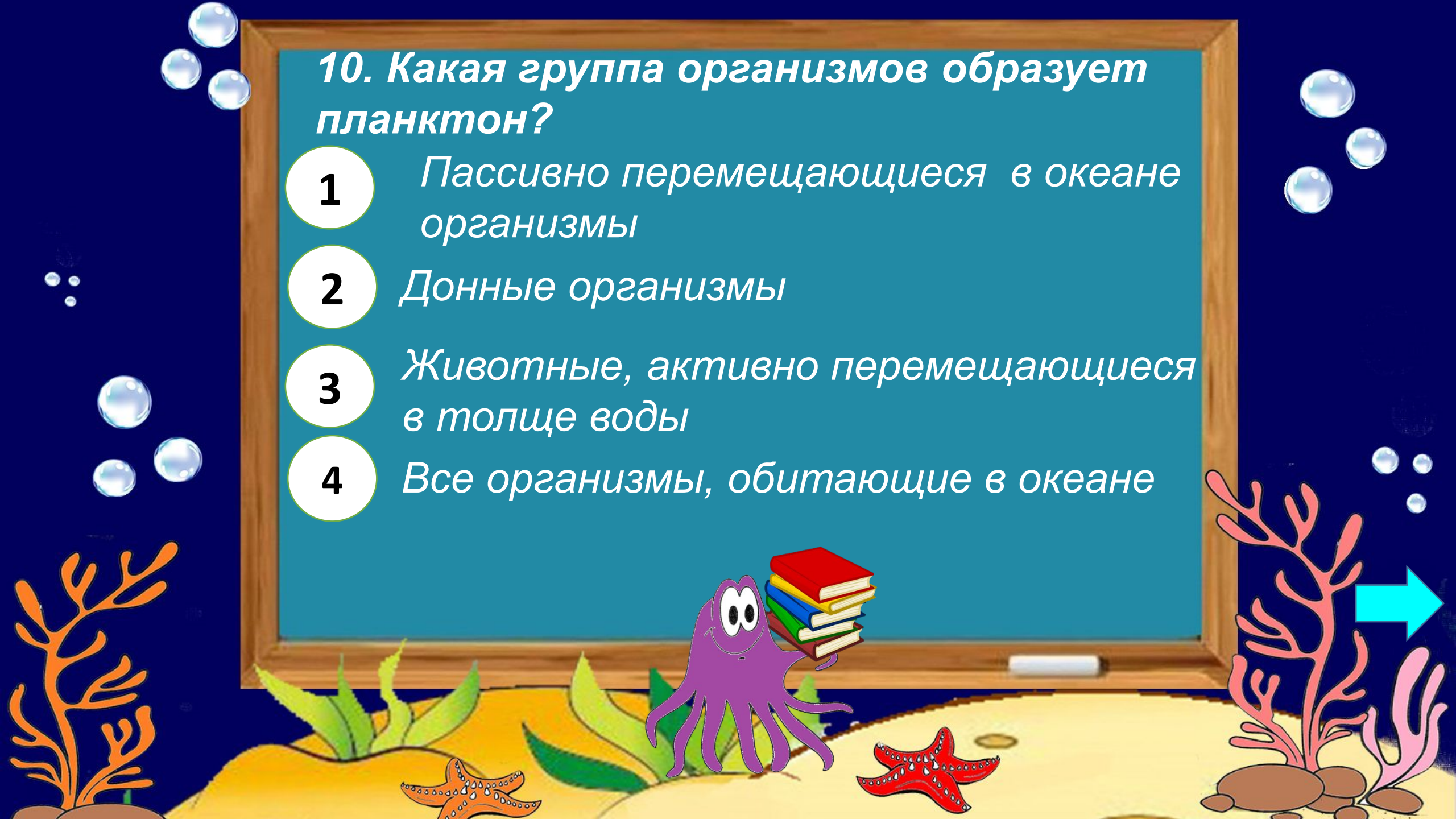


4 Кальмар



10. Какая группа организмов образует планктон?

- 1** Пассивно перемещающиеся в океане организмы
- 2** Донные организмы
- 3** Животные, активно перемещающиеся в толще воды
- 4** Все организмы, обитающие в океане



11. Большая часть мирового улова рыбы приходится на широты:

1

экваториальные

3


тропические

2

умеренные

4

полярные



12. Верны ли следующие утверждения?
А) Большая часть глубоководных желобов находится в Тихом океане
Б) В Северном Ледовитом океане наибольшая среди всех океанов площадь шельфовой зоны

1

верно только утверждение А

2



верно только утверждение Б

3

верны оба утверждения

4

оба утверждения неверны



13. О каком океане идет речь:

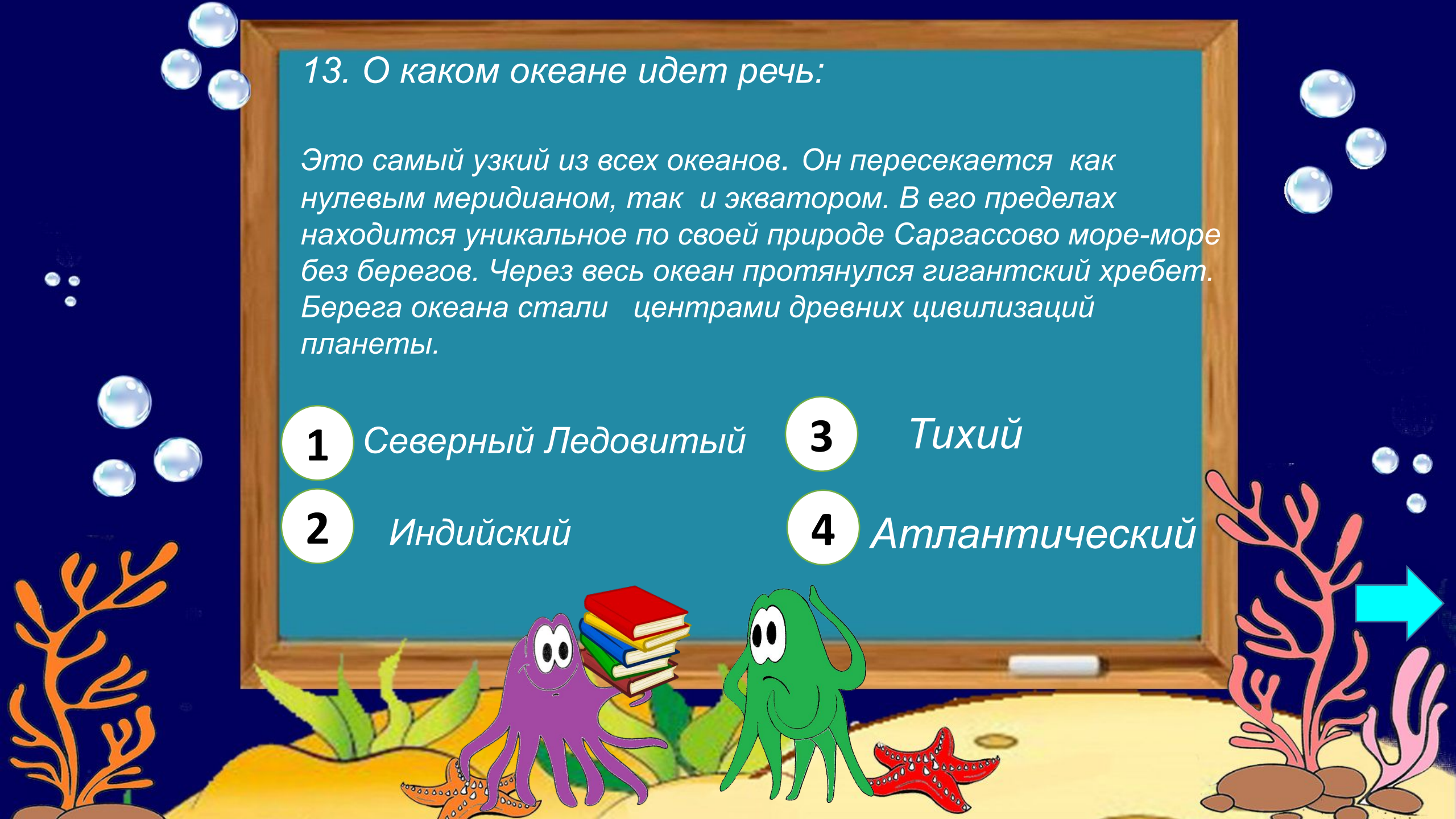
Это самый узкий из всех океанов. Он пересекается как нулевым меридианом, так и экватором. В его пределах находится уникальное по своей природе Саргассово море-море без берегов. Через весь океан протянулся гигантский хребет. Берега океана стали центрами древних цивилизаций планеты.

1 Северный Ледовитый

3 Тихий

2 Индийский

4 Атлантический



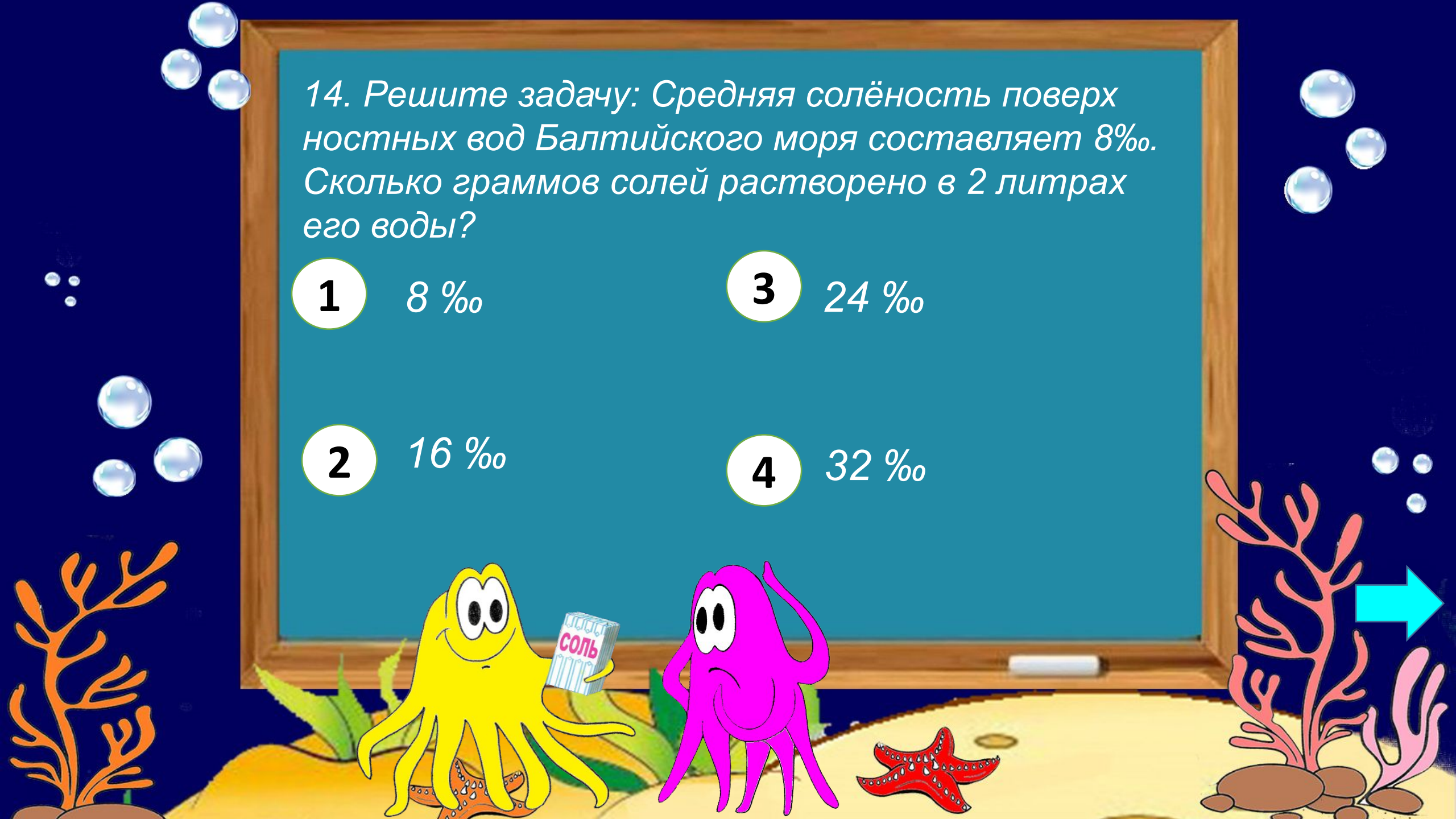
14. Решите задачу: Средняя солёность поверхностных вод Балтийского моря составляет 8‰. Сколько граммов солей растворено в 2 литрах его воды?

1 8 ‰

3 24 ‰

2 16 ‰

4 32 ‰



15. Какие три из перечисленных морей относятся к внутренним?

1 Баренцево

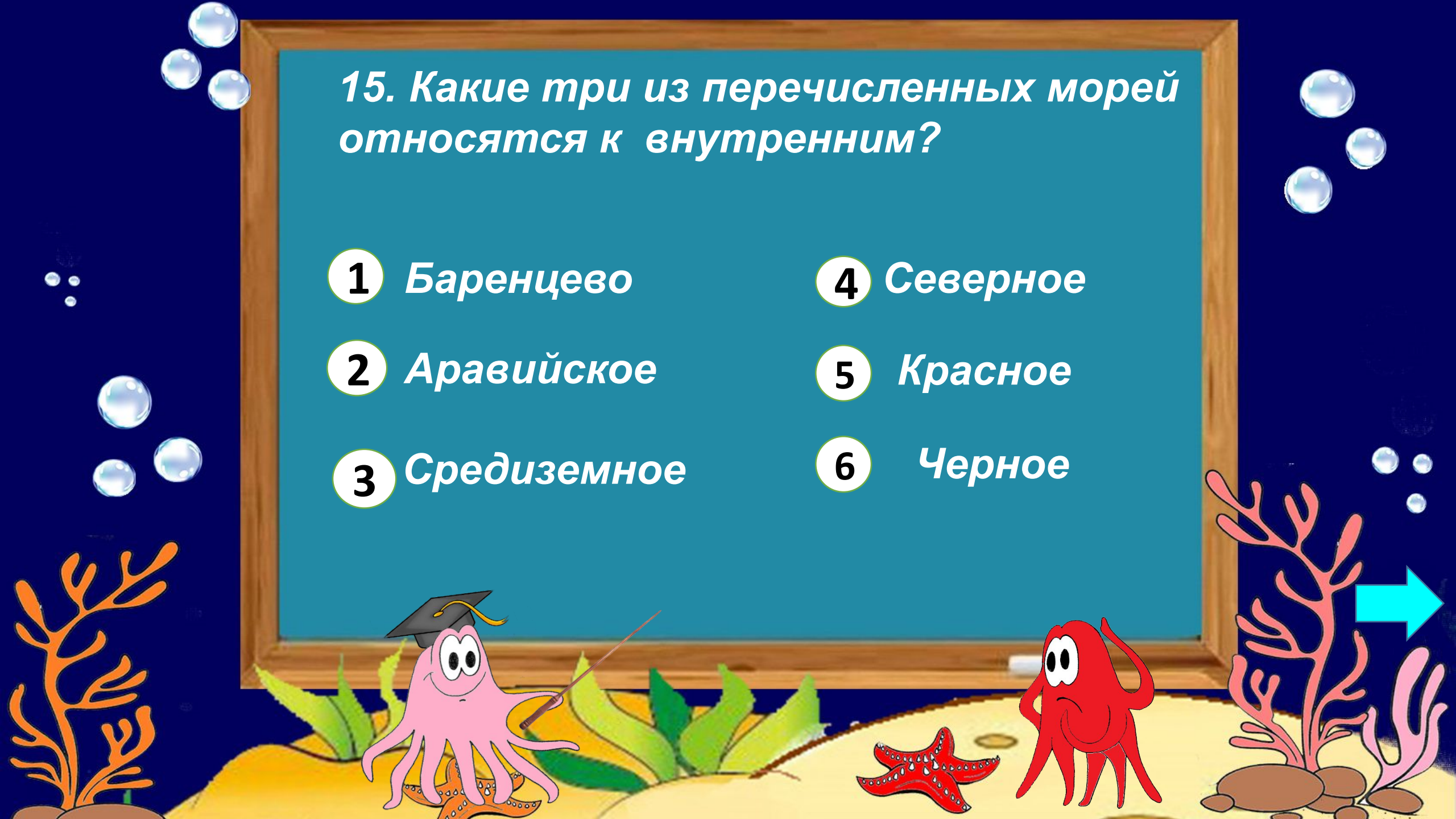
2 Аравийское

3 Средиземное

4 Северное

5 Красное

6 Черное



16. Какие три из перечисленных течений относятся к холодным ?

1 Лабрадорское

4 Куроисио

2 Гольфстрим

5 Бразильское

3 Канарское

6 Бенгельское



17. Какие утверждения о Тихом океане являются верными?

1

Площадь Тихого океана больше площади всей суши планеты

2

Тихий океан омывает берега всех материков

3

В Тихом океане находится главный мировой район добычи нефти

4

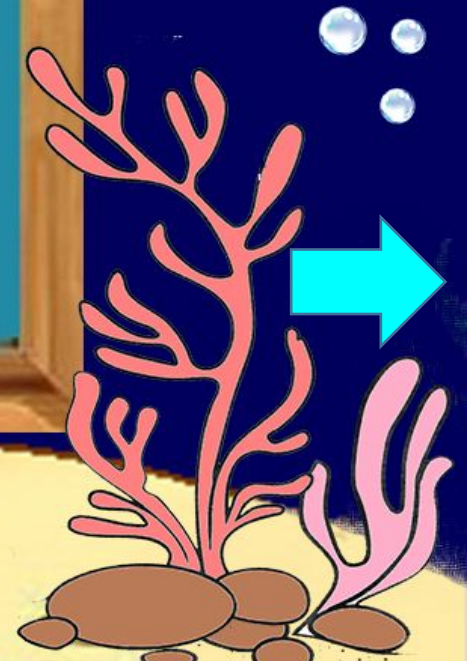
Тихий океан имеет рекордную среди всех океанов глубину, которая составляет 11022 м

5

Тихий океан расположен во всех четырех полушариях Земли.

6

Больше половины площади дна Тихого океана находится в зоне шельфа



18. Какие характеристики океанов являются верными?

1

Индийский океан занимает первое место в мировом рыболовстве

2

Северный Ледовитый океан-самый мелководный и самый маленький по площади

3

Больше всего морей находится в Атлантическом океане

4


Тихий океан является самым теплым из всех океанов

5

Большинство островов Северного Ледовитого океана имеет вулканическое происхождение

6

Большая часть Индийского океана расположена в южном полушарии



19. В какой строке указано правильное соответствие между океанами и объектами, расположенными в их пределах?

1. Тихий океан	А Зондский желоб
2. Северный Ледовитый океан	Б Марианский желоб
3. Атлантический океан	В Желоб Пуэрто-Рико
4. Индийский океан	Г Гренландское море

1

1) -А; 2) -В; 3) -Г; 4) -Б

2

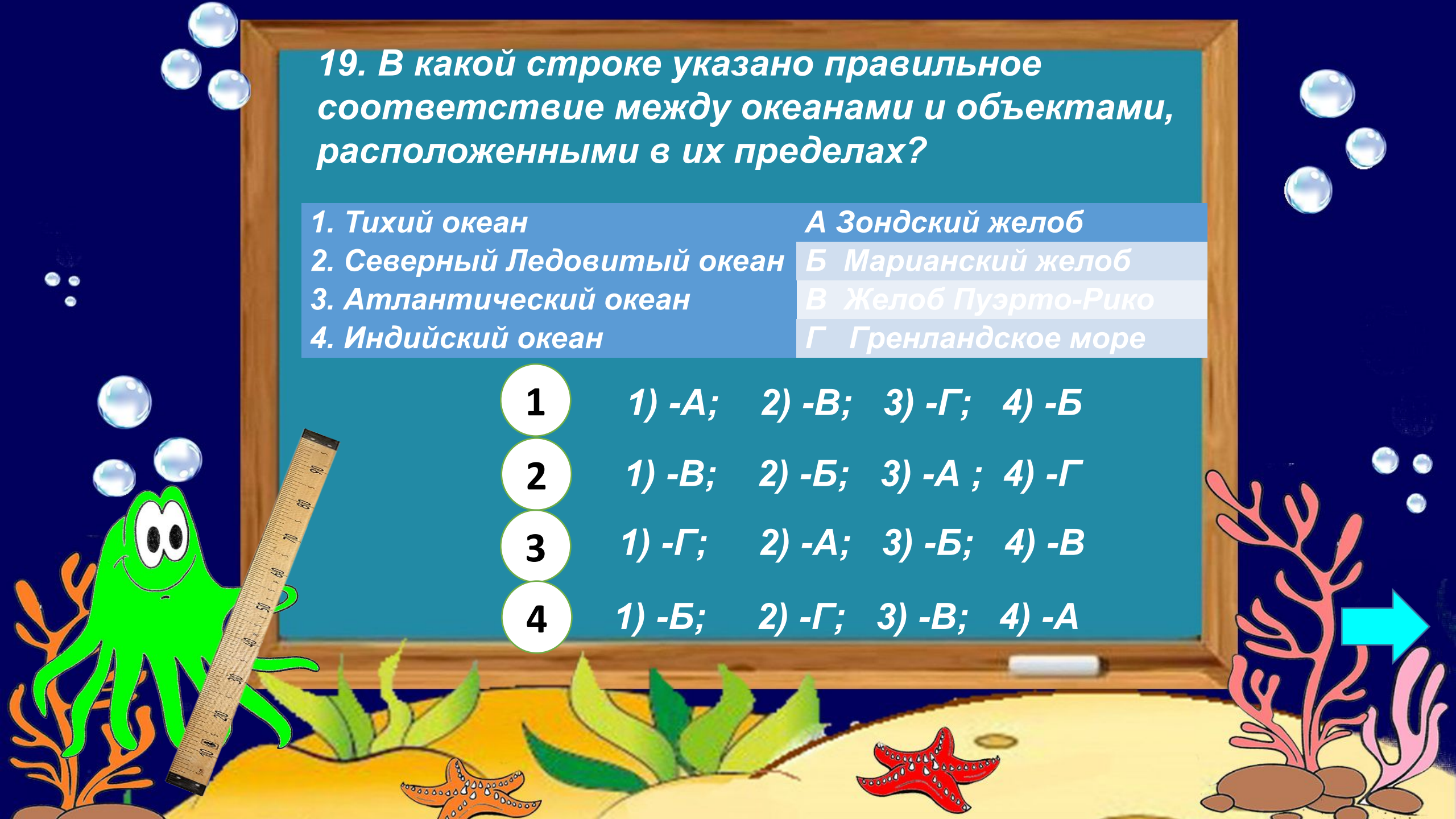
1) -В; 2) -Б; 3) -А ; 4) -Г

3

1) -Г; 2) -А; 3) -Б; 4) -В

4

1) -Б; 2) -Г; 3) -В; 4) -А



ТЕСТ ОКОНЧЕН!

Ключ к тесту

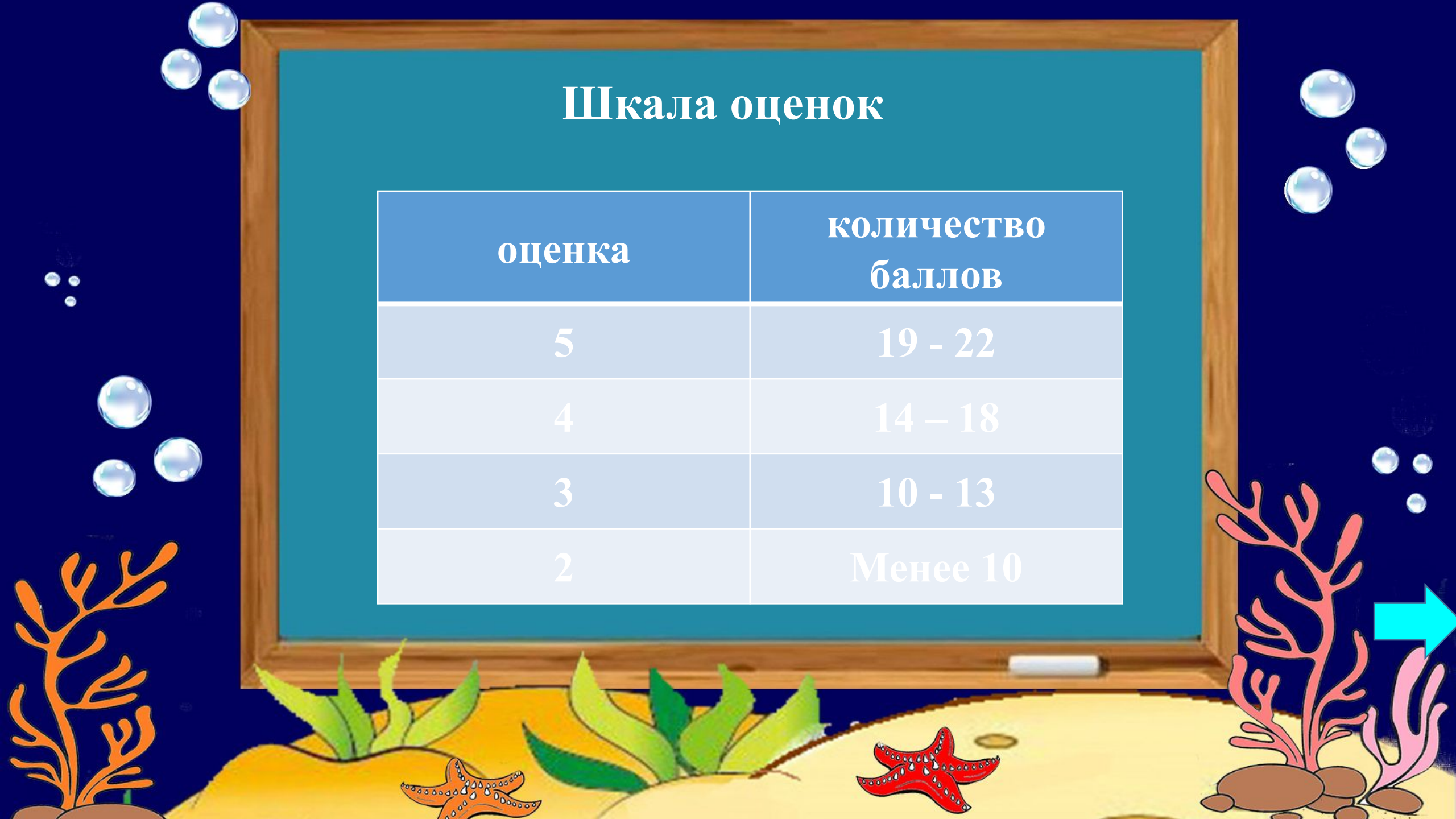
№ вопроса	Вариант правильного ответа	Баллы
1	3	1
2	2	1
3	4	1
4	3	1
5	1	1
6	2	1
7	3	1
8	2	1
9	3	1
10	1	1
11	2	1
12	3	1
13	4	1
14	2	1
15	3, 5, 6	1
16	1, 3, 6	1
17	1, 4, 5	2
18	2, 4, 6	2
19	4	2

Максимальный балл-22




Шкала оценок

оценка	количество баллов
5	19 - 22
4	14 - 18
3	10 - 13
2	Менее 10



**СПАСИБО
ЗА
ВНИМАНИЕ!**



Используемые источники:

- 1) Е.М. Домогацких, Н.И. Алексеевский. География. Материки и океаны: в 2 ч. Ч.1 Планета, на которой мы живем. Африка: учебник для 7 класса общеобразовательных учреждений/Е.М.Домогацких, Н.И.Алексеевский.-2-е изд.-М: ООО «Русское слово» учебник, 2014г. (ФГОС. Инновационная школа)
- 2) География: 7 класс :атлас –М.: Дрофа, 2018 г

Осьминожки

<https://ru.wikipedia.org/wiki/%D0%9E%D1%81%D1%8C%D0%BC%D0%B8%D0%BD%D0%BE%D0%B6%D0%BA%D0%B8#/media/%D0%A4%D0%B0%D0%B9%D0%BB:Osminozhki.jpg>

Дельфин

<https://ru.wikipedia.org/wiki/%D0%94%D0%B5%D0%BB%D1%8C%D1%84%D0%B8%D0%BD%D0%BE%D0%B2%D1%8B%D0%B5>

Китовая акула

https://ru.wikipedia.org/wiki/%D0%9A%D0%B8%D1%82%D0%BE%D0%B2%D0%B0%D1%8F_%D0%B0%D0%BA%D1%83%D0%BB%D0%B0

Морские ежи

https://ru.wikipedia.org/wiki/%D0%9C%D0%BE%D1%80%D1%81%D0%BA%D0%B8%D0%B5_%D0%B5%D0%B6%D0%B8

Кальмары

<https://ru.wikipedia.org/wiki/%D0%9A%D0%B0%D0%BB%D1%8C%D0%BC%D0%B0%D1%80%D1%8B>

