


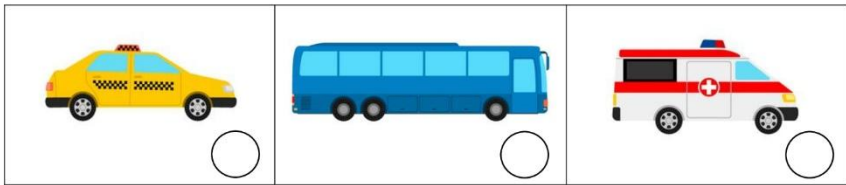
1. Кого по ПДД можно причислить к пассажирам? Отметь.




2. Какой сигнал светофора разрешает движение? Отметь.




3. Какой автомобиль может проехать на красный сигнал светофора? Отметь.



4. Как называют пассажира – безбилетника? Отметь.



5. Какой светофор нарисован правильно? Отметь.



6. Соедини изображение знака с его названием.




Пешеходный переход (предупреждающий)	Пешеходная зона	Движение пешеходов запрещено	Пешеходный переход
--------------------------------------	-----------------	------------------------------	--------------------


7. Какие цвета одежды лучше защитят тебя в темноте? Отметь.



8. Что использовали в Древней Руси для очередности проезда в опасных местах? Отметь.



9. Где сначала использовались ремни безопасности? Отметь.




10. Где всего лучше носить светоотражатели? Отметь все верные варианты.

в кармане <input type="checkbox"/>	на спине <input type="checkbox"/>	на рукавах <input type="checkbox"/>
на головном уборе <input type="checkbox"/>	в сумке <input type="checkbox"/>	на груди <input type="checkbox"/>

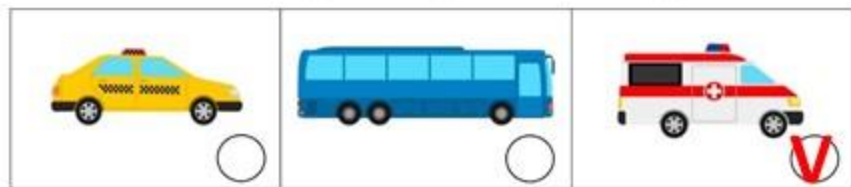
1. Кого по ПДД можно причислить к пассажирам? Отметь.



2. Какой сигнал светофора разрешает движение? Отметь.



3. Какой автомобиль может проехать на красный сигнал светофора? Отметь.



4. Как называют пассажира – безбилетника? Отметь.



5. Какой светофор нарисован правильно? Отметь.



6. Соедини изображение знака с его названием.



7. Какие цвета одежды лучше защитят тебя в темноте? Отметь.



8. Что использовали в Древней Руси для очередности проезда в опасных местах? Отметь.



9. Где сначала использовались ремни безопасности? Отметь.



10. Где всего лучше носить светоотражатели? Отметь все верные варианты.

