

Тренажёр по математике для 3 класса (Решение задач)

РАЗРАБОТЧИК: ТАТАРИНОВА ОЛЬГА СЕРГЕЕВНА,
УЧИТЕЛЬ МОУ «СШ №8 ИМ. Н. Г. ВАРЛАМОВА»
Г. ПЕТРОЗАВОДСКА

Пояснительная записка

Образовательная программа: «Школа России»

Раздел: Числа от 1 до 100. Табличное умножение и деление.

Тема: Решение задач.

Цель: систематизировать блок знаний о решении задач на разностное и кратное сравнение и сгруппировать их в обобщенные способы действий.

Инструкция: Тренажёр содержит 4 задачи. Обучающиеся решают каждую задачу по порядку и выбирают один из трёх предложенных вариантов ответов. В случае верного выбора ответа осуществляется переход на слайд с одобрением и дальнейший переход к следующей задаче. При неверном выборе ответа – переход к слайду, содержащему правило, и возможность вернуться к условию данной задачи. Таким образом, обучающиеся решают все задачи, и при необходимости, повторяют правила решения задач данного типа.

Реши задачу и выбери верный ответ: Задача 1.

Папа нашёл в лесу 30 грибов, а Миша – на 6 грибов меньше, чем папа. Сколько грибов нашёл Миша?



Верно, молодец!



[Задача 2.](#)



Неправильно...






Задачи, содержащие в условии сравнение
«на...меньше», решают с помощью действия
вычитания «-».

[Вернуться к
задаче 1.](#)

Реши задачу и выбери верный ответ:
Задача 2.

Коля нарисовал 8 самолётов и 14 автомобилей. На сколько больше автомобилей нарисовал Коля, чем самолётов?



Молодец!
Этот ответ верный.



Неверно!

Чтобы ответить на вопрос: **На сколько больше?** или **На сколько меньше?**, нужно выполнить действие **вычитание «-»**.

[Вернуться к задаче 2.](#)

Реши задачу и выбери верный ответ: Задача 3.

У Нади в коллекции 7 картинок с игрушками, а с цветами – в 3 раза больше. Сколько картинок с цветами у Нади?



Верно, молодец!



[дальш](#)

[е](#)



**Неверно,
подумай еще!**





Задачи, содержащие в
условии сравнение
«в ... раз больше»,
решают с помощью
действия **умножения** « \cdot »


**ещё
раз**

Реши задачу и выбери верный ответ:
Задача 4.

Мама испекла 24 пирожка с капустой и 6 пирожков с яблоками. Во сколько раз пирожков с яблоками меньше, чем с капустой?



Молодец!
Ты справился со всеми
заданиями!



Неверно!

Чтобы узнать, **во сколько раз** одно число больше или меньше другого, надо большее число **разделить** на меньшее.



ИСТОЧНИКИ:

- Математика. 3 класс. Учеб. для общеобразоват. организаций. В 2 ч. Ч. 1/[М. И. Моро, М. А. Бантова, Г. В. Бельтюкова и др.]. – 5-е изд. – М.: Просвещение, 2015. – 112с. : ил. – (Школа России).

- <https://yandex.ru/images/search?text>