



ПОВТОРЕНИЕ

6 класс





Тренировочный тест



Нажимаем на белый квадрат с
верным ответом:




<input type="checkbox"/>	<input type="checkbox"/>
--------------------------	--------------------------



верно

<input type="checkbox"/>	<input type="checkbox"/>
--------------------------	--------------------------

неверно

<input type="checkbox"/>	<input type="checkbox"/>
--------------------------	--------------------------






Какое из чисел делится на 9?





310104


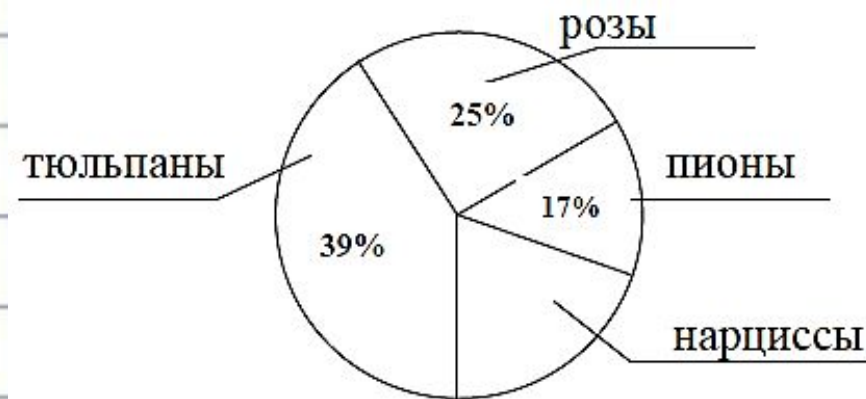
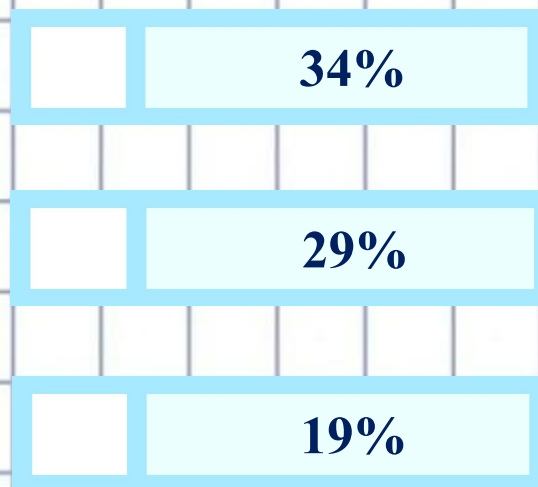
72727



90001





На круговой диаграмме показано распределение цветов, которые выращивают на садовом участке. Используя диаграмму, ответьте на вопрос: сколько процентов всех цветов садового участка составляют нарциссы?





Найдите неизвестный член пропорции


$$\frac{24}{b} = \frac{8}{45}$$




<input type="text"/>	135
----------------------	-----

<input type="text"/>	15
----------------------	----

<input type="text"/>	125
----------------------	-----






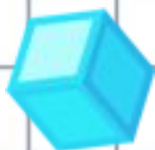
Найдите расстояние на координатной прямой
между точками $A (-4)$ и $B (8)$.




<input type="text"/>	4
----------------------	---

<input type="text"/>	12
----------------------	----

<input type="text"/>	13
----------------------	----






Чтобы сшить 4 юбки необходимо 7,2 м ткани. Сколько метров ткани потребуется для 6 таких юбок?





12,3м

9,4м

10,8м







Найдите значение выражения: $\left(-4\frac{2}{7} + 3\frac{3}{14}\right) \cdot (-14)$




15




0,15


21











Какой знак необходимо поставить вместо звёздочки, чтобы при сравнении чисел получить верное выражение:- $3,4 * - 3,1$?





Какой знак необходимо поставить вместо звёздочки, чтобы при сравнении чисел получить верное выражение: $0,35 * - 3,5$?







Какой знак необходимо поставить вместо звёздочки, чтобы при сравнении чисел получить верное выражение: $|- 2,5| * | 2,5| ?$





$<$

$=$

$>$





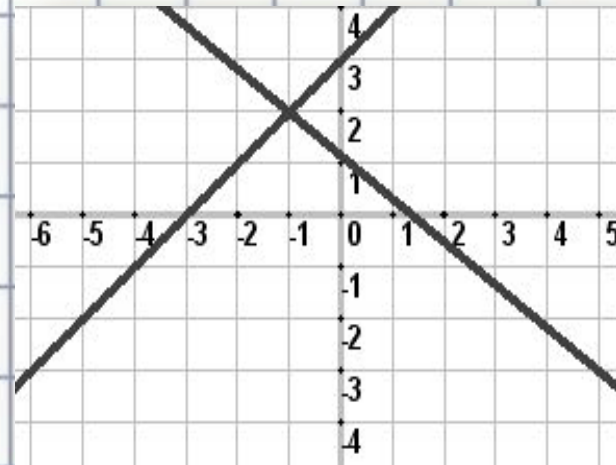
По рисунку определите координаты точки пересечения прямых.




(0;2)

(2;-1)

(-1;2)






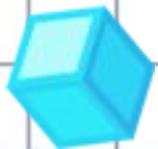
Длина окружности 9,42 м. Найдите площадь круга, ограниченного этой окружностью. Число π округлите до сотых.





7,065

7,076

7,07





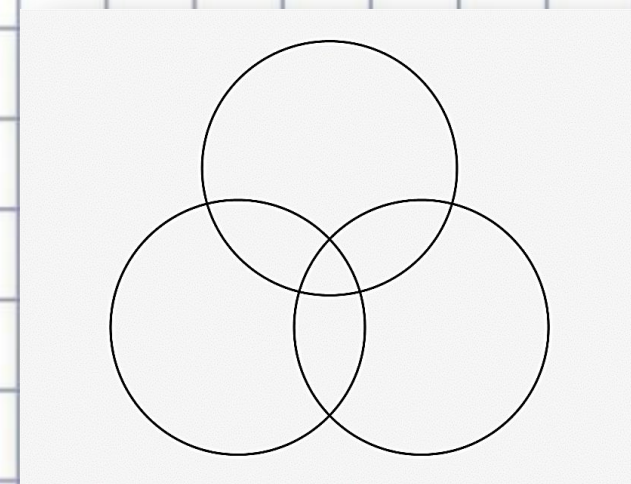
Сколько осей симметрии имеет фигура?





<input type="checkbox"/>	6
--------------------------	---

<input type="checkbox"/>	2
--------------------------	---

<input type="checkbox"/>	3
--------------------------	---





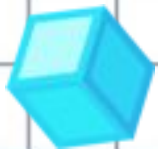

Одна сторона треугольника на 9 см меньше второй и в два раза меньше третьей. Найдите стороны треугольника, если его периметр равен 105 см.





15см, 24см, 30см

24см, 33см, 48см

20см, 29см, 40см





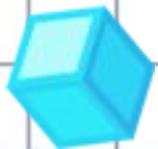
Осенью на 240 рублей можно было купить 4 кг яблок. Зимой цена яблок была повышена на 25 %. Сколько килограммов яблок можно купить зимой на эту же сумму?



3,2 кг

3 кг

3,5 кг



Молодец!

