

Казенное общеобразовательное учреждение «Мегионская школа для обучающихся с ограниченными возможностями здоровья»

Урок географии в 6 классе.

«Географическое положение России на физической карте, карте полушарий, глобусе. Столица России - Москва».

Подготовила: учитель географии
Шахова Ирина Владимировна

г. Мегион
2020 г.

Западное полушарие

Восточное полушарие





’




Я

Россия

П=К



Карта



A=O



Глобус

**Географическое положение
России на физической карте,
карте полушарий, глобусе.
Столица России – Москва.**

1



2

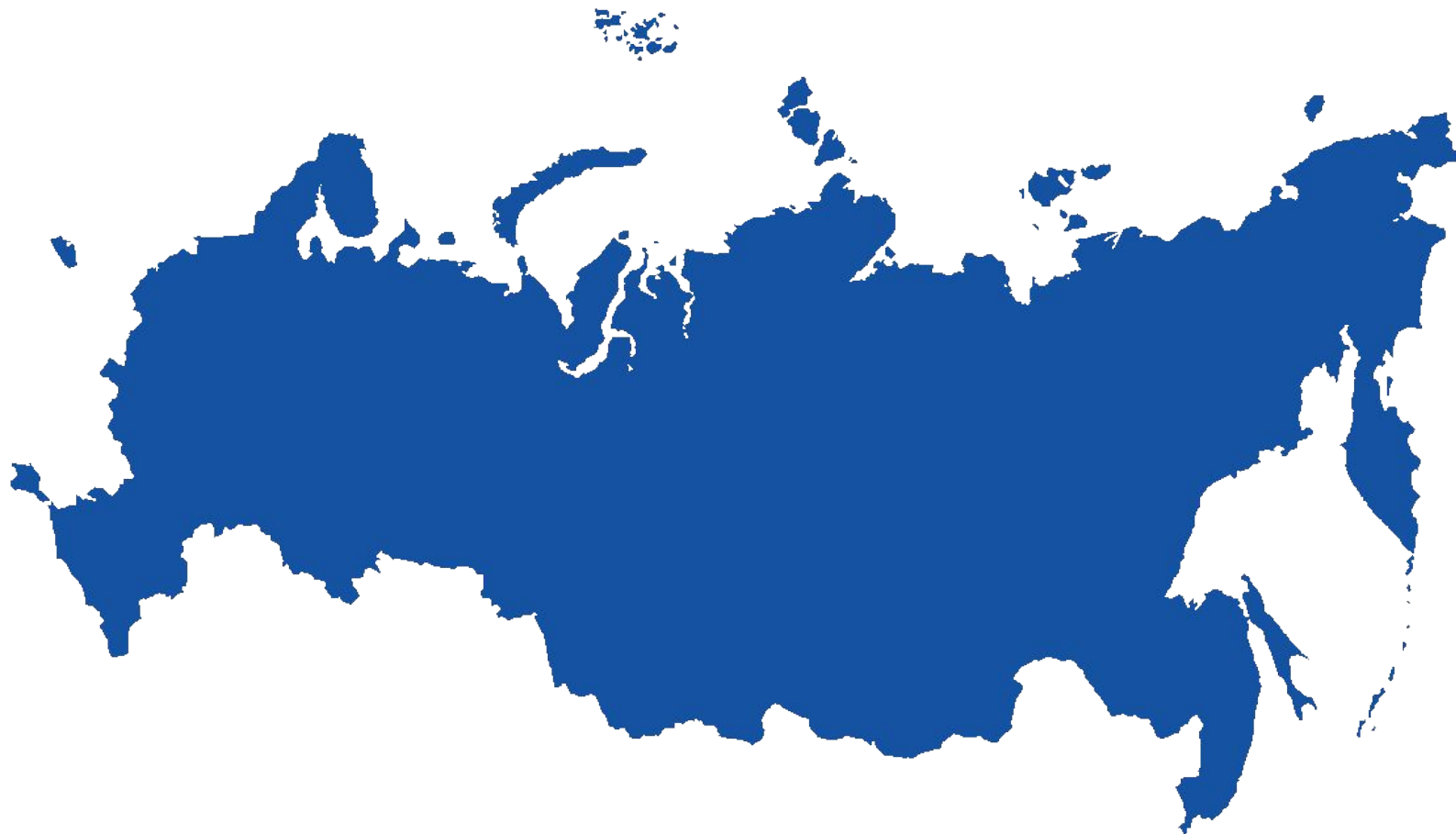


3



dreamstime

Россия



Найдите на карте полушарий Россию, покажите ее.

1. В каком полушарии находится Россия?	В восточном
2. На каком материке расположена Россия?	Евразия
3. Как она расположена по отношению к экватору?	Севернее экватора
4. Какие океаны омывают Россию?	На севере: Северный Ледовитый океан На западе: Атлантический океан На востоке: Тихий океан
5. В каких частях света расположена Россия?	
6. В каких поясах освещенности находится Россия?	Северный полярный Умеренный

Словарная работа

Тундра



Масштаб 1:8 000 000

Р О С С И Я

Европейская

Азиатская

Сибирь

Дальний Восток

Legend and scale bar of the map. The legend includes symbols for cities, towns, and villages, as well as symbols for roads, rivers, and lakes. The scale bar shows distances in kilometers and miles.



Москва России

сердце


Москва - сердце России

Москва – это Красная площадь.

Москва – это башни Кремля.

Москва – это сердце России,

Которое любит тебя.



Европейская		Азиатская	
		Урал	Сибирь
			Дальний Восток

Россия расположена на материке **Евразия** .

Наша страна расположена в двух частях света:

Европе и **Азии**

В Европе находится **Европейская** часть России, а в Азии - **Азиатская** часть.

Европейская часть России расположена на **Восточно-европейской** равнине,

Азия включает в себя **Сибирь и Дальний восток** .

Столица России – город **Москва** .

Москва расположена в **Европейской** части России.

Домашнее задание

По учебнику стр.132-135 –рассмотреть карты.
Стр.137 вопросы 1-3, дополнительное задание
Л. Р, К.М., Г. С. вопросы 6-7.

**СПАСИБО
ЗА РАБОТУ НА УРОКЕ**

