

# Сложение и вычитание вида: $35-5, 35-30, 30+5$

Учитель начальных классов  
Росс Ирина Борисовна



## Математический диктант

1. Запиши число, которое на 6 меньше, чем число 20.
2. Сколько получится, если число 50 увеличить на 2 десятка?
3. Найди разность чисел 16 и 8.
4. Число 30 увеличь на 60.
5. Найди сумму чисел 8 и 9.
6. Уменьшаемое - 19, разность – 8. Чему равно вычитаемое?
7. Число 14 уменьши на 8.
8. Вырази в сантиметрах 1 дм 6 см.
9. Мама испекла 20 пирожков с вишней и столько же с голубикой. Сколько всего пирожков испекла мама?
10. На двух тарелках лежало 14 яблок. На одной из них было 8 яблок. Сколько яблок на второй тарелке?

## РАЗМИНКА

Сумма двух чисел равна 25, и одно из них больше другого на 3. Какие это числа?


$$? + (? + 3) = 25$$

$$11 + 14 = 25$$

## РАЗМИНКА


Иван – сын Алексея, Алексей – сын Михаила.  
Кем приходится Иван Михаилу, а Михаил  
Ивану?

Иван - внук Михаилу,  
Михаил – дедушка Ивану.



## РАЗМИНКА

Денис родился на 3 года позже, чем Стёпа.  
Сколько лет было Стёпе, когда Денису  
было 6 лет?



Стёпе было 9 лет.

# Работа в тетради

22 сентября.

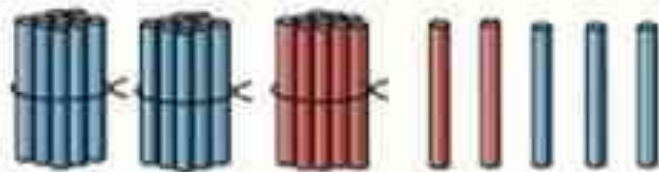
Классная работа.

6 6 6 6 6 6 6 6 6 6 6 6



## Работа в учебнике стр.14

Будем учиться составлять числа из десятков и единиц и называть состав данных чисел.



$$30 + 5 = 35$$

$$35 - 5 = 30$$

$$35 - 30 = 5$$

$$10 + 2 = 12$$

$$\square - \square = \square$$

$$\square - \square = \square$$

$$3 + 20 = \square$$

$$\square - \square = \square$$

$$\square - \square = \square$$

Посчитайте палочки с назовите число, которым можно записать количество палочек?

$$35 = 30 + 5$$

## Работа в тетради

22 сентября.

Классная работа.

6 6 6 6 6 6 6 6 6 6 6 6

$$30 + 5 = 35$$

|

$$35 - 5 = 30$$

$$35 - 30 = 5$$

Аналогично записываем  $10+2=$ ,  $3+20=$



Работа в учебнике стр.14, № 2

Работа в учебнике стр.14, № 4



# Источники

<https://nsportal.ru/nachalnaya-shkola>

[https://aldebaran.ru/author/v\\_uzorova\\_o/](https://aldebaran.ru/author/v_uzorova_o/)