



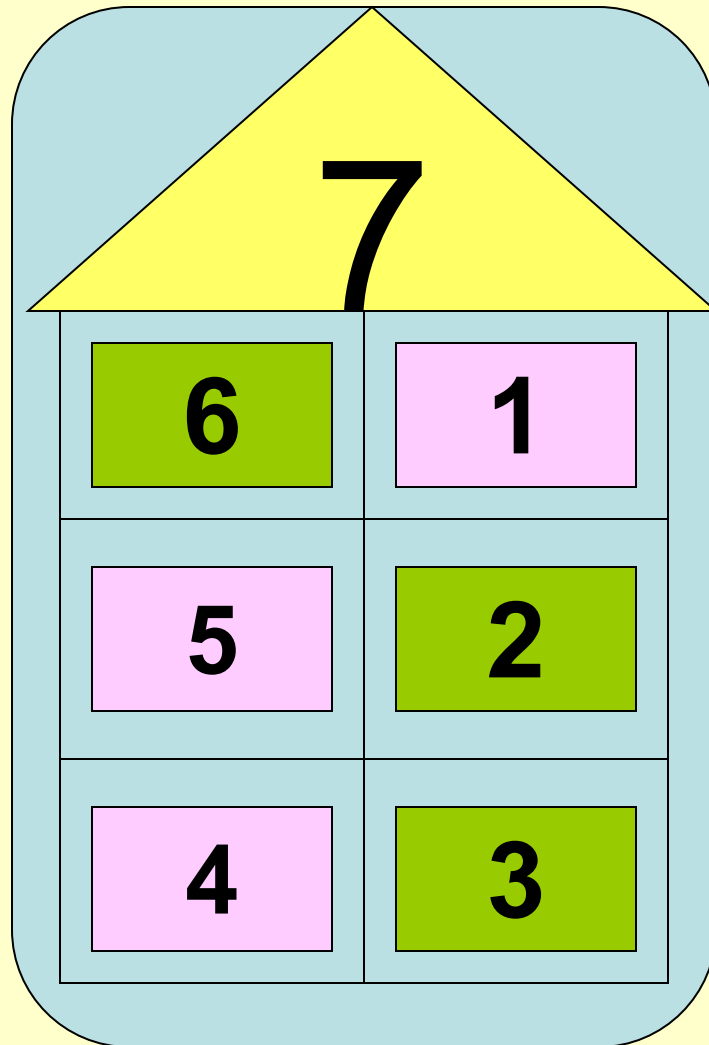
Математика

ДЛЯ 1 КЛАССА



**Чего бы ты пожелал
СВОИМ
одноклассникам в
новой четверти?**

Найди цифрам соседа



Вспомним счёт в пределах 10

6 Н о я б р я

$7 - 5 = 2$

$9 - 3 = 6$

$6 + 4 = 10$

$2 + 4 = 6$

$10 - 7 = 3$



Сосчитай, сколько предметов на тарелках?



А КАКОЙ ЦИФРОЙ МЫ МОЖЕМ ПОКАЗАТЬ ОТСУТСТВИЕ ПРЕДМЕТОВ?




Тема урока: ЧИСЛО 0



У Ноля, как у кольца,
Нет начала и конца.
Эта цифра, как король,
Без придворных – круглый ноль.
Будет слева единица –
Ноль в десятку превратится.



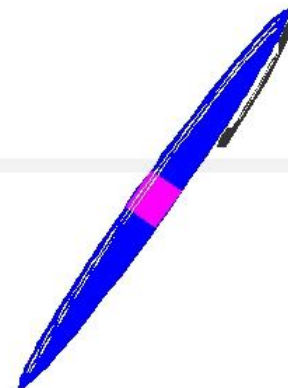
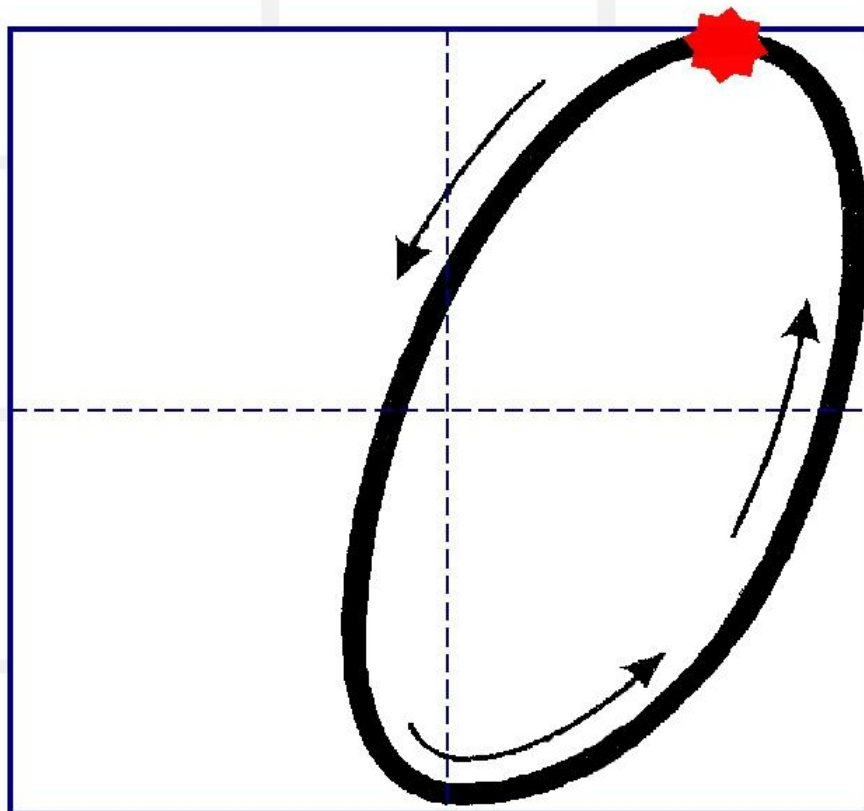
Подумай, на что похож **0** ?



В числовом ряду ноль стоит всегда впереди всех чисел



Пишем цифру 0



ФИЗКУЛЬТМИНУТКА!



**Раз — мы встали,
распрямылись.
Два — согнулись, наклонились.
Три — руками три хлопка.
А четыре — под бока.
Пять — руками помахать.
Шесть — на место сесть опять.**

Посчитай!

Перед обедом



После обеда



Выполни
запись:

7

-

7

=



0

Если из числа вычесть то же
число,
то всегда получится **0**



$$\begin{array}{ccccccccc} \boxed{3} & & \boxed{-} & & \boxed{3} & & \boxed{=} & & \boxed{0} \\ \boxed{10} & & \boxed{-} & & \boxed{10} & & \boxed{=} & & \boxed{0} \end{array}$$





Выполни задания из учебника, стр. 70


$$\begin{array}{r} 3 - 3 = 0 \\ 5 - 5 = 0 \\ 8 - 8 = 0 \end{array}$$


$$5 - 5 = 0$$

Выполни задания из учебника, стр. 70

Расскажи, что было, что изменилось.

			
3	$3 - 1 = 2$	$2 - 1 = 1$	$1 - 1 = 0$
	2 ○ 3	1 ○ 2	0 ○ 1






Работа в рабочей тетради, стр. 26




САМООЦЕНКА



Я ВСЁ ПОНЯЛ!



**Я ПОНЯЛ,
НО ОСТАЛИСЬ ВОПРОСЫ!**



НИЧЕГО НЕ ПОНЯЛ!