



5



7



3



Порядок выполнения действий. Скобки.

2 класс

(презентация)

Учитель начальных классов

Росс Ирина Борисовна

Путешествие в сказку «Гуси-лебеди»



5



7



3





5



7



3



Отец с матерью ушли на работу, а дочке наказывали, чтобы она берегла своего брата. Но девочка заигралась и не заметила, как гуси-лебеди схватили братца и унесли. Девочка бросилась выручать братца из беды. Давайте и мы поможем девочке.



РАЗМИНКА

- Печка, печка, скажи, куда гуси-лебеди полетели?

Печка испекла 3 пирожка с капустой, 4 пирожка с картошкой, а ржаных пирожков столько, сколько пирожков с капустой и картошкой вместе. Сколько всего пирожков испекла печка?

$$3 + 4 + (3 + 4) = 14 \text{ (п.)}$$



РАЗМИНКА

- Яблоня, яблоня, скажи, куда гуси-лебеди полетели?

На яблоне росло 10 груш, две груши сорвала девочка, одну грушу она съела сама, а другую взяла с собой для брата. Сколько осталось груш на дереве????

Нисколько, так как на яблоне груши не растут.




УСТНЫЙ СЧЕТ

- Молочная река, кисельные берега,
скажи, куда гуси-лебеди полетели?

Назови числа: 3 дес. 9 ед.; 5 дес. 0 ед.;
0 дес. 7 ед. **39, 50, 7**

Установи закономерность, назови
следующие числа: 13, 23, 33, .. **43, 53, 63**



Чему равно значение, если первое слагаемое
70, второе 6? **76**

Сколько минут в 1 часе? **60 минут**

Из какого числа нужно вычесть 30, чтобы
получить 50? **80**

В одной посуде 2 литра сиропа, во второй – 8
литров. Сколько всего литров сиропа? **10**



ЗАДАЧА

Найди длину пути, который прошла девочка в поисках братца.




6 м



14 м

$$6 + 14 + 7 = 27 \text{ м}$$



7 м





Девочка взяла братца и побежала домой.. А гуси — лебеди на ними в погоню.



-Речка, матушка, спрячь меня!

ОПРЕДЕЛИ ВРЕМЯ

Ответь на вопрос: «Который час?»,
тогда спрячу.



11 часов 55 минут

- Яблоня, матушка, спрячь меня!

ЗАДАЧА

Реши задачу, тогда спрячу.

На тарелке лежало 10 лесных яблок.
Девочка взяла 6 яблок, а братец только
3 яблока. Сколько яблок осталось на
тарелке?



выражение:

$$10 - (6 + 3) = 1 \text{ (яб.)}$$

Лежало – 10 яб.

Взяли – 6 яб. и 3 яб.

Осталось – ? яб.

**Если в выражении есть скобки,
то 1 действие выполняется в
скобках**

1) $6 + 3 = 9$ (яб.) - взяли дети


2) $10 - 9 = 1$ (яб.)

- Печка, матушка, спрячь меня!

ВЫЧИСЛИ

Реши выражения, тогда спрячу.

$$6 + (3 + 1) = \quad 8 - (2 + 3) =$$
$$(6 + 3) + 1 = \quad (8 - 2) + 3 =$$





5



7



3



**На этом наше путешествие
закончилось.
До новых встреч!**





ИСТОЧНИКИ

http://alekva.by/d/1162_gusi-lebedi.jpg

<https://i.ytimg.com/vi/2LPDvgb2qUI/maxresdefault.jpg>

<https://cdn2.static1-sima-land.com/items/3221924/2/700-nw.jpg>

<https://ds05.infourok.ru/uploads/ex/072d/00085814-0fd6fdb9/img6.jpg>

https://moi-tvoi.ru/upload/iblock/photos164/product_163995_0.jpg

<https://www.culture.ru/storage/images/2253383b406f09f19a347cf9b3786154/daad0a3628181c33238e003d5d8f840f.jpeg>

<https://cdn.fishki.net/upload/post/2020/02/09/3225662/5-12.jpg>

5



7



3

