

Решение и составление задач, обратных данной 2 класс



Учитель начальных классов
Росс Ирина Борисовна

разминка

Индюк весит 12 кг. Сколько он будет весить, если встанет на одну ногу?



12 кг

разминка

Клетка у кроликов была закрыта, но в нижнее отверстие видно было 24 ноги, в верхнее – 12 кроличьих ушей. Так сколько же было в клетке кроликов?



6 кроликов




разминка

Один ослик нес 12 кг муки, в мешке не более его головы, а другой – 12 кг хлопка, из-за которого не видно было ослика. У кого поклажа тяжелее?

ОДИНАКОВАЯ



«Посчитай»



«Заполни»

$$1 \text{ м} = \boxed{} \text{ дм}$$

$$1 \text{ дм} = \boxed{} \text{ см}$$

$$1 \text{ м} = \boxed{} \text{ см}$$

$$1 \text{ дм} = \boxed{} \text{ мм}$$


$$1 \text{ дм } 2 \text{ см} = \boxed{} \text{ см}$$

$$4 \text{ см } 5 \text{ мм} = \boxed{} \text{ мм}$$

$$1 \text{ см} = \boxed{} \text{ мм}$$

$$10 \text{ мм} = \boxed{} \text{ см}$$

$$4 \text{ м} = \boxed{} \text{ дм}$$



Вера купила блокнот за 6 р. И карандаш за 4 р. Сколько всего рублей стоили блокнот и карандаш вместе?

Блокнот - 6р. }
Карандаш - 4 р. } ?

$6 + 4 = 10$ (р.) стоили блокнот и карандаш

На 10 р. Вера купила блокнот и карандаш. Блокнот стоит 6 р. Сколько стоит карандаш?

Блокнот - 6р. }
Карандаш - ? } 10

$10 - 6 = 4$ (р.) стоит карандаш

На 10 р. Вера купила блокнот и карандаш. Карандаш стоит 4 р. Сколько стоит блокнот?

Блокнот - ? }
Карандаш - 4 р. } 10

$10 - 4 = 6$ (р.) стоит блокнот




Задачи, в которых объект (число)
и результат меняются местами
(известное становится
неизвестным, а неизвестное
известным), называются
обратными первой.




Работа с учебником стр.26 задача 2





С кем бы вы хотели дружить?



<https://img2.freepng.ru/20180225/hce/kisspng-farm-puzzle-clip-art-hand-painted-abstract-peacock-pattern-5a92a0128d8257.7087264815195586745796.jpg>

<https://stroypomochnik.ru/wp-content/uploads/2019/09/kak-razvodit-krolikov1-1024x683.jpg>

https://avatars.mds.yandex.net/get-zen_doc/1546191/pub_5d78a91be882c300b33ae836_5d78aac004af1f00adb077ea/scale_1200

<http://900igr.net/up/datai/191240/0010-001-.png>

