



**Время. Единицы времени:
час, минута.**

Соотношение $1\text{ч}=60\text{мин.}$

2 класс

(презентация)

Учитель начальных классов

Росс Ирина Борисовна



РАЗМИНКА

Сумма трёх чисел равна 8. Сумма первого и второго чисел равна 6, а сумма первого и третьего - 2. Найди эти числа.

$$\begin{array}{r} \text{Ш} - ? \\ \text{I} - ? \\ \text{II} - ? \end{array} \left. \begin{array}{l} \left. \begin{array}{l} \left. \begin{array}{l} \left. \begin{array}{l} \left. \left. \right. \right. \end{array} \right. \right. \end{array} \right\} 2 \\ \left. \begin{array}{l} \left. \begin{array}{l} \left. \left. \left. \left. \right. \right. \end{array} \right. \right. \end{array} \right\} 6 \\ \left. \begin{array}{l} \left. \begin{array}{l} \left. \left. \left. \left. \right. \right. \end{array} \right. \right. \end{array} \right\} 8 \end{array} \right.$$

$$8 - 6 = 2 - \text{число Ш}$$

$$8 - 2 = 6 - \text{число II}$$

Ответ: 0 – первое число, 6 – второе число, 2 – третье число.



РАЗМИНКА

Через каждые 2 метра вкопали столбы, на них натянули проволоку. Сколько метров проволоки понадобилось, если столбов было 6?




10 метров проволоки понадобилось

ПУТЕШЕСТВИЕ В СКАЗКУ Ш.ПЕРРО «ЗОЛУШКА»




Помоги Золушке
расставить чугушки в
шкафу на полках.



Мачеха велела
Золушке
погладить
вечерние платья.



1 см =мм



Мачеха, уходя на бал с дочерьми, велела Золушке перебрать 20 кг крупы. Золушка, до появления Феи, успела перебрать только 15 кг. Сколько кг крупы останется перебрать Золушке?






После того, как часы пробьют двенадцать, карета снова станет тыквой, лошади оборотятся мышами, а кучер — толстой крысой. Наряд же твой снова превратится в старое платье.

**Вместе с Золушкой
научимся определять
время по часам.**





Маленькая стрелка часов — **часовая**. Она двигается от одной цифры до другой. От одной большой черточки до другой большой черточки.

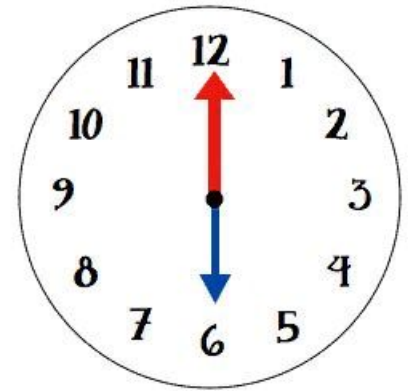
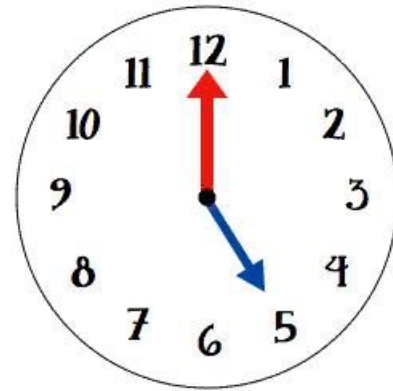
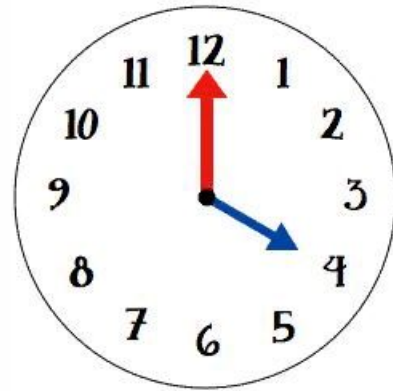
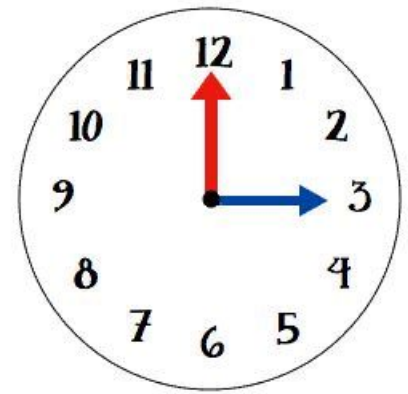
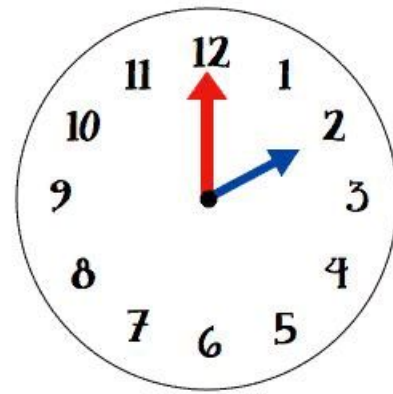
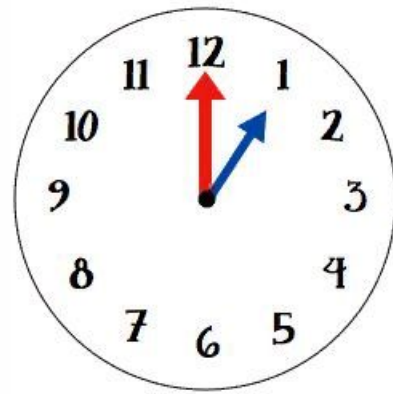


Большая стрелка — минутная. Она проходит от одной маленькой черточки до другой маленькой черточки. Таких черточек на циферблате 60.



Расстояние от одной маленькой черточки до другой маленькой черточки называют **минутой**.
Весь круг, который она проходит, - это **час**.

1 час = 60 мин



Помоги Золушке
определить время на часах.



10 ч 15 мин



7 ч 10 мин



11 ч 20 мин



4 ч 30 мин





<https://c7.hotpng.com/preview/908/817/190/closet-armoires-wardrobes-computer-icons-wardrobe.jpg>

https://mir-s3-cdn-cf.behance.net/project_modules/disp/c961de5457003.56022daf8682c.png

<https://listok-perm.ru/image/cache/data/product/85544-800x800.jpg>

<https://us.123rf.com/450wm/madozi/madozi1410/madozi141000051/32846883-clay-pot-isolated-illustration-on-white-background.jpg?ver=6>

<https://i.pinimg.com/originals/64/f1/fa/64f1faecc85fd5696729fe6a74c7265b.jpg>

<https://avatars.mds.yandex.net/get-pdb/2126974/b583ae48-d8cb-4d85-ae6-7253e6a50f34/s1200?webp=false>

https://png.pngtree.com/element_our/md/20180517/md_d6d147cf56d409d7044abbbb7d384b03.jpg

<https://ds04.infourok.ru/uploads/ex/01f9/000c2370-bbafb5e3/img1.jpg>

<https://ds04.infourok.ru/uploads/ex/0781/000c01e8-21d5141d/1/img9.jpg>

https://steshka.ru/wp-content/uploads/2015/06/teaching_time_2.jpg

<https://fs03.metod-kopilka.ru/images/doc/54/49631/img6.jpg>

<https://livestock-id.ru/upload/catalog/items/photo1449667296.jpg>