

УСТЬИНСКИЙ ФИЛИАЛ МБОУ УСТЬИНСКАЯ СОШ
МОРШАНСКИЙ РАЙОН ТАМБОВСКАЯ ОБЛАСТЬ

Обобщение по теме: «Географическая карта»

Урок в 6 классе

учитель географии:
Нестерова Галина
Алексеевна
2016 г





**«Карта – это альфа и
омега географии,
начальный и
конечный момент
географического
исследования»**

Н.Н. Баранский



Цель урока:

- Повторить изученный материал (термины, понятия).
- Систематизировать знания, полученные обучающимися при изучении данной темы.
- Проверить умение использовать полученные знания на практике.
- Воспитывать интерес к предмету



© САЮРИ





Задание 2.

1. Три самолета одновременно с одинаковой скоростью вылетели от нулевого меридиана:

- а) по экватору;**
- б) по 30-й параллели;**
- в) по 60-й параллели.**

**У какого самолета кругосветное путешествие будет короче?
Почему?**




2. В каком направлении двигалась группа туристов, если в полдень тень от них была направлена в сторону движения?



**3. Где на Земном шаре можно
построить дом, все окна
которого смотрят на юг?**

**4. Где находится точка, широта и
долгота которой 0° ?**



5. По карте полушарий определите приблизительно кратчайшее расстояние (в километрах) между материками:

а) Африкой и Антарктидой

б) Протяженность Австралии с З на В по 20 параллели.



Maria



Физминутка

От зеленого причала оттолкнулся пароход

➤ *встать*

Он шагнул назад вперед

➤ *шаг назад*

А потом шагнул вперед

➤ *шаг вперед*

И поплыл, поплыл по речке

➤ *движения руками*

Набирая полный ход

➤ *ходьба на месте*



PPt4WEB.ru



«Бутылочная почта»

а) «Нас забросило на остров с координатами 19° ю. ш. и 47° в.д. здесь водятся самые маленькие обезьяны, длина тела которых составляет всего 12см. Найдите нас»




б) «Центр острова находится на 40° ю.ш и 178° в.д. Красота острова поражает путешественников. Папоротники, среди которых бродили динозавры и возраст которых составляет 100 млн лет, находятся на этом острове и по сей день. Встречаются папоротники высотой с пятиэтажный дом . Помогите...»



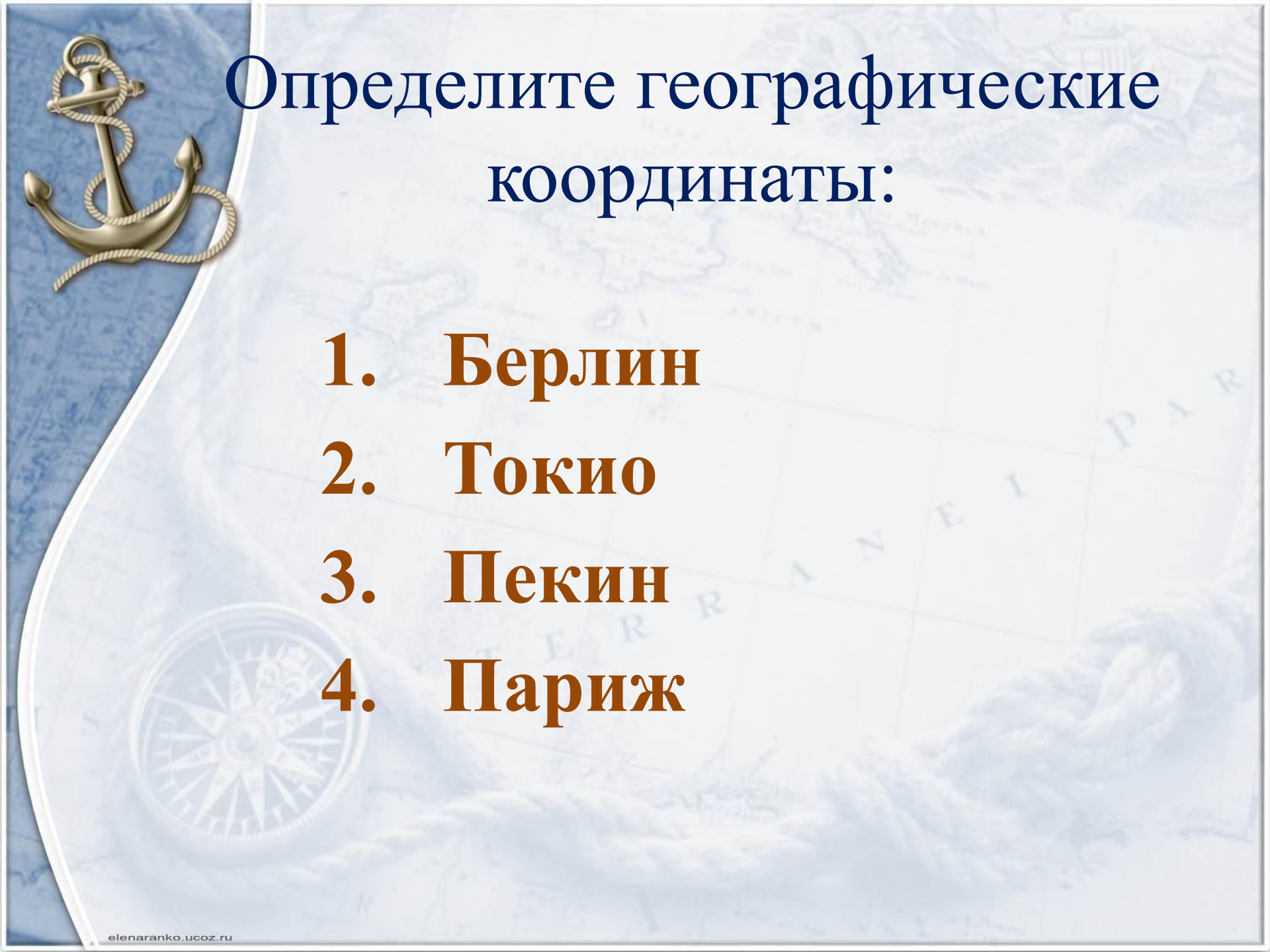
Задание 4.

Определите названия гор, одна из точек которых имеет координаты:

1. 15° ю.ш. и 70° з.д.
2. 40° с.ш. и 110° з.д.
3. 43° с.ш. и 80° в.д.
4. 30° с.ш. и 80° в.д.



Определите географические координаты:

- 1. Берлин**
 - 2. Токио**
 - 3. Пекин**
 - 4. Париж**
- 



Задание 5.

Определите название географического объекта (острова), координаты которого равны:

1. 20° ю.ш. и 46° в.д.
2. 42° ю.ш. и 147° в.д.
3. 70° с.ш. и 40° з.д.
4. 35° с.ш. и 136° в.д.

Самостоятельная работа:

1 вариант

2 вариант

1. По физической карте России определите координаты:

1) г. Омск

1) г. Новосибирск

2. На физической карте полушарий найти объекты:

а) 15° с.ш; 70° з.д.

а) 55° с.ш 180° в.д.

3. Определите относительную высоту:

Амазонской низменности

Пустыни Гоби.



Проверь и оцени себя.

I вариант

г. Омск

55°с.ш. 73°в.д.

II вариант

г. Новосибирск

55°с.ш. 82°в.д.

2. Найти объекты:

а) Карибское море

а) Берингово море

3. Определите абсолютную высоту:

0—200 м

500-2000 м

Оценка учителя.

**Попытайтесь объективно
оценить свою работу и
поставь себе оценку сам.**

Я ставлю себе _____





Продолжи предложения:

- **Сегодня я узнал...**
- **Было интересно...**
- **Было трудно...**
- **Я выполнял задания...**
- **Я понял, что...**

д/з

**Ответить на вопросы в конце
темы «Географическая карта»**



**Урока время истекло.
Я вам, ребята, благодарна
За то, что встретили тепло
и поработали ударно**

**До встречи в следующей
экспедиции!**



Интернет - ресурсы

◆ **Карта:**

<http://sf.co.ua/13/03/wallpaper-2658683.jpg>

◆ **Подзорная труба, карта:**

http://img-fotki.yandex.ru/get/9321/206363740.48e/0_d6f30_f56c487a_orig

◆ **Якорь:**

http://img-fotki.yandex.ru/get/9323/206363740.48d/0_d6f26_6412ec2d_orig

◆ **Компас:**

http://img-fotki.yandex.ru/get/6712/206363740.48e/0_d6f3f_1917cfc9_orig

◆ **Корабль:**

http://img-fotki.yandex.ru/get/6414/23869276.c1/0_97907_48aa1ae6_orig