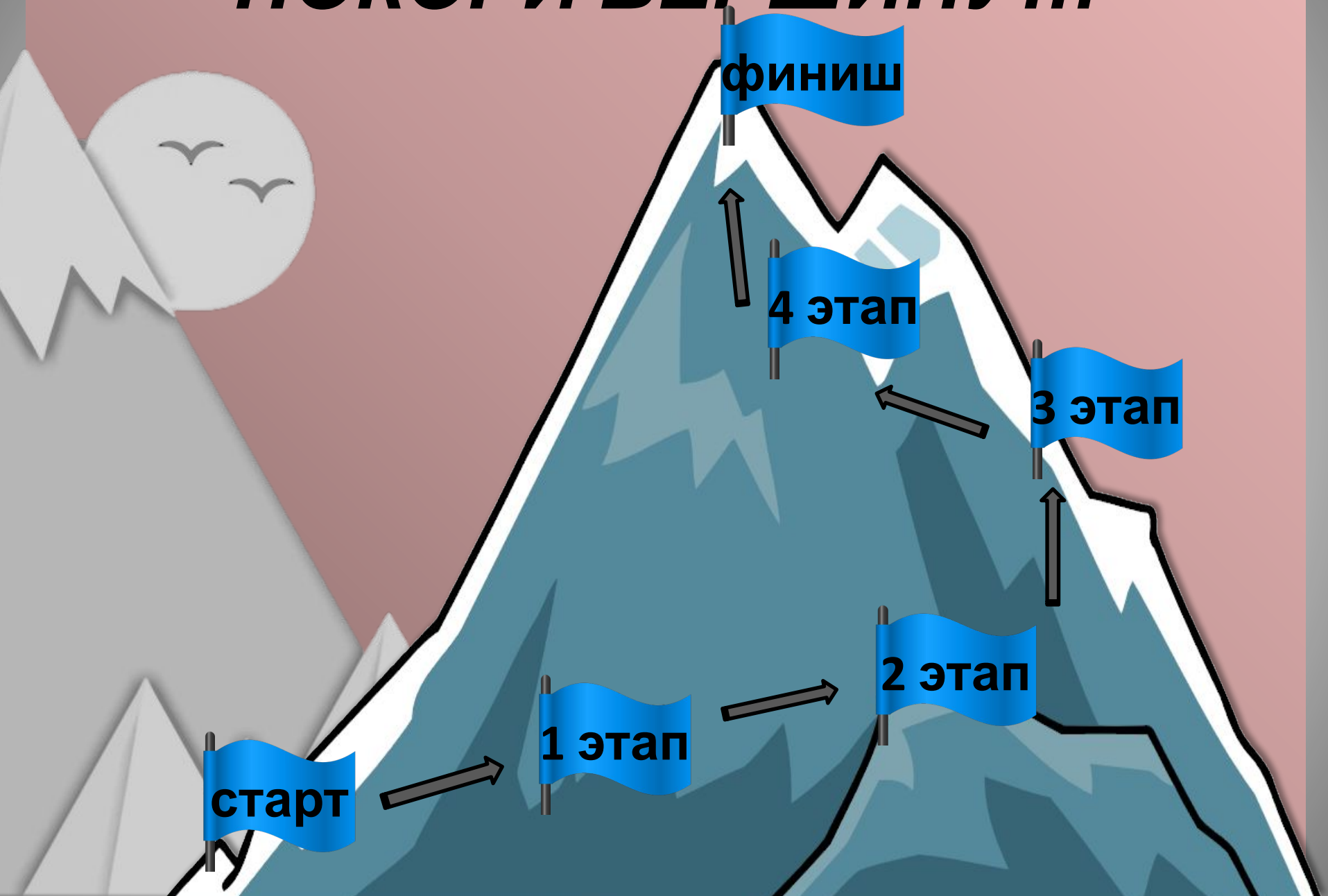




«ПОКОРИ ВЕРШИНУ»

Черепанцева Людмила Юрьевна
Учитель начальных классов
МБОУ «СОШ № 11»
Г. Северодвинск
Архангельской области

ПОКОРИ ВЕРШИНУ...



Соедини правильно

У Вари 6 конфет, у
Маши в 2 раза
меньше.

Папа собрал 12
грибов, а мама на 2
гриба меньше.

Петя прочитал 9
страниц, а Вова в 2
раза больше.

У Ани 3 куклы, а у
Светы на 2 куклы
больше.

•

:

+

-



Собираемся в горы



Величина, показывающая, сколько места
фигура занимает на поверхности



--	--	--	--	--	--	--	--



Назови фигуры


1



5




2



3



4

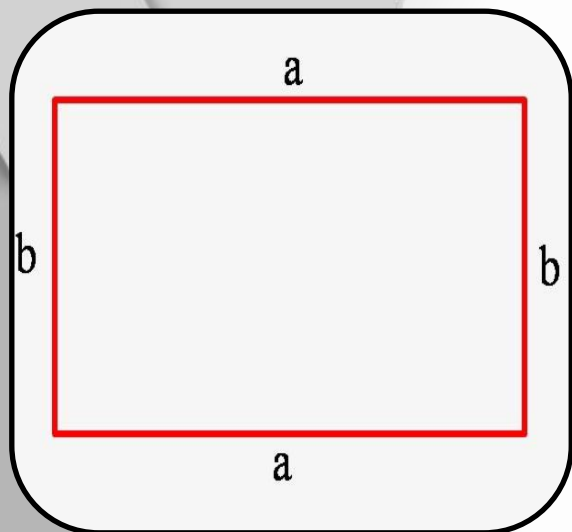


КВАДРАТ



Площадь прямоугольника

$$a \cdot b = S$$



3 МЕТРА

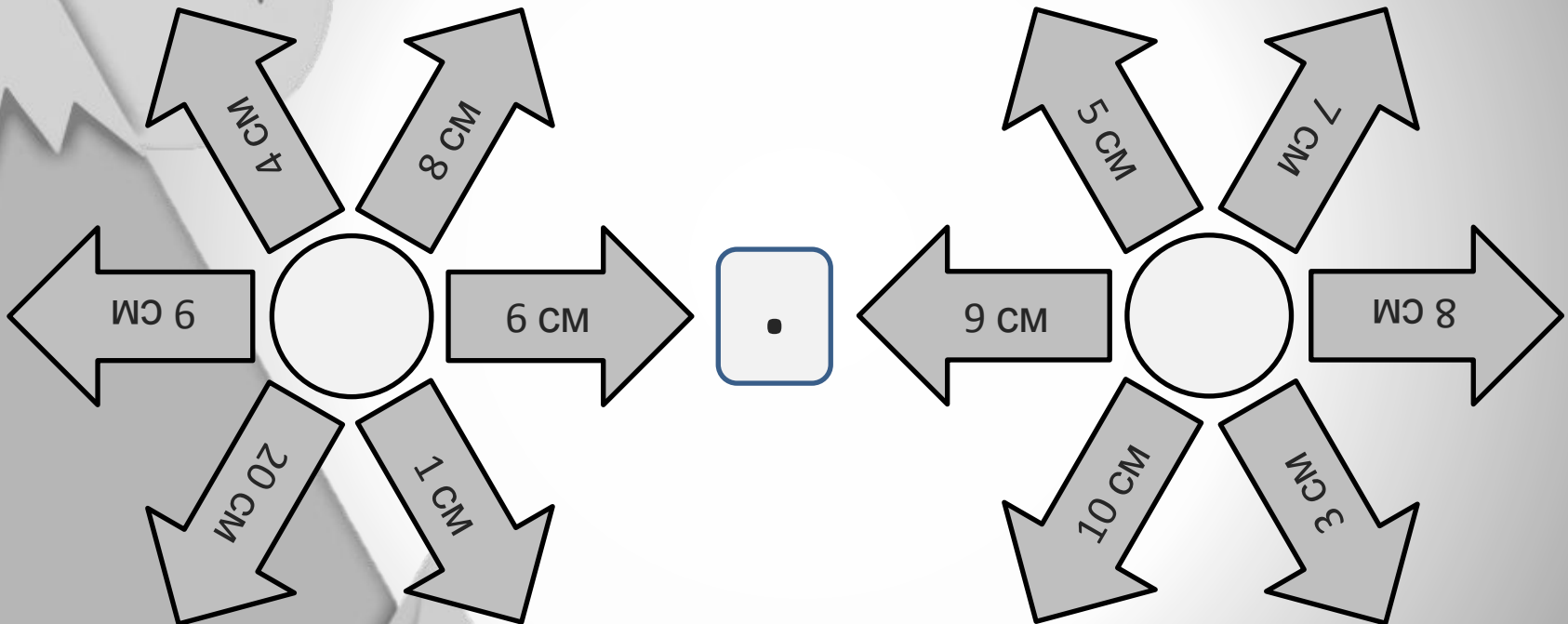
2 МЕТРА

?

Найди площадь палатки.



Найди площадь прямоугольника



Единица измерения площади –
квадратный сантиметр




Составь обратную задачу

$27:9$ $32:8$ $9:3$

$42:6$ $8:4$ $28:7$

$7:1$ $6:6$ $35:5$

A stylized, minimalist illustration of a mountain range in shades of gray. In the upper left, a circular sun or moon contains two simple bird silhouettes. The mountains are represented by jagged, layered shapes, creating a sense of depth and scale.

*Подниматься на вершину
было...*

легко

иногда

*трудно
тяжел*

о