

Ответы на тест.

1 Вариант

1-Б;
2-Г;
3-Б;
4-А;
5-В;
6-В;
7-В.

2 Вариант.

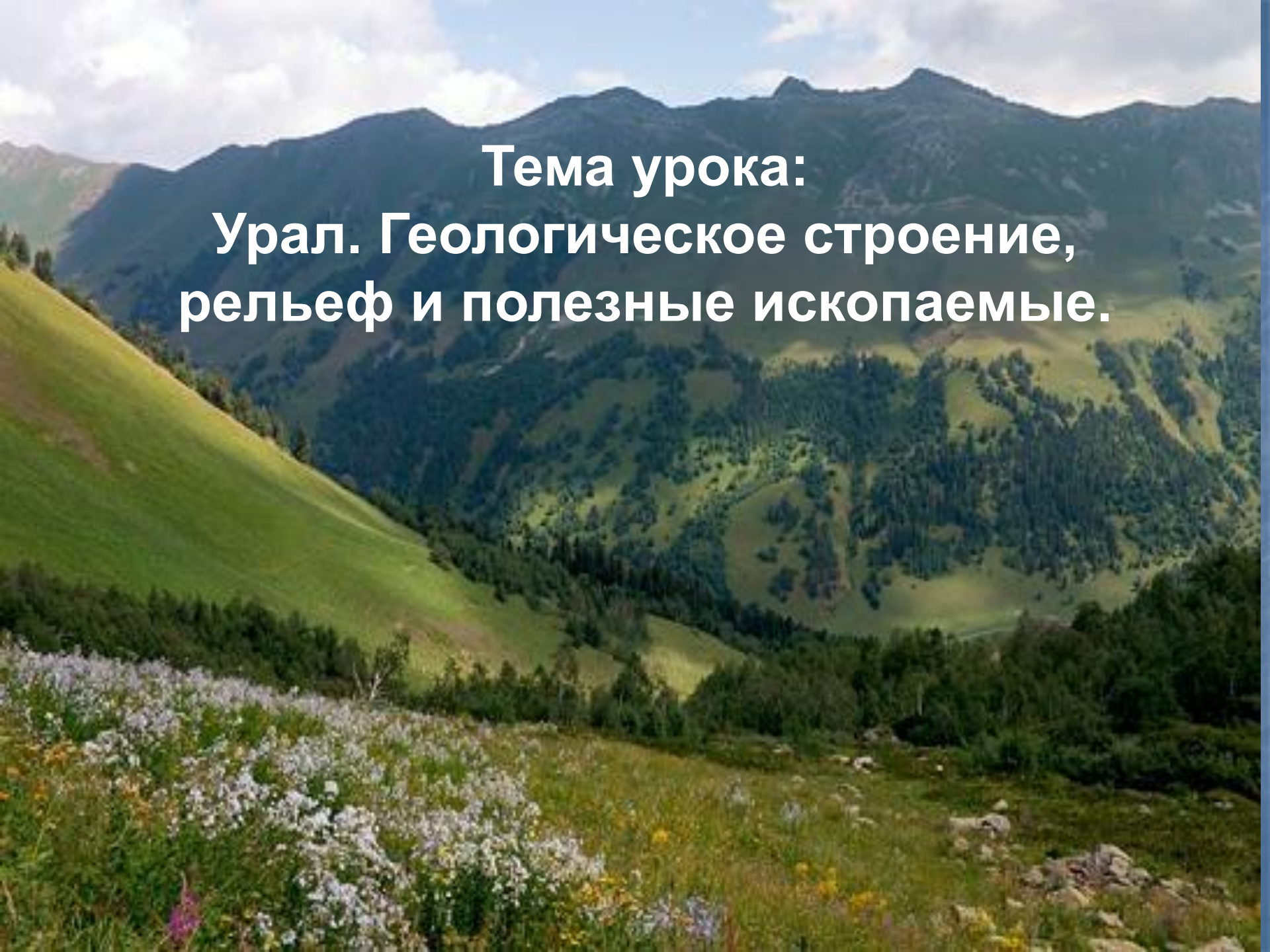
1-А;
2-Г;
3-В;
4-Б;
5-А;
6-Б;
7-Б.

Критерий оценивания.

1-2 ошибки- 4;

3-ошибки -3;

4 и более ошибок -2.



**Тема урока:
Урал. Геологическое строение,
рельеф и полезные ископаемые.**

Урал- граница между Европой и Азией



- в античные времена — «Рифейские горы»;
- в XVII веке «Камень», «Каменный пояс»;
- и только в XVIII появилось название «Урал»



Гора Народная



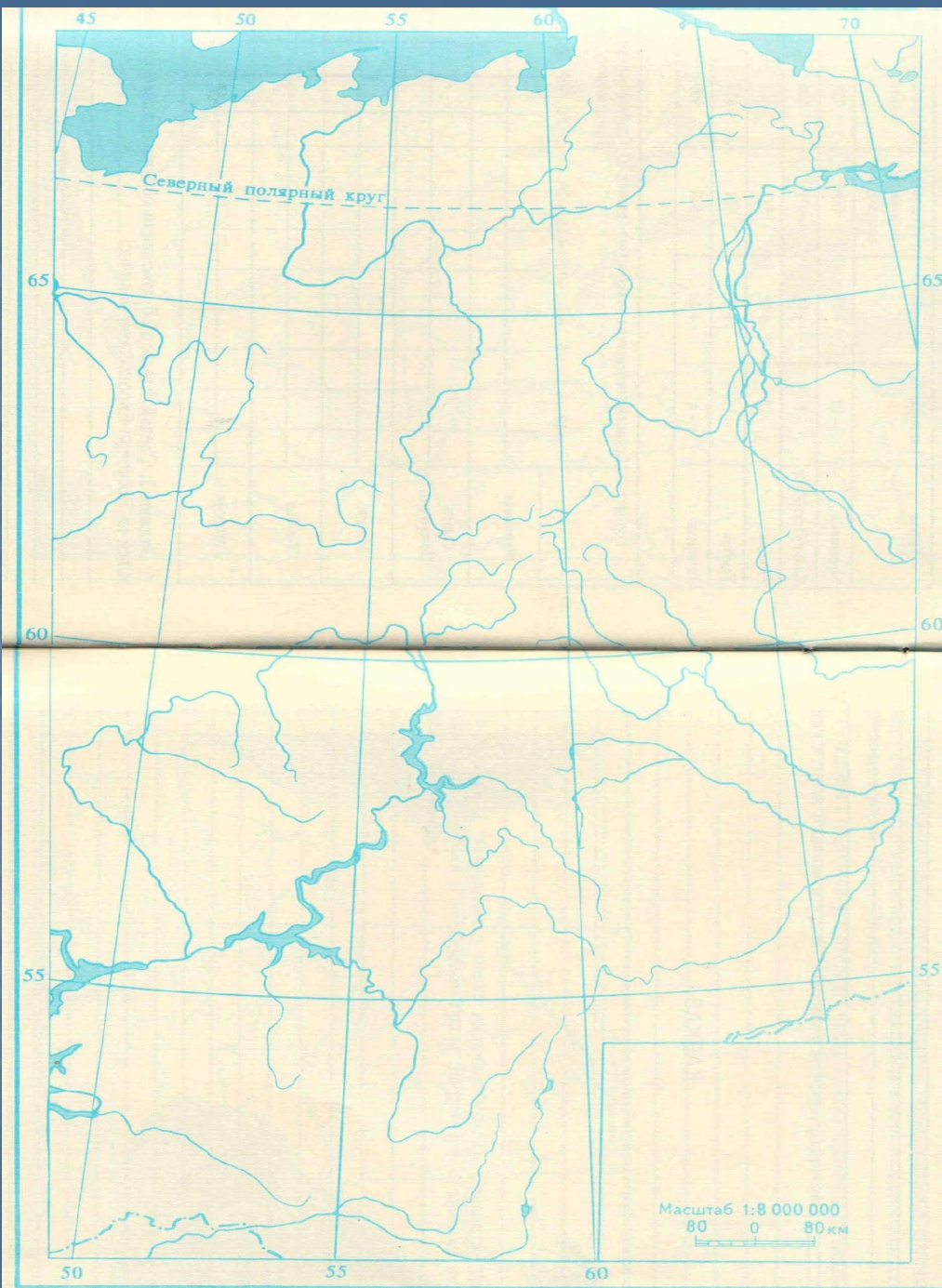




СХЕМА РЕЛЬЕФА УРАЛА

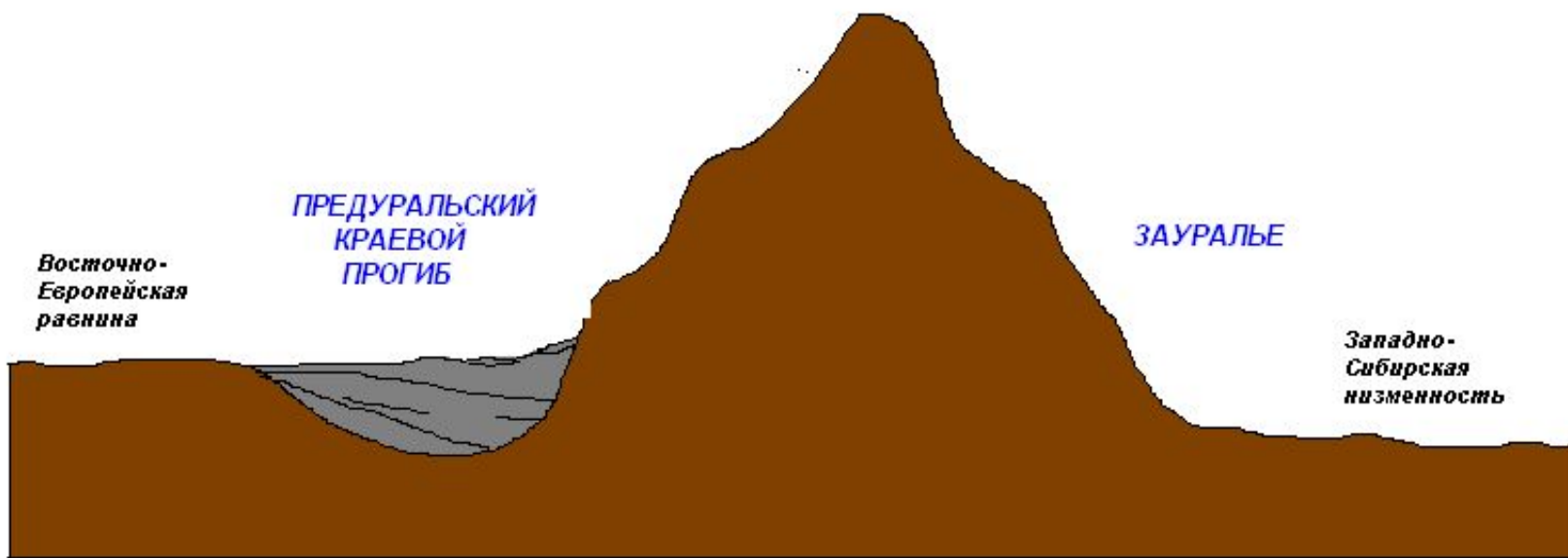
ВОДОРАЗДЕЛЬНЫЙ ХРЕБЕТ
УРАЛА

ПРЕДУРАЛЬСКИЙ
КРАЕВОЙ
ПРОГИБ

ЗАУРАЛЬЕ

Восточно-
Европейская
равнина

Западно-
Сибирская
низменность



Останцы



Останец «Семь Братьев»




Останец «Шаман»

Геологическое строение





Полярный Урал

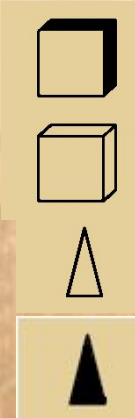


Курумы- каменные реки



Геологическое строение

Кунгурская пещера



ПОДВИЖНЫЕ СКЛАДЧАТЫЕ ПОЯСА

- герцинской складчатости (300 - 230 млн. лет)
- краевые прогибы

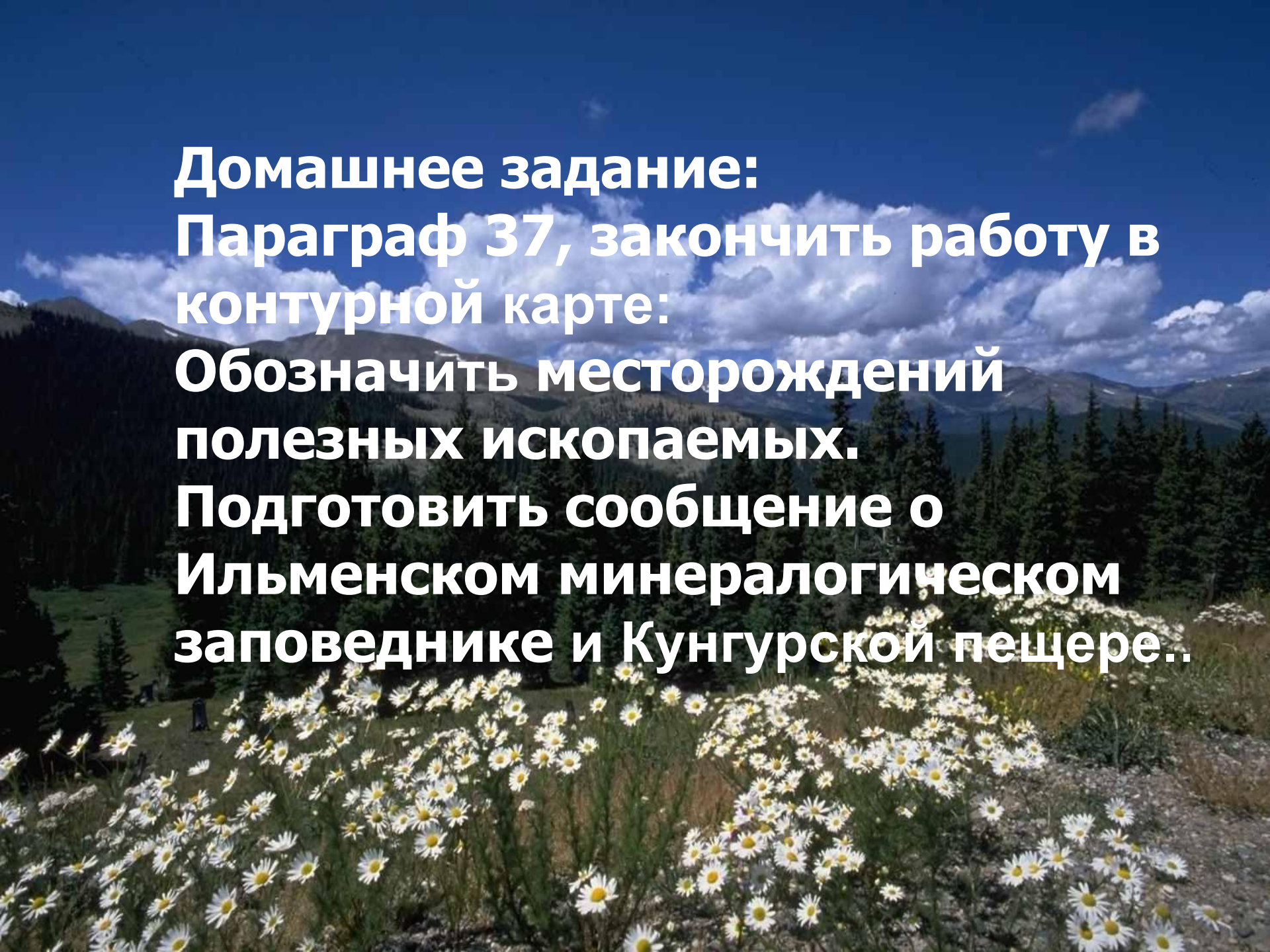
Ильменский заповедник



ПЛАТФОРМЫ И ПЛИТЫ

- Осадочный чехол древних платформ (плиты древних платформ)
- Осадочный чехол в областях докайнозойской складчатости (плиты молодых платформ)

Знак П.И.	Название П.И.	Месторождение П.И.
	Железная руда	Магнитогорское, Качканарское, Высокогорское, Халиловское, Бакальское
	Асбест	Баженовское
	Золото	Березовское
	Медные руды	Красноуральск, Гайск
	Калийная соль, каменная соль, гипс	Верхнекамское, Соль- Илецкое, Усольское
	Нефть	Ишимбай



Домашнее задание:
Параграф 37, закончить работу в
контурной карте:
Обозначить месторождений
полезных ископаемых.
Подготовить сообщение о
Ильменском минералогическом
заповеднике и Кунгурской пещере..





РНЫЙ
BROTTO