

ВИКТОРИНА ДРЕВНИЙ ЕГИПЕТ

Выполнила: Смирнова Ольга, учитель истории и
обществознания, Вологодская область

EGIPET

Задачи	<u>1</u>	<u>2</u>	<u>3</u>	<u>4</u>	<u>5</u>	<u>6</u>	<u>7</u>
Боги	<u>1</u>	<u>2</u>	<u>3</u>	<u>4</u>	<u>5</u>	<u>6</u>	<u>7</u>
Объясни понятие	<u>1</u>	<u>2</u>	<u>3</u>	<u>4</u>	<u>5</u>	<u>6</u>	<u>7</u>
Культура	<u>1</u>	<u>2</u>	<u>3</u>	<u>4</u>	<u>5</u>	<u>6</u>	<u>7</u>
География	<u>1</u>	<u>2</u>	<u>3</u>	<u>4</u>	<u>5</u>	<u>6</u>	<u>7</u>
Личности	<u>1</u>	<u>2</u>	<u>3</u>	<u>4</u>	<u>5</u>	<u>6</u>	<u>7</u>
Подумайте	<u>1</u>	<u>2</u>	<u>3</u>	<u>4</u>	<u>5</u>	<u>6</u>	<u>7</u>

Задача 1

- В 1822 году Франсуа Шампольон расшифровал надпись на камне, который пролежал в земле 2075 лет.
- *В каком году была сделана надпись?*



Задача 2

- Сколько лет назад была построена пирамида Хеопса?



Задача 3

- Сколько лет прошло с момента объединения Северного и Южного Египта?



Задача 4

- Было 7 домов, в каждом 7 кошек, каждая кошка съела 7 мышей, каждая мышь съела 7 колосков, каждый колосок может дать 7 мер зерна. Найди сумму общего числа домов, кошек, мышей, колосьев и мер зерна.



Задача 5

- В 332 году до н.э. Египет был завоеван Александром Македонским. Сколько лет прошло с тех пор?



Задача 6

- В вашем учебнике бог солнца назван Амон-Ра. В других книгах тот же бог назван иначе — Амун-Ра. Знаем ли мы, как надо правильно произносить древнеегипетские имена? Если нет, то почему?




Задача 7


- Жители Древнего Египта называли своё государство Kmt (произносится как «Кемет»), что означает «чёрный». Но почему египтяне использовали такое название?




Боги 1



- Этот Бог считался верховным у египтян



Боги 2



- Как зовут эту Богиню?



Боги 3




- Как звали Бога с зеленой кожей? Почему он так выглядел?




Боги 4

- Кто это?




Боги 5

- Это Бог Тот.
За что он
отвечал в
египетской
мифологии?



Боги 6

- Как выглядела богиня неба Нут?



Боги 7

- Это богиня плодородия Исида. Чьей женой она была по преданию?



Объясни понятие 1

- Шадуф – это ...




Объясни понятие 2

- – это бумага древних египтян



Объясни понятие 3

- Он является представителем духовенства на службе у божества и поддерживает с ним самую тесную связь.



Объясни понятие 4

- Что такое пилон?



Объясни понятие 5

- ... - это место, где река Египта впадает в море



Объясни понятие 6

- ... - это благоприятный участок в пустыне




Объясни понятие 7

- Фараон — это ...



Культура 1

- Как называется и какой высоты самая большая пирамида?



Культура 2

- Как называется эта пирамида?



Культура 3

- Зачем египтяне в усыпальницы знатных людей помещали скульптуры похожие на них?




Культура 4

- Что это?
Тело какого
животного
имеет это
существо?



Культура 5

- Как вы думаете, к какой группе людей при жизни относился этот человек?



Культура 6



- Что это?



Культура 7

- Что изображено на этой фреске?



География 1

- В какой части Африки расположен Египет



География 2

- Каким морем на севере омывается Египет.



География 3

- Как называется главная река Египта.



География 4

- В какую страну египтяне совершали военные походы за золотом?



География 5


- В какое время года разливалась главная река Египта?



География 6



- Что изображено на картине?



География 7

- Рядом с каким городом находилась Долина Царей?



Личности 1



- Кто изображен на этой скульптуре?



Личности 2

- Кому принадлежала эта маска?




Личности 3

- Как звали первую женщину фараона?




Личности 4

- Этот ученый расшифровал египетские иероглифы.



Личности 5

- Этот фараон провел реформу в религии, по которой в Египте провозглашался единый бог Атон, а сам он признавался его сыном.



Личности 6

- Имя этой женщины знает каждый. Ее прославили во многих фильмах и книгах. По легенде она погибла от укуса кобры.



Личности 7



- Это фараон прославился своими военными походами приблизительно в 1500 году до н.э.



Подумайте 1

- Как египтяне именовали Кота и Змея, изображенных на рисунке нашего времени? Кто всегда побеждает в схватке между Котом и Змеем?




Подумайте 2

- Какую клятву в этом месте готовились произнести египтяне? Как, согласно их верованиям, становило известно, не лгут ли они?



Подумайте 3

- Загадка сфинкса:
«Какое существо
утром ходит на
четырех лапах, днем
– на двух, а вечером
– на трех?»





Подумайте 4

- Говорят, на вкус, на цвет товарища нет... А вот в Древнем Египте все земледельцы считали два цвета очень хорошими, третий – плохим.
- *Какие это цвета? Почему к ним было разное отношение?*



Подумайте 5

- Из дошедших до нас документов мы узнаём, что в Древнем Египте можно было приобрести дом в обмен на кровать и два отреза (куска) ткани. Не слишком ли маленькая цена?
- *Чем можно объяснить возможность такого обмена?*



Подумайте 6

- На одном из берегов Нила на границы с пустыней возвышаются величественные сооружения – пирамиды. Греки причисляли их к семи чудесам света.
- *Почему древние египтяне возводили пирамиды только на левом берегу Нила и никогда не возводили на правом?*



Подумайте 7

- Кошки почитались египтянами как священные животные. Если бы не они, то всему населению Египта угрожала бы смерть. Подумайте почему.

