

The background features several dark blue silhouettes of athletes in various dynamic poses: a runner in the top left, a handstand performer at the top center, a sprinter in the top right, a tennis player in the middle left, a basketball player in the middle right, a soccer player in the bottom left, a soccer player on the ground in the bottom center, and a basketball player in the bottom right. The text is centered over these silhouettes.

ВИКТОРИНА
ПО
ФИЗИЧЕСКОЙ
КУЛЬТУРЕ

Какой спортивный праздник
ежегодно отмечается во вторую
субботу августа ?

А

День физкультурника

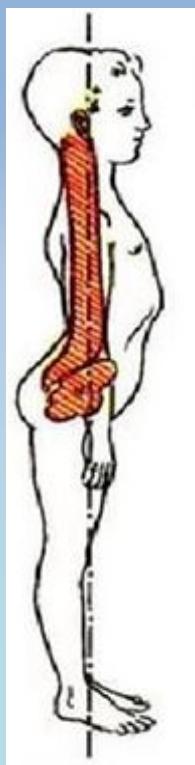
Б

Международный день спорта

В

День здоровья

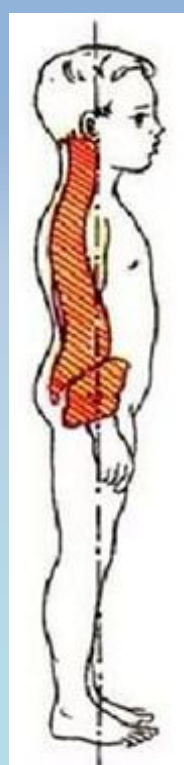
На каком рисунке представлено изображение правильной осанки



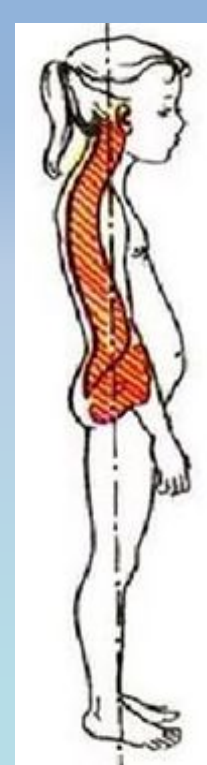
А



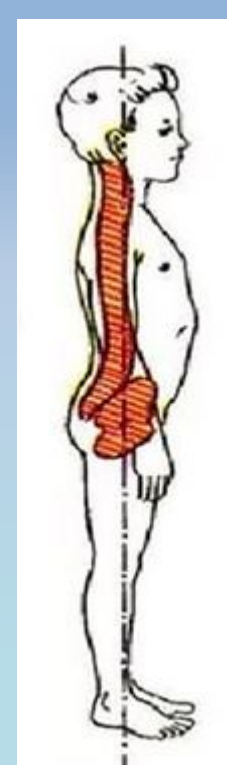
Б



В



Г



Д

Какое соотношение продуктов соответствует рациональному питанию?

3



А



Б



В

В забеге на дистанцию 500 м по конькобежному спорту участвовали 3 спортсмена: Скоров, Тихоходов и Ловкачев. Во время забега Тихоходов вышел за пределы своей беговой дорожки, тем самым создав помеху Ловкачеву. На финишную прямую спортсмены пришли со следующими результатами:

Скоров – 34 сек.

Тихоходов – 32 сек.

Ловкачев – 31 сек.

Как распределились призовые места (1, 2, 3) между участниками?

Скоров
Ловкачев
Тихоходов

А


Ловкачев
Тихоходов
Скоров

Б

Ловкачев
Скоров

В

Расставьте в правильном порядке летние Олимпийские **5**
игры по их символике



А

Рио
2016

1



Б

Афины
2004


2



В

Сидней
2000

3



Г

Москва
1980

4



Д

Пекин
2008

5

Что обозначает в баскетболе
данный жест судьи?

А

Пробежка

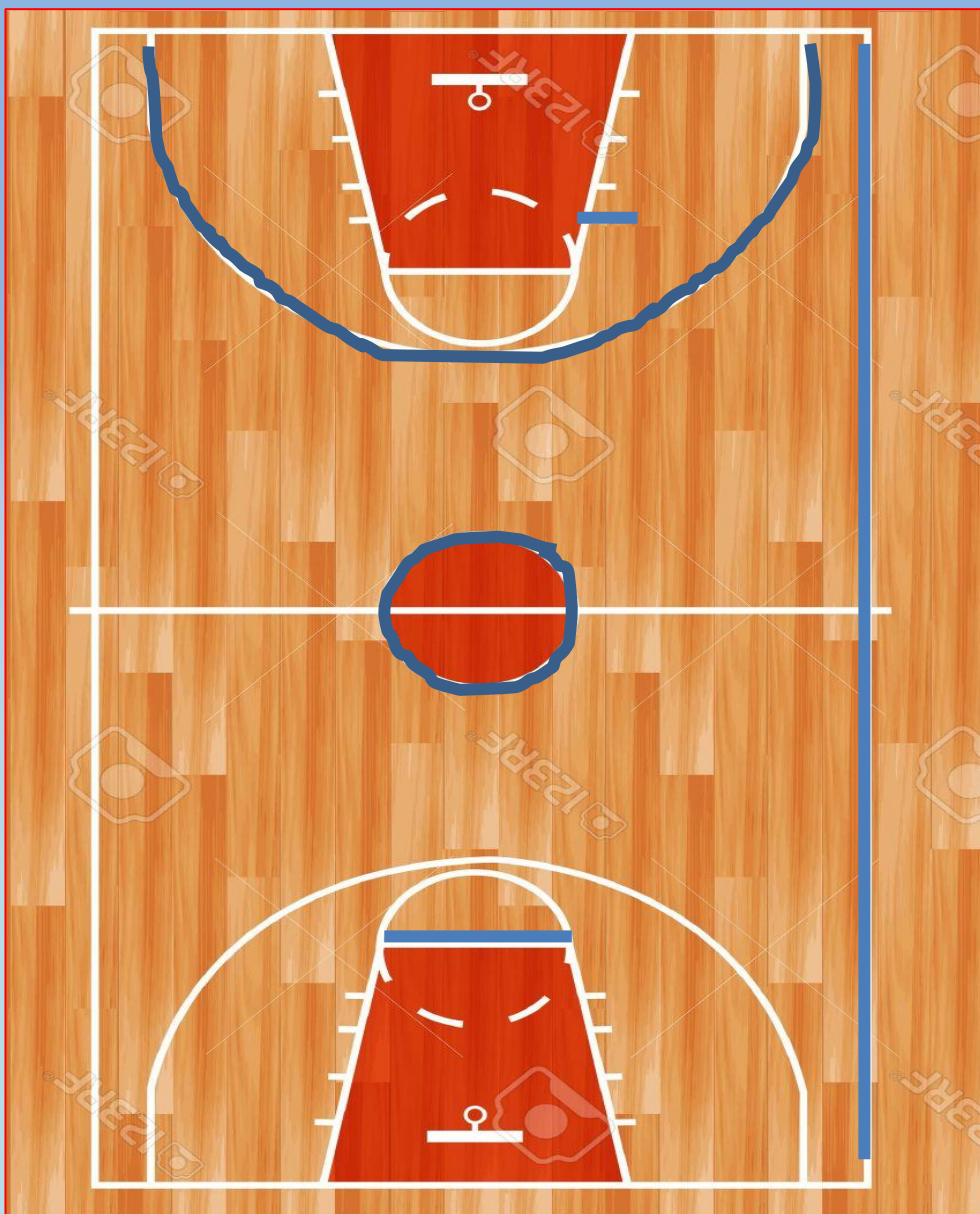
Б

Двойное
ведение

В

Замена
игрока





А

Линия трёхочкового
броска

Б

УС

В

Центральный круг

Г

Боковая линия

Д

Линия штрафного
броска

Какая из дисциплин не является видом программы в легкой атлетике

А

Метание
копья

Б

Метание
диска

В

Метание
гранаты

Г

Толкание
ядра

Д

Метание
молота

Е

Метание
мяча

Укажите рисунок на котором
изображен ТАЛРЕП



А



Б



В



Г

Какой инвентарь относится к спортивной, а какой к художественной гимнастике

А




Художественная



Д

Б



Е

В



Спортивная



Ж

Г



З

Какой из эпизодов не является проявлением FAIR PLAY ?

1

1



А



Б



В



Г



Д



Е

Назовите вид спорта по

12



черлидинг

Хоккей с мячом
(флорбол)

дайвинг

скалолазание

городки

фехтование



ПРАВИЛЬНЫЕ ОТВЕТЫ:

1 - А

2 - В

3 - В

4 - В

5 - а4, б1, в2, г5, д3

6 - а

7 - трехочковая, ус, центральный круг, боковая, штрафного броска

8 - ВЕ

9 - В

10 - (агдз -худож., бвж - спортивная)

11 - БЕ

12 - черлидинг, дайвинг, городки, хоккей с мячом, скалолазание, фехтование)