



# ***ВПР по математике***

**Вариант 11**

**Задание 10**

**Носова Ольга Михайловна**

учитель начальных классов

Муниципального казенного общеобразовательного учреждения

средней общеобразовательной школы № 11

Курского муниципального района Ставропольского края

На полу лежит кубик, на гранях которого нарисованы буквы (рис. 1). Кубик перекатали через ребро, как показано на рисунке. Пунктиром на рисунке изображён след от предыдущего положения кубика. После этого кубик таким же образом перекатали через другое ребро, в результате чего грань с одной из букв оказалась сверху.

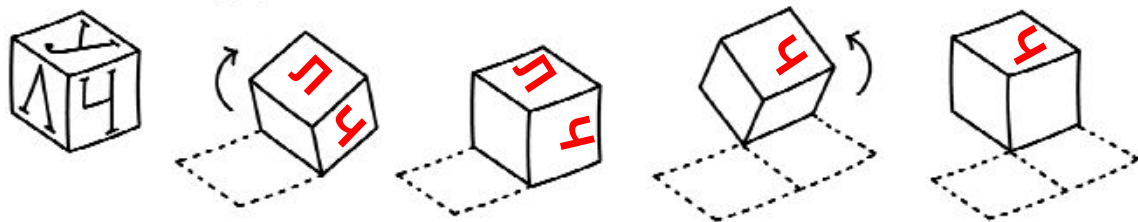
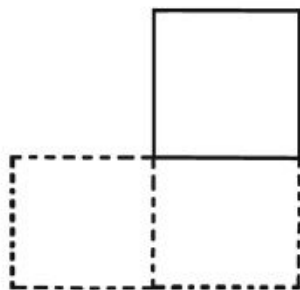


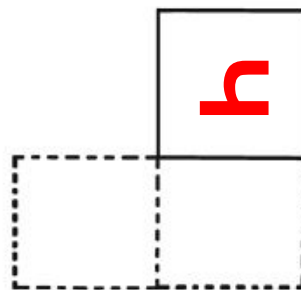
Рис. 1

На рис. 2 показаны следы кубика и его конечное положение (вид сверху). Изобрази на этом рисунке букву, которая оказалась на верхней грани кубика. Буква должна быть расположена так, как она нарисована на кубике. Один из рисунков используй как черновик.

Черновик



Ответ



Указания к оцениванию	Баллы
<p data-bbox="150 256 695 300">Приведён верный рисунок.</p> 	2
<p data-bbox="150 589 1574 682">Приведён рисунок, на котором требуемая буква нарисована в правильном квадрате, но неверно ориентирована</p>	1
<p data-bbox="150 698 1574 791">Приведено решение, не соответствующее критериям на 1 или 2 балла, или решение отсутствует</p>	0
<p data-bbox="1168 813 1574 846"><i>Максимальный балл</i></p>	2

# ИСТОЧНИКИ

- [http://мошидошис.рф/sites/default/files/%21впр4\\_0.jpg](http://мошидошис.рф/sites/default/files/%21впр4_0.jpg)