

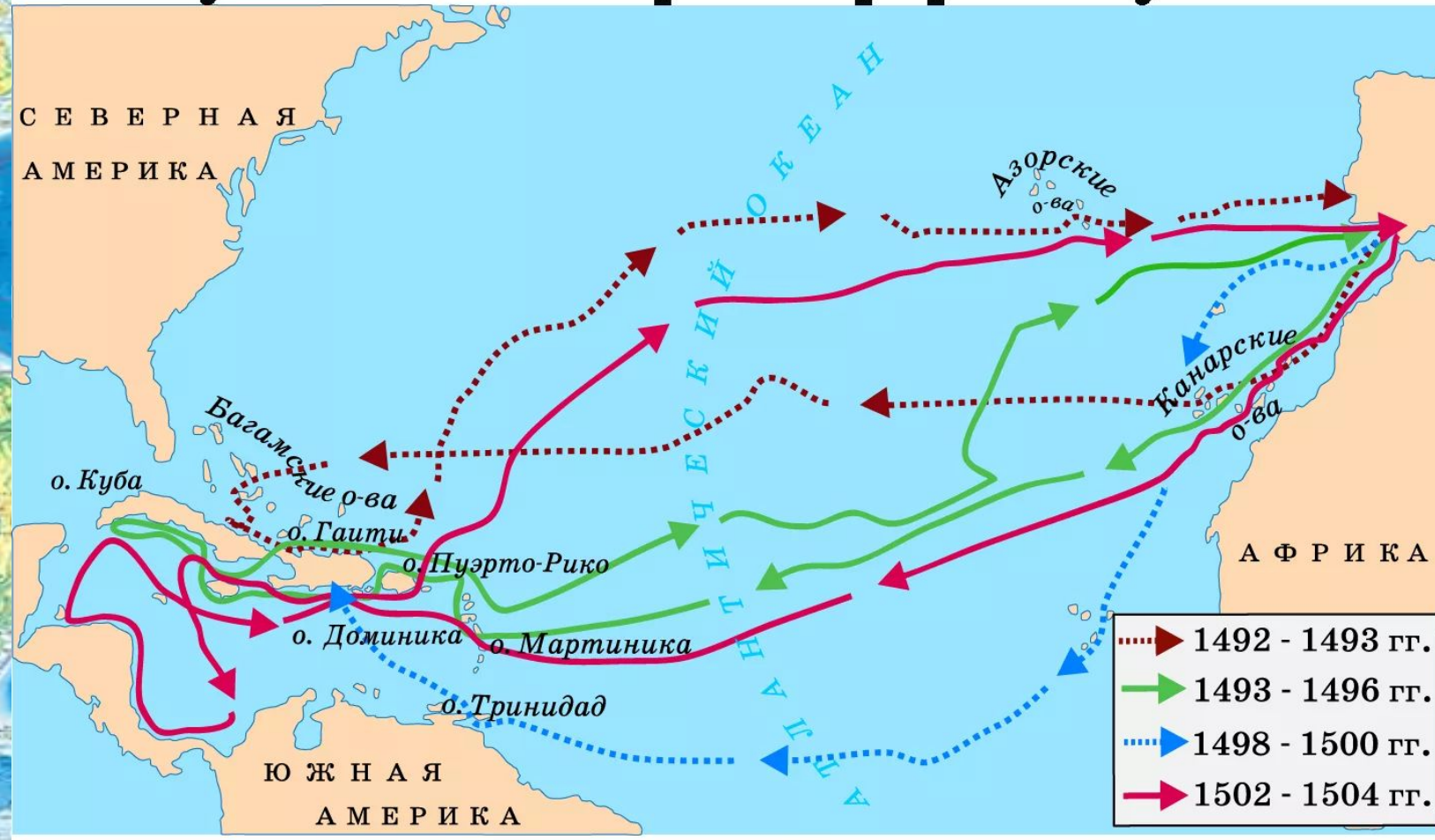


12 октября
1492 года

ФИЗИЧЕСКАЯ КАРТА МИРА

СЕВЕРНЫЙ ПОЛЮСНЫЙ РЕГИОН
МАСШТАБ 1:25 000 000


Путешествия Христофора Колумба



Вторым Колумбом называют Веспуччи потому, что он отправился вслед за первооткрывателем, практически по его маршруту на новый континент.



L'AMERIQUE
divisee
PAR GRANDS ETATS
Par le S^r Janvier Geographe,
A PARIS
chez Laire de la rue de la Harpe, vis a vis
la Fontaine Saint Ferron, vis a vis
de la Bibliotheque du Roy. 1742.



ОБРАЗ КОНТИНЕНТА

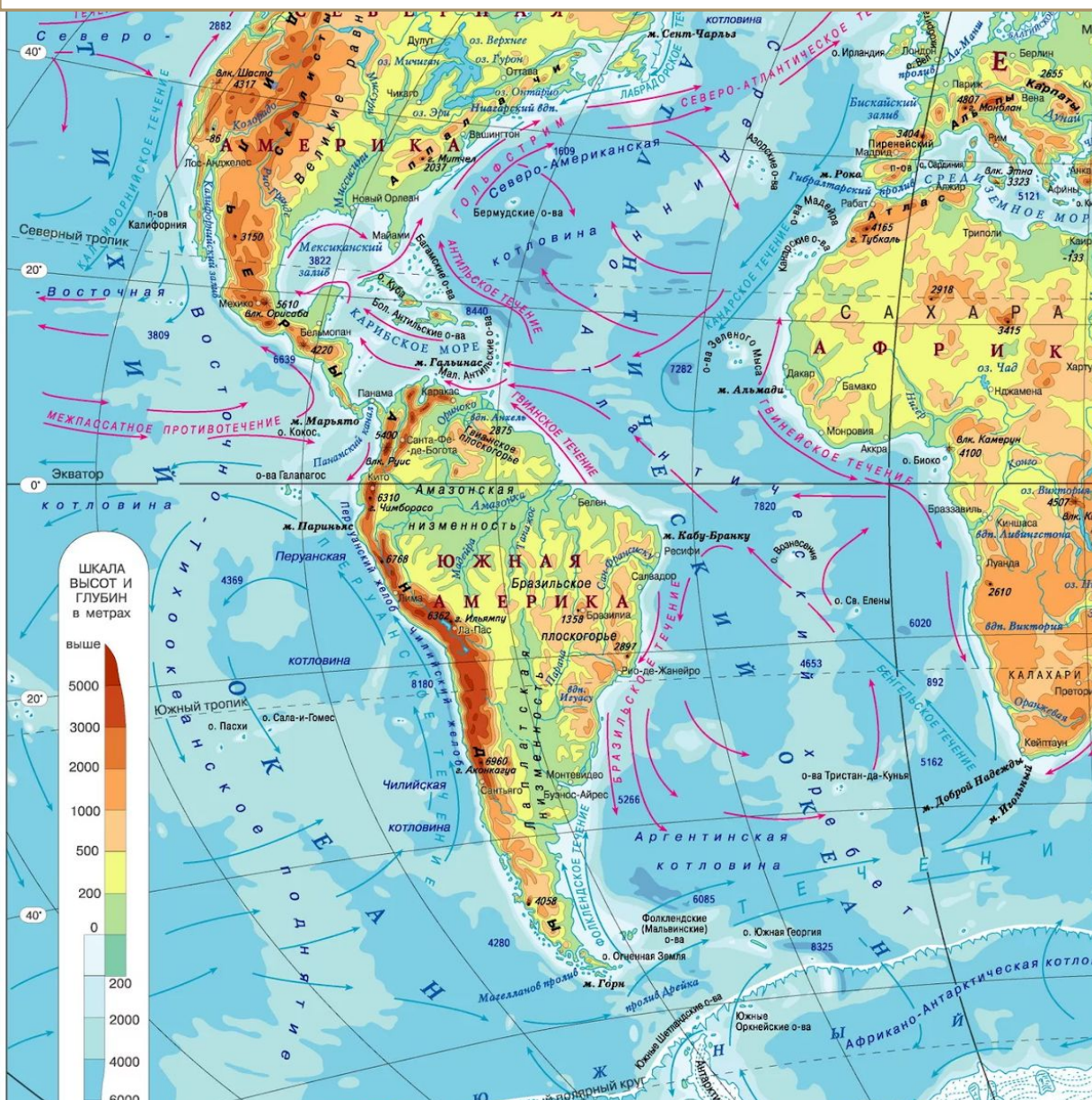


Капибара, или как ее еще называют, водосвинка – это полуводное животное, которое является представителем отряда Грызунов. Это очень необычное животное и многим будет интересно познакомиться с ним. Животное капибара – это самый большой грызун.



Географическое положение

Практическая работа



- 1.) Определите, как расположен материк относительно экватора, тропиков и нулевого меридиана.
- 2.) Определите крайние точки материка, определите их координаты и протяженность материка в градусах и километрах с севера на юг и с запада на восток.
- 3.) В каких климатических поясах расположен материк?
- 4.) Определите, какие океаны и моря омывают материк.
- 5.) Как расположен материк относительно других материков?

