

# Будет урок «Математика»

Что будем делать?

Будем писать.

Будем считать.

Будем решать примеры столбиком.

Будем решать задачу.

Будем думать.



# Тема урока: Закрепление.



Найди примеры с ответом 16.



$$8 + 8$$



$$9 + 8$$




$$9 + 7$$



$$9 + 5$$



$$7 + 8$$



$$9 + 9$$



$$10 + 6$$

$$7 + 9$$



# Наз̄ови про̄пущенные числа.

Что ты сде̄лал (а)?

Скажи сколько десятков и единиц в числах.

43 - \_\_ десятка и \_\_ единицы

Я сказал (а) сколько десятков и единиц в числах.

Что ты сделал (а)?

Я вставил(а) пропущенные числа.

$$\square - 6 = 7$$

$$11 - \square = 6$$

$$\square + 7 = 15$$

$$11 - \square + 2 = 10$$



Реши примеры столбиком.

$$48 + 33 =$$

$$65 - 32 =$$


$$86 - 25 =$$

$$44 + 34 =$$



Что ты сделал (а)?

# Физминутка



Решите примеры самостоятельно.

$$\begin{array}{r} 73 \\ + 25 \\ \hline \end{array}$$



$$\begin{array}{r} 37 \\ + 25 \\ \hline \end{array}$$



# Про́верка

Что ты сде́лал (а)?

$$\begin{array}{r} 73 \\ + 25 \\ \hline 98 \end{array}$$



$$\begin{array}{r} 1 \\ 37 \\ + 25 \\ \hline 62 \end{array}$$


Я реши́л приме́ры самосто́ятельно́.

# Игра: Чей домик?



На аэродроме было **35** самолётов. После того, как несколько улетело, их осталось **8**.  
Сколько самолётов улетело?

$$35 - 8 = 27$$



Что в задаче известно?

Что нужно узнать?

Каким действием будем решать задачу?

# ДОМАШНЕЕ ЗАДАНИЕ.

Домашнее задание

Карточка №1

**Запиши в тетради**

1. Реши примеры столбиком  
 $35+31=$      $65-35=$      $62+11=$      $67-32=$
2. Реши уравнения  
 $x+30=40$                        $x-10=56$

Домашнее задание

Карточка №2

**Запиши в тетради**

1. Реши примеры столбиком  
 $51+34=$      $35+21=$      $64-41=$      $77-52=$
1. Реши уравнения  
 $x+5=10$                        $x-2=10$

Домашнее задание

Карточка №3

**Запиши в тетради**

1. Реши примеры столбиком  
 $25+31=$      $35-22=$      $72-21=$      $66+30=$
2. Реши уравнения  
 $x+40=50$                        $x-10=15$

Домашнее задание

Карточка №4

**Запиши в тетради**

1. Реши примеры столбиком  
 $32+31=$      $45+22=$      $62-11=$      $67-32=$
2. Реши уравнения  
 $x+10=20$                        $x-10=10$

Домашнее задание

Карточка №5

**Запиши в тетради**

1. Реши примеры столбиком  
 $55+33=$      $35+21=$      $57-41=$      $85-55=$
2. Реши уравнения  
 $x+3=30$                        $x-3=10$

# Я рабóтал на уро́ке



нева́жно̄



о́тлично̄



хоро́шо̄

на о́ценку

«5»

«4»

«3»

«2»

# Был урок «Математики»

— Что вы делали?



Мы писали.

Мы решали примеры столбиком.

Мы решали задачу.

Мы думали.

