

«Звездный миг»

**Географическая
игра**



Отборочный тур

**Все желающие
отвечают на
вопросы.**

**Жюри отбирает 7
самых активных
участников**

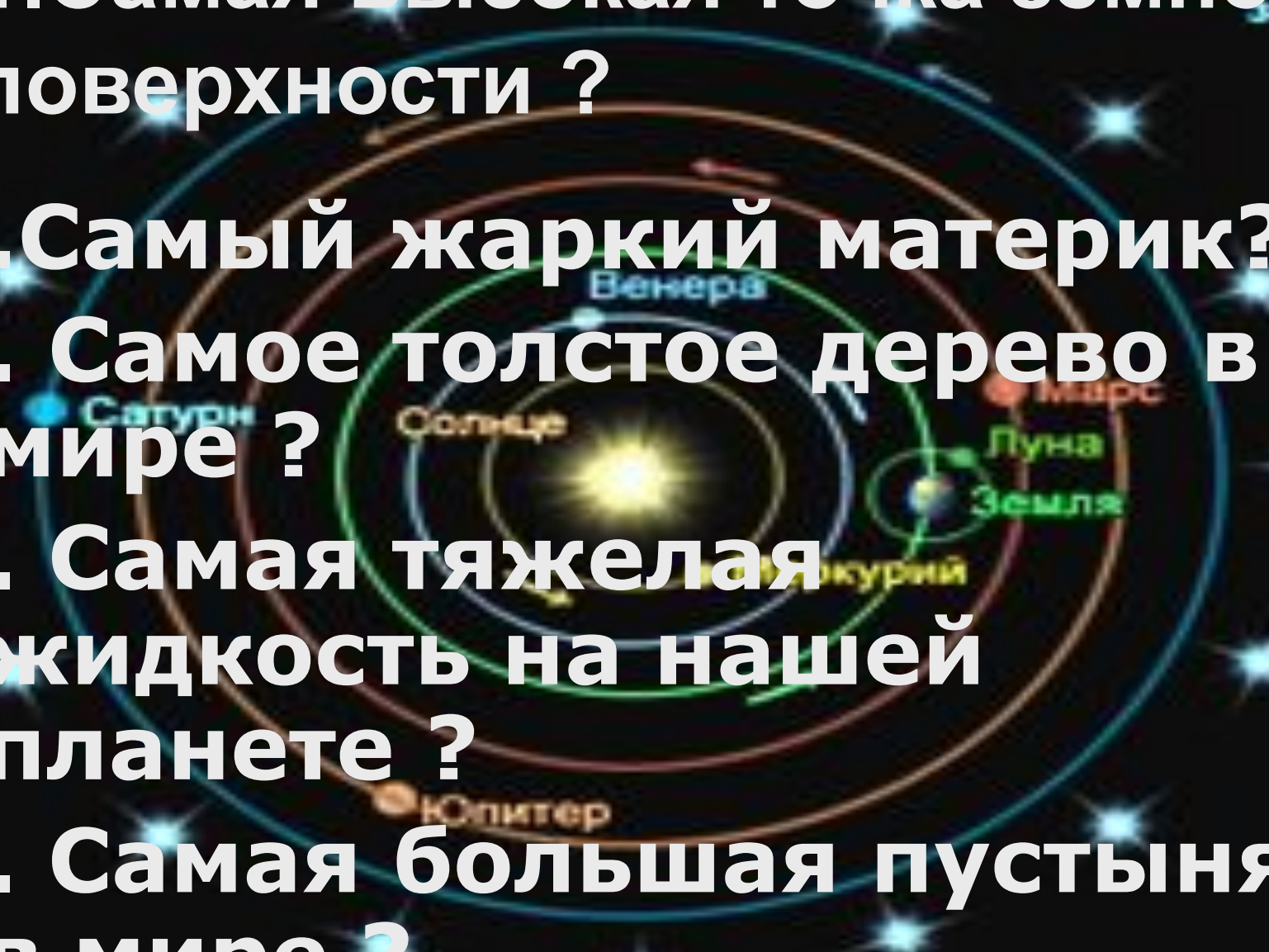
1. Самая высокая точка земной поверхности ?

2. Самый жаркий материк?

3. Самое толстое дерево в мире ?

4. Самая тяжелая жидкость на нашей планете ?

5. Самая большая пустыня в мире ?

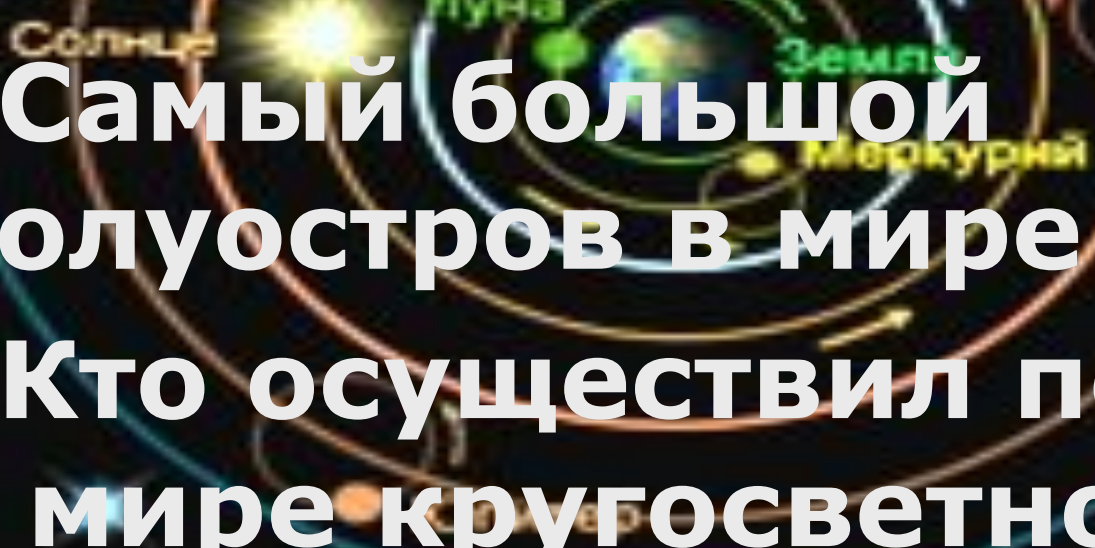


6. Самая глубокая впадина
Мирового океана?

7. Какое государство
занимает весь материк?

8. Самый большой
полуостров в мире?

9. Кто осуществил первое
в мире кругосветное
путешествие?



10. Самое мощное течение в мире ?

11. Сколько областей в России?

12. Самое маленькое по площади государство в мире?

13. Самая маленькая птичка?

14. Самая большая змея в мире?

15. Самый холодный материк ?

Сфера неподвижных звезд

Венера

Марс

Плутон

Земля

Меркурий

Юпитер

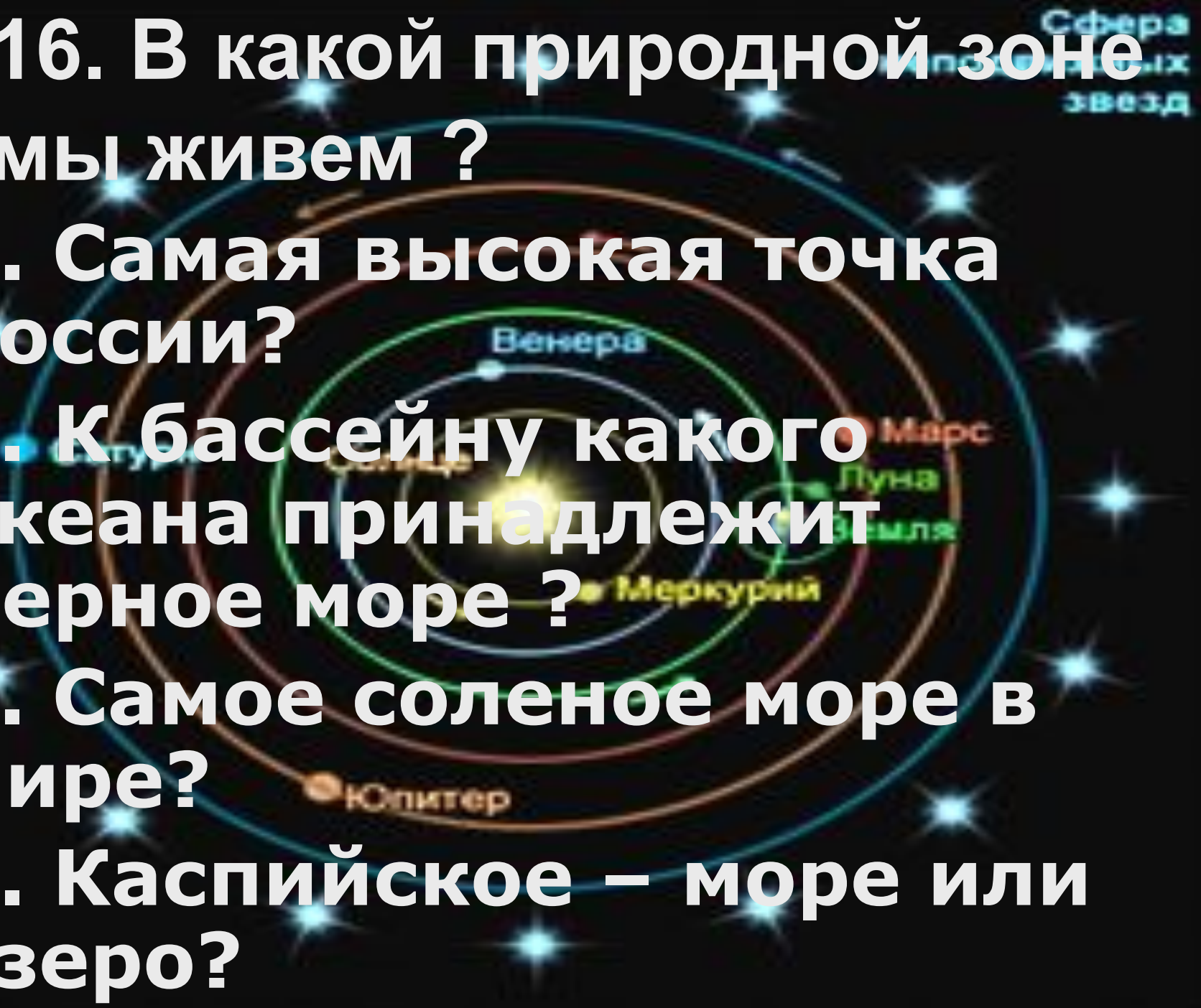
16. В какой природной зоне мы живем ?

17. Самая высокая точка России?

18. К бассейну какого океана принадлежит Черное море ?

19. Самое соленое море в мире?

20. Каспийское – море или озеро?



21. Самый большой остров в мире ?

22. Какое млекопитающее рождает самого маленького детеныша?

23. Какие горы называют «медными»?

24. Какая река самая полноводная в мире ?

Сфера
неподвижных
звезд

Венера

Марс

Земля

Сфера
неподвижных
звезд



**25. На каком
материке протекает
река Миссисипи?**

Конкурс 2



Серп
Луны

Перед вами географические
объекты. Один из них лишний.
Какой именно?

Солнечный
свет

Земля

1. Мадагаскар

2. Ява


Серп
Луны

**3. Новая
Гвинея**

4. Сомали

Земля

Солнечный
свет



1. Альпы

2. Драконовы

3. Анды

4. Сахара



Серп
Луны

Земля

Солнечный
свет

1. Саргассово

2. Нил

3. Нигер

4. Дунай



Серп
Луны

Земля

Солнечный
свет

Конкурс 3

Перед вами названия горных систем. Все они стоят в порядке уменьшения высоты. В порядке допущена ошибка. Необходимо поменять местами.



1. Анды

2. Гималаи

3. Карпаты

4. Крым

Конкурс 4

**Перед вами названия
равнин. Для какой
равнины характерно
следующее описание
?**

1. Простирается эта равнина с севера на юг и проходит через несколько природных зон. На ней находится Валдайская возвышенность.

1. Восточно-Европейская равнина

3. Причерноморская низменность

2. Западно-Сибирская низменность

4. Волынская возвышенность

**2. Эта низменность в древние времена была морским дном
Расположена полосой до 120-150 км
вдоль Черного и Азовского морей.**

**1. Восточно-
Европейская
равнина**

**3.
Причерноморская
низменность**

**2. Западно-
Сибирская
низменность**

**4. Волынская
возвышенность**

Конкурс 5



«Звездный миг»

Перед вами названия
проливов:

1. Магелланов

**2. Баб-эль-
Мандебский**

3. Босфор

4. Ла-Манш

1. Какие проливы соединяют два океана?

1. Магелланов

2. Баб-эль-Мандебский

3. Босфор

4. Ла-Манш

2. Какой пролив отделяет два полуострова?

1. Магелланов

2. Баб-эль-Мандебский

3. Босфор

4. Ла-Манш

**3. Какой пролив
разъединяет два
материка?**

1. Магелланов

**2. Баб-эль-
Мандебский**

3. Босфор

4. Ла-Манш

4. Какой пролив разделяет две европейские страны?

1. Магелланов

2. Баб-эль-Мандебский

3. Босфор

4. Ла-Манш

Конкурс 6

Перед вами названия морей

Необходимо расположить
их согласно
географическому
положению с севера на
юг:

1. Белое
море

2. Желтое
море

3. Черное
море


4. Красное
море

Конкурс 7

Из букв, которые входят в состав
слова

«Гренландия»,

нужно составить как
можно больше слов,
обозначающих названия
географических объектов



Наступает «звездный миг»!

**Победитель
произносит
триумфальную
речь !**

Земля

Серп
Луны

Солнечный
свет

