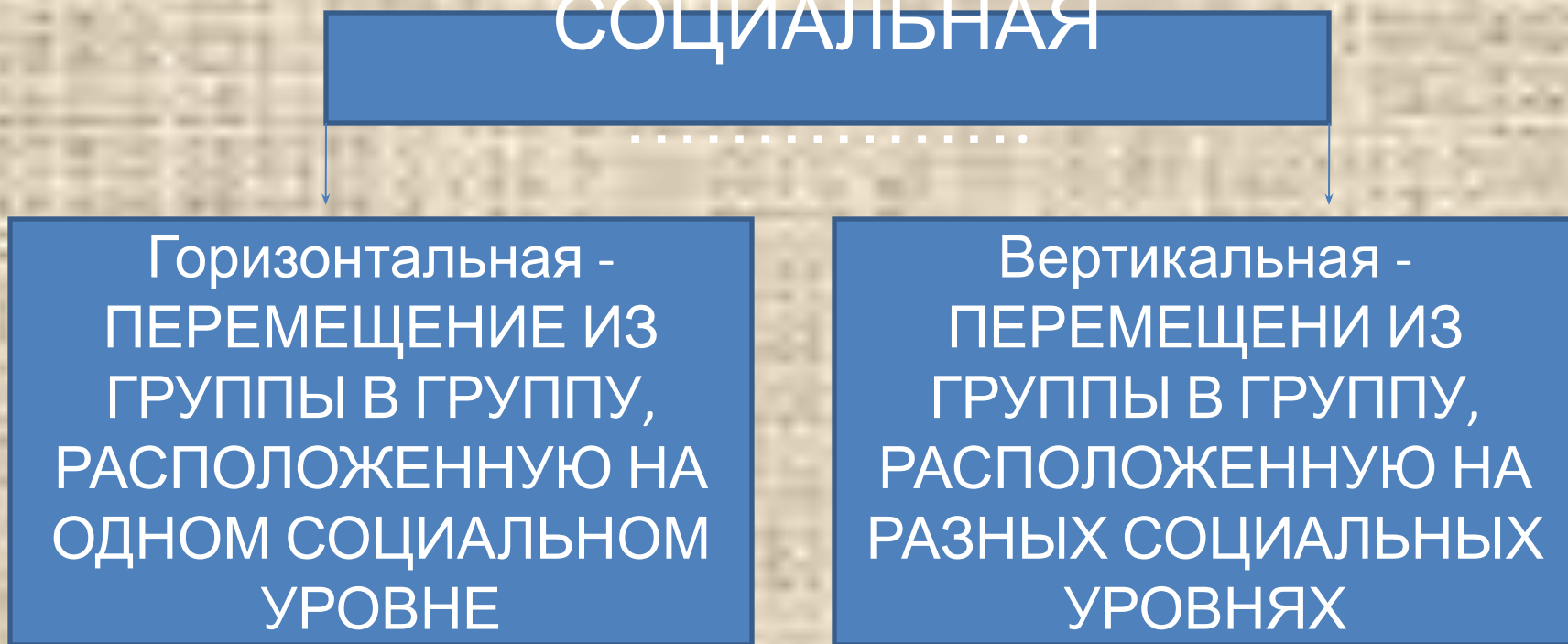


**Задания**  
**ЕГЭ**  
**Варианты**  
**В1**

# Запишите слово, пропущенное в схеме СОЦИАЛЬНАЯ



Ответ: **МОБИЛЬНОС  
ТЬ**

Запишите слово пропущенное в

схеме  
ВИДЫ

ЭКОНОМИЧЕСКОЙ  
ДЕЯТЕЛЬНОСТИ

```
graph TD; A[ВИДЫ ЭКОНОМИЧЕСКОЙ ДЕЯТЕЛЬНОСТИ] --> B[ПРОИЗВОДСТВО]; A --> C[.....]; A --> D[РАСПРЕДЕЛЕНИЕ]
```

ПРОИЗВОДСТВО

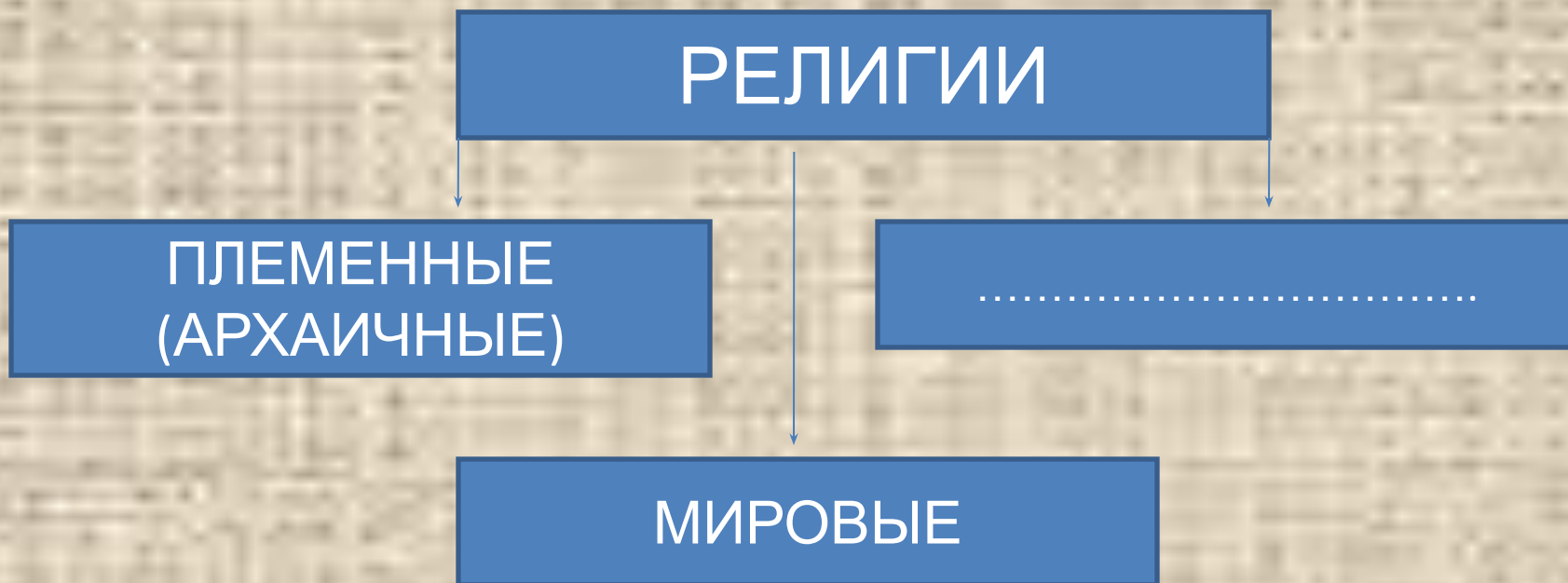
.....

РАСПРЕДЕЛЕНИЕ

Ответ:

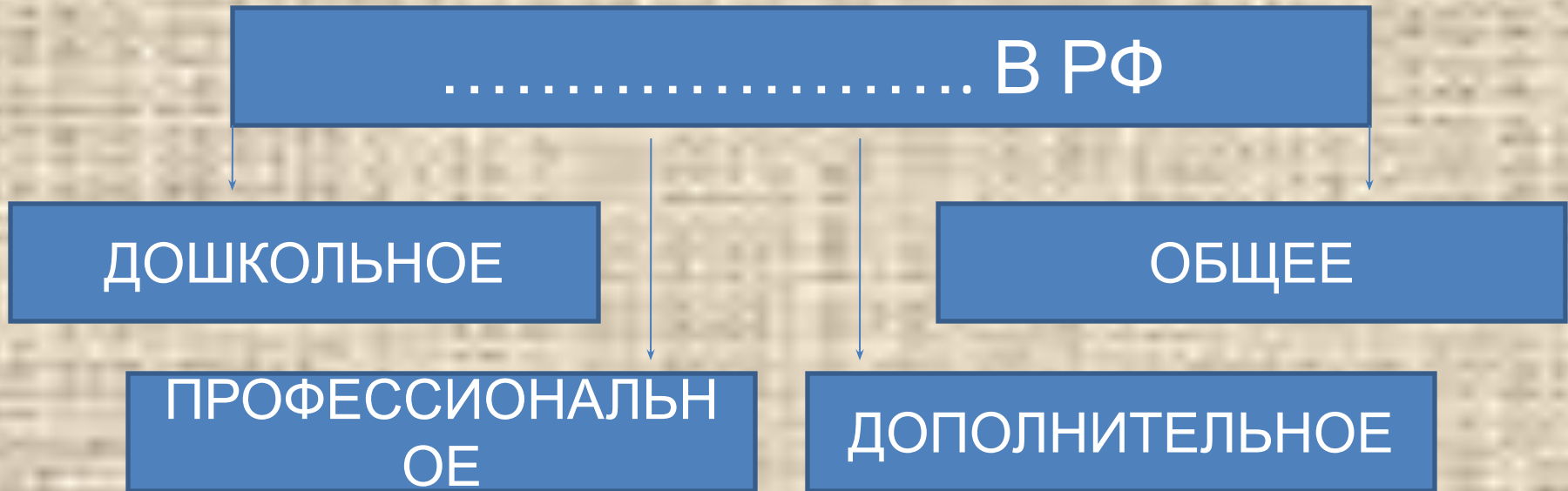
**ПОТРЕБЛЕН  
ИЕ**

Запишите слово, пропущенное в  
схеме



ОТВЕТ: **НАЦИОНАЛЬН  
ЫЕ**

Запишите слово, пропущенное в  
схеме



ОТВЕТ: **ОБРАЗОВАНИЕ**



Запишите слово, пропущенное в  
схеме

ГОСУДАРСТВЕННЫЙ

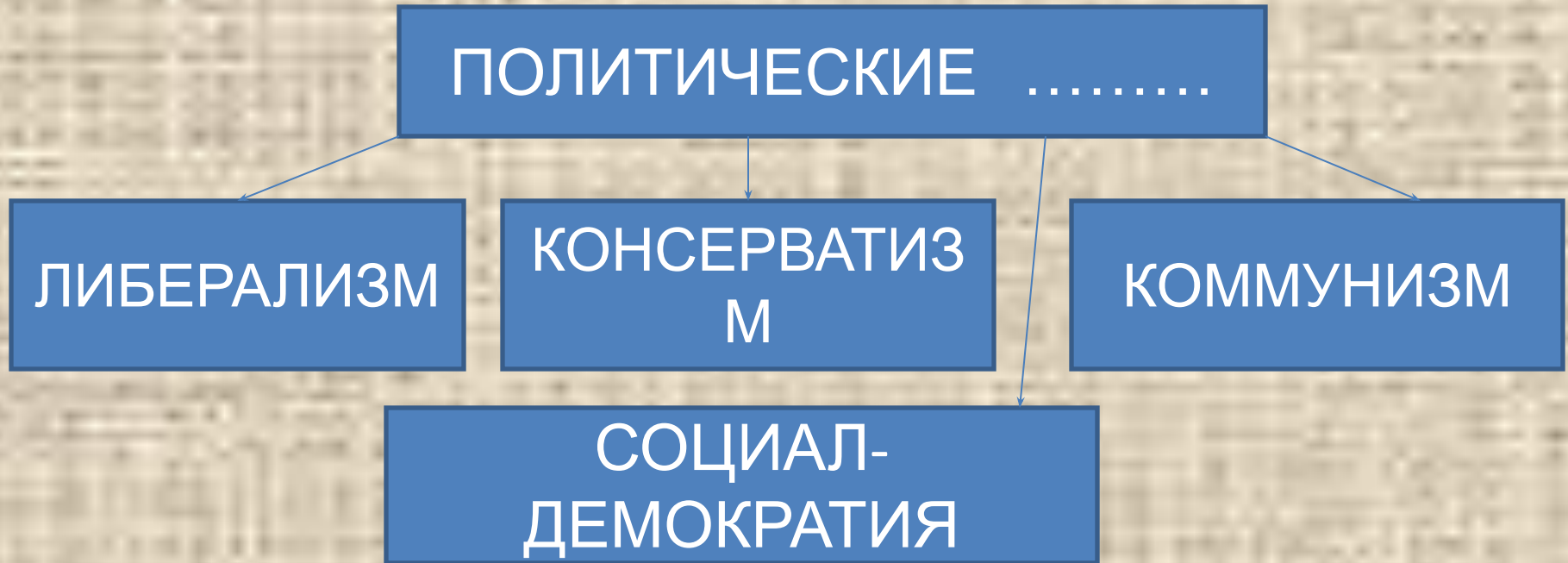
```
graph TD; A[ГОСУДАРСТВЕННЫЙ] --> B[СТАТЬИ ДОХОДОВ]; A --> C[СТАТЬИ РАСХОДОВ];
```

СТАТЬИ ДОХОДОВ

СТАТЬИ РАСХОДОВ

ОТВЕТ: **БЮДЖ  
ЕТ**

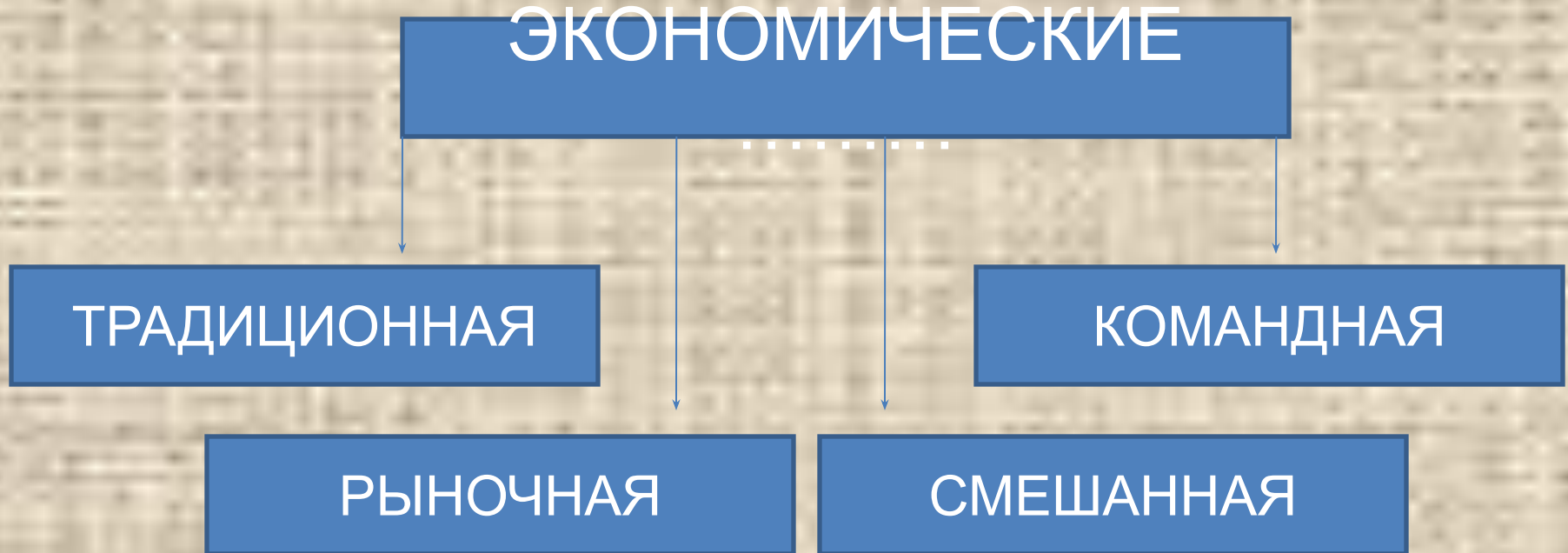
Запишите слово пропущенное в  
схеме.



Ответ: **ИДЕОЛОГ**

**ИИ**

Запишите слово, пропущенное в  
схеме

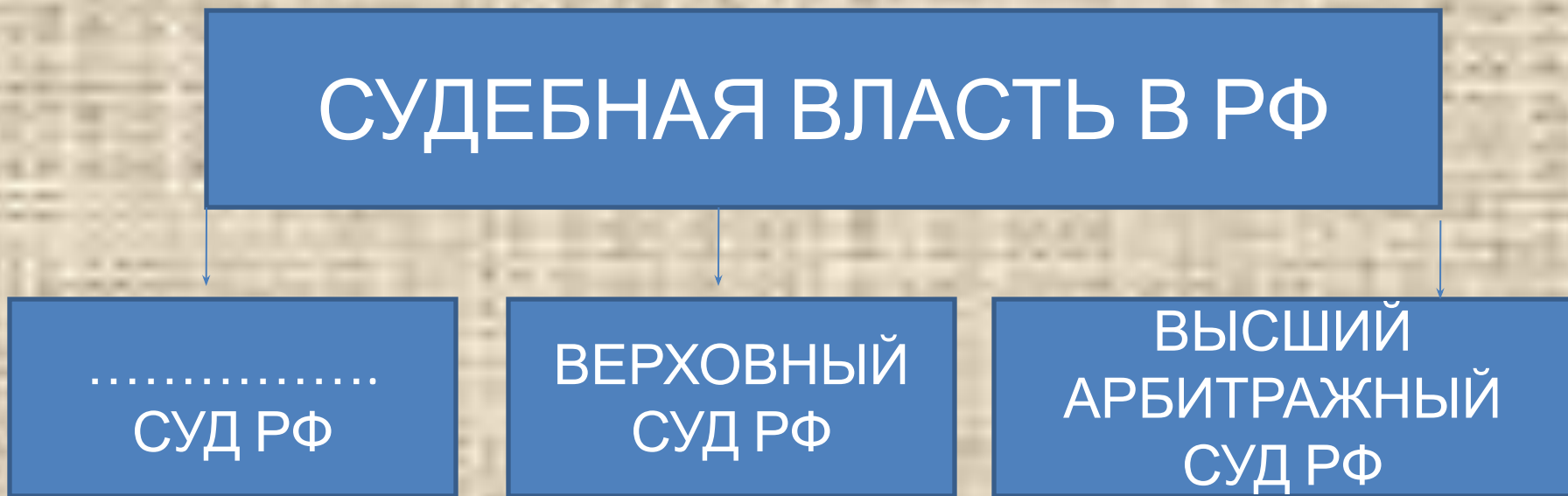


ОТВЕТ: СИСТЕМ

Ы

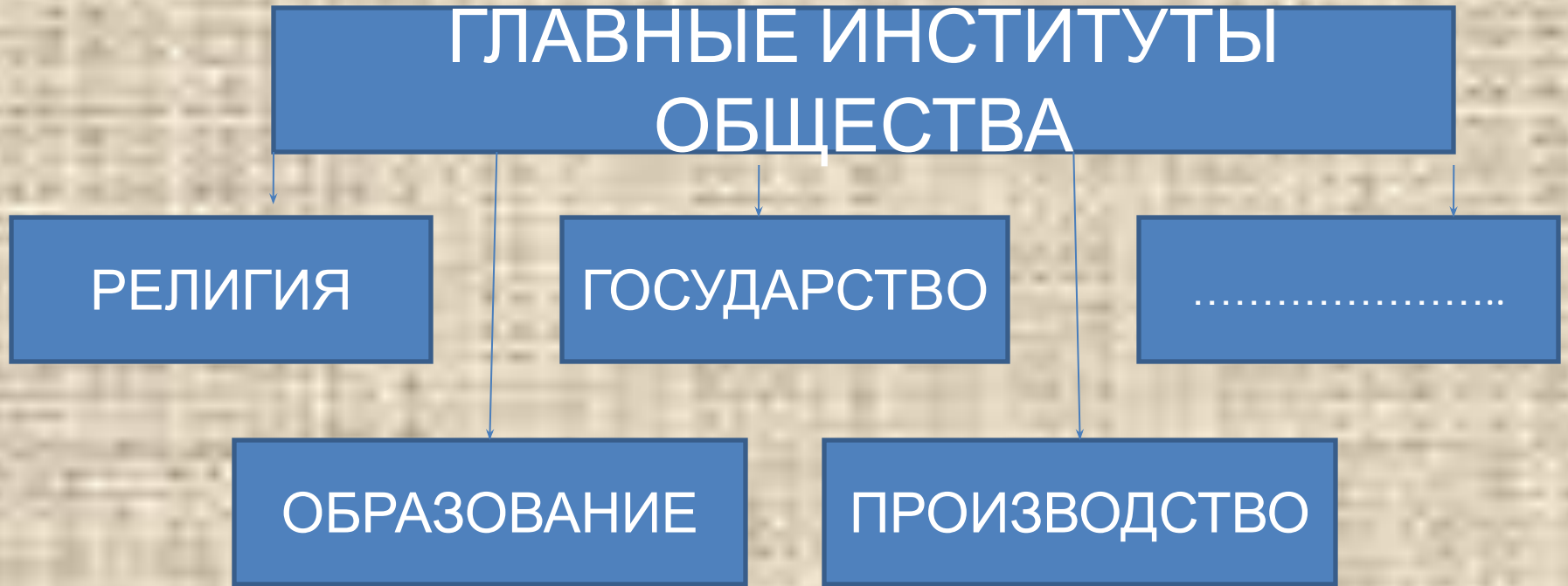


Запишите слово, пропущенное в  
схеме



ОТВЕТ: **КОНСТИТУЦИОНН  
ЫЙ**

Запишите слово, пропущенное в  
схеме



ОТВЕТ: **СЕМЬ**  
**Я**

Запишите слово, пропущенное в  
схеме

ВИДЫ СОЦИАЛЬНОЙ  
СТРАТИФИКАЦИИ

```
graph TD; A[ВИДЫ СОЦИАЛЬНОЙ СТРАТИФИКАЦИИ] --> B[ПОЛИТИЧЕСКАЯ]; A --> C[ПРОФЕССИОНАЛЬНАЯ]; A --> D[.....];
```

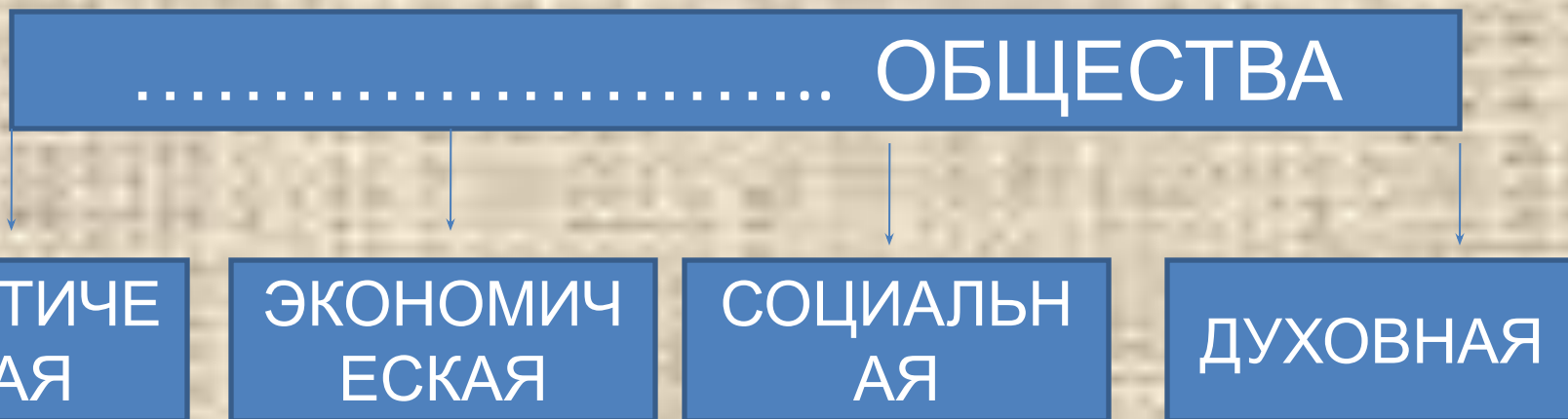
ПОЛИТИЧЕСКАЯ

ПРОФЕССИОНАЛЬНА  
Я

.....

ОТВЕТ: **ЭКОНОМИЧЕСКАЯ**

Запишите слово, пропущенное в  
схеме

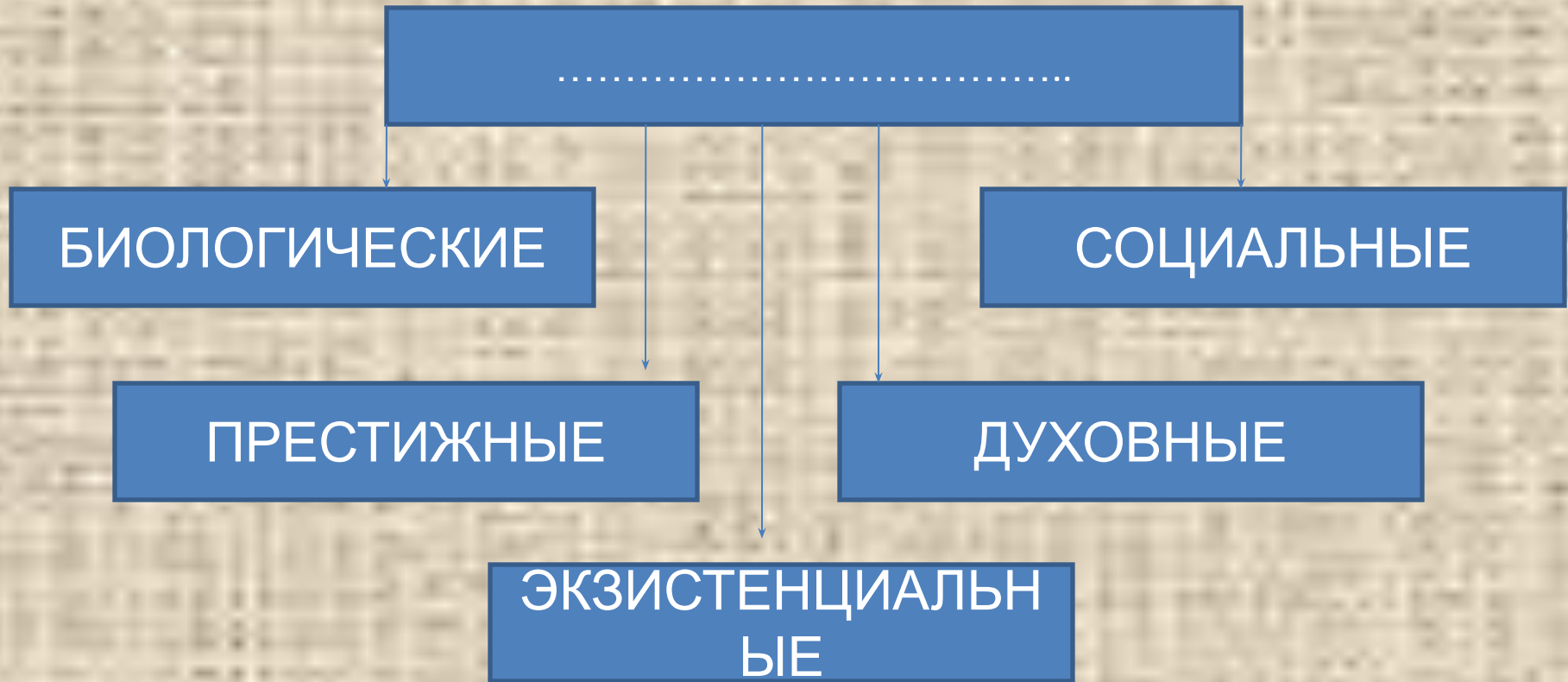


ОТВЕТ:

**СФЕРЫ  
(ПОДСИСТЕМЫ)**

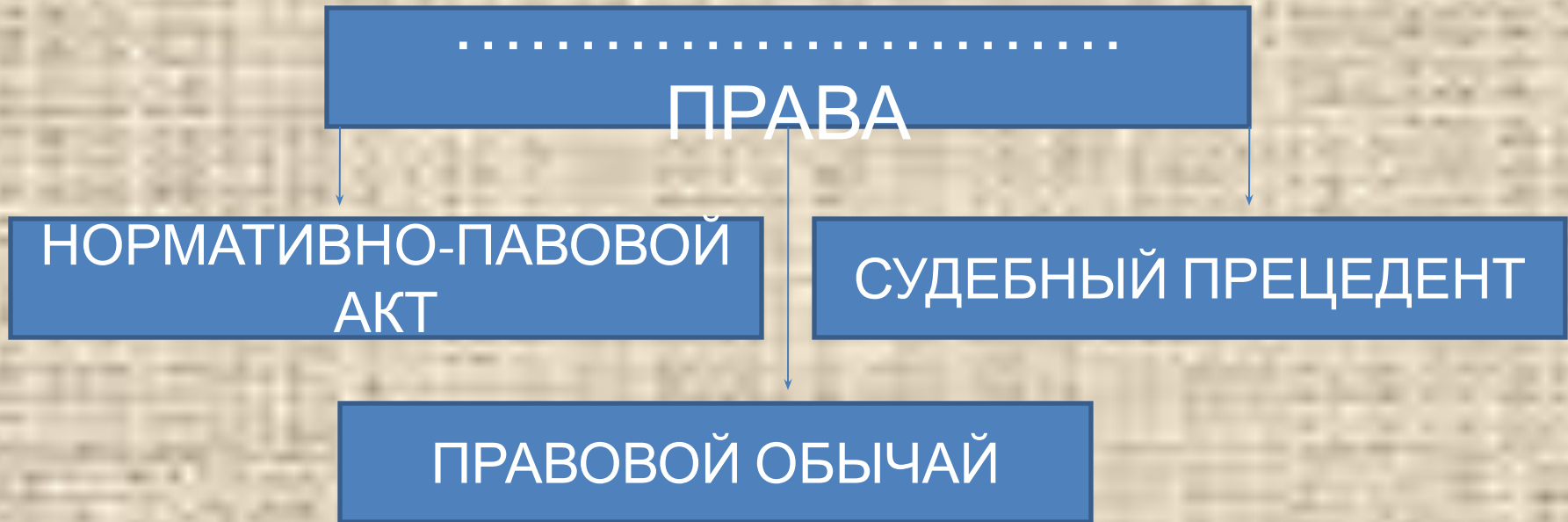


Запишите слово, пропущенное в  
схеме



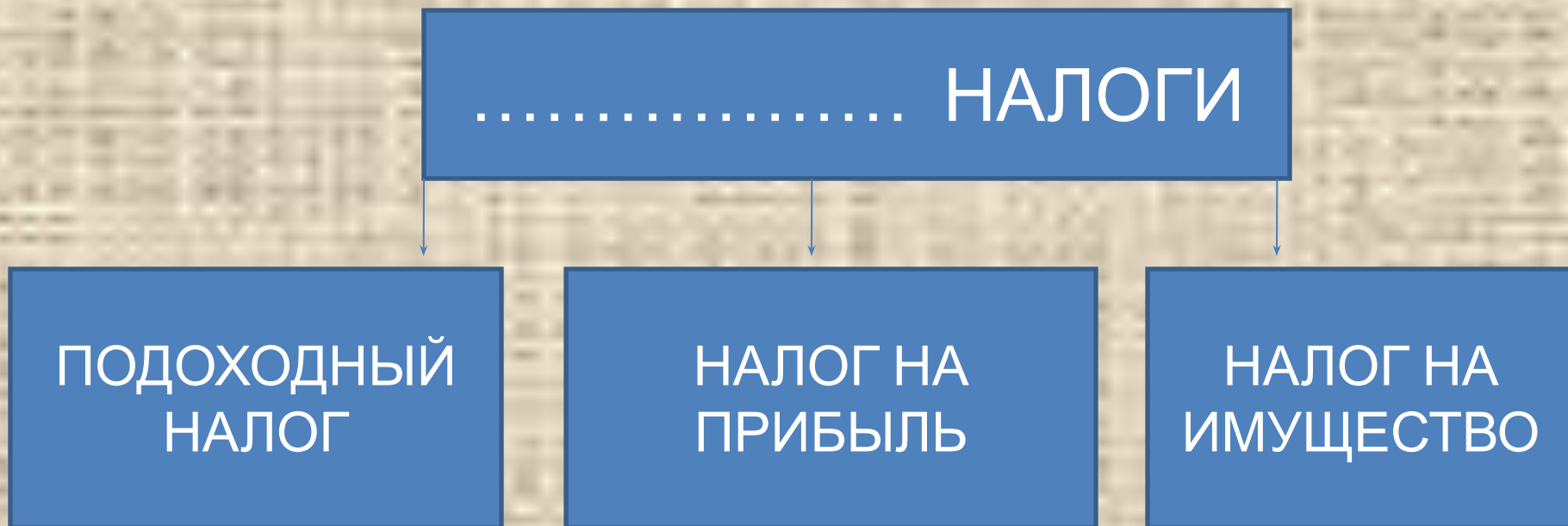
ОТВЕТ: **ПОТРЕБНОС  
ТИ**

Запишите слово, пропущенное в  
схеме



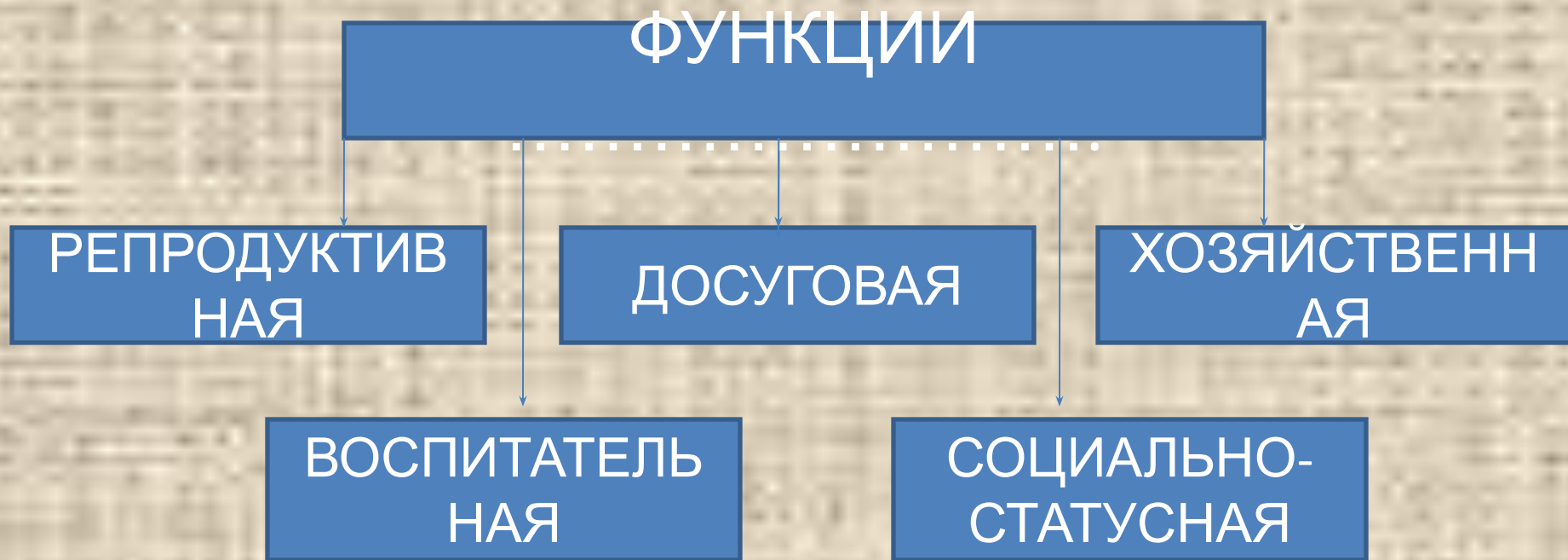
ОТВЕТ: **ИСТОЧНИКИ**

Запишите слово, пропущенное в  
схеме



ОТВЕТ: ПРЯМЫ  
Е

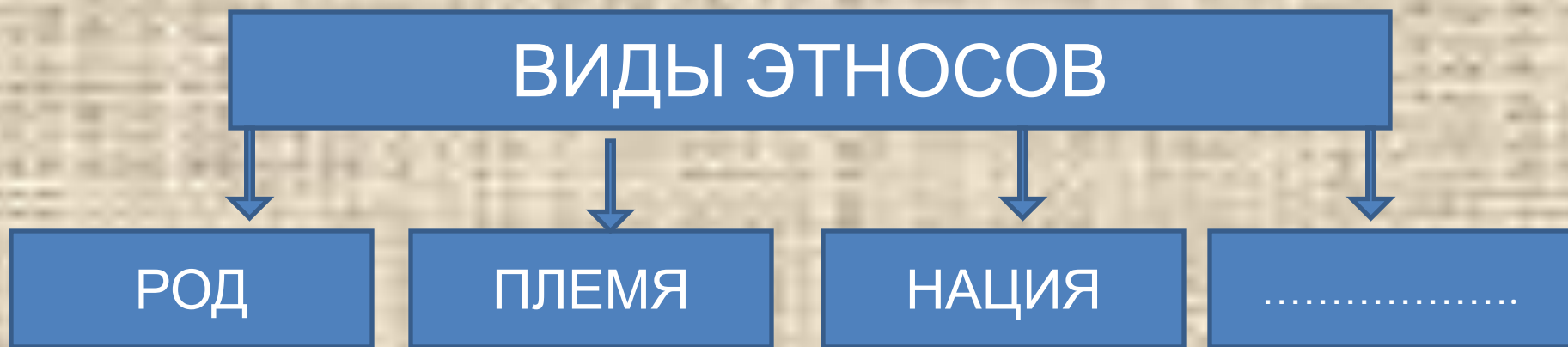
Запишите слово, пропущенное в  
схеме



ОТВЕТ: **СЕМЬ**  
**И**

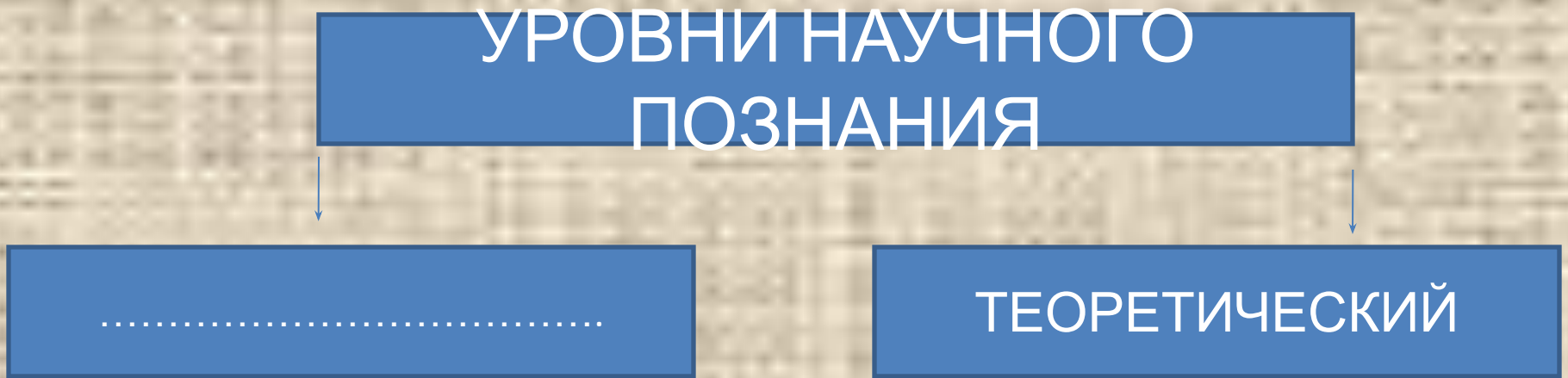


Запишите слово, пропущенное в  
схеме



ОТВЕТ: **НАРОДНОС  
ТЬ**

Запишите слово, пропущенное в  
схеме



ОТВЕТ: **ЭМПИРИЧЕСК  
ИЙ**

Запишите слово, пропущенное в  
схеме

СУБЪЕКТЫ ГРАЖДАНСКИХ  
ПРАВООТНОШЕНИЙ

```
graph TD; A[СУБЪЕКТЫ ГРАЖДАНСКИХ ПРАВООТНОШЕНИЙ] --> B[ФИЗИЧЕСКИЕ ЛИЦА]; A --> C[РОССИЙСКАЯ ФЕДЕРАЦИЯ]; A --> D[.....];
```


ФИЗИЧЕСКИЕ ЛИЦА

РОССИЙСКАЯ  
ФЕДЕРАЦИЯ

ОТВЕТ:

**ЮРИДИЧЕСКИЕ  
ЛИЦА**

Запишите слово, пропущенное в  
схеме



Ответ: **научно**  
**е**



Запишите слово, пропущенное в  
схеме

ОКРУЖАЮЩИЙ МИР

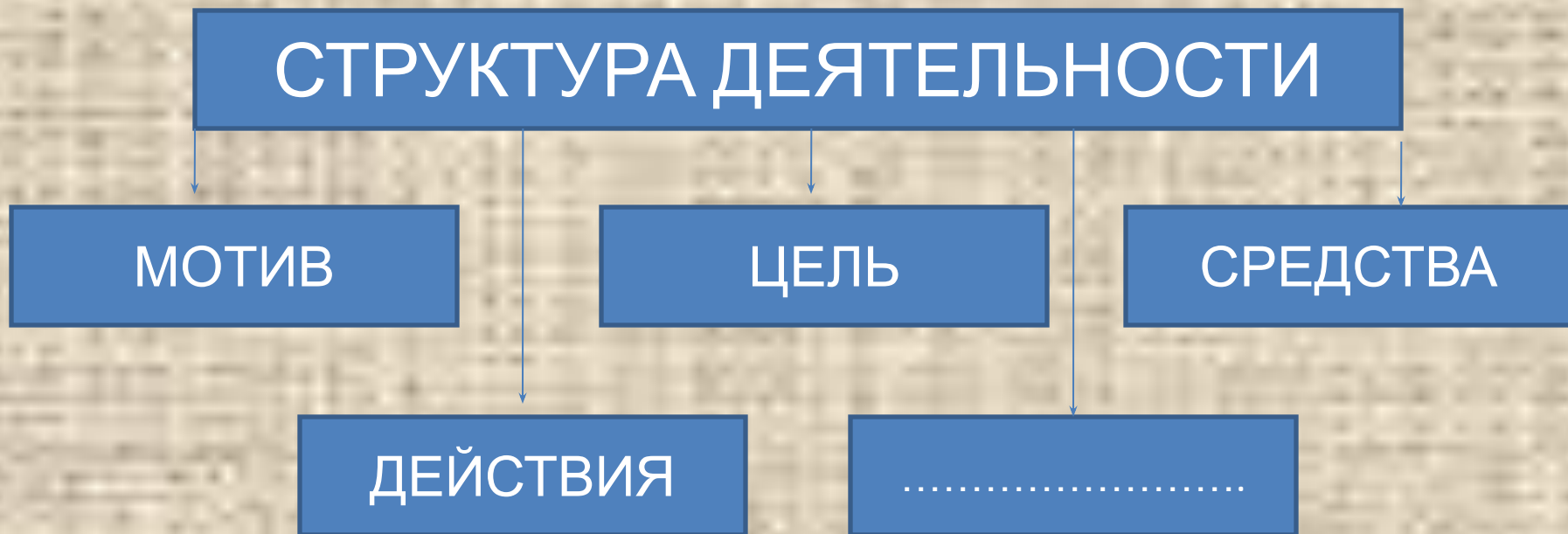
```
graph TD; A[ОКРУЖАЮЩИЙ МИР] --> B[ПРИРОДА]; A --> C[.....];
```

ПРИРОДА

.....

ОТВЕТ: **ОБЩЕСТ  
ВО**

Запишите слово, пропущенное в  
схеме



ОТВЕТ: **РЕЗУЛЬ  
ТАТ**

Запишите слово, пропущенное в  
схеме

ОСНОВНЫЕ СТОРОНЫ  
ЛИЧНОСТИ

```
graph TD; A[ОСНОВНЫЕ СТОРОНЫ ЛИЧНОСТИ] --> B[биологически обусловленные особенности]; A --> C[особенности отдельных психологических процессов]; A --> D[уровень подготовленности и опыт]; A --> E[..... обусловленные качества];
```

биологически  
обусловленны  
е  
особенности

особенности  
отдельных  
психологиче  
ских  
процессов

уровень  
подготовлен  
ности и  
опыт

.....  
обусловленны  
е качества

ОТВЕТ: **СОЦИАЛЬ  
НО**

Запишите слово, пропущенное в  
схеме

ПОЗНАНИЕ

ЧУВСТВЕННОЕ

ОЩУЩЕНИЕ  
ВОСПРИЯТИЕ  
ПРЕДСТАВЛЕНИЕ

.....  
ПОНЯТИЕ  
УМОЗАКЛЮЧЕНИЕ  
СУЖДЕНИЕ

ОТВЕТ: РАЦИОНАЛЬН  
ОЕ



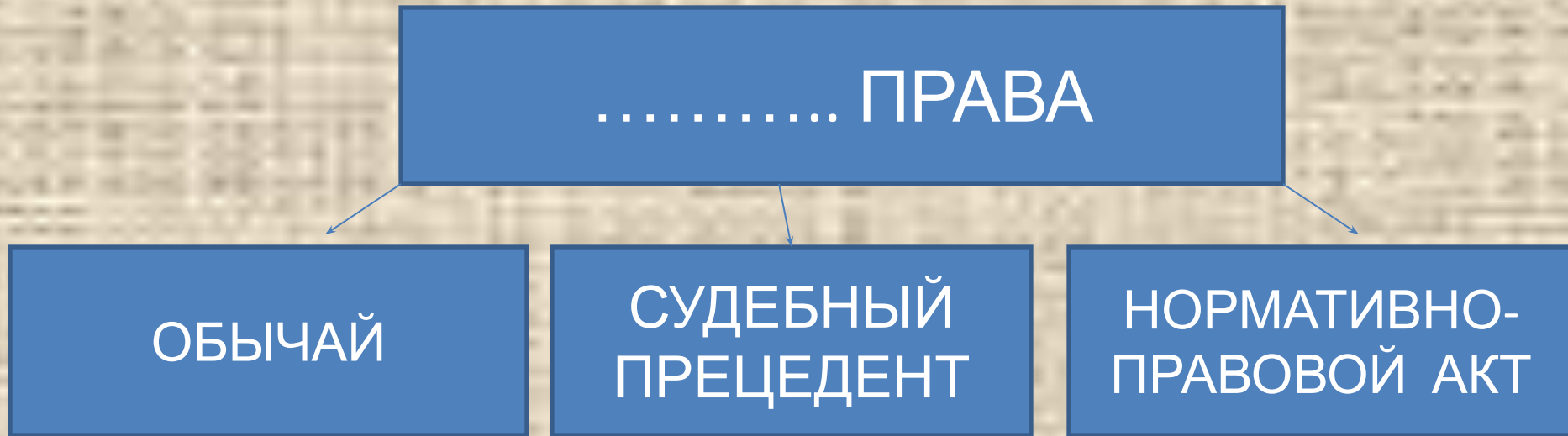
Запишите слово пропущенное в  
схеме



Ответ:

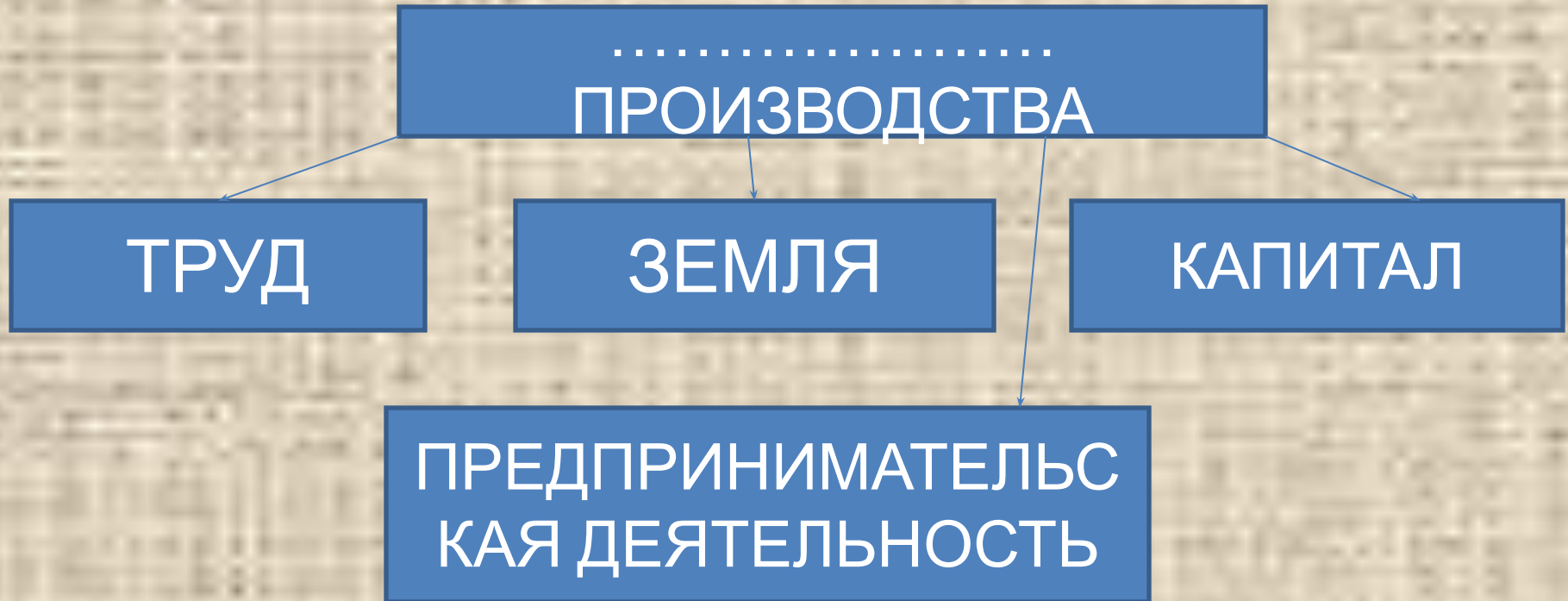
**доход (уровень  
доходов)**

Запишите слово пропущенное в  
схеме



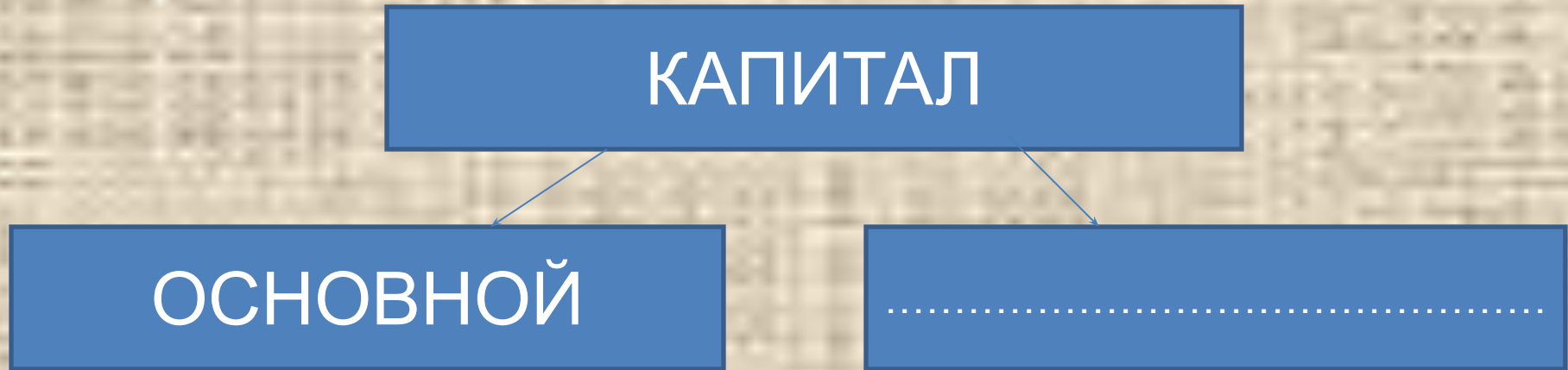
Ответ: **ИСТОЧНИКИ**

Запишите слово пропущенное в  
схеме.



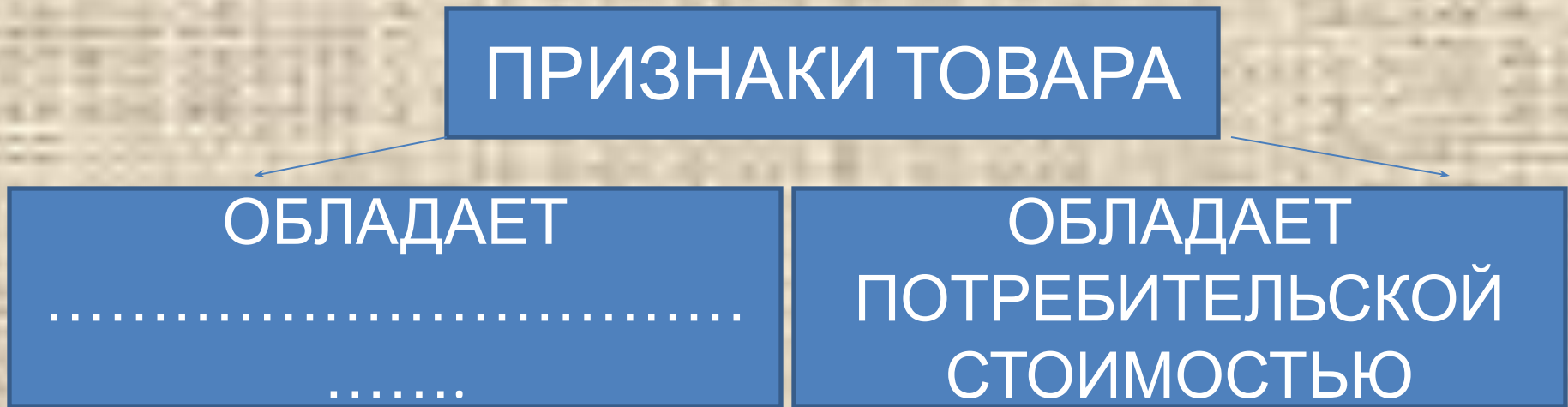
Ответ: **фактор**

Запишите слово пропущенное в  
схеме



Ответ: **оборотный**

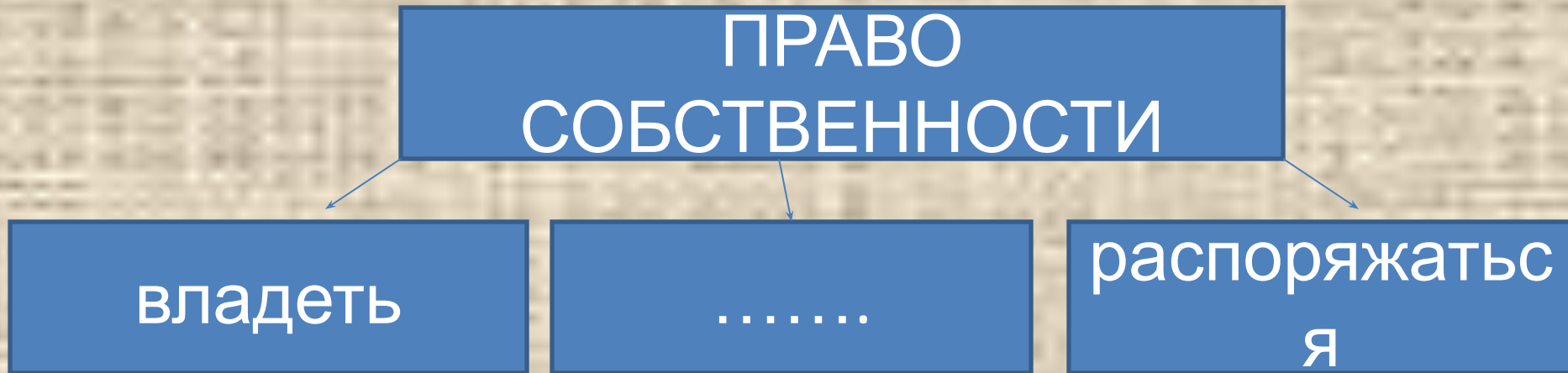
Запишите слово пропущенное в  
схеме



Ответ: **СТОИМОСТ**



Запишите слово пропущенное в  
схеме



Ответ: **ПОЛЬЗОВАТЬ  
СЯ**

Запишите слово, пропущенное в  
схеме

ФОРМЫ СОБСТВЕННОСТИ В  
РОССИЙСКОЙ ФЕДЕРАЦИИ  
(ПО КОНСТИТУЦИИ РФ)

ЧАСТНАЯ

ГОСУДАРСТВЕН  
НАЯ

.....

Ответ: **муниципальн**

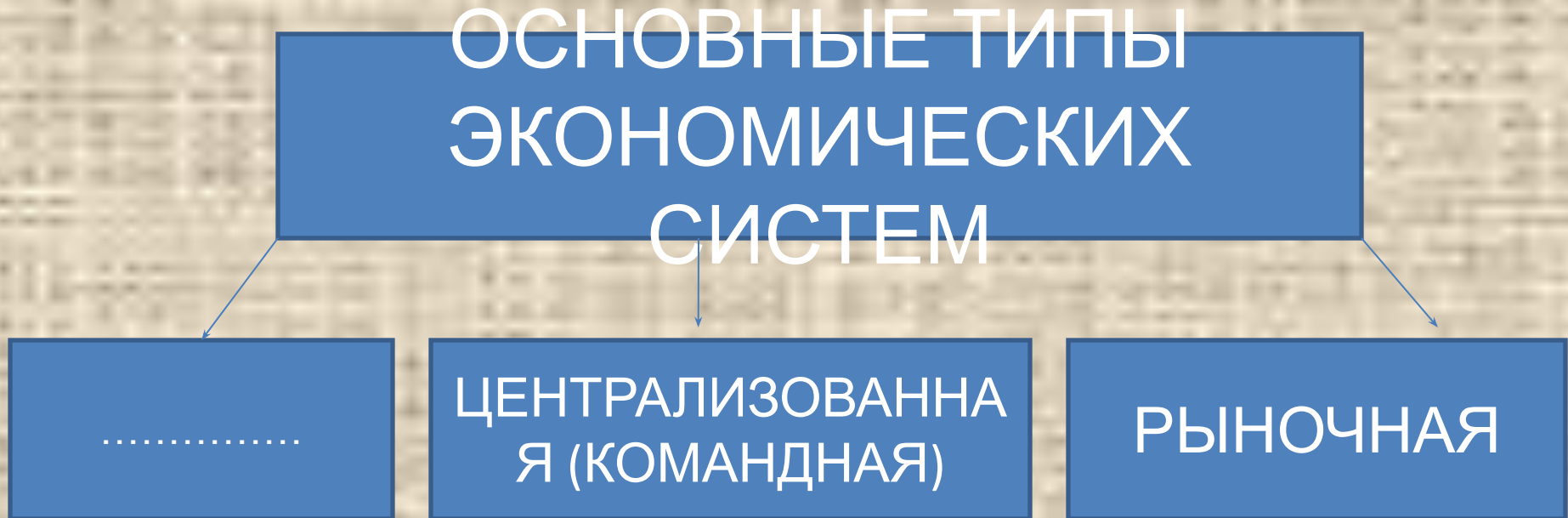
ая

Запишите слово, пропущенное в  
схеме



Ответ: **несовершенная**

Запишите слово, пропущенное в  
схеме



Ответ: **традиционн  
ая**

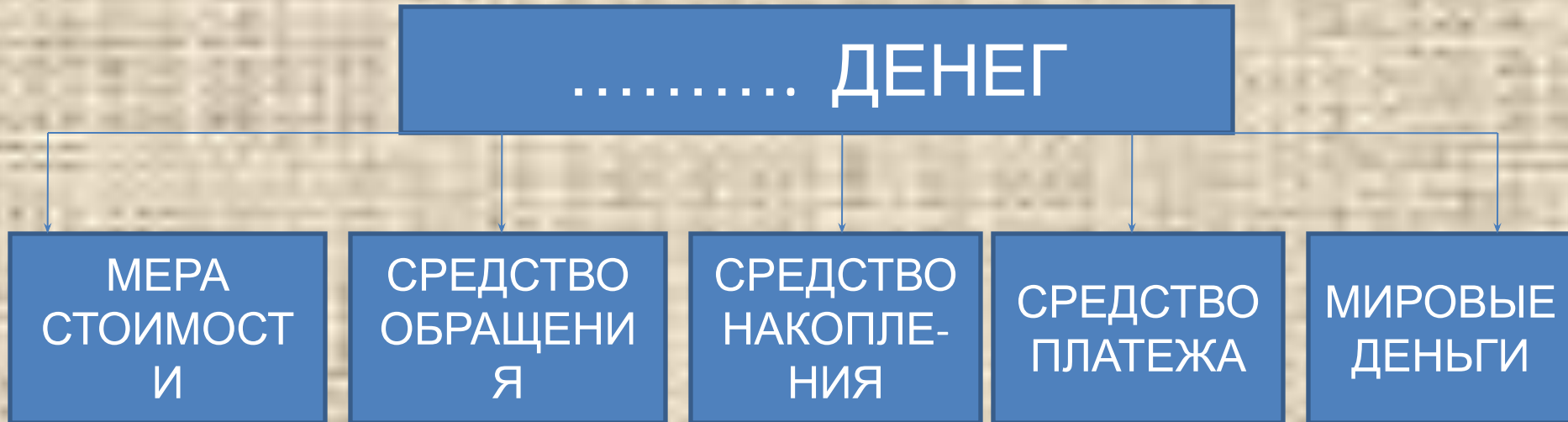
Запишите слово, пропущенное в  
схеме



Ответ: **ОЛИГОПОЛИИ**

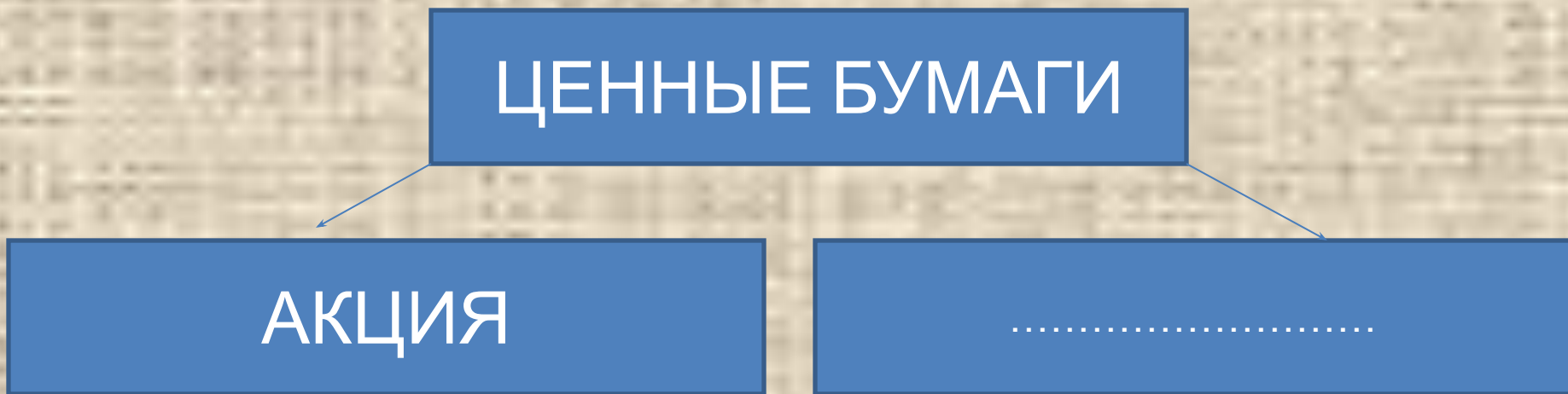


# Запишите слово, пропущенное в схеме



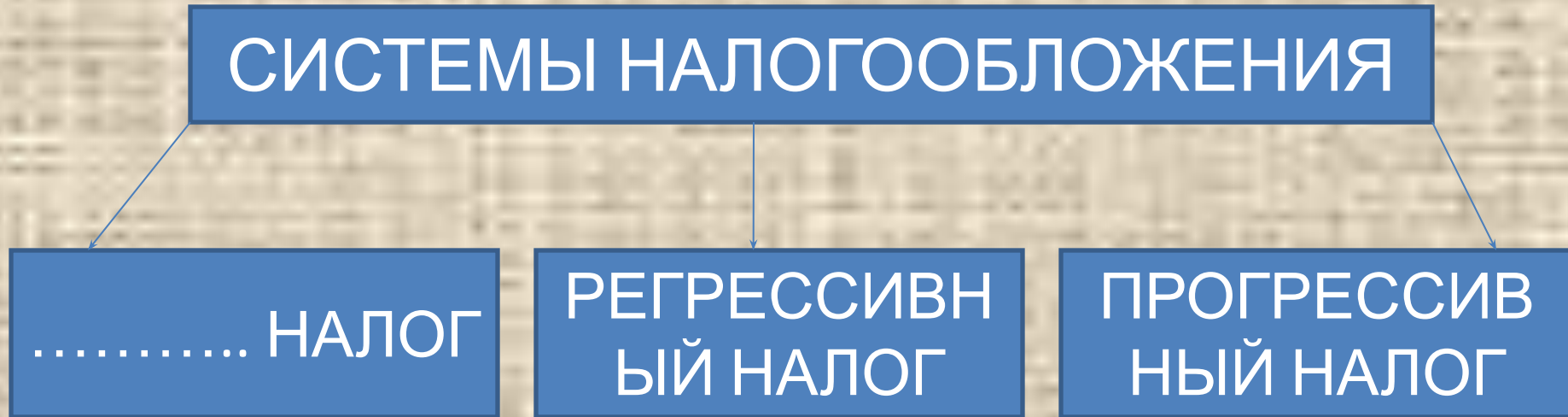
Ответ: **функции**  
**и**

Запишите слово, пропущенное в  
схеме



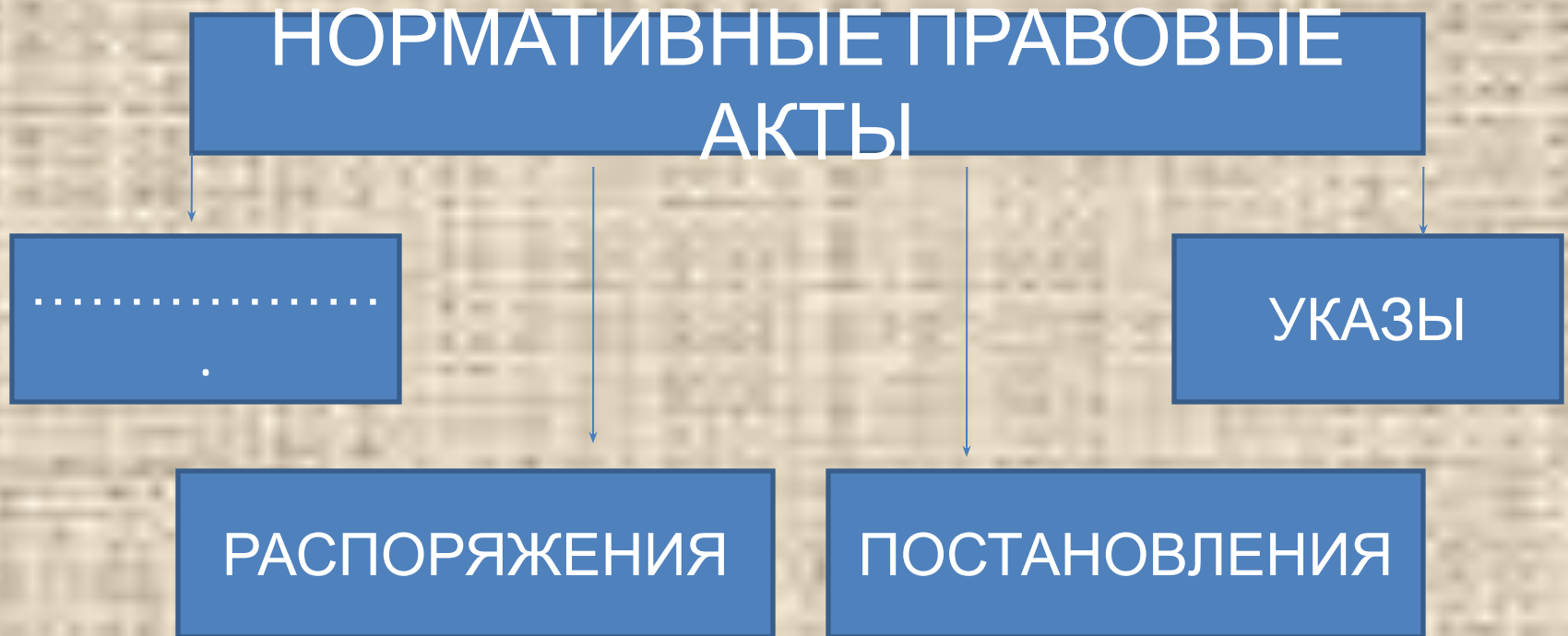
Ответ: облигац  
ия

Запишите слово, пропущенное в  
схеме



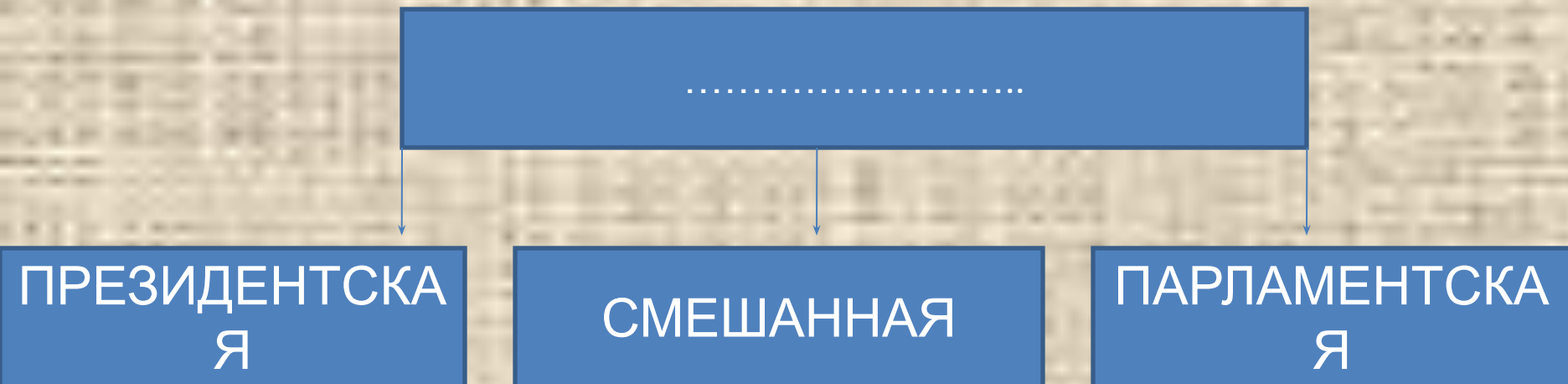
Ответ: **пропорциональн  
ый**

Запишите слово, пропущенное в  
схеме



ОТВЕТ: **ЗАКОН**  
**Ы**

Запишите слово, пропущенное в  
схеме



ОТВЕ  
Т:

**РЕСПУБЛИ  
КА**



Запишите слово, пропущенное в  
схеме



Ответ: **ПРЯМЫЕ**

Запишите слово, пропущенное в  
схеме

ВНЕШНЕТОРГОВАЯ  
ПОЛИТИКА  
ГОСУДАРСТВА

```
graph TD; A[ВНЕШНЕТОРГОВАЯ ПОЛИТИКА ГОСУДАРСТВА] --> B[.....]; A --> C[УМЕРЕННАЯ ТОРГОВАЯ ПОЛИТИКА]; A --> D[ФРИТРЕДЕРСТВО]
```

.....

УМЕРЕННАЯ  
ТОРГОВАЯ  
ПОЛИТИКА

ФРИТРЕДЕРСТВ  
О

Ответ: **протекциониз**

**М**

Запишите слово, пропущенное в  
схеме

ПОЛИТИЧЕСКИЙ РЕЖИМ

```
graph TD; A[ПОЛИТИЧЕСКИЙ РЕЖИМ] --> B[ДЕМОКРАТИЧЕСКИЙ]; A --> C[.....]; A --> D[ТОТАЛИТАРНЫЙ]
```

ДЕМОКРАТИЧЕС  
КИЙ

.....

ТОТАЛИТАРНЫ  
Й

ОТВЕ  
Т:

АВТОРИТАР  
НЫЙ

Запишите слово, пропущенное в  
схеме



Ответ: РЕАЛЬН  
АЯ



Запишите слово, пропущенное в  
схеме

ОСНОВНЫЕ СФЕРЫ ОБЩЕСТВЕННОЙ  
ЖИЗНИ

```
graph TD; A[ОСНОВНЫЕ СФЕРЫ ОБЩЕСТВЕННОЙ ЖИЗНИ] --> B[ЭКОНОМИЧЕСКАЯ]; A --> C[.....]; A --> D[ПОЛИТИЧЕСКАЯ]; A --> E[ДУХОВНАЯ];
```

ЭКОНОМИЧЕСКАЯ

.....

ПОЛИТИЧЕСКАЯ

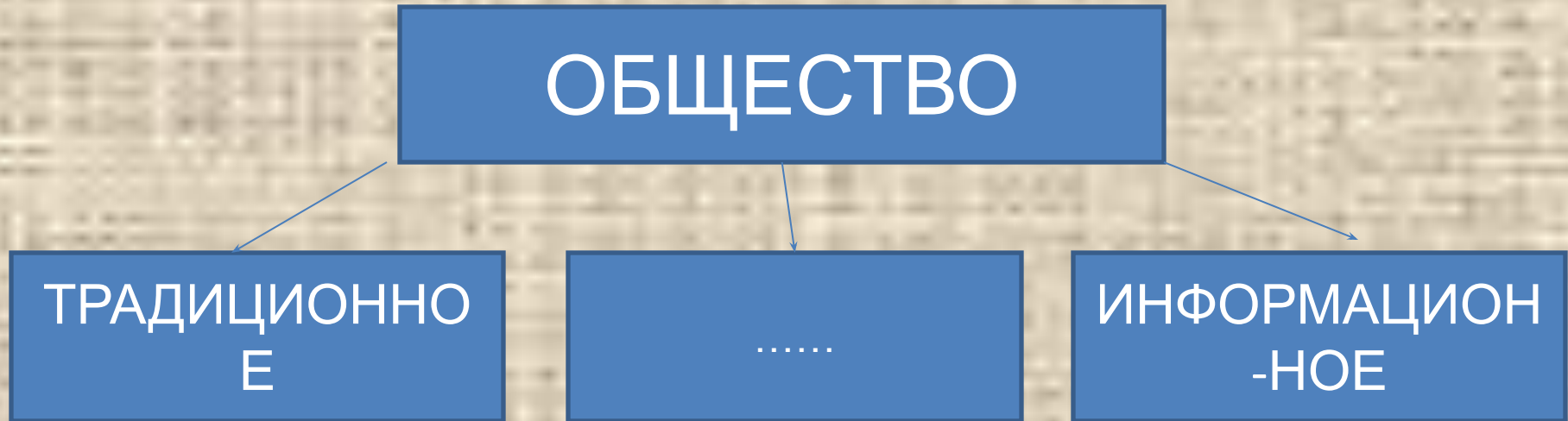
ДУХОВНАЯ

Ответ:

**СОЦИАЛЬНАЯ**

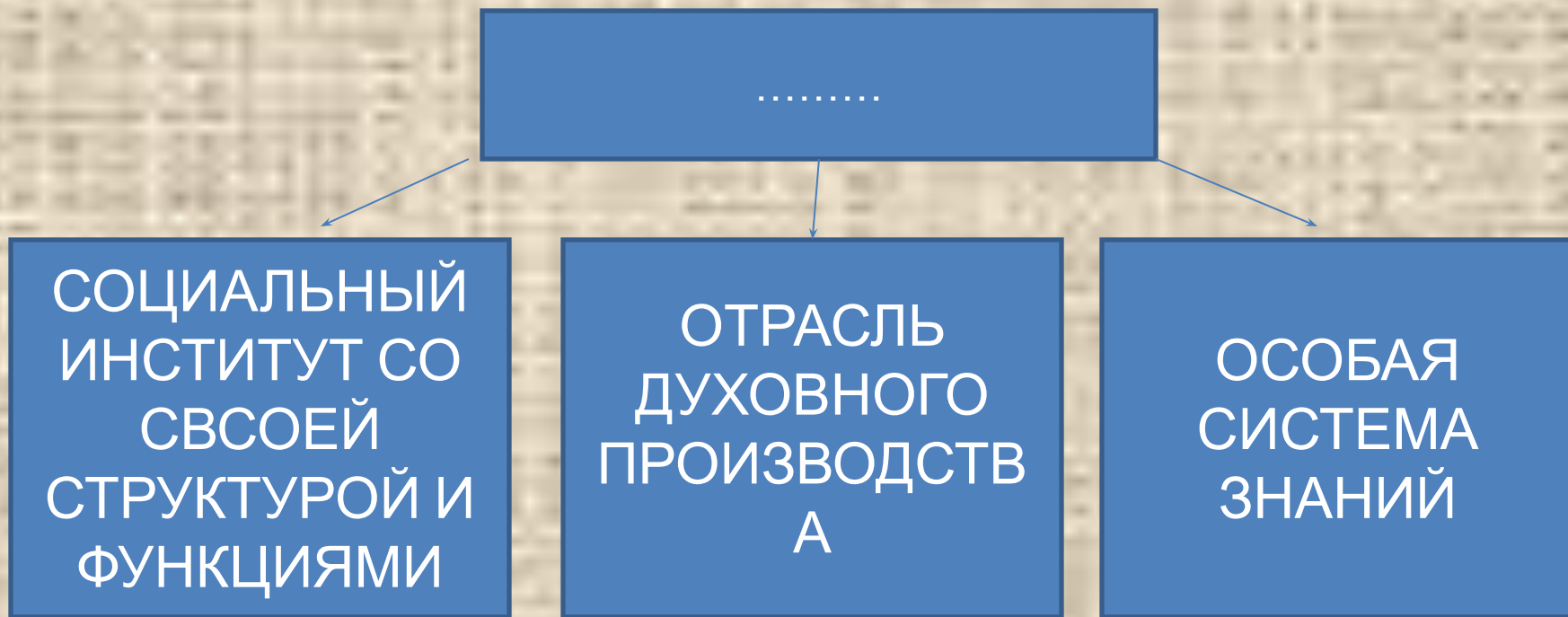


Запишите слово, пропущенное в  
схеме



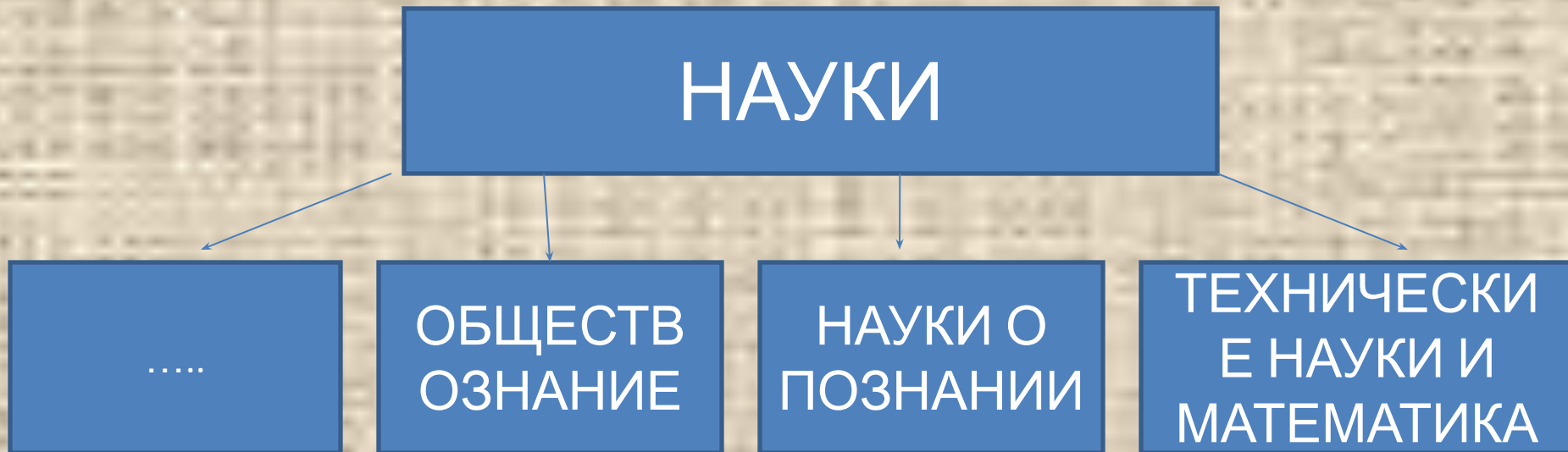
Ответ: **ИНДУСТРИАЛЬНОЕ**

# Запишите слово, пропущенное в схеме



Ответ: **НАУК**  
**А**

Запишите слово, пропущенное в  
схеме



Ответ: **ЕСТЕСТВОЗНА  
НИЕ**

Запишите слово, пропущенное в  
схеме

ГЛАВНЫЕ ПРИЗНАКИ .....

```
graph TD; A[ГЛАВНЫЕ ПРИЗНАКИ .....] --> B[ВЕРА В СВЕРХЪЕСТЕСТВЕННОЕ]; A --> C[ОРГАНИЗОВАННОЕ ПОКЛОНЕНИЕ ВЫСШИМ СИЛАМ]; A --> D[СТРЕМЛЕНИЕ СОГЛАСОВАТЬ ЖИЗНЬ С ТРЕБОВАНИЯМИ БЕЗУСЛОВНОГО НАЧАЛА];
```

ВЕРА В  
СВЕРХЪЕСТЕС  
ТВЕННОЕ

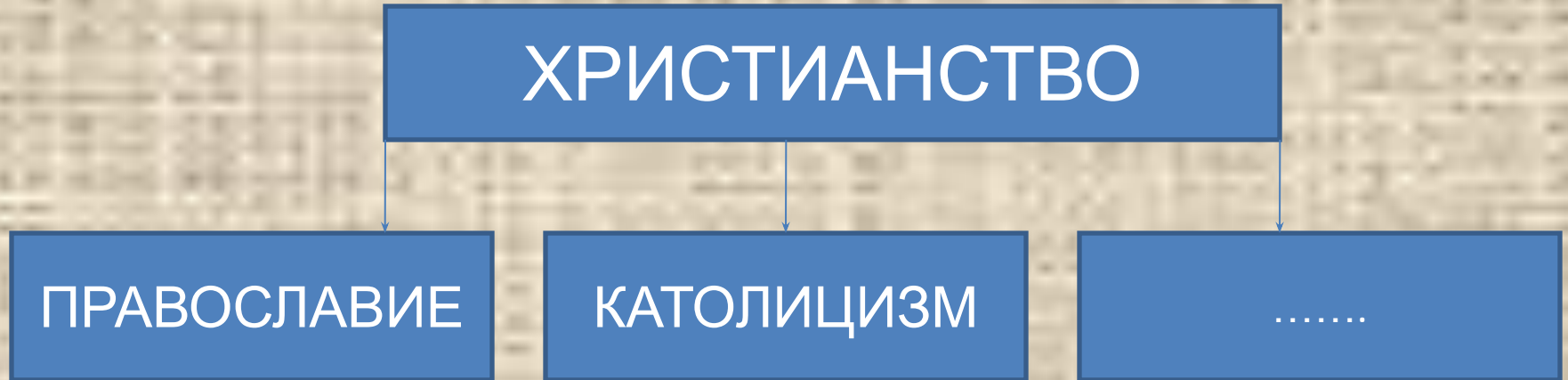
ОРГАНИЗОВАНН  
ОЕ  
ПОКЛОНЕНИЕ  
ВЫСШИМ СИЛАМ

СТРЕМЛЕНИЕ  
СОГЛАСОВАТЬ  
ЖИЗНЬ С  
ТРЕБОВАНИЯМИ  
БЕЗУСЛОВНОГО  
НАЧАЛА

Ответ: РЕЛИГИ

И

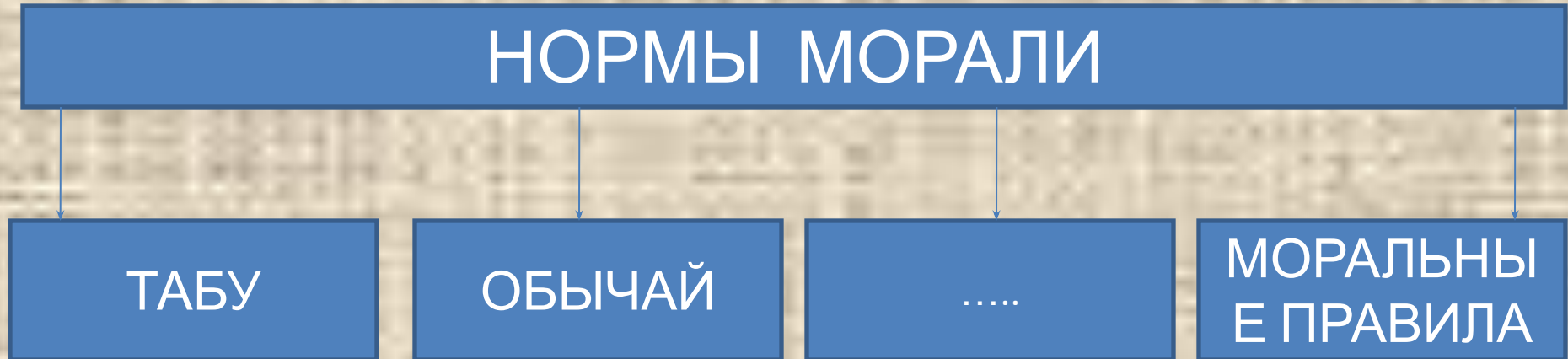
Запишите слово, пропущенное в  
схеме



Ответ: **ПРОТЕСТАНТИ**  
**ЗМ**



Запишите слово, пропущенное в  
схеме



ОТВЕТ:

**ТРАДИЦ  
ИЯ**

Запишите слово, пропущенное в  
схеме

ТИПЫ ПОЛИТИЧЕСКОЙ ВЛАСТИ

```
graph TD; A[ТИПЫ ПОЛИТИЧЕСКОЙ ВЛАСТИ] --> B[ТРАДИЦИОННЫЙ]; A --> C[ЛЕГАЛЬНЫЙ]; A --> D[.....]
```

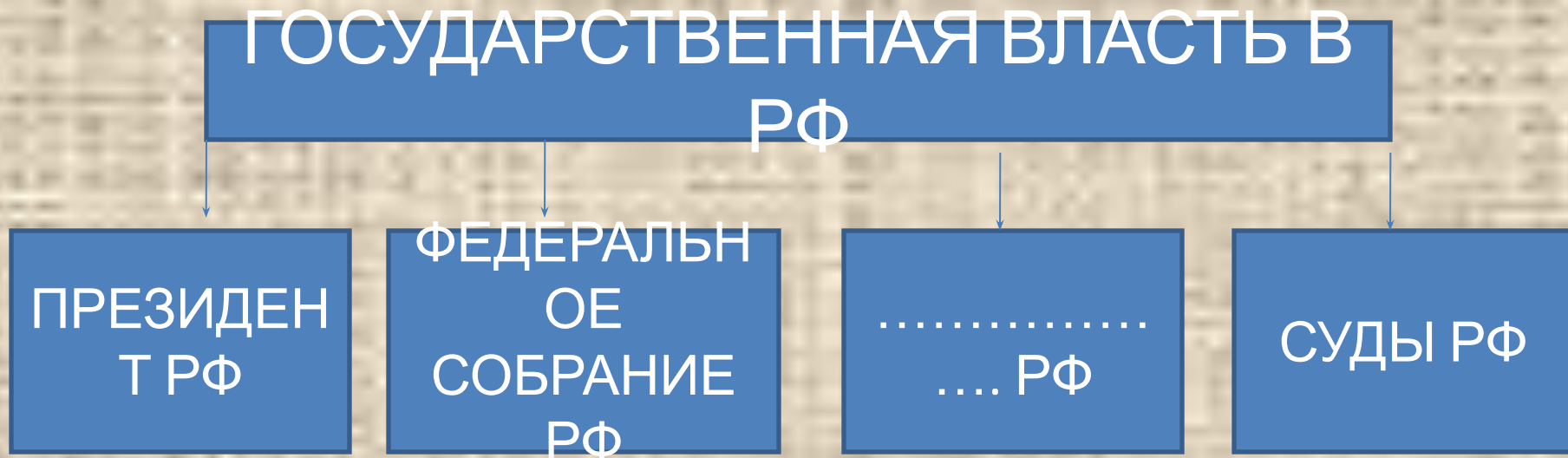
ТРАДИЦИОННЫЙ

ЛЕГАЛЬНЫЙ

.....

ОТВЕТ: **ХАРИЗМАТИЧЕСКИЙ**

Запишите слово, пропущенное в  
схеме



ОТВЕТ: **ПРАВИТЕЛЬСТВО**

Запишите слово, пропущенное в  
схеме

ФОРМА ПРАВЛЕНИЯ

```
graph TD; A[ФОРМА ПРАВЛЕНИЯ] --> B[МОНАРХИЯ]; A --> C[.....];
```

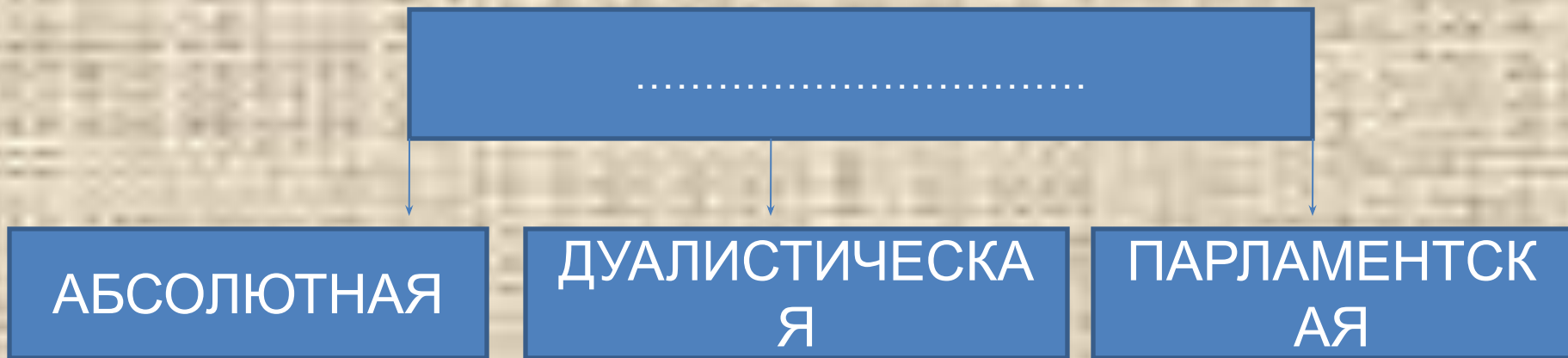
МОНАРХИЯ

.....

ОТВЕТ: **РЕСПУБЛИ  
КА**



Запишите слово, пропущенное в  
схеме



ОТВЕТ: **МОНАРХИ**  
**Я**

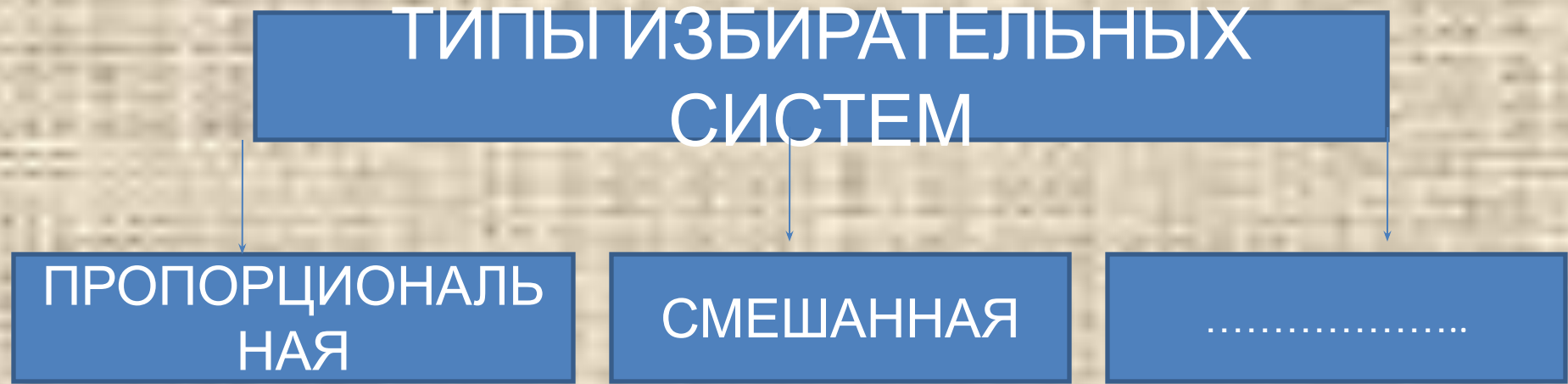


Запишите слово, пропущенное в  
схеме



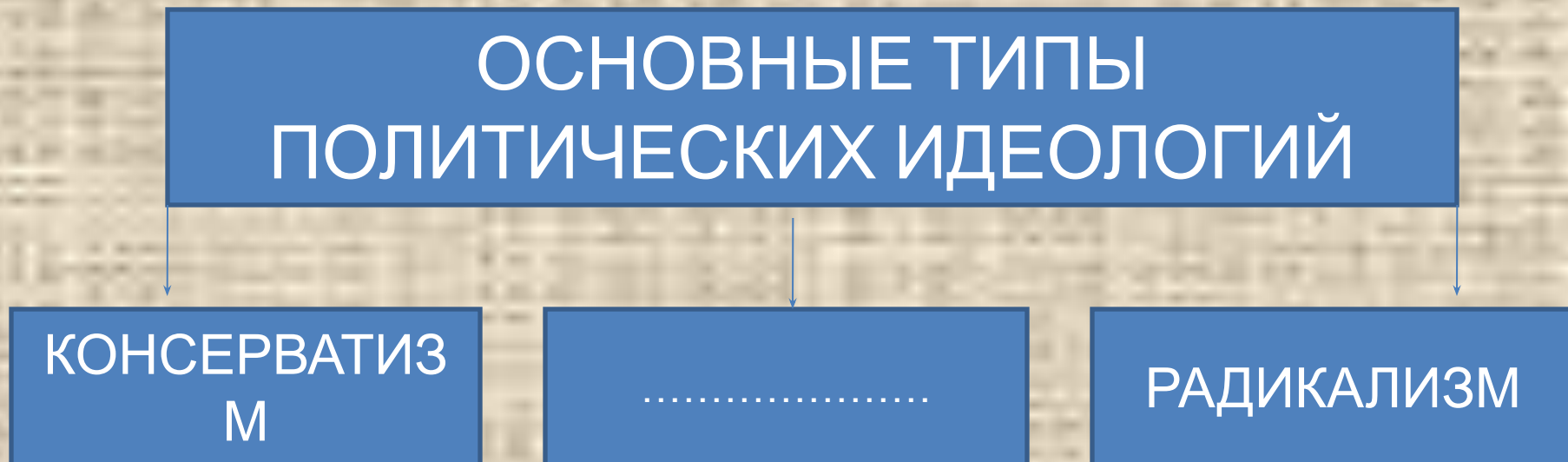
ОТВЕТ: **УЧРЕЖДЕН  
ИЯ**

Запишите слово, пропущенное в  
схеме



ОТВЕТ: **МАЖОРИТАРНАЯ**

Запишите слово, пропущенное в  
схеме



ОТВЕТ: **ЛИБЕРАЛИЗМ**

Запишите слово, пропущенное в  
схеме

ПОТРЕБНОСТИ ЧЕЛОВЕКА

```
graph TD; A[ПОТРЕБНОСТИ ЧЕЛОВЕКА] --> B[БИОЛОГИЧЕСКИЕ  
(ОРГАНИЧЕСКИЕ,  
МАТЕРИАЛЬНЫЕ)]; A --> C[.....]; A --> D[ДУХОВНЫЕ  
(ИДЕАЛЬНЫЕ,  
ПОЗНАВАТЕЛЬНЫЕ)];
```

БИОЛОГИЧЕСКИЕ  
(ОРГАНИЧЕСКИЕ,  
МАТЕРИАЛЬНЫЕ)

.....

ДУХОВНЫЕ  
(ИДЕАЛЬНЫЕ,  
ПОЗНАВАТЕЛЬНЫЕ)

ОТВЕТ: **СОЦИАЛЬНЫЕ**

Запишите слово, пропущенное в

схеме

ВИДЫ ДЕЯТЕЛЬНОСТИ, В КОТОРЫЕ  
НЕИЗБЕЖНО ВКЛЮЧАЕТСЯ КАЖДЫЙ  
ЧЕЛОВЕК В ПРОЦЕССЕ СВОЕГО  
ИНДИВИДУАЛЬНОГО РАЗВИТИЯ

ИГРА

ОБЩЕНИЕ

УЧЕНИЕ

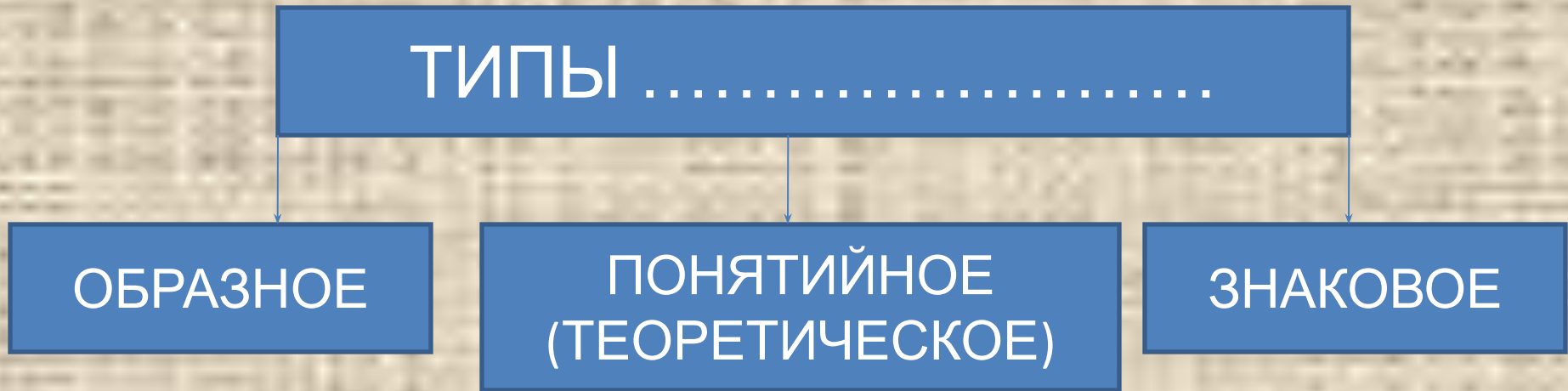
.....

ОТВЕТ: ТРУ

Д



Запишите слово, пропущенное в  
схеме



ОТВЕТ: **МЫШЛЕН  
ИЯ**

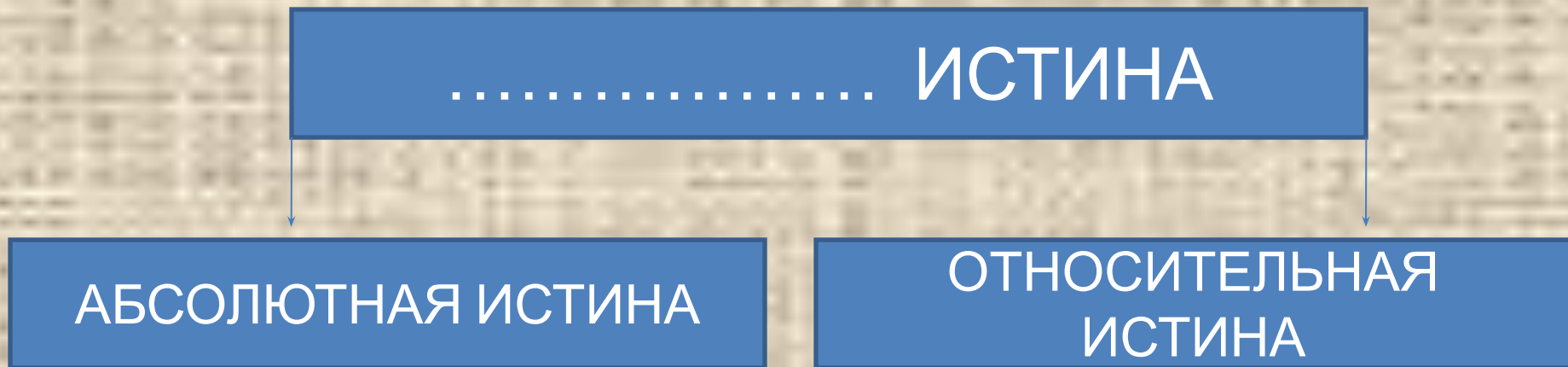
Запишите слово, пропущенное в  
схеме



ОТВЕ  
Т:

**МИРОВОЗЗРЕН  
ИЯ**

Запишите слово, пропущенное в  
схеме



ОТВЕ  
Т:

**ОБЪЕКТИВН  
АЯ**

Запишите слово, пропущенное в  
схеме

СТРУКТУРА ПРАВОВОЙ НОРМЫ

```
graph TD; A[СТРУКТУРА ПРАВОВОЙ НОРМЫ] --> B[.....]; A --> C[ДИСПОЗИЦИЯ]; A --> D[САНКЦИЯ];
```

.....

ДИСПОЗИЦИЯ

САНКЦИЯ

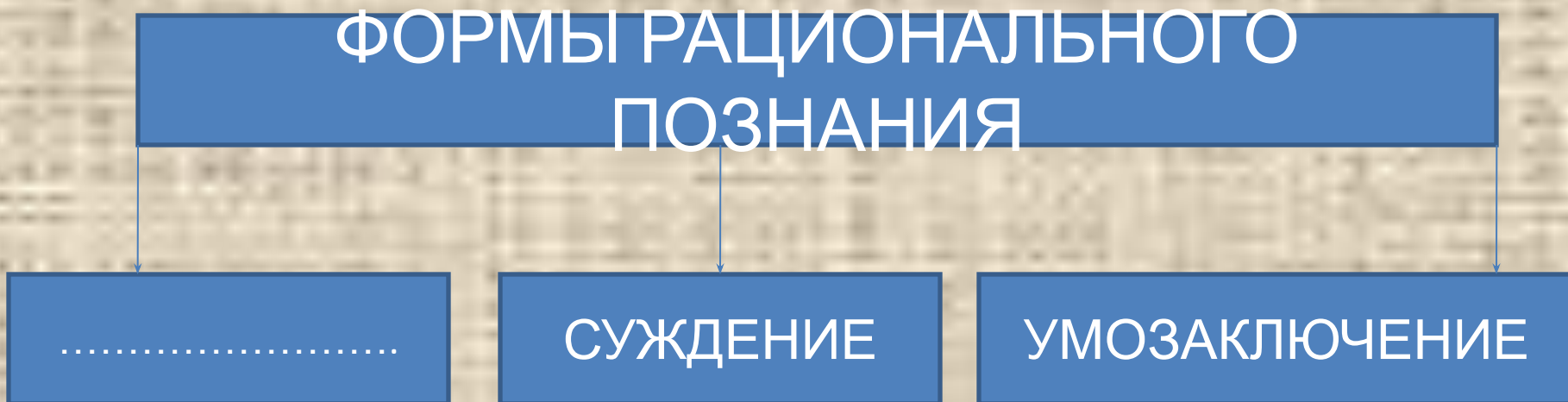
ОТВЕ

Т:

**ГИПОТЕ**

**ЗА**

Запишите слово, пропущенное в  
схеме



ОТВЕТ: ПОНЯТ  
ИЕ



Запишите слово, пропущенное в

схеме

НАУКИ, ДАЮЩИЕ  
НАИБОЛЕЕ ОБЩИЕ  
ЗНАНИЯ ОБ  
ОБЩЕСТВЕ

ФИЛОСОФИЯ

.....

ОТВЕТ:

**СОЦИОЛОГ  
ИЯ**

Запишите слово, пропущенное в  
схеме

СУЩНОСТНЫЕ ЧЕРТЫ  
ПОЛИТИЧЕСКОЙ ВЛАСТИ

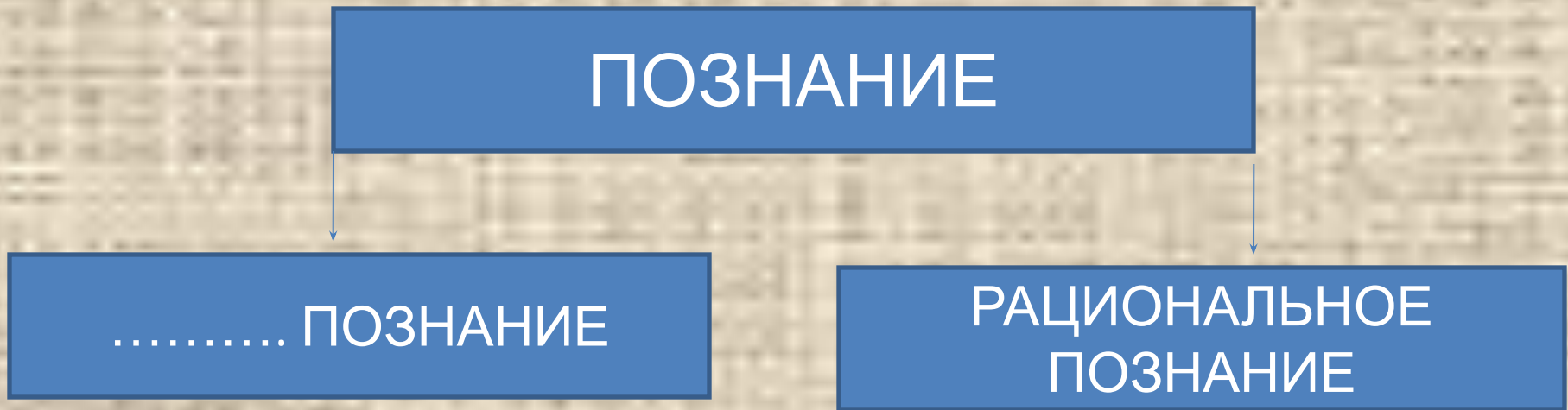
```
graph TD; A[СУЩНОСТНЫЕ ЧЕРТЫ ПОЛИТИЧЕСКОЙ ВЛАСТИ] --> B[.....  
...]; A --> C[СПОСОБЫ ПРИНУЖДЕНИЯ]; A --> D[ЛЕГИТИМНОСТЬ];
```

СПОСОБЫ  
ПРИНУЖДЕНИЯ

ЛЕГИТИМНОСТЬ

ОТВЕТ: СУВЕРЕННОСТЬ

Запишите слово, пропущенное в  
схеме



ОТВЕТ: **ЧУВСТВЕНН  
ОЕ**

Запишите слово, пропущенное в  
схеме

.....  
ОТНОШЕНИЯ

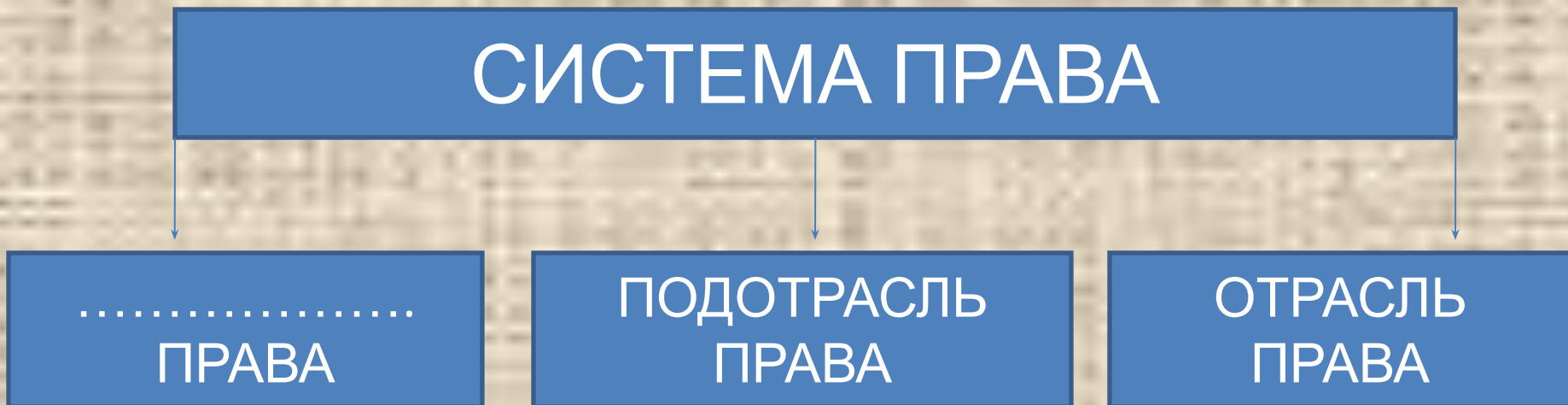
ОТНОШЕНИЯ МЕЖДУ  
РАЗНЫМИ  
НАЦИОНАЛЬНОСТЯМИ  
ВНУТРИ ОДНОГО  
ГОСУДАРСТВА

ОТНОШЕНИЯ МЕЖДУ  
РАЗНЫМИ НАЦИЯМИ-  
ГОСУДАРСТВАМИ

ОТВЕ  
Т:

**МЕЖНАЦИОНАЛЬН  
ЫЕ**

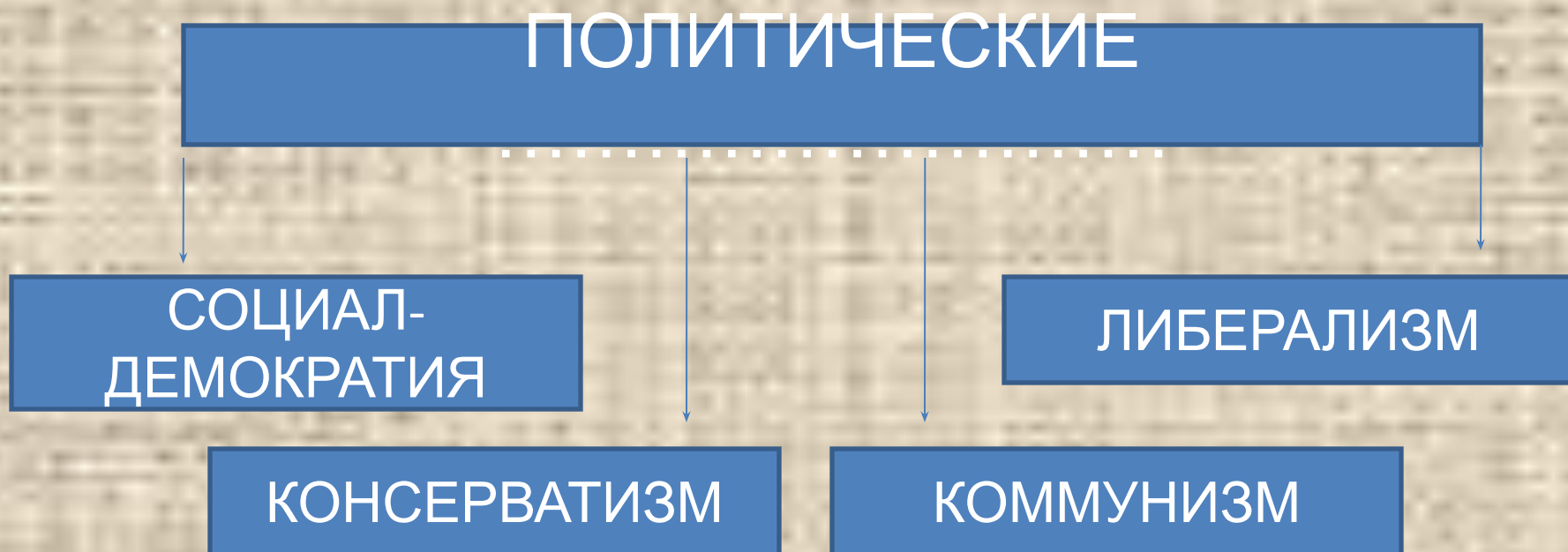
Запишите слово, пропущенное в  
схеме



ОТВЕ  
Т: **ИНСТИТ  
УТ**

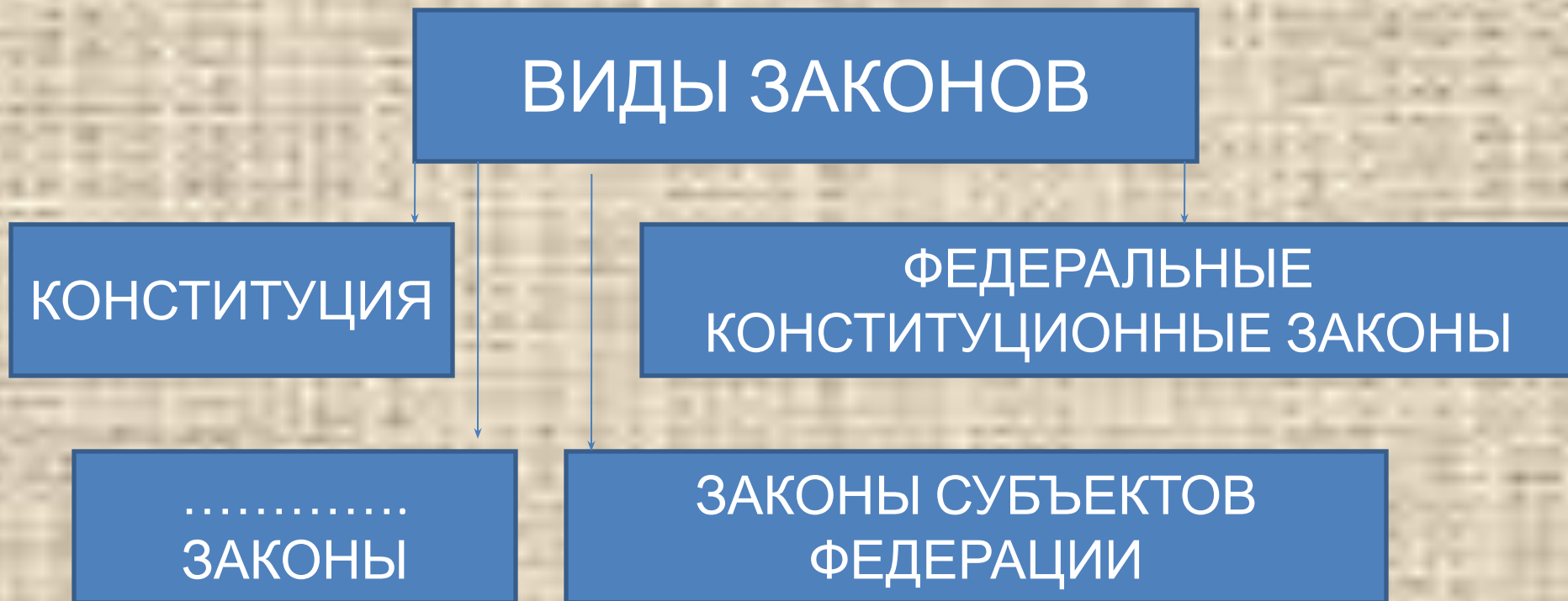


Запишите слово, пропущенное в  
схеме



ОТВЕТ: **ИДЕОЛОГИИ**

Запишите слово, пропущенное в  
схеме



ОТВЕТ: **ФЕДЕРАЛЬН  
ЫЕ**

Запишите слово, пропущенное в  
схеме

СТРУКТУРА ПРАВООТНОШЕНИЯ

```
graph TD; A[СТРУКТУРА ПРАВООТНОШЕНИЯ] --> B[СУБЪЕКТ (СТОРОНА) ПРАВООТНОШЕНИЯ]; A --> C[ОБЪЕКТ ПРАВООТНОШЕНИЯ]; A --> D[..... ПРАВООТНОШЕНИЯ];
```

СУБЪЕКТ  
(СТОРОНА)  
ПРАВООТНОШЕН  
ИЯ

ОБЪЕКТ  
ПРАВООТНОШЕН  
ИЯ

.....  
ПРАВООТНОШЕН  
ИЯ

ОТВЕТ: **СОДЕРЖАНИЕ**

Запишите слово, пропущенное в  
схеме

ЮРИДИЧЕСКИЕ ФАКТЫ

```
graph TD; A[ЮРИДИЧЕСКИЕ ФАКТЫ] --> B[СОБЫТИЯ]; A --> C[.....];
```

СОБЫТИЯ

.....

ОТВЕТ: **ДЕЙСТВИЯ**

Запишите слово, пропущенное в  
схеме

ПРАВОНАРУШЕНИЯ

```
graph TD; A[ПРАВОНАРУШЕНИЯ] --> B[ПРЕСТУПЛЕНИЯ]; A --> C[.....];
```

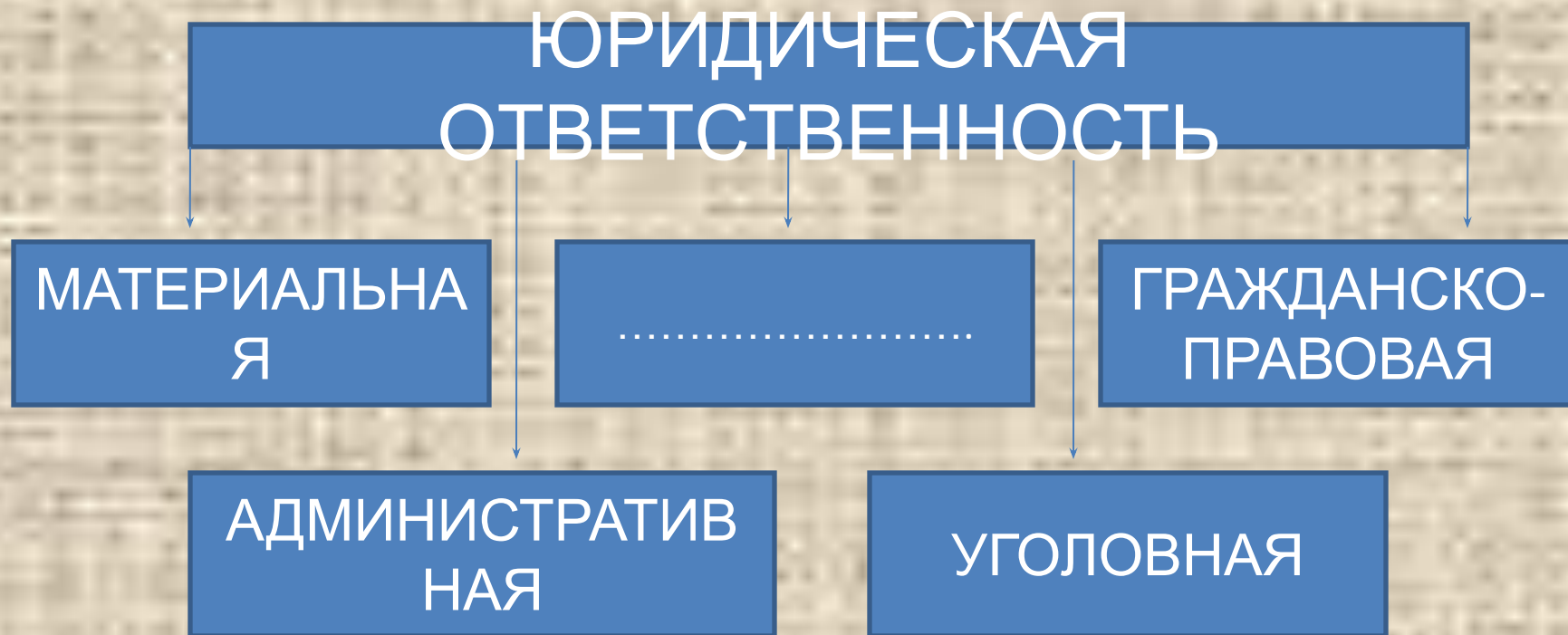
ПРЕСТУПЛЕНИЯ

.....

ОТВЕТ: **ПРОСТУП  
КИ**

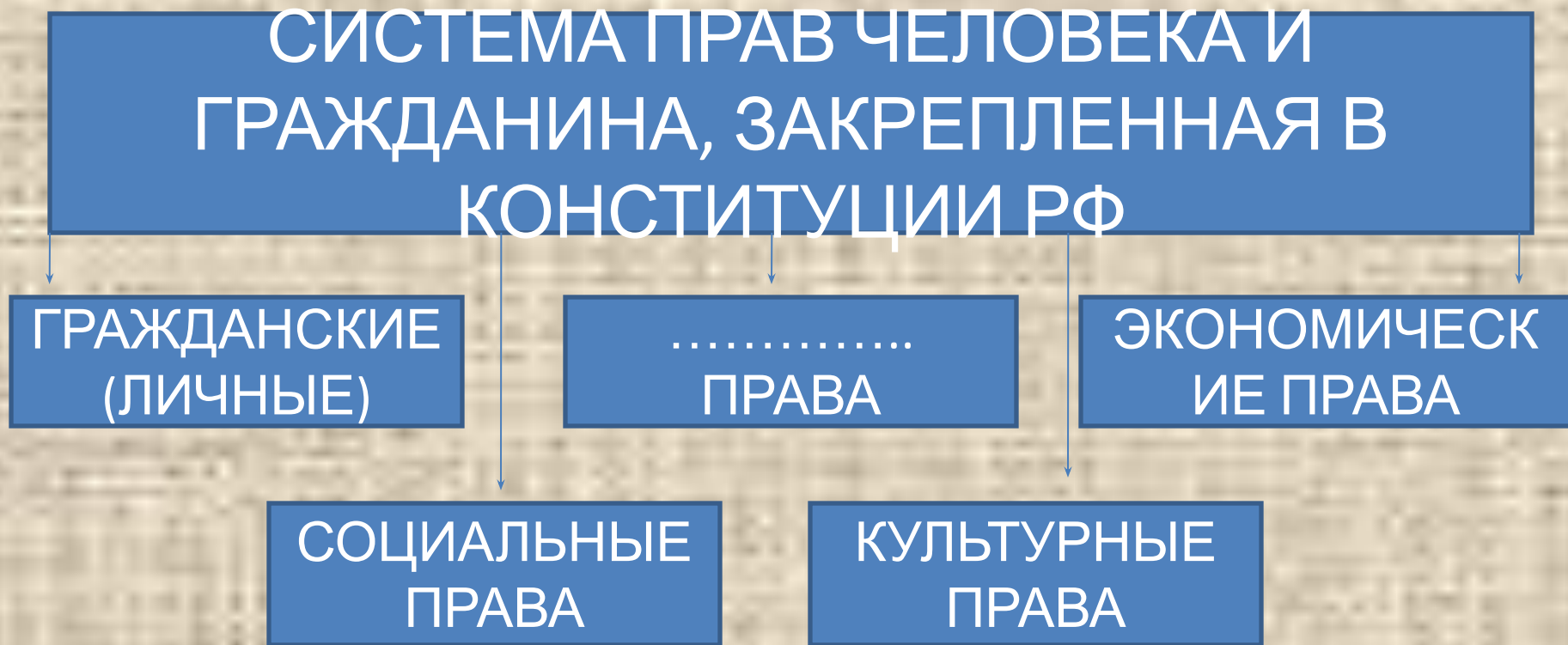


Запишите слово, пропущенное в  
схеме



ОТВЕТ: **ДИСЦИПЛИНАРНАЯ**

Запишите слово, пропущенное в  
схеме



ОТВЕТ: **ПОЛИТИЧЕСКИЕ**

Запишите слово, пропущенное в

схеме

ФОРМЫ НАЦИОНАЛЬНОЙ  
ГОСУДАРСТВЕННОСТИ НАРОДОВ  
РОССИИ

```
graph TD; A[ФОРМЫ НАЦИОНАЛЬНОЙ ГОСУДАРСТВЕННОСТИ НАРОДОВ РОССИИ] --> B[РЕСПУБЛИК А]; A --> C[АВТОНОМНАЯ ОБЛАСТЬ]; A --> D[АВТОНОМНЫЙ .....];
```

РЕСПУБЛИК  
А

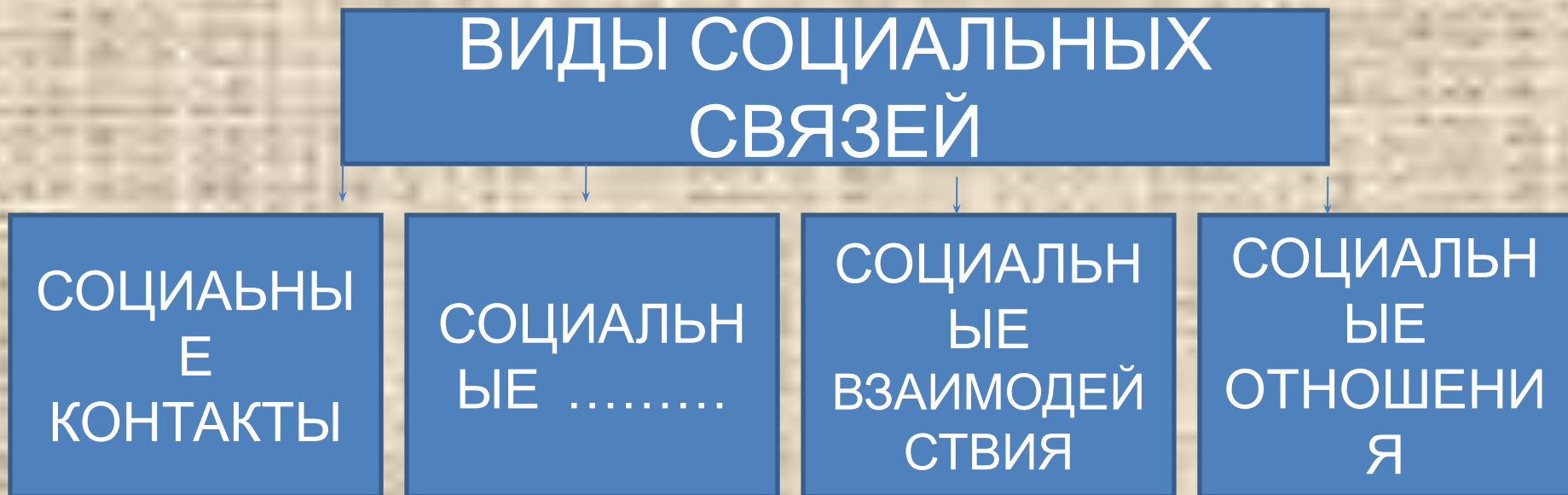
АВТОНОМНАЯ  
ОБЛАСТЬ

АВТОНОМНЫЙ  
.....

ОТВЕТ: **ОКРУ**

**Г**

Запишите слово, пропущенное в  
схеме



ОТВЕТ: **ДЕЙСТВИЯ**

Запишите слово, пропущенное в

схеме

СТАТУСЫ, ОПРЕДЕЛЯЕМЫЕ  
ПОЛОЖЕНИЕМ ИНДИВИДА В  
ГРУППЕ

СОЦИАЛЬНЫЙ СТАТУС

..... СТАТУС

ОТВЕТ: **ЛИЧНЫ  
Й**



Запишите слово, пропущенное в  
схеме

ГЛАВНЫЕ ВОПРОСЫ  
ЭКОНОМИКИ

```
graph TD; A[ГЛАВНЫЕ ВОПРОСЫ ЭКОНОМИКИ] --> B[ЧТО ПРОИЗВОДИТЬ?]; A --> C[.....]; A --> D[ДЛЯ КОГО ПРОИЗВОДИТЬ?]
```

ЧТО  
ПРОИЗВОДИТЬ?

.....

ДЛЯ КОГО  
ПРОИЗВОДИТЬ?

ОТВЕТ:

**КАК  
ПРОИЗВОДИТЬ?**