

«На помощь Ивану-
Пятикласснику»



Ребята!

Мы получили очень тревожное письмо от нашего старого знакомого Хоттабыча. Он пишет:



бросит

и

*«Жить надо в завтрашнем утра».
Высылаю свой ковёр-самолёт.
Старик Хоттабыч!»*

Прочитайте число.

345 760 198 205 051

Назовите классы числа.


Назовите старший разряд числа.

**Какая цифра стоит в разряде: триллионов; сотен
миллиардов,**

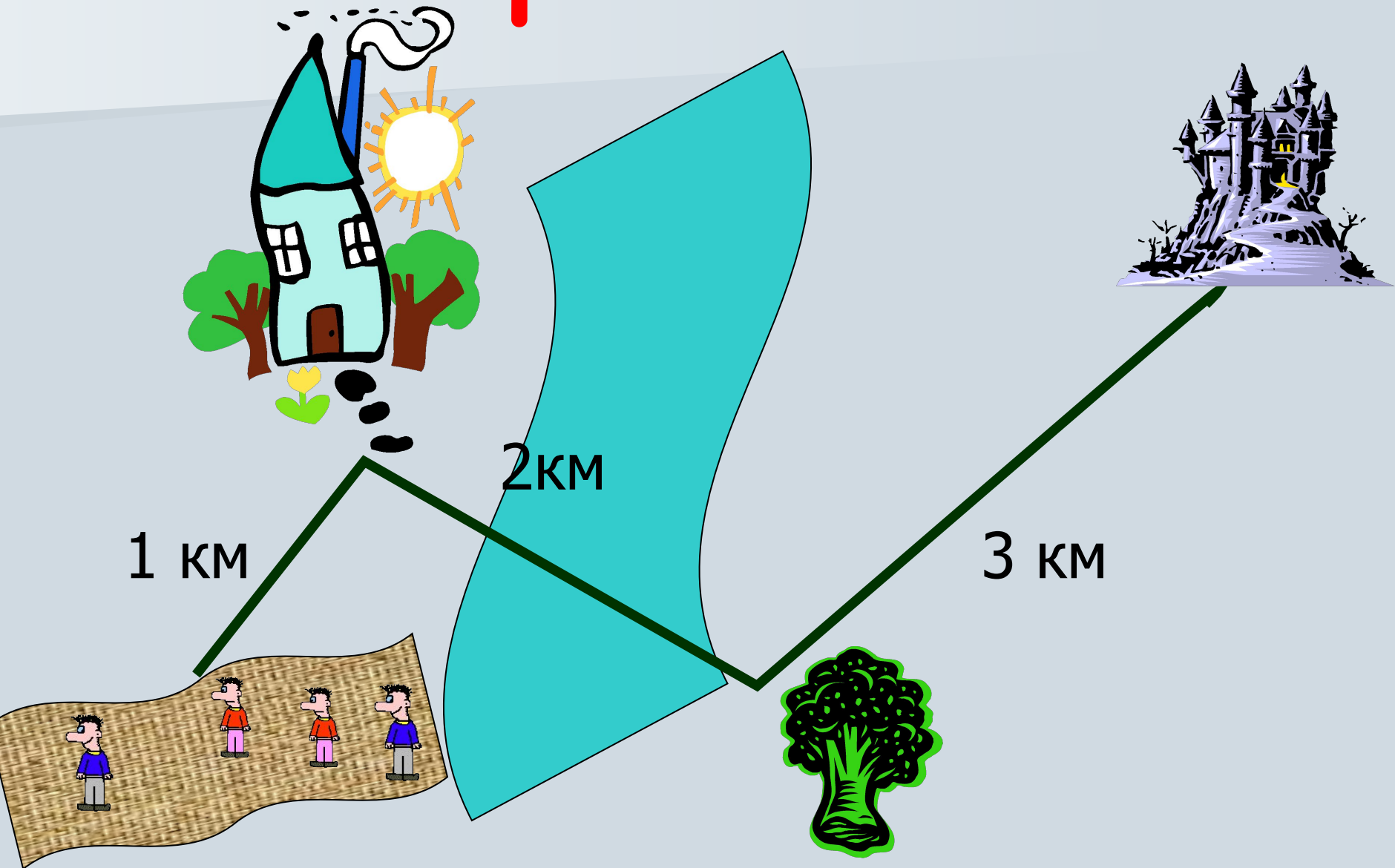
десятков миллионов, тысяч, единиц?

В каких разрядах стоит цифра 5; цифра 1?

Какие разряды отсутствуют?



Страна сказок


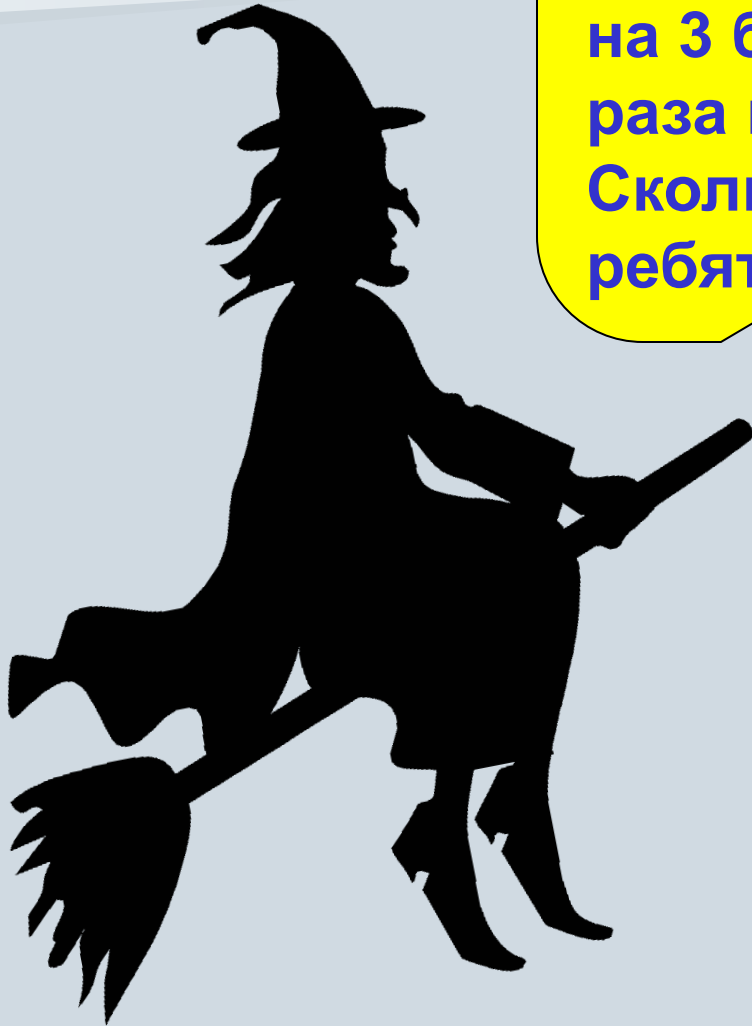


Запишите решение задачи в виде числового выражения и найдите его значение:

**У Коли было 5 орехов,
Саши – в 2 раза меньше,
а у Миши было в 3 раза больше орехов, чем у Саши.**

Запишите решение задачи в виде числового выражения и найдите его значение:

У Коли было 5 орехов, у Миши на 3 больше, а у Саши – в 2 раза меньше, чем у Миши. Сколько всего орехов было у ребят?



Записать число цифрами:

509 000 240
500

102 230 073

48 044 875 000
000

402 402 402
402 402

сорок восемь

миллионов

четыреста два

четыреста два

Выполните рисунок

по описанию:

Прямые AB и CD
секаются в точке O .

Луч MN пересекает

прямую AB

в точках K и L .

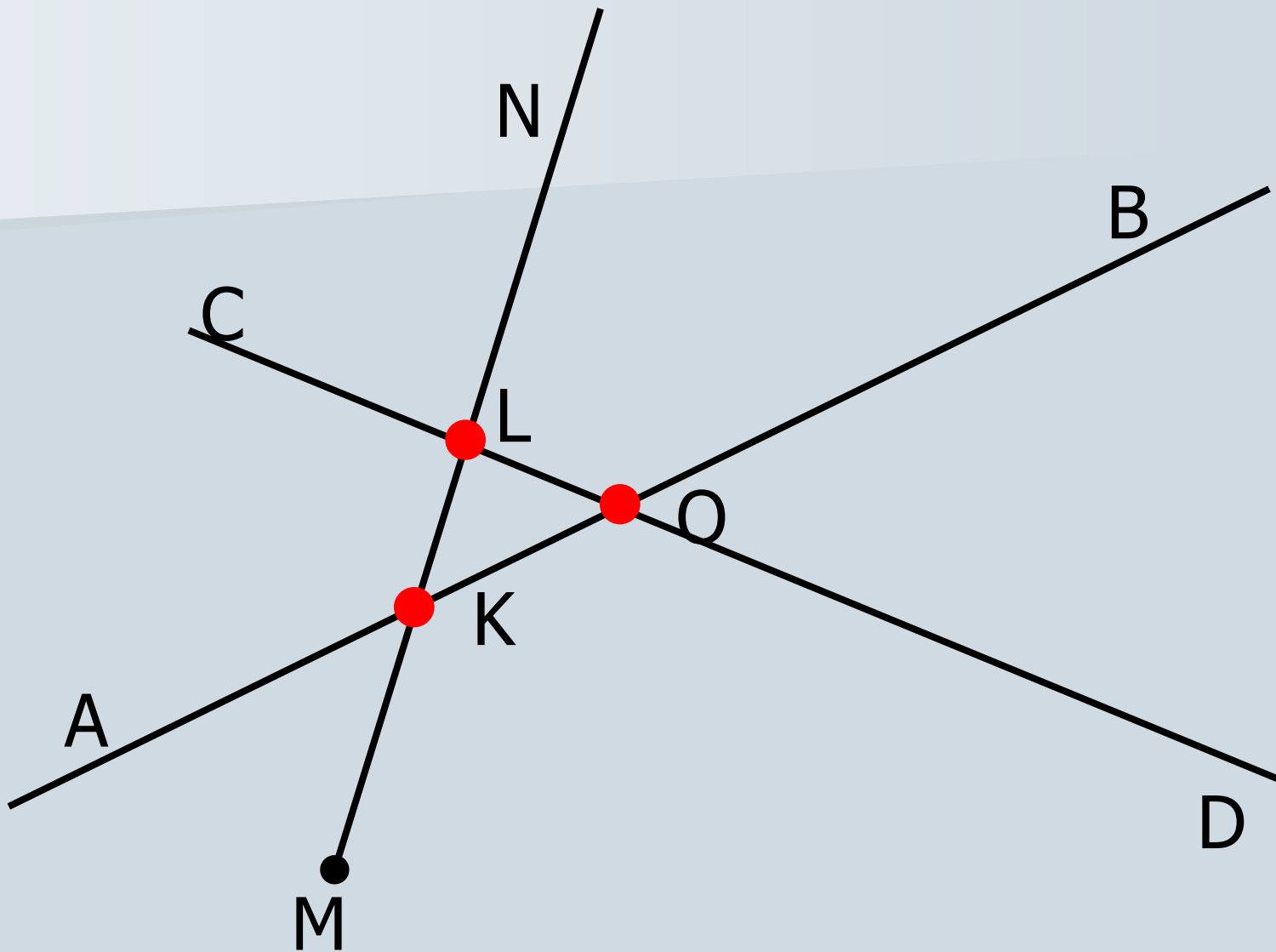



Чтобы сундук открылся,
выполните рисунок

по описанию:

Прямые AB и CD
пересекаются в точке O .

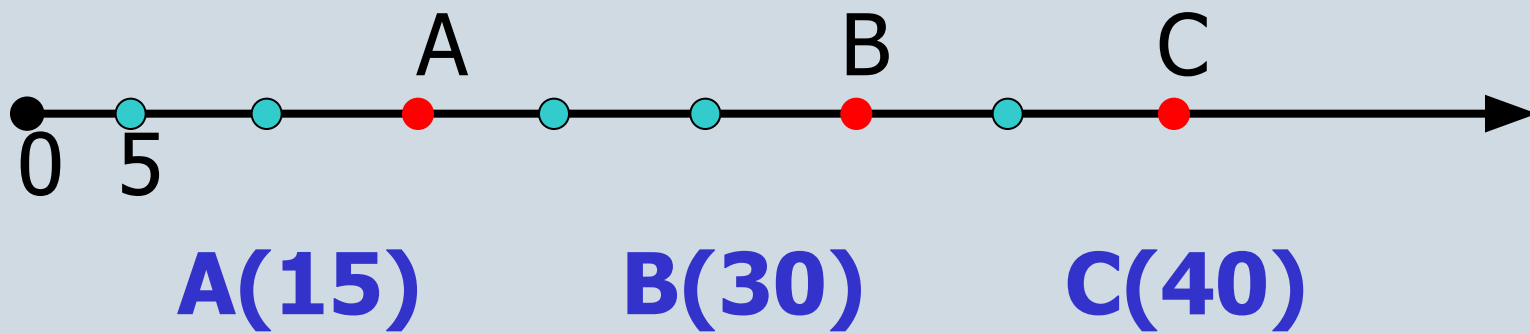
Луч MN пересекает
прямые AB и CD
в точках K и L .





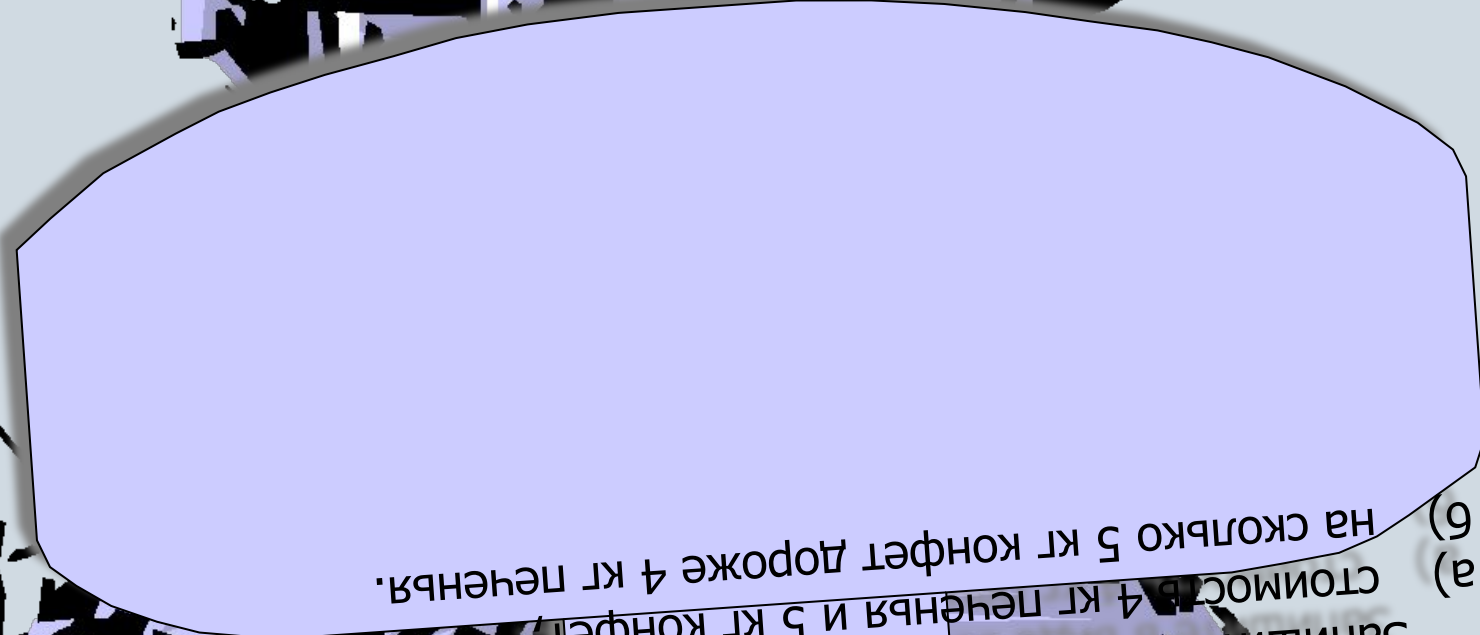
Скорость зайца x км/ч, а наша – y км/ч. Запишите в виде выражения:

- **а) скорость сближения при движении навстречу;**
- **б) скорость удаления при движении в противоположные стороны;**
- **в) скорость сближения, при условии, что мы догоняем зайца**
- **г) скорость удаления, при условии, что мы обогнали зайца.**



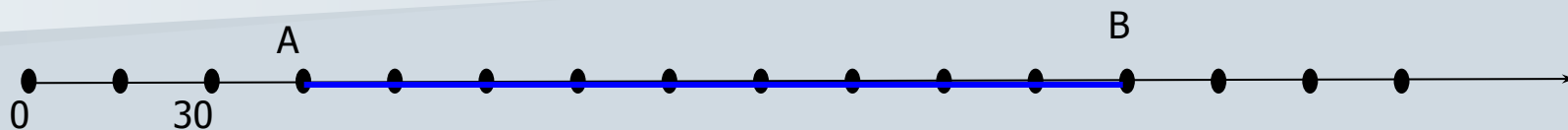
Кощей купил печенье и конфеты: 1 кг
печенья стоит n руб., 1 кг конфет стоит на 5 руб. дороже.
Запишите в виде выражения:

- а) стоимость 4 кг печенья и 5 кг конфет;
- б) на сколько 5 кг конфет дороже 4 кг печенья.




Кощей купил печенье и конфеты: 1 кг
печенья стоит n руб., 1 кг конфет стоит на 5 руб. дороже.
Запишите в виде выражения:
а) стоимость 4 кг печенья и 5 кг конфет;
б) на сколько 5 кг конфет дороже 4 кг печенья.

Найти длину отрезка АВ.



$$AB = 135$$



*С успешным возвращением из
путешествия!*



МОЛОДЦЫ!