


Ремонт в квартире

Кафельная плитка

15 см



15 см

50
рублей


20 см



20 см

30
рублей

10 см



10 см

45
рублей

Паркетная доска

5 × 30




20
рублей

5 × 20 см



15
рублей

5 × 25
см



30 рублей

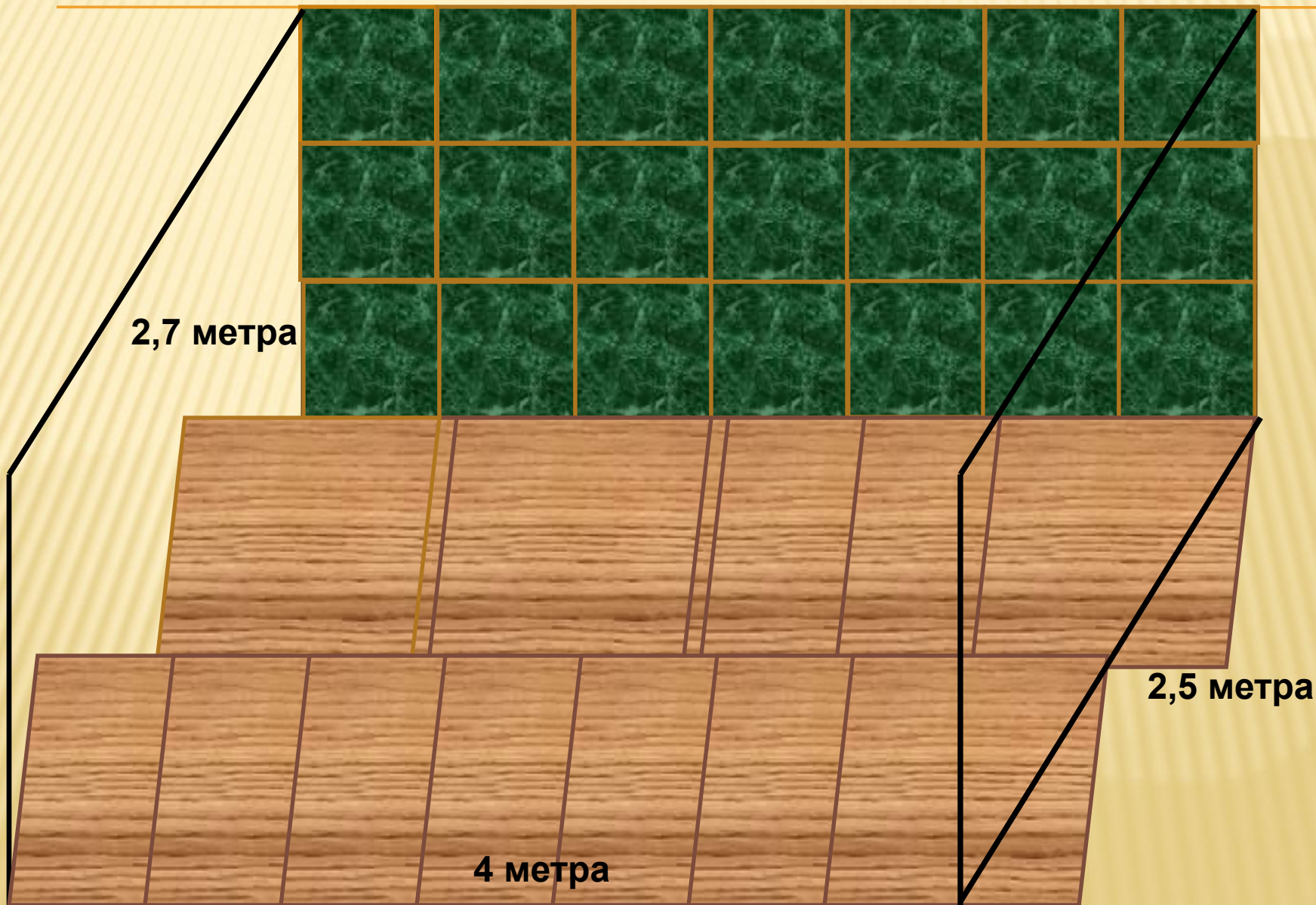
Задача

Используя компьютерные модели,
определить:

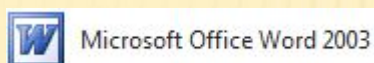
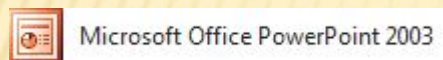
- Количество кафельной плитки?
- Количество паркетной доски?
- Какой вид кафельной плитки выгоднее использовать?
- Какой вид паркетной доски выгоднее использовать?

Графическая модель

Графическая модель



Графическая модель



Математическая и табличная модель

