

Выбирай и набирай баллы

Тонкие вопросы

20 баллов

за правильный ответ

1		<u>5</u>
<u>2</u>	2	<u>6</u>
<u>3</u>	3	<u>7</u>
<u>4</u>	4	<u>8</u>

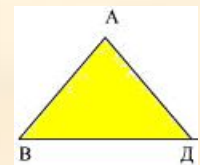
Толстые вопросы

40 баллов

за правильный ответ

1		<u>5</u>
<u>2</u>	2	
<u>6</u>		
<u>3</u>	3	
<u>7</u>		
<u>4</u>	4	
<u>8</u>		

**Назовите самый простой
многоугольник.**



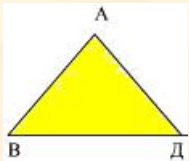
Продолжите предложение:

У треугольника три _____ ,

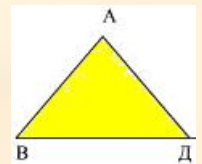
_____ , _____ ,

_____ , _____ ,

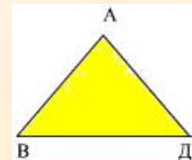
_____ .



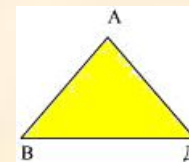
**Равных сторон нет – это
_____ треугольник.**

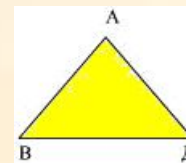


Может ли быть треугольник с двумя прямыми углами.



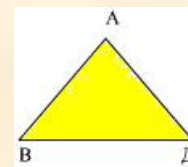
**Существует ли треугольник,
все углы которого больше
70 градусов.**



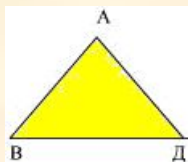


**Существует ли треугольник,
все углы которого меньше
50 градусов.**

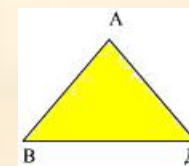
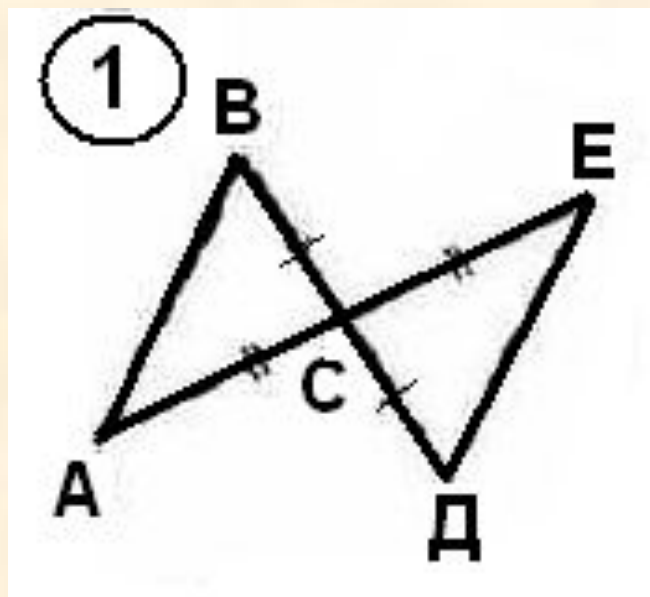
**Можно ли внутри
равнобедренного
треугольника поместить
другой равнобедренный
треугольник с такими же
боковыми сторонами? А с
большими?**



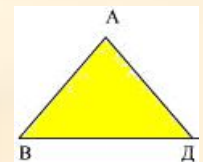
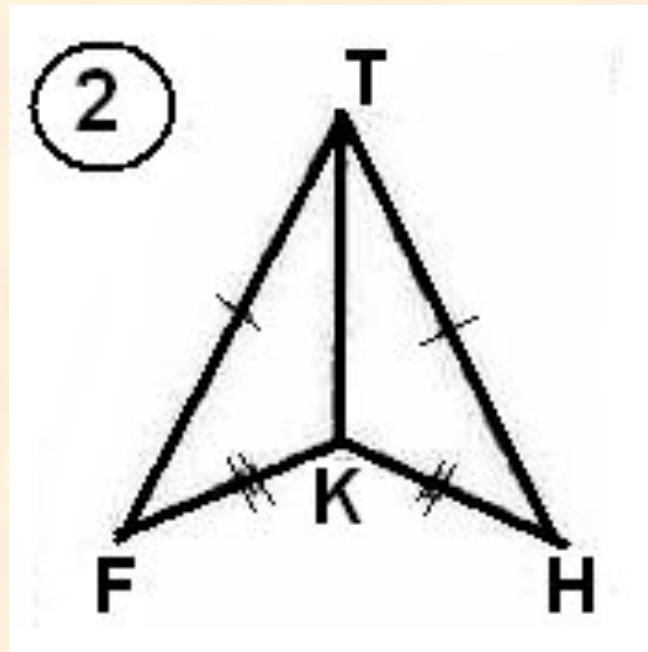
**На сколько треугольников
разбивается выпуклый
шестиугольник отрезками,
соединяющими какую-либо его
вершину с остальными
вершинами шестиугольника? А
если взять произвольный
 n – угольник?**



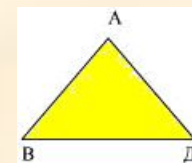
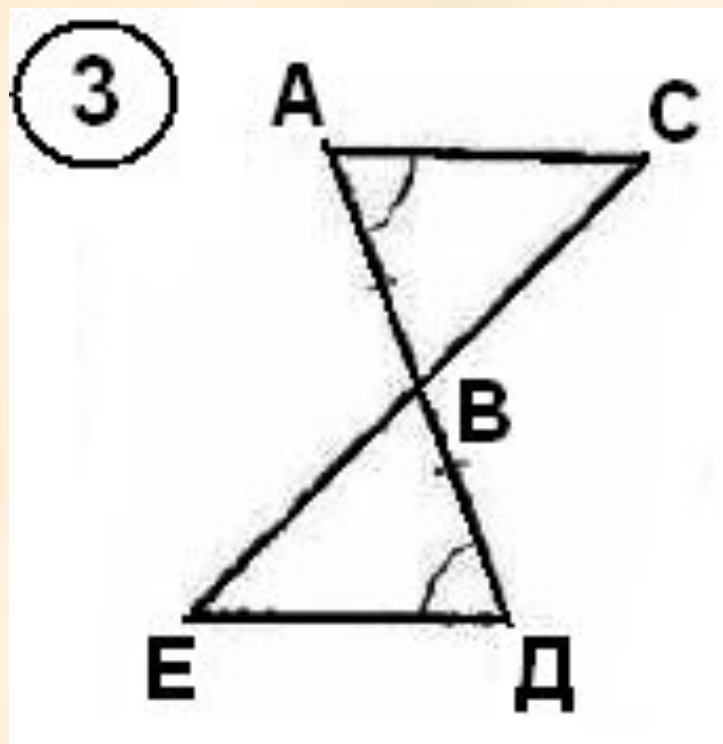
**Найдите пары равных
треугольников и докажите их
равенство**



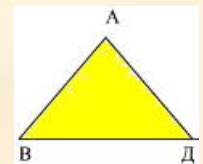
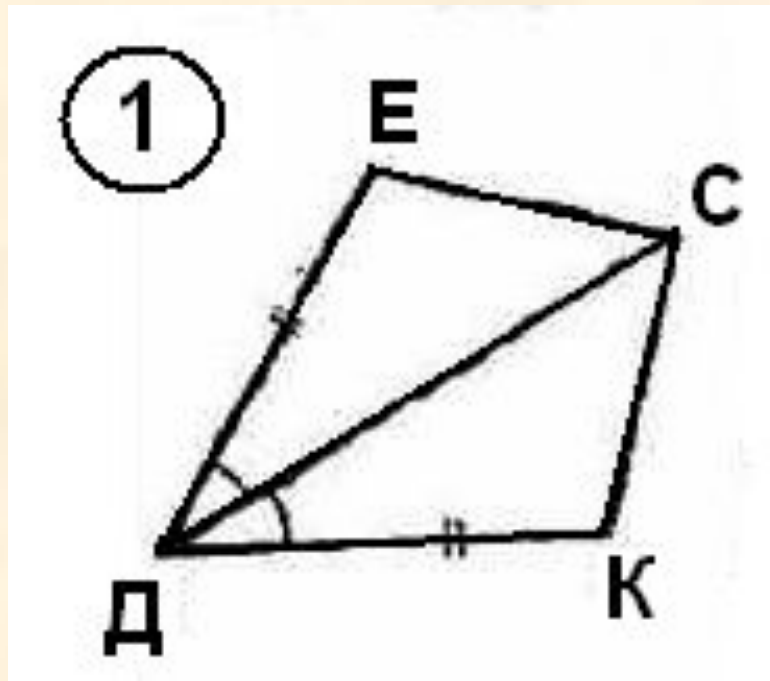
Найдите пары равных треугольников и докажите их равенство



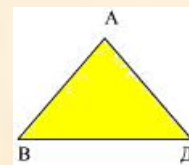
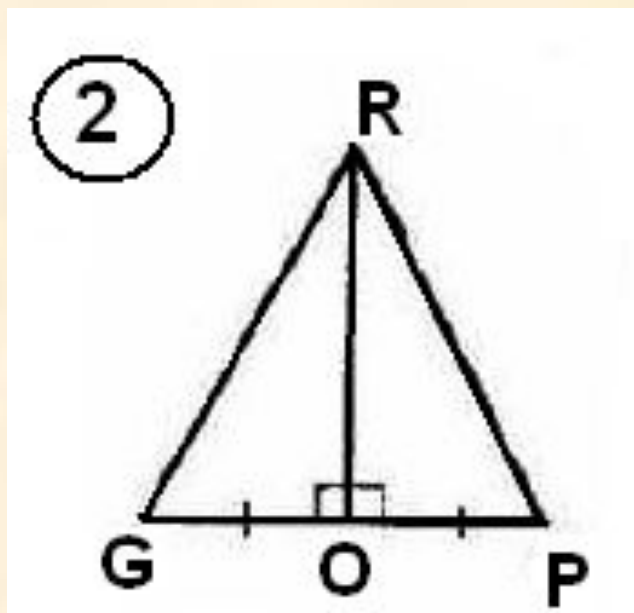
Найдите пары равных треугольников и докажите их равенство



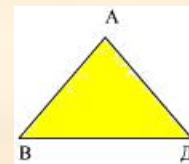
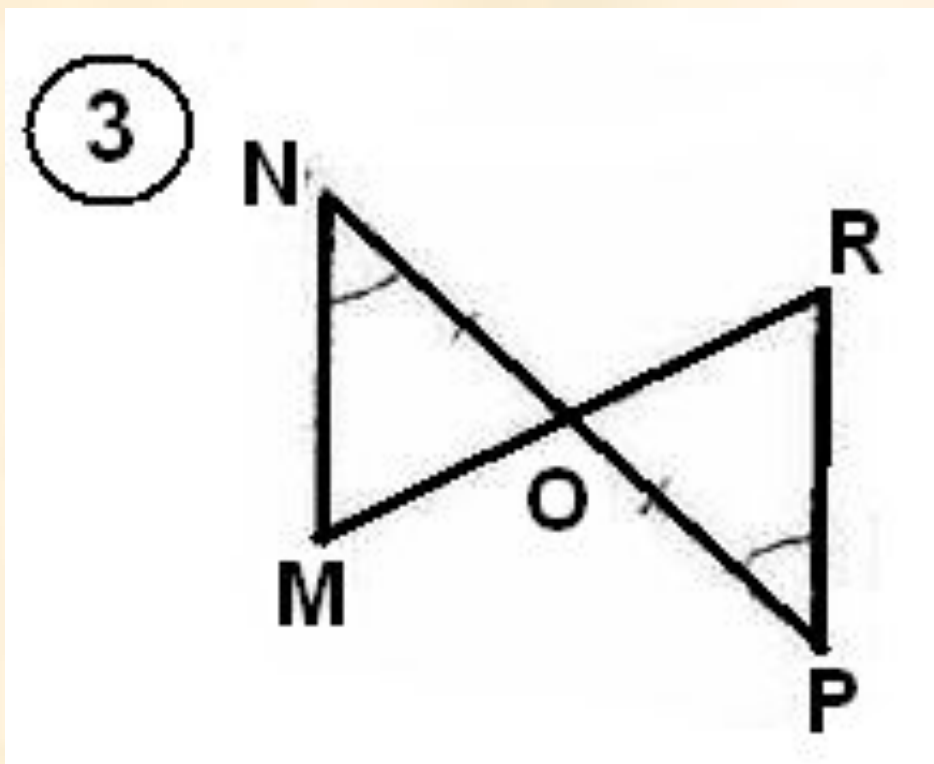
**Найдите пары равных
треугольников и докажите их
равенство**



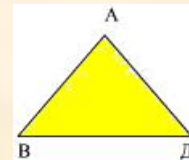
Найдите пары равных треугольников и докажите их равенство



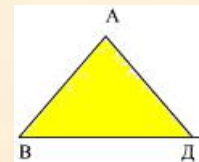
Найдите пары равных треугольников и докажите их равенство



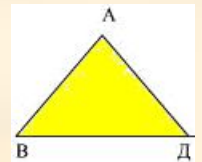
**Начертите два разных
прямоугольных треугольника,
площади которых равны 3
клеткам.**



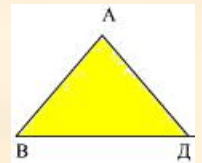
**Объясните китайскую
поговорку:
«Скажи мне – и я забуду,
Покажи мне – и я запомню,
Вовлеки меня – и я научусь».**

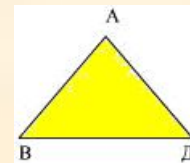


- Начертите два разных прямоугольных треугольника, площади которых равны 3 клеткам.



**Объясните китайскую
поговорку:
«Скажи мне – и я забуду,
Покажи мне – и я запомню,
Вовлеки меня – и я
научусь».**





- Продолжите предложение:

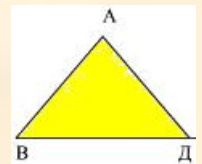
У треугольника три

_____ , _____ ,

_____ , _____ ,

_____ , _____ .

**Существует ли треугольник,
все углы которого больше
70 градусов.**



**Существует ли треугольник,
все углы которого меньше
50 градусов.**

