


Тест
ТОПОГРАФИЧЕСКИЕ ЗНАКИ
6 класс

Вопрос 1

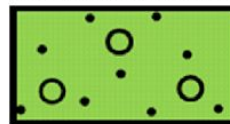
Каким условным знаком обозначается на карте данное фото?




1



2



3



Вопрос 2

Каким условным знаком обозначается на карте данное фото?



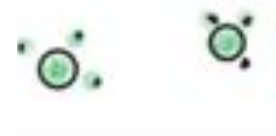
1



2




3

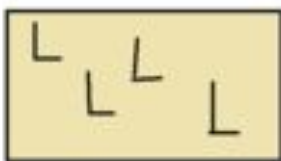


Вопрос 3

Каким условным знаком обозначается на карте данное фото?



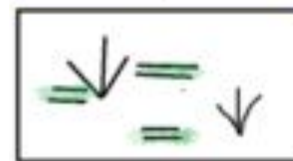
1



2




3




Вопрос 4

Каким условным знаком обозначается на карте данное фото?



1



2



3



Вопрос 5

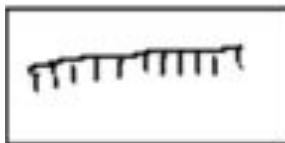
Каким условным знаком обозначается на карте данное фото?



1



2



3



Вопрос 6

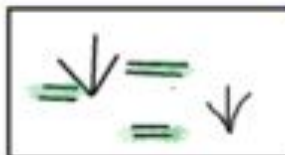
Каким условным знаком обозначается на карте данное фото?



1



2



3

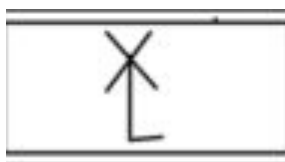


Вопрос 7

Каким условным знаком обозначается на карте данное фото?



1



2



3

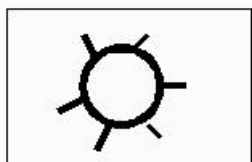


Вопрос 8

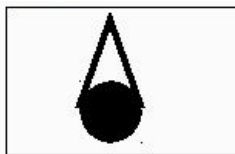
Каким условным знаком обозначается на карте данное фото?



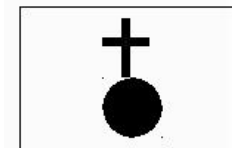
1



2



3

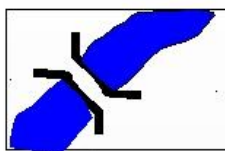


Вопрос 9

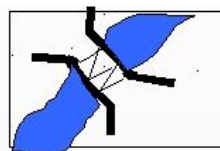
Каким условным знаком обозначается на карте данное фото?




1



2



3




Вопрос 10

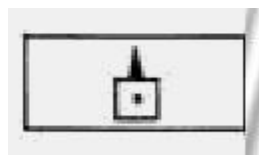
Каким условным знаком обозначается на карте данное фото?



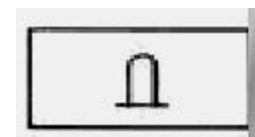
1



2



3



ОТВЕТЫ

1
2
2
1
1
2
2
2
1
1