

С каким из этих знаков обязательно должен сочетаться знак:

«Осторожно, работает кран?»



• А




Б



• В



# Что означает данный знак



- А – Пункт телефонной связи
- Б – Пункт оказания первой медицинской помощи
- В – пункт приема гигиенических процедур

# Какой знак является лишним в группе данных знаков?


• А -



Б -



• В -



Г -



**Какой из данных знаков информирует о характере перевозимого груза?**

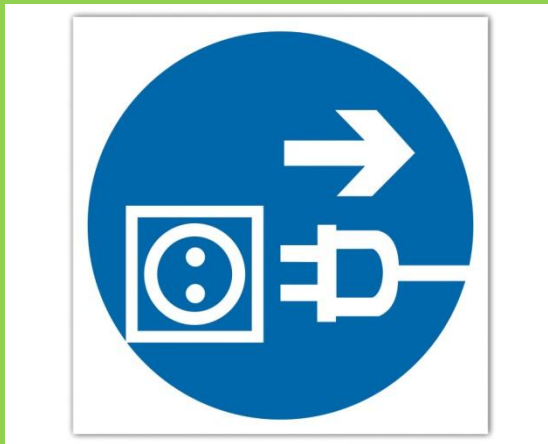
• А -



Б -



• В -



Г -



# Какой из знаков напоминает о применении СИЗ в работе?

А – только 1 и 2

1



Б – только 2 и 3

2



В – все знаки соответствуют требованию

3



**Какой знак может содержать в себе значение всех остальных информационных знаков?**

**А**



**Б**



**В**



**Г**



Какой из знаков будет дополнен к данной табличке?



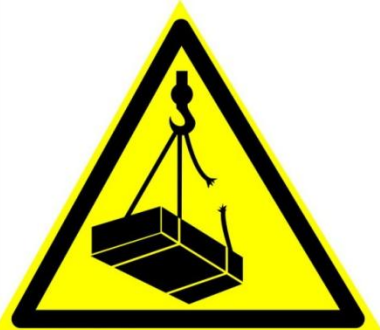
**ВНИМАНИЕ  
РАБОТА НА ЛИНИИ**

**НЕ  
ВКЛЮЧАТЬ**

А –



Б –



В –



# Какой из знаков обязывает применять СИЗ в работе?

А – только 1 и 2

1.



Б – только 2 и 3

2.



В – только 4

3.



Г – все знаки

4.





Какой из знаков информирует : «Пункт оказания первой медицинской помощи»?

А



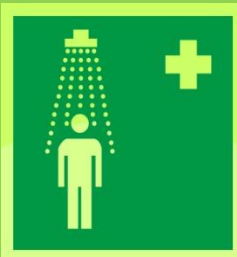
Б



В




Г



# Что означает данный знак?

А – Внимание!  
Ожидается гроза.



Б – Осторожно!  
Высокое напряжение.

В – Направление маршрута движения людей.

**Какой из знаков не может иметь постоянного места закрепления?**


**А -**



**Б -**



**В -**



**Г -**



# При каких условиях допускается перевозка пассажиров на погрузчике?

**А – при скорости движения менее 5 км/ч;**

**Б – при отсутствии перевозимого груза;**

**В – если водительское сиденье позволяет разместить на нем пассажиров;**

**Г – ни одно из выше перечисленного.**



**Какой из знаков не несет необходимую информацию в случае пожара?**

А –



Б –



В –



# Какой из знаков предупреждает: «Осторожно! Хрупкое стекло!»


А –



Б –

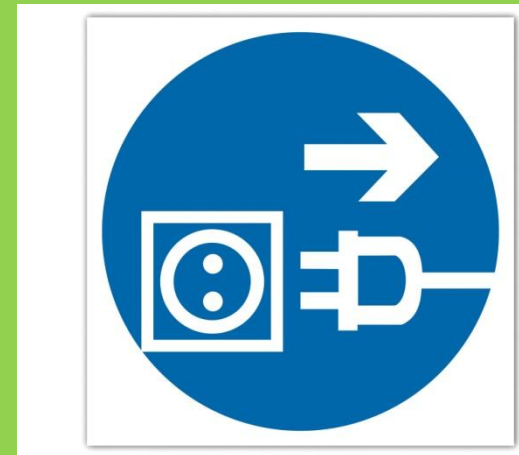


В –



# Что означает данный знак?

А – включить электрооборудование.



Б – Уходя гаси свет.

В – Отключить штепсельную вилку.

**При пересечении путей движения пешеходов и подвижного оборудования внутри производственных корпусов преимущество имеет:**

А – пешеход,

Б – подвижное оборудование,

В – по обстоятельствам.

