


Игра: «Правила дорожного движения для велосипедистов»

1	2	3	4	5
6	7	8	9	10
11	12	13	14	15
16	17	18	19	20
21	22	23	24	25

Вы приближаетесь к перекрёстку параллельно с автомобилем. Вам нужно проехать прямо, но водитель включил правый поворотник и собирается поворачивать. Кто кого должен пропустить?



- 1. Вы должны пропустить автомобиль
- 2. Автомобиль должен пропустить вас
- 3. Первым проезжает тот, кто выехал на перекресток раньше



Автомобиль должен пропустить вас

Подсказка

Пояснение к вопросу: Пункт 13.1 было: при повороте направо или налево водитель обязан уступить дорогу пешеходам, переходящим проезжую часть дороги, на которую он поворачивает, а также велосипедистам, пересекающим ее по велосипедной дорожке; стало: при повороте направо или налево водитель обязан уступить дорогу пешеходам и велосипедистам, пересекающим проезжую часть дороги, на которую он поворачивает. Не стоит ехать под колеса машины, если вы не уверены, что водители Вас видят и собираются уступить дорогу



Вы хотите проехать перекрёсток прямо по главной дороге и видите, что справа едет автомобиль. Кто должен проехать первым?



Велосипедист

- ▣ Подсказка
- ▣ Пояснение к вопросу: Знаки приоритета действуют одинаково для всех участников движения, сколько бы колёс у них ни было. Не стоит ехать под колеса машины, если вы не уверены, что водители Вас видят и собираются уступать дорогу.



В какой последовательности должны проехать указанный участок транспортные средства ?



- 1. Велосипед Б, автомобиль, потом велосипед А
- 2. Велосипед А, автомобиль, потом велосипед Б
- 3. Велосипед А вместе с велосипедом Б, потом автомобиль
- 4. Автомобиль, потом велосипед А с велосипедом Б



Автомобиль,
потом велосипед А с
велосипедом Б



В каком порядке должны проехать перекресток транспортные средства?



- 1. Автомобиль вместе с трамваем, потом велосипед.
- 2. Трамвай, велосипед, автомобиль
- 3. Велосипед, потом автомобиль вместе с трамваем



**Велосипед,
потом автомобиль вместе с
трамваем**



Какой из знаков не запрещает движение велосипедов?



- 1. Все запрещают
- 2. Знак «Пешеходная дорожка» разрешает движение велосипедов
- 3. «Дорога для автомобилей» и «Пешеходная дорожка» не запрещают движение велосипедов



Подземный пешеходный переход



Счастливы́й случа́й



Вы получаете
5 баллов





Кто первым
проедет
перекрёсток?



Водитель автомобиля





Кто первым проедет
перекрёсток?



Специальное транспортное средство

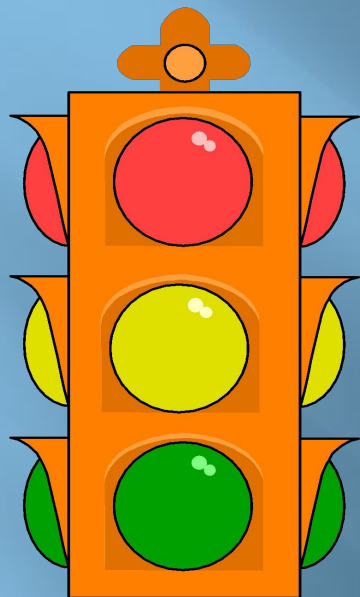


*Извините,
переход хода!*




Надо отдохнуть!





Где родился
СВЕТОФОР ?





Родина СВЕТОФОРА -
ЛОНДОН





- ▣ Какое значение имеет жест водителя мотоцикла?



▣ Поворачиваю направо





В каком порядке транспортные средства проедут перекрёсток?



- 1 - автомобиль
- 2 - велосипед
- 3 - трамвай



Какой знак **запрещает** движение на велосипеде?





Встретил круглый знак и красный,
А внутри велосипед.
Стой! Значит, здесь опасно,
для тебя дороги нет.



Как называется этот знак?



Полоса для велосипедистов




Какой знак **разрешает** движение велосипедистов?



▣ Все три знака



В каком возрасте разрешается выезжать на велосипеде на проезжую часть дороги общего пользования?



На проезжую часть дороги общего пользования разрешается выезжать с 14 лет



Разгадайте ребус



ВОДИТЕЛЬ



Разгадайте ребус



ЖЕЗЛ



Имеет ли право велосипедист развернуться, не слезая с велосипеда, на дороге с двумя полосами движения в каждом направлении?

1. Не имеет право
2. Имеет право



Не имеет права



Может ли водитель велосипеда перевозить пассажиров?

- Может на заднем сиденье.
- Может лишь детей до 7 лет на дополнительном сиденье с подножками.
- Перевозить пассажиров нельзя.




- Может лишь детей до 7 лет на дополнительном сиденье с подножками



Какое транспортное средство можно отнести к общественному?



АВТОБУС



На каком рисунке человека нельзя считать «пешеходом»?



**Этот человек управляет
мотоциклом, поэтому его нельзя
считать «пешеходом»**



Какие грузы запрещается
перевозить на велосипеде и
мопеде?



Грузы, мешающие управлению
или выступающие более, чем
на 0,5м по длине и ширине за
габариты



Кто не относится к участникам дорожного движения?



**Этот человек не является
участником дорожного
движения**





Что
обозначает
ЭТОТ
дорожный
знак ?





Дорога с полосой для велосипедистов

