






Улыбнись  
новому дню!










**Задание 3:** Какая зеленая аллея!  
Но что делать, если дерево мешает рассмотреть дорогу? Как быть?  
Выбери правильный вариант.










**Задание 6:** Славик и Хомка очень любят гулять, держась за руки. А можно ли держаться за руки, когда переходишь улицу? Три картинки на этой странице показывают, как правильно переходить дорогу в компании. Одна картинка неправильная. Какая и почему?









**Задание 12:** Славик вышел из автобуса (троллейбуса, маршрутного такси) и собирается перейти дорогу. С какой стороны он должен обойти автобус? Выбери правильный вариант.







**Задание 13:** В гости к бабушке нужно ехать на трамвае. Славик вышел из трамвая и собирается перейти дорогу. С какой стороны он должен обойти трамвай? Выбери правильный вариант.



# Решение задач

**1. Скорость грузового автомобиля- 54 км/ч, а легкового –на 20 % больше. Какова скорость легкового автомобиля?**

**Можно ли двигаться с такой скоростью, если ограничение скорости 50 км/ч?**



**Ответ: Скорость легкового автомобиля 64,8 км/ч. Нельзя двигаться с такой скоростью.**

**2. Сколько времени нужно человеку, чтобы, выйдя из автобуса, пересечь дорогу со скоростью 1,5 м/с? Длина автобуса 9 м, ширина проезжей части дороги – 8 м, расстояние от автобусной остановки до пешеходного перехода 21 м. какой вариант перехода будет наиболее безопасный? Почему?**

**Ответ:**

**наиболее безопасный является 3-й вариант перехода. При этом пешеход проигрывает во времени, но не подвергает свою жизнь опасности.**





# Ребусы





п



б



п р о з а

б

р у к а

пробка



**ш о р т ы**



**с**

**с**

**шоссе**

**7**

**с е м ь**



Д




В О Д

К И Т

Е Л Ъ

ВОДИТЕЛЬ



п о в а р

о

р о т

поворот





о



бочка

обочина



шина



**д о м**



**р о г а**

**дорога**



**АВ**



**а в**

**т о п о р**

**б у с ы**


**автобус**

4.3



”

A = b



3.2.1

**АВТОМОБИЛ**

**Ь**

1.2.3.5.4



АЙ

5 = М

**ТРАМВАЙ**



$V=E$



$b_l=0$



3.2.1



**ВЕЛОСИПЕД**

# Аптечка

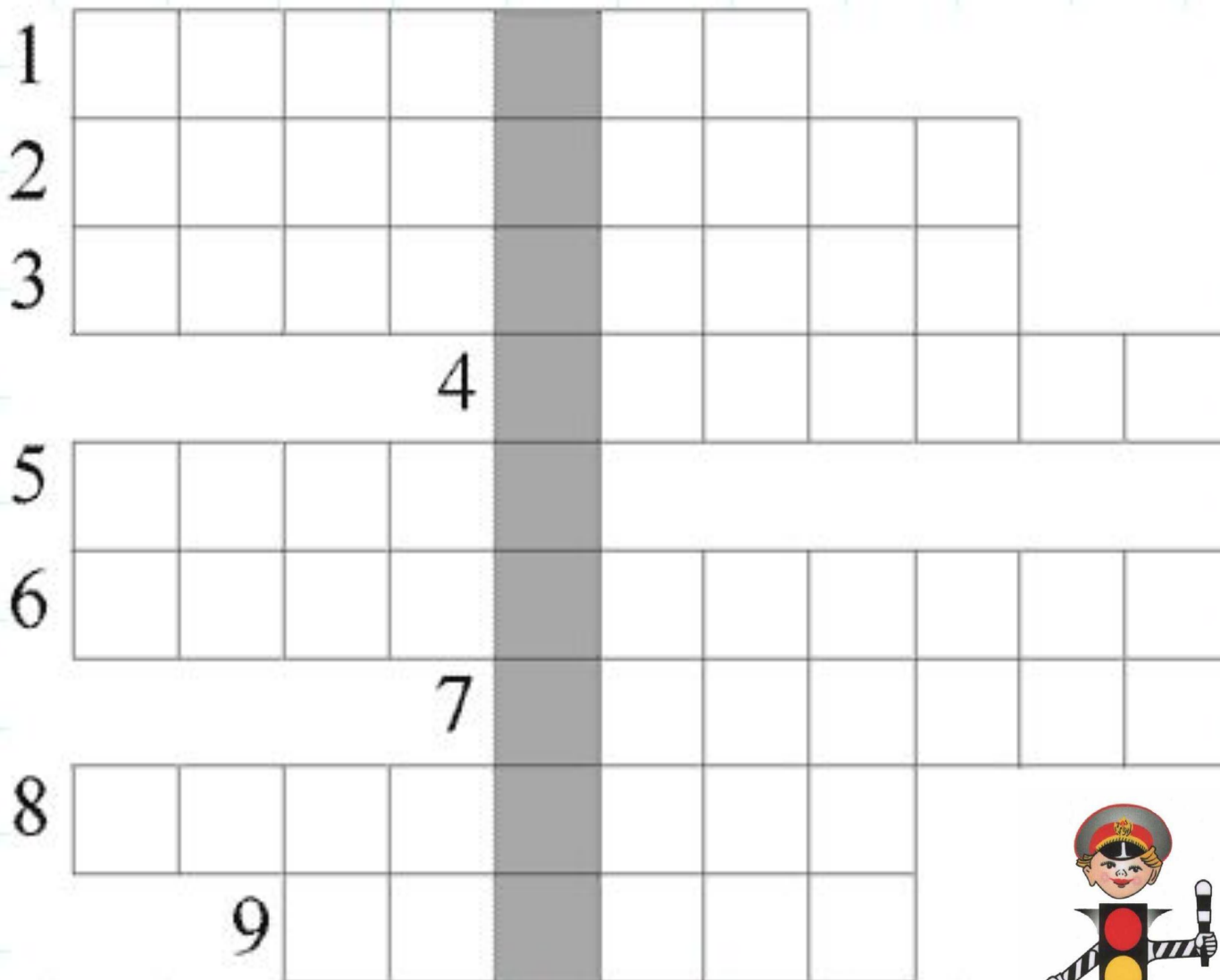


# Содержание аптечки

1. Обезболивающие, противовоспалительные и средства при травме (ушибы, переломы, вывихи), ранениях.
2. Средства для остановки кровотечения, обработки и перевязке ран
3. Средства при болях в сердце.
4. Средства для сердечно-легочной реанимации при клинической смерти
5. Средства при обмороке (коллапсе)
6. Средства для дезинтоксикации при отравлениях пищей и т.д.
7. Средства при стрессовых реакциях




# Домашнее задание.



**СПАСИБО ЗА ВНИМАНИЕ!**

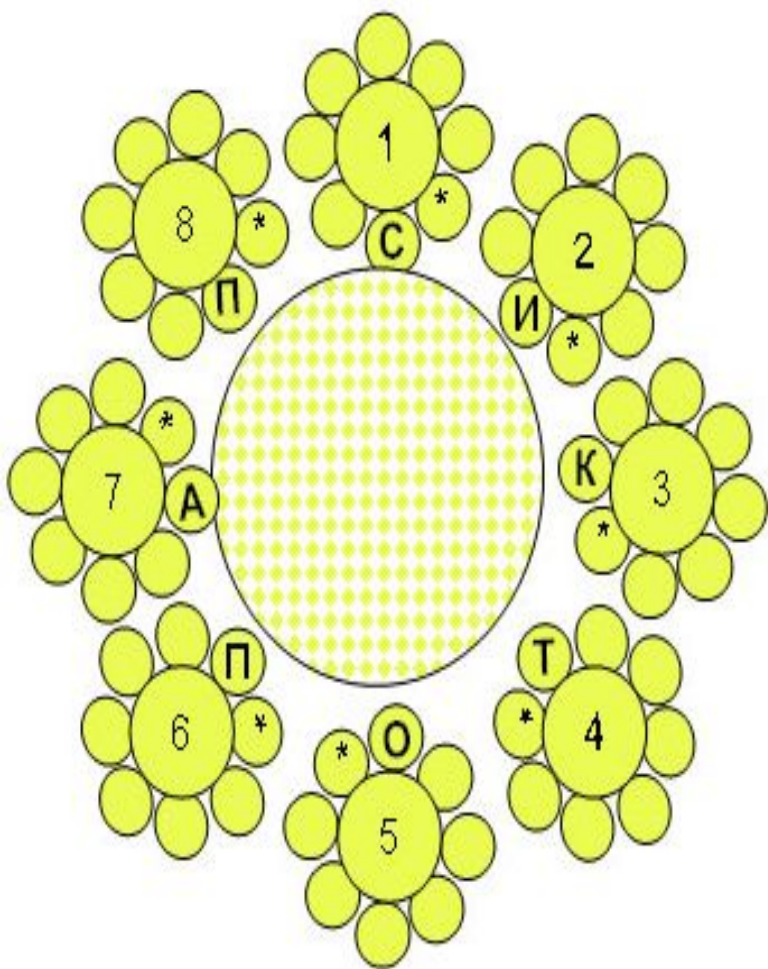
# Кроссворд по правилам дорожного движения



Отгадай слова из 6 букв(по часовой стрелке):

1. Устройство для остановки автомобиля. (*Тормоз*).
2. Звук, издаваемый машиной для привлечения внимания пешеходов и водителей. (*Сигнал*)
3. Устройство в автомобиле для безопасности водителя и пассажиров. (*Ремень*)
4. Не живая, а идет,  
Неподвижна, а ведет. (*Дорога*).
5. Дорожное происшествие. (*Авария*)
6. Пьет бензин, как молоко, может бегать далеко.  
Возит грузы и людей, ты знаком, конечно, с ней.  
Обувь носит из резины, называется... (*Машина*)
7. Место для водителя в грузовом автомобиле. (*Кабина*)
8. Я не мыл в дороге рук, поел фрукты, овощи,  
Заболел и вижу пункт медицинской... (*Помощи*)

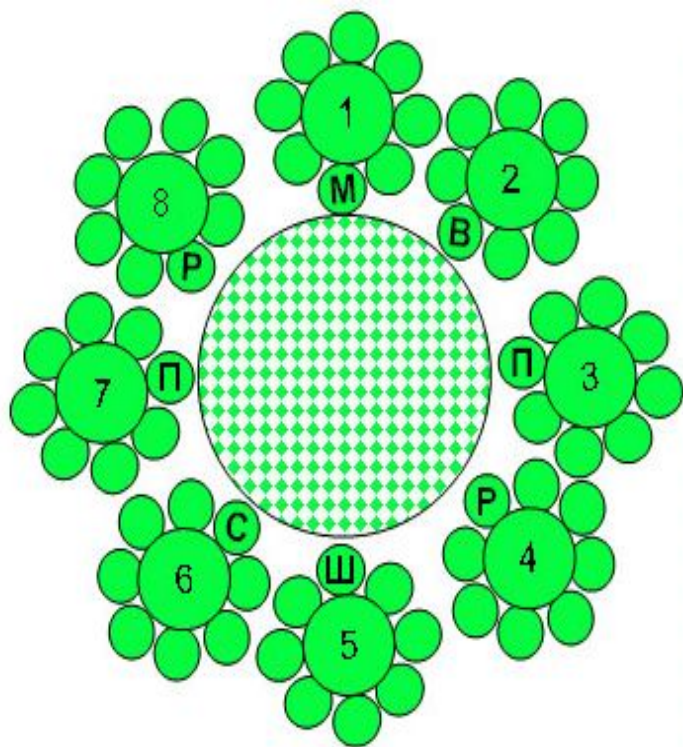




Отгадай слова из 7 букв(по часовой стрелке):

1. Прекращение движения на время более 5 минут. (Стоянка)
2. Знак дополнительной информации для больных людей. (Инвалид).
3. Дорожный знак для автотуристов. (Кемпинг).
4. Как называется часть улицы, предназначенная для пешеходов? (Тротуар).
5. Боковая часть, край дороги. (Обочина)
6. Изменение направления движения. (Поворот)
7. Многоместный автомобиль с большим салоном, относящийся к городскому транспорту. (Автобус)
8. Как называют участника дорожного движения? (Пешеход)





Отгадай слова из 8 букв (по часовой стрелке):

1. Транспортное средство, имеющее боковой прицеп.  
(*Мотоцикл*).
2. Человек, управляющий каким-либо транспортным средством.  
(*Водитель*)
3. Тот, кто совершает поездку в транспортном средстве.  
(*Пассажир*)
4. Помогает установить порядок дорожного движения и обеспечить безопасность водителя и пешехода.  
(*Разметка*)
5. Устройство для открытия и закрытия пути на железнодорожных переездах.  
(*Шлагбаум*)
6. Где машины движутся, где сошлись пути,  
Помогает улице людям перейти.  
(*Светофор*).
7. Здесь на посту, в любое время дежурит он на мостовой,  
Он управляет сразу всеми. Кто перед вами?  
(*Постовой*).
8. Изменение движения в обратном направлении.  
(*Разворот*)



# ДОРОЖНЫЕ ЗНАКИ



А теперь проверим, хорошо ли ты знаешь, что означает тот или иной дорожный знак. Посмотри на знак и выбери правильный вариант ответа.



1. Запрещается ходить по тротуару.
2. Пешеходный переход.



1. Рядом находится школа, лагерь или другое детское учреждение, поэтому проезжую часть могут переходить дети.
2. Здесь проводятся соревнования по бегу.



1. Движение пешеходов запрещено.
2. Пешеходам запрещено поворачивать направо.