

Знатоки ПДД

Составила педагог ДО
Багаутдинова Ксения
Александровна

Вопрос 1



Как должен действовать велосипедист, собираясь проехать перекресток в прямом направлении?

- 1 Проехать первым
- 2 Уступить дорогу только встречному автомобилю
- 3 Уступить дорогу только автомобилю с включенными проблесковым маячком и специальным звуковым сигналом
- 4 Уступить дорогу обоим транспортным средствам

Вопрос 2



Как должен поступить велосипедист, собираясь продолжить движение в прямом направлении?

1 Продолжить движение только после проезда легкового автомобиля

2 Проехать перекресток первым

3 Уступить дорогу автомобилю и другому велосипедисту



Вопрос 3



Кому велосипедист должен уступить дорогу, собираясь проехать перекресток в прямом направлении?

1 Только трамваю

3 Обоим транспортным средствам

2 Только грузовому автомобилю

Вопрос 4



Кому велосипедист должен уступить дорогу, собираясь повернуть налево?

- | | | | |
|----------------------------|-------------------|----------------------------|----------------------|
| <input type="checkbox"/> 1 | Только автомобилю | <input type="checkbox"/> 3 | Автомобилю и трамваю |
| <input type="checkbox"/> 2 | Только трамваю | <input type="checkbox"/> 4 | Никому |

Вопрос 5



Кому велосипедист должен уступить дорогу, собираясь повернуть налево?

- 1 Только встречному автомобилю
- 2 Только пешеходам
- 3 Встречному автомобилю и пешеходам

Вопрос 6



Кому велосипедист должен уступить дорогу, собираясь повернуть налево?

1 Только автобусу

3 Обоим транспортным средствам

2 Только грузовому автомобилю

Вопрос 7



В каких направлениях регулировщик разрешает движение велосипедисту?

- 1 Только прямо
- 2 Только прямо и направо
- 3 Во всех

Вопрос 8



В каких направлениях велосипедисту разрешено движение?

1 Только налево и в обратном направлении

2 Прямо, налево и в обратном направлении

3 Во всех

Вопрос 9



Какой из велосипедистов правильно пересекает проезжую часть?

Вопрос 10



Кто из велосипедистов нарушает правила дорожного движения?

Вопрос 11



Перечислите составляющие колеса

Вопрос 12



Перечислите составляющие педали


Вопрос 13



**Как должен
двигаться мальчик
по загородной
дороге ?**

1. По обочине или краю проезжей части дороги навстречу движущему транспорту.
2. По обочине дороги или краю проезжей части дороги в одном направлении сдвигающимся транспортом.
3. Рядом с дорогой в одном направлении сдвигающимся транспортом на безопасном расстоянии от проезжей части.
4. Рядом с дорогой навстречу двигающемуся транспорту на безопасном расстоянии от проезжей части.

Вопрос 14



**Правильно ли
двигается мальчик
по загородной
дороге?**

1. Правильно. Все участники дорожного движения на одной стороне дороги двигаются в одном направлении.
2. Правильно. В соответствии с требованиями Правил дорожного движения пешеходы двигаются в одном направлении с транспортом проезжей части.
3. Неправильно. По краю проезжей части нужно идти навстречу движению транспортных средств.
4. Неправильно. Идти нужно по обочине (при ее отсутствии – по краю проезжей части), при этом безопаснее двигаться навстречу транспортным средствам.

Вопрос 15



Где могут двигаться пешеходы в жилой зоне?

1. Только по тротуарам.
2. По тротуарам в один ряд по краю проезжей части.
3. По тротуарам и по всей ширине проезжей части.


Вопрос 16



Какие действия запрещены в жилой зоне автомобилистам?


1. Только учебная езда.
2. Только стоянка с работающим двигателем.
3. Только сквозное движение.
4. Все вышеперечисленные действия.

Вопрос 17



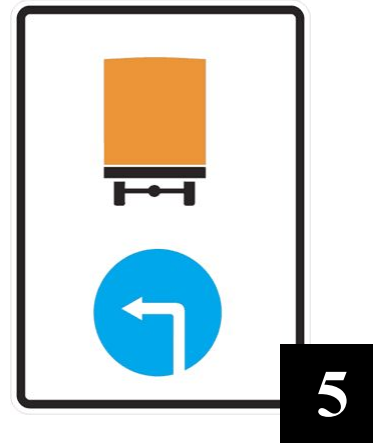
Кто из пешеходов правильно движется по проезжей части?

Вопрос 18



На какой фотографии пешеходы неправильно пересекают проезжую часть?

Вопрос 19



Из предложенных знаков выберете предписывающие знаки.

Вопрос 20



Из предложенных знаков выберете знаки особых предписаний.