



СВОЯ ИГРА
Безопасность
Дорожного
Движения.

4 класс

Астафьева Наталья Викторовна МОУСОШ № 23

**Знаки
дорожные**

10

20

30

40

Дорога

10

20

30

40

Сигналы

10

20

30

40

Пассажиры

10


20

30


40



Какое правило нарушили весёлые человечки?




Нельзя переходить (перебегать) дорогу перед близко идущим транспортом.



Как должен вести себя Незнайка,
шагая по загородной дороге?




**Идти по обочине дороги навстречу
движущемуся транспорту.**



Где нужно остановиться, если вы не успели перейти широкую улицу?



На островке безопасности.




Какие правила для велосипедистов нарушили Карандаш и Самоделкин?




1. **Ездить на велосипеде по проезжей части разрешается только в возрасте с 14 лет.**
2. **Нельзя перевозить пассажиров на велосипеде, который для этого не приспособлен.**




Чего не должен делать Буратино как пассажир?



Высовываться в открытое окно
и дразнить прохожих.



Какое правило нарушила Дюймовочка?




Троллейбус и автобус после выхода для перехода проезжей части обходят сзади.



О каком правиле забыли зайчата?




Сначала выпусти пассажиров из транспорта, а потом входи сам.





Найдите ошибку одного из пассажиров.




Готовиться к выходу нужно заранее.





Какой сигнал дал регулировщик, чтобы пешеходы начали переходить улицу?



Какой сигнал даёт светофор?



Какому сигналу светофора соответствует команда регулировщика?



Какому виду транспорта разрешено ехать на **красный** свет светофора?




специальному




Что обозначает этот дорожный знак?
Назовите его вид.




«Пешеходный переход» -
указательный знак.



К какому виду относится знак и что он обозначает?




Пункт медицинской помощи - указательный знак.



Знаете ли вы название этого знака? Назовите его вид.




**«Обязательное направление движения» -
предписывающий знак**



Какой знак лишний? Назовите его
ВИД.



«Въезд запрещён» - запрещающий знак





Делаем ребятам
Предостережение:
Выучите срочно
Правила движения,
Чтоб не волновались
Каждый день родители,
Чтоб спокойно мчались
Улицей водители!



Спасибо
за работу!

