

# Азбука безопасности

**МЫ СОБЛЮДАЕМ  
ПРАВИЛА ДОРОЖНОГО ДВИЖЕНИЯ!**




**А ТЫ?**

- *Цель:*


- Познакомить учащихся с правилами дорожного движения, учить понимать сигналы светофора, жесты регулировщика, дорожные знаки, формировать навыки поведения на улице.

- Раньше счёта и письма,  
Рисованья, чтенья,  
Всем ребятам нужно  
знать  
Правила движения!





- Транспорт разный на дороге:  
Легковой и грузовой,  
Государственный и частный,  
Пассажирский городской.



- По проезжей части ездят  
Все по правой  
стороне,  
Это Правило  
движенья  
В нашей действует в  
стране.





- Люди по обочине  
Двигаться должны  
Транспорту  
навстречу  
С левой стороны.



- **Переход через дорогу  
Мы с тобой всегда  
найдем:  
Полосатая дорожка  
Нарисована на нём.**



- Рядом знак дорожный ставят: «Пешеходный переход»,  
Здесь дорогу переходит  
Весь сознательный народ.





В местах большого скопления машин  
пользуйся подземным переходом



Видишь - знак вон там висит?  
Этот знак всем говорит:  
"Чтоб в беду не угодить  
Нужно здесь переходить!"

Тут подземный переход -  
Он тебя переведёт.  
Под землёю, это ясно,  
Идти людям безопасно.



- Если же под перекрестком  
Есть подземный переход,  
По нему через дорогу  
Ходит каждый пешеход.

# Загадка

- Он имеет по три глаза,  
По три с каждой стороны.  
И хотя еще ни разу  
Не смотрел он всеми сразу —  
Все глаза ему нужны.  
Он висит тут с давних пор.  
И на всех глядит в упор.  
Что же это?




# Светофор



**Загорелся  
Красный Свет,  
Это значит – хода  
нет.**

**Светофор  
сигналил строго:  
«Не ходите на  
дорогу!»**






Если Желтый  
Свет горит,  
Подождать он  
нам велит.

с  
в  
е  
т  
о  
ф  
о  
р



А когда горит  
зелёный,  
Ясно всем,  
определенно  
Светофор тот  
говорит:  
«Переход для  
вас открыт!»





# *Викторина*

Как называется полосатое орудие  
труда инспектора ГАИ

- А. Жезл.
- Б. Дубинка.
- В. Скипетр.
- Г. Указка.



*А. Жезл.*

Как в широких народных кругах называется размеченный пешеходный переход?

- А. «Тельняшка».
- Б. «Зебра».
- В. «Тигр»
- Г. «Стоп-машина».





**Б.«Зебра».**

# Как называют мало заметные неровности на дороге для снижения скорости автомобиля у пешеходных переходов

- А. Полоса препятствий.
- Б. Лежачий полицейский.
- В. Слепой постовой.
- Г. Безработный инспектор.

# Б. Лежачий полицейский.





Как называется площадка, на которой может остановиться пешеход при переходе дороги?

- А. Мыс спасения.
- Б. Островок безопасности.
- В. Земля надежды.
- Г. Поле чудес.

# Б. Островок безопасности.



Краской какого цвета наносят  
горизонтальную дорожную  
разметку?

- А. Красного.
- Б. Зелёного.
- В. Белого.
- Г. Чёрного.



**В. Белого.**  
*(Или жёлтого.)*



# Где можно увидеть горизонтальную дорожную разметку?

- А. На опорах мостов.
- Б. На бордюрах.
- В. На опорах ограждения.
- Г. На полотне дороги.

- **Г. На полотне дороги.**  
*(А на дорожные сооружения и элементы оборудования дорог наносится вертикальная разметка в виде сочетания чёрных и белых полос.)*





# Что обозначает постоянно мигающий жёлтый сигнал светофора?

- А. Проезд запрещён.
- Б. Неисправность светофора.
- В. Проезд через регулируемый перекрёсток или пешеходный переход.
- Г. Наличие нерегулируемого перекрёстка или пешеходного перехода

**Г. Наличие нерегулируемого  
перекрёстка или пешеходного  
перехода.**



# С какого возраста разрешается ездить на велосипеде по проезжей части

- А. С 12 лет.
- Б. С 14 лет.
- В. С 16 лет.
- Г. С 18 лет.



**Б. С 14 лет.**



# Разрешается ли велосипедистам ездить по тротуарам?

- А. Разрешается.
- Б. Разрешается с согласия пешеходов.
- В. Разрешается при отсутствии пешеходов.
- Г. Запрещается.

The background of the slide features a pattern of stylized autumn leaves in various shades of brown and orange, set against a darker brown gradient background. The leaves are scattered across the frame, with some showing detailed vein patterns.

**В. Разрешается  
при отсутствии пешеходов.**

Какое из этих транспортных средств  
следует обходить спереди

- А. Автобус.
- Б. Трамвай.
- В. Троллейбус.
- Г. Такси.



# Б.Трамвай.



# Сколько групп дорожных знаков существует?

- А. Три.
- Б. Пять.
- В. Семь.
- Г. Десять.

# В. Семь.

(Предупреждающие, запрещающие, предписывающие, знаки приоритета, информационно-указательные, знаки сервиса, знаки дополнительной информации.)

