

# **Обобщение и систематизация знаний.**

## **«Дорожные знаки» (6 класс)**


---

Преподаватель-организатор  
ОБЖ

МОУ Кузьмино-Гатьевская сош

Ломова А.В.

Как писал великий русский поэт Александр Сергеевич Пушкин (1799-1837), он много путешествовал «...то в коляске, то верхом, то в кибитке, то в карете, то в телеге, то пешком». К перечисленным им средствам передвижения можно было бы добавить ещё возки, дрожки и другие экипажи. Такое множество транспортных средств было уже в то далёкое время.




летняя коляска



верхом на лошади



кибитка



карета



деревенская телега



возки Петра I



дрожки верховые



# *Проблема :*

---

- проинформировать путешественников, куда какая дорога ведёт и сколько осталось до конечного пункта?*

# Решение проблемы

- **появились дорожные знаки, с помощью которых улицы и дороги стали разговаривать с водителями и пешеходами на своём дорожном языке.**



# **Обобщение и систематизация знаний.**

## **«Дорожные знаки»**

---





# Цель урока:

---

- **обобщение и систематизация знаний, умений и навыков по теме «Дорожные знаки»**



# Задачи урока:

---

- *закрепить знания по теме «Дорожные знаки», отработать навыки безопасного поведения при решении ситуационных задач;*
- *развивать умения анализировать, обобщать и систематизировать, доказывать и опровергать, сравнивать, разъяснять, строить аналогии, внимательно слушать и оценивать правильность речи;*
- *воспитывать культуру поведения на дороге, элементы культуры общения.*

**В действующих в настоящее время правилах дорожного движения в нашей стране 267 дорожных знаков, они разбиты на восемь смысловых групп.**

<b>• предупреждающие знаки</b>	<b>• знаки особых предписаний</b>
<b>• знаки приоритета</b>	<b>• информационные знаки</b>
<b>• запрещающие знаки</b>	<b>• знаки сервиса</b>
<b>• предписывающие знаки</b>	<b>• знаки дополнительной информации</b>



# 1 группа. **Предупреждающие знаки**

- *Предупреждают водителей и пешеходов о предстоящей опасности и её характере.*
- Форма: *белый треугольник с красной каймой.*



## 2 группа. **Знаки приоритета**

- *Определяют очерёдность проезда на перекрёстках и узких участках дороги.*
- *Форма:*  
*определённой формы нет.*



# 3 группа. **Запрещающие знаки**

---

- *Запрещают какие-либо действия водителям и пешеходам.*
- *Форма: белый круг с красной каймой.*



# 4 группа. **Предписывающие знаки**

- *Предписывают, разрешают водителям двигаться в определённом направлении.*
- *Форма: синий круг с белым символом*



# 5 группа. Знаки особых предписаний

- *Вводят или отменяют определённые режимы движения на дороге.*
- *Форма: синий прямоугольник или квадрат.*



# 6 группа. Информационные знаки


- *Сообщают водителям о различной дорожной обстановке.*
- *Форма: прямоугольник или квадрат с голубым, белым, жёлтым или зелёным фоном..*



## 7 группа. Знаки сервиса

---


- *Информируют о размещении на дорогах различных объектов.*
- *Форма:*  
*прямоугольник с белым фоном и широкой синей каймой.*





# дополнительной информации (таблички)

- *Помогают упорядочить движение потоков транспортных средств или уточнить, усилить действие знаков.*
- *Форма: прямоугольник с белым фоном и широкой синей каймой.*





# Тестовое задание. Выберите правильный ответ.

1. Что означает этот знак?


- а) запрещает детям переход улицы;
- б) предупреждает о возможном появлении детей;
- в) указывает место перехода улицы.



2. Какой из знаков называется «Опасный поворот»?



3. Какой из знаков предупреждает о том, что впереди железнодорожный переезд без шлагбаума?



4. Какая из улиц является второстепенной?

- а) ул. Комсомольская;
- б) ул. Пионерская.



5. Какой знак предупреждает водителя о приближении к пешеходному переходу?



6. Какой из знаков указывает место подземного перехода?



7. Какой из дорожных знаков разрешает движение на велосипеде?



8. Кто из велосипедистов имеет преимущество на дороге?



9. В какой последовательности автомобили проедут перекресток?



# Самопроверка тестового задания

## Ответы:

1 – 6

2 – 3

3 – 2

4 – 6

5 – 1

6 – 3

7 – 1

8 – 1

9 – 1,2,3

## Критерии

### оценки:

- 0 ошибок – «5»
- 1-2 ошибки – «4»
- 3-4 ошибки – «3»

# Викторина: «Подумай и дай ответ»

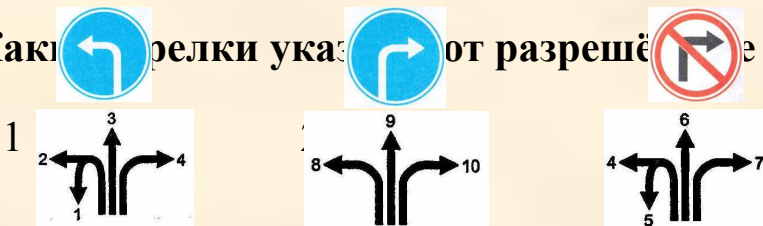
1. Что объединяет знаки в данной группе?



2. Как называется пересечение с односторонней дорогой?



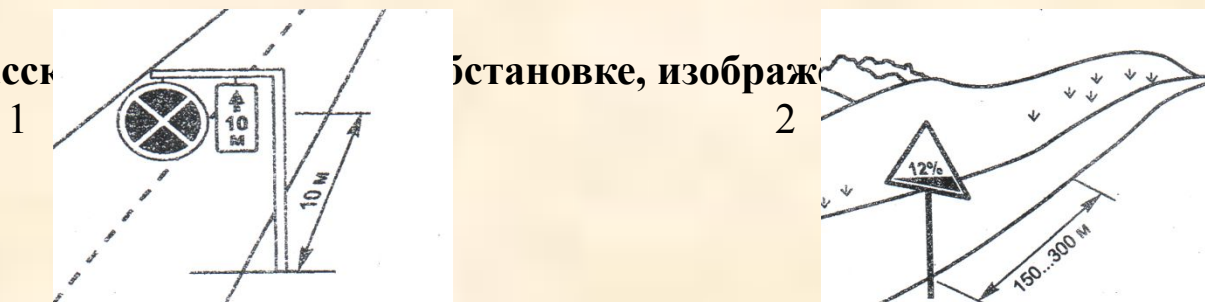
3. Какими стрелками указывается направление движения?



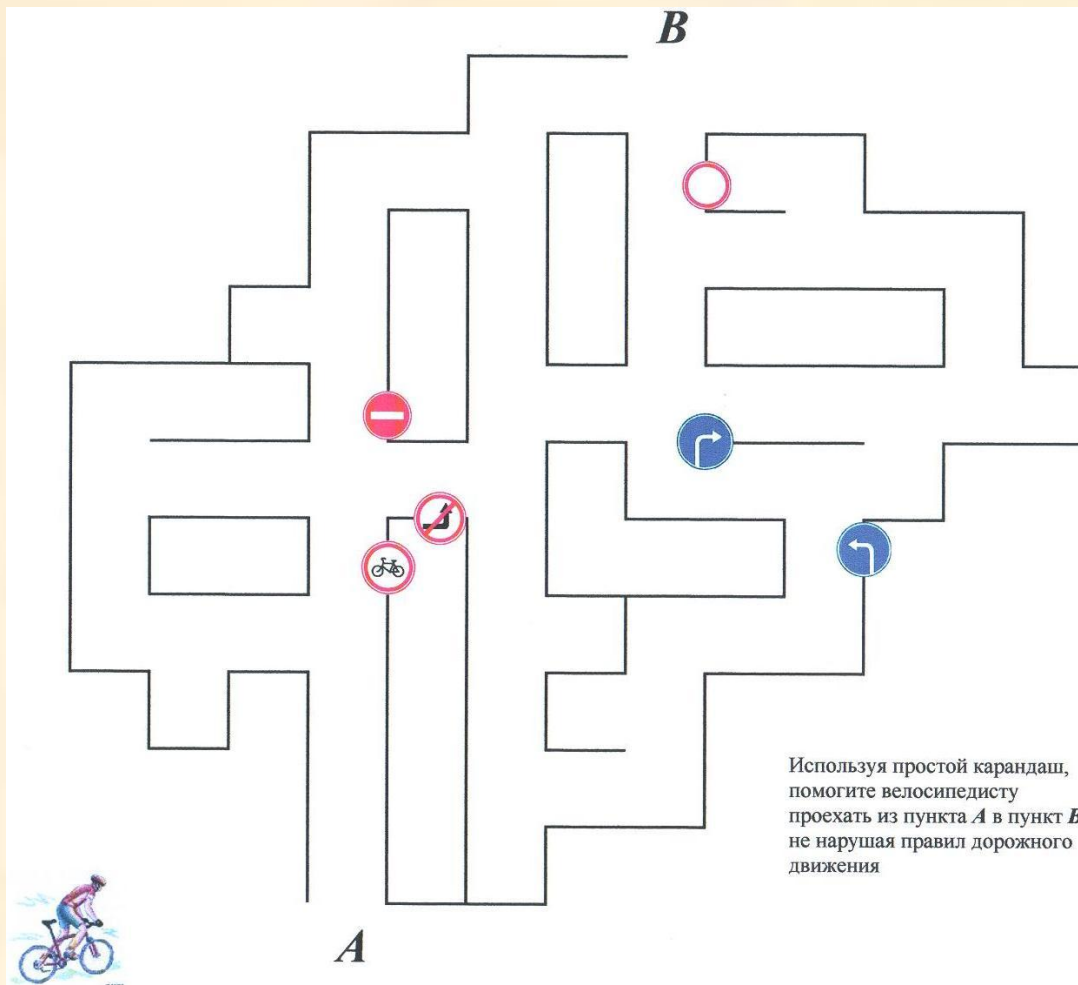
4. Какая табличка указывает расстояние до объекта?



5. Расстояние до знака в данной установке, изображенной на рисунке, составляет:



# Лабиринт








# **Итоги урока**

---

- *закрепили знания по теме «Дорожные знаки», отработали навыки безопасного поведения при решении ситуационных задач;*
- *развивали умения анализировать, обобщать и систематизировать, доказывать и опровергать, сравнивать, разъяснять;*
- *повысили навыки культуры безопасного поведения на дороге.*

# Тестовое задание

(один из вариантов)

<b>Дорожный знак</b>	<b>Название дорожного знака</b>	<b>Группа дорожных знаков</b>
		
	<b>Пешеходный переход</b>	
 		<b>Знаки приоритета</b>
	<b>Велосипедная дорожка</b>	
