


Светофорный Ринг

Игровой конкурс.

*Козицына А.И.,
учитель
английского языка
МБОУ
«Зональненская
СОШ» Томского
района*



Правила дорожного движения






Правило первое.



■ Помните, что при наличии пешеходного светофора пешеход должен руководствоваться только его сигналами. **Светофор** разрешает переход? Подождите! А нет ли поблизости спецмашины, не звучит ли сирена пожарной или скорой медицинской помощи? Им нужно уступить дорогу в **любом** случае.





Правило второе.

- Что нужно делать при переходе улицы? **Начиная переход**, посмотреть налево, а потом, дойдя до середины дороги, направо. Однако немало улиц с односторонним движением. В таком случае нужно руководствоваться конкретным направлением движения.



Правило третье.

- **Трамвай** нужно обходить спереди, а автобус и **троллейбус** сзади. Если нет специального перехода, покинув любой из видов транспорта, надо дождаться пока он отойдёт, а затем вспомнить правила для обычного пешехода.






Правило четвертое.

- Есть два знака «пешеходный переход», но спутав их, легко попасть в беду. Синий квадратный знак разрешает переход, а треугольник с красным обрамлением устанавливается в 50 метрах перед переходом и является предупреждением для водителя.





Правило пятое.

- **Цвет одежды** также влияет на безопасность движения. Тёмные цвета делают пешехода практически незаметным, особенно в пасмурную погоду и в темное время суток по этому в таких случаях необходимо по возможности одевать яркую одежду, желательно, чтобы на сумке, куртке или других предметах одежды были **световозвращающиеся** элементы.



Светофорный Ринг

Разминка

- Задание: составить из предлагаемых букв слово, имеющее отношение к теме

1) Т А М Ь Р И Л Г А С

Ответ: магистраль

2) К С И О В С Т

Ответ: свисток

Конкурс 1: «Угадай транспортное средство»

Конкурс 2: «Термины дорожного движения»

1. Необходимый атрибут для регулирования движения.

Ответ: **жезл**

2. Механизм, осуществляющий регулирование движения.

Ответ: **светофор**

3. Часть проезжей части, предназначенная для движения пешеходов в продольном направлении.

Ответ: **тротуар**

4. Часть проезжей части, предназначенная для движения пешеходов в поперечном направлении

Ответ: **переход**

5. Проезжая часть, выложенная булыжниками.

Ответ: **мостовая**

6. Свод нормативных актов, регулирующих организацию движения на улицах и дорогах.

Ответ: **правила дорожного движения**

7. Человек, определяющий очередность движения через перекресток.

Ответ: **регулировщик**

8. Документ, разрешающий управление транспортным средством.

Ответ: **водительское удостоверение**

9. Рельсовый городской общественный вид транспорта.

Ответ: **трамвай**

10. Место пересечения двух улиц.

Ответ: **перекресток**

11. Устройство, предназначенное для перевозки людей и грузов.

Ответ: **транспортное средство**

12. Лицо, управляющее каким-либо транспортным средством.

Ответ: **водитель**

13. Преднамеренное кратковременное прекращение движения транспортного средства.

Ответ: **остановка**

14. Опережение одного или нескольких транспортных средств.

Ответ: **обгон**

15. Двухколесное механическое транспортное средство.

Ответ: **мотоцикл**

16. Транспортное средство, приводимое в движение мускульной силой людей.

Ответ: **велосипед**

17. Безрельсовый электрический транспорт для общественного пользования.

Ответ: **троллейбус**

18. Система, обеспечивающая остановку автомобиля.

Ответ: **тормоза**

19. Незаасфальтированный край дороги.

Ответ: **обочина**

20. Разметка, обозначающая пешеходный переход.

Ответ: « зебра »

21. Скоростная дорога.

Ответ : автомагистраль

22. Вид дорожного покрытия.

Ответ: асфальт

23. Загородная дорога с твердым покрытием.

Ответ: шоссе

24. Любое пересечение дороги с железнодорожными путями.

Ответ: железнодорожный переезд

25. Линии, надписи, указатели, написанные белой или желтой краской на проезжей части.

Ответ: разметка

Конкурс 3 : «История автомобильного транспорта»

1. Что появилось раньше?:

а). Светофор б) семафор

2. В каком городе были впервые предприняты попытки регулировать уличное движение?:

а). Лондон б) Париж в) Москва

3. В какой стране появился первый электрический светофор?:

а). Франция б) Германия в) США

4. В чем измерялась протяженность дорог на Руси?:

а). Сажень б) миля в) верста

5. Какой автомобиль исторически считается автобусом ?:

а). Где более 10мест б).более 20 мест

6. В какой стране жили изобретатель первого автомобиля?

а). Англия б). Америка в). Германия

7. В каком городе России на дорогах появился первый автомобиль?:

а). Ялта б) Воронеж в). Одесса

8. В каком городе был создан первый советский автомобиль?:

а). Москва б) Тольятти в). Казань

Конкурс для зрителей

- Какой знак лишний? Почему?



- Какой знак лишний? Почему?



Поздравляем !



Список литературы

- Извекова Н.А. Правила дорожного движения. М.: Просвещение, 1988, 47с.
- Илюхин Ф.В., Волчков В.А. Экзаменует дорога. М. : Транспорт, 1989, 96с.
- Лившиц А.В. Правила дорожного движения в задачах и примерах. М. : Высшая школа, 1989, 336с.
- Интернет-ресурсы <http://fvv-auto.ru/>