



Серов
2009

Школьный тур олимпиады

«Знатоки

Правил дорожного

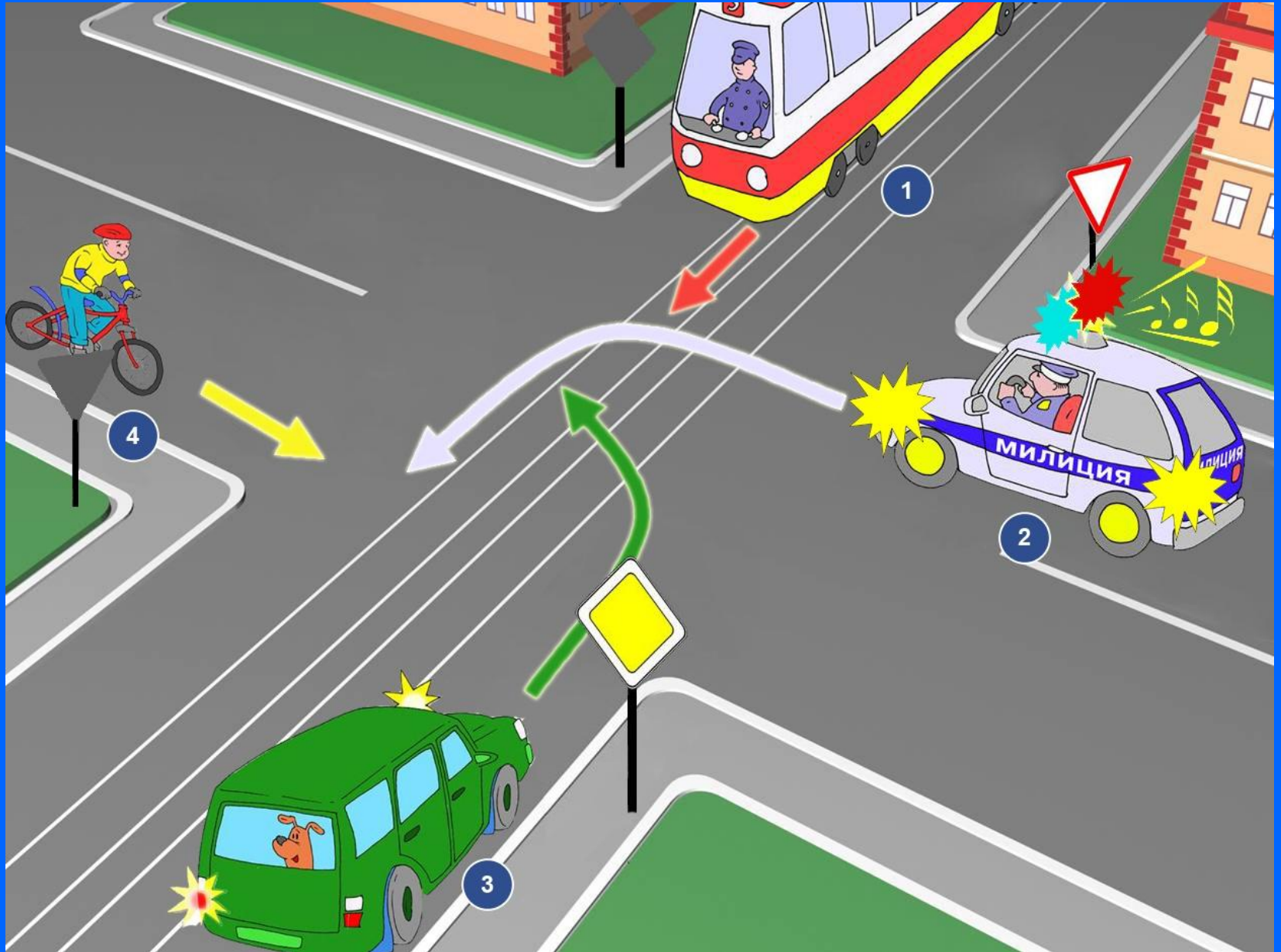
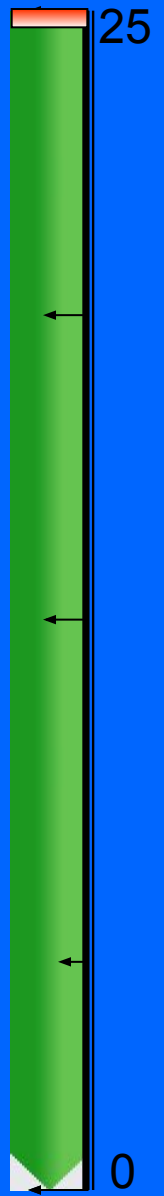
движения»

Знаки Правил дорожного движения

вопрос 1

Картинку вы увидите на 25 секунд

Определите порядок проезда перекрестка



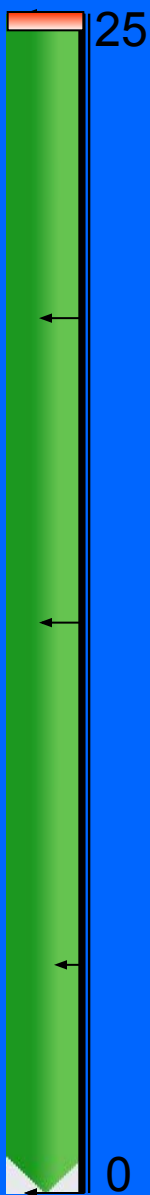
Знаки Правил дорожного движения

вопрос 2

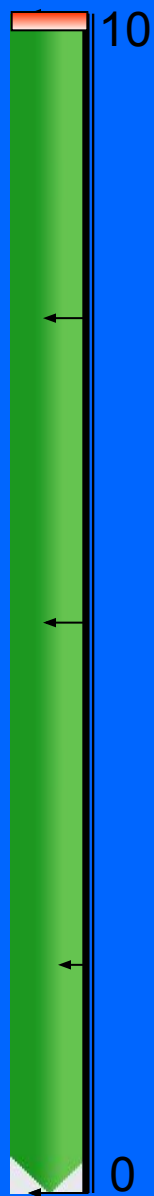
Фотографию вы увидите на 25 секунд

Блоки вы увидите на 10 секунд

ВНИМАТЕЛЬНО РАССМОТРИТЕ ФОТОГРАФИЮ



Выпишите лишние фрагменты



А



Б



В



Г

1. А

2. Г

3. Б

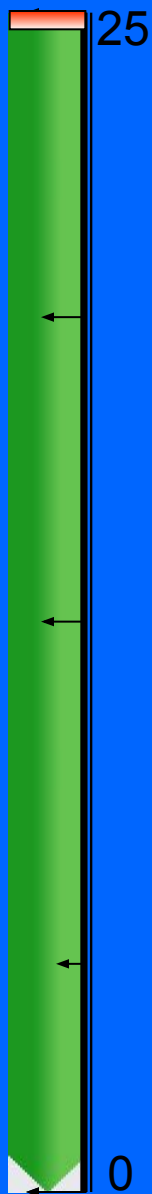
Знатоки Правил дорожного движения

вопрос 3


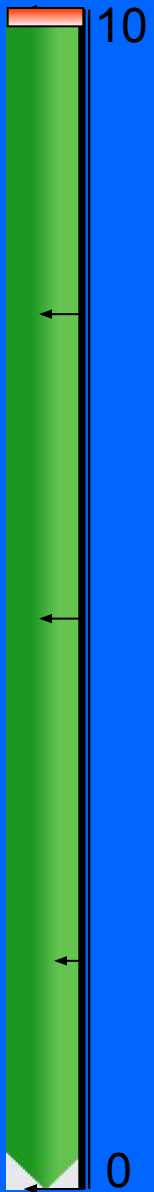
Фотографию вы увидите на 25 секунд

Блоки вы увидите на 10 секунд

ВНИМАТЕЛЬНО РАССМОТРИТЕ ФОТОГРАФИЮ



Выпишите лишние фрагменты



А



Б



В



Г

1. А Б 2. Б В 3. Б Г

Знаки Правил дорожного движения

вопрос 4

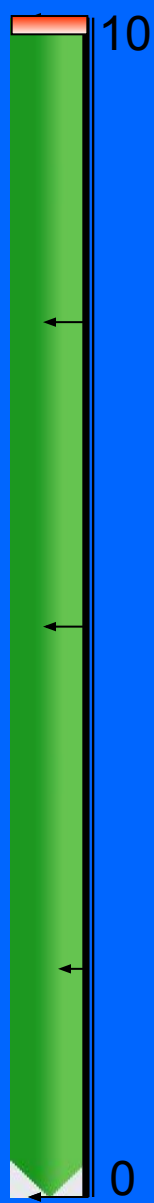
Фотографию вы увидите на 25 секунд

Блоки вы увидите на 10 секунд

ВНИМАТЕЛЬНО РАССМОТРИТЕ ФОТОГРАФИЮ



Выпишите лишние фрагменты



А



Б



В



Г

1. А В 2. А Г 3. Б Г


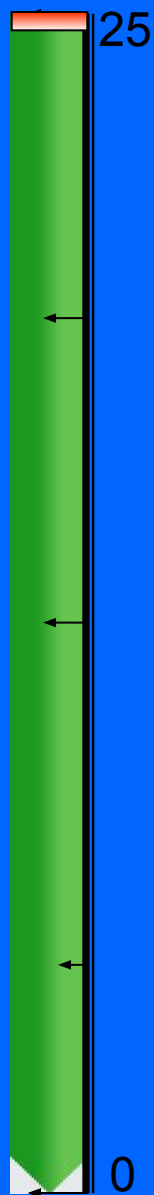
Знаки Правил дорожного движения

вопрос 5

Фотографию вы увидите на 25 секунд

Блоки вы увидите на 10 секунд

Определите кто из пешеходов нарушает правила движения



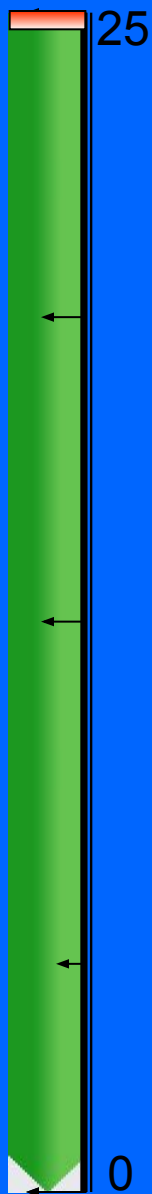
Знаки Правил дорожного движения

вопрос 6

Фотографию вы увидите на 25 секунд

Блоки вы увидите на 10 секунд

Определите кто из пассажиров нарушает правила движения





Первый блок заданий выполнен

Спасибо за внимание!