

Контрольная по ПДД

Тема: виды светофоров и
сигналы регулировщика



Выберете правильный ответ

Вопрос №1

• Почему возникла необходимость создать светофор?

1. Из-за интенсивности движения конных экипажей;
2. Из-за большого количества людей на дороге;
3. Из-за большого количества транспорта на дороге

Выберете правильный ответ

Вопрос №2

- Как называлось первое механическое средство регулирующее движение?

1. симафор;
2. семафор;
3. ститафор;
4. светофор.

Выберете правильный ответ

Вопрос №3

- **Сколько сигналов имело то механическое средство?**

1. **один ;**
2. **два ;**
3. **три ;**
4. **четыре .**

Выберете правильный ответ

Вопрос №4

• Как выделялся «желтый сигнал» у механического средства?

1. Звуковой сигнал регулировщика;
2. Электрической лампочкой на светофоре;
3. Звуковой сигнал светофора;
4. При помощи мигающего красного или зеленого сигнала .

Выберете правильный ответ

Вопрос №5

• В какой стране появился первый светофор?

1. В Америке ;
2. В России ;
3. В Англии ;
4. В Германии .

Выберете правильный ответ

Вопрос №6

• Как выглядел первый светофор в Москве?

1. В виде электрического светофора с тремя сигналами;
2. В виде циферблата часов, разделенного на секторы зеленого, желтого и красного цветов;
3. В виде механического средства с вращающимися газовыми фонарями.

Выберете правильный ответ



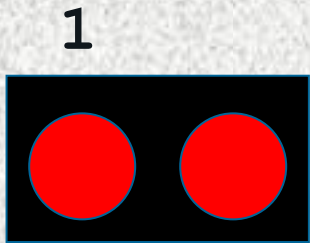
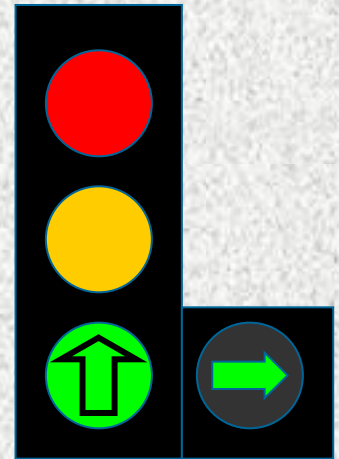



Вопрос №7

• **Какое расположение сигналов было на светофоре в 30е годы?**

1. Зеленый, красный, желтый;
2. Красный, желтый, зеленый;
3. Зеленый желтый, красный.

Задание №1

- Подпишите названия транспортных светофоров



1

2

3

4


5

6

7


Задание №2

- При таком сигнале регулировщика кому из пешеходов разрешено идти?




Задание №3

- При таком сигнале регулировщика, кому из пешеходов можно идти?



Задание №4

- Кто из пешеходов нарушает сигналы регулировщика?



Задание №5

- Какой сигнал показывает регулировщик, что он означает?

