

Викторина:

"ЗНАТОКИ ПДД"



1. Какое лекарственное средство можно использовать в качестве дезинфицирующего средства при капиллярном кровотечении?

- 1. Подорожник, берёзовый лист.
- 2. Корень валерианы, цветы ландыша.
- 3. Листья мать-и-мачехи.

Подорожник, берёзовый лист.



2. Какое средство для автомобильной аптечки можно применить для уменьшения боли при переломе?

- 1. Валидол.
- 2. Анальгин и охлаждающий пакет-контейнер.
- 3. горчичник.

Анальгин и охлаждающий пакет- контейнер.



3. Для чего нужен валидол в автомобильной аптечке?

- 1. Для приёма при высокой температуре тела.
- 2. Для приёма при болях в области перелома.
- 3. Для приёма при болях в области сердца.

Для приёма при болях в
области сердца.

4. Как оказать помощь пострадавшему при болях в области сердца?

- 1. Дать принять одну таблетку анальгина или аспирина.
- 2. Дать понюхать нашатырный спирт.
- 3. Дать принять под язык таблетку валидола или нитроглицерина, дать внутрь 15 капель корвалола в 50 мл. ВОДЫ.

Дать принять под язык таблетку валидола
или нитроглицерина, дать внутрь 15
капель корвалола в 50 мл. воды.

5. Для чего в автомобильной аптечке предназначен 10% водный раствор аммиака (нашатырный спирт) ?

- 1. Для обработки ран.
- 2. Для наложения согревающего компресса.
- 3. Для вдыхания при обмороке и угаре.


Для вдыхания при обмороке
и угаре.

6. Где нужно определять пульс, если пострадавший без сознания?


- 1. На лучевой артерии
- 2. На бедренной артерии.
- 3. На сонной артерии.

На сонной артерии.

Въезд запрещен



Движение запрещено



Пешеходная дорожка



Велосипедная дорожка



Пешеходный переход



Подземный и надземный переходы



Пункт питания



Пункт первой медицинской помощи



Движение на велосипедах запрещено



Проход закрыт



Место отдыха



Кемпинг



1. По какой стороне тротуара
нужно ходить:

- А) по правой
- Б) по левой
- В) по любой

1. По какой стороне тротуара
нужно ходить:

• A) по правой

- Б) по левой
- В) по любой

**2. Где можно переходить дорогу
вне населённого пункта, если
нет пешеходного перехода:**

- А) на повороте дороги
- Б) в местах, где дорога хорошо просматривается в обе стороны
- В) перед или за вершиной подъёма дороги

2. Где можно переходить дорогу вне населённого пункта, если нет пешеходного перехода:

- А) на повороте дороги
- Б) в местах, где дорога хорошо просматривается в обе стороны
- В) перед или за вершиной подъёма дороги

3. Если мы хотим перейти дорогу и видим, что приближается автомобиль:

- А) подождём, пока автомобиль проедет
- Б) быстро, но осторожно перебежим
- В) дадим знак водителю рукой о желании перейти проезжую часть и, когда водитель остановит автомобиль, перейдём улицу

3. Если мы хотим перейти
дорогу и видим, что
приближается автомобиль:

- А) подождём, пока автомобиль
проедет
- Б) быстро, но осторожно перебежим
- В) дадим знак водителю рукой о желании
перейти проезжую часть и, когда водитель
остановит автомобиль, перейдём улицу

**4. По какой стороне
обозначенного пешеходного
перехода должен идти пешеход:**

- А) по той стороне, где больше места
- Б) по его левой половине
- В) по его правой половине

4. По какой стороне
обозначенного пешеходного
перехода должен идти пешеход:

- А) по той стороне, где больше места
Б) по его левой половине

• В) по его правой половине

5. Ходьба по краю тротуара (бордюру) является:

- А) опасной, т.к. существует возможность быть задеты движущимся транспортом, который едет близко от края тротуара
- Б) неопасной, т.к. транспорт ни в коем случае не должен ехать так близко к тротуару, чтобы задеть пешехода
- В) неопасной, потому что бордюр-это часть, а на тротуар транспорт не должен наезжать

5. Ходьба по краю тротуара (бордюру) является:

- А) опасной, т.к. существует возможность быть задеты движущимся транспортом, который едет близко от края тротуара
- Б) неопасной, т.к. транспорт ни в коем случае не должен ехать так близко к тротуару, чтобы задеть пешехода
- В) неопасной, потому что бордюр-это часть, а на тротуар транспорт не должен наезжать

6. Если пешеход не успел дойти до середины дороги, где он должен остановиться:

- А) в любом месте на проезжей части, не мешая движению транспортных средств
- Б) обязательно дойти до тротуара или обочины независимо от движения транспортных средств
- В) на середине пешеходного перехода, а при его отсутствии - на середине проезжей части дороги

6. Если пешеход не успел дойти до середины дороги, где он должен остановиться:

- А) в любом месте на проезжей части, не мешая движению транспортных средств
- Б) обязательно дойти до тротуара или обочины независимо от движения транспортных средств
- В) на середине пешеходного перехода, а при его отсутствии - на середине проезжей части дороги

7. Где нужно ждать автобуса, троллейбуса, трамвая, такси:


- А) на посадочных площадках, тротуаре или обочине, где установлены указатели остановки общественного транспорта;
- Б) в любом месте на проезжей части.

7. Где нужно ждать автобуса, троллейбуса, трамвая, такси:

- А) на посадочных площадках, тротуаре или обочине, где установлены указатели остановки общественного транспорта;
- Б) в любом месте на проезжей части.


8. Какой дорожный знак устанавливают непосредственно у пешеходного перехода:

- А) предупреждающий знак «пешеходный переход»;
- Б) информационно-указательный знак «пешеходный переход»



8. Какой дорожный знак устанавливают непосредственно у пешеходного перехода:

- А) предупреждающий знак «пешеходный переход»;
- Б) информационно-указательный знак «пешеходный переход»



9. Где пешеход должен ожидать смену сигнала светофора, если он не успел перейти середину проезжей части:

- А) остановиться там, где его застал запрещающий сигнал светофора;
- Б) быстро закончить переход;
- В) остановиться на островке безопасности или середине проезжей части;

9. Где пешеход должен ожидать смену сигнала светофора, если он не успел перейти середину проезжей части:

- А) остановиться там, где его застал запрещающий сигнал светофора;
- Б) быстро закончить переход;
- **В) остановиться на островке безопасности или середине проезжей части;**

**10. С какой стороны разрешается
производить высадку пассажиров из
кузова грузового автомобиля:**

- А) со стороны левого борта, предварительно убедившись в безопасности;
- Б) постараемся преодолеть находящееся на тротуаре препятствие;
- В) со стороны правого и заднего бортов.

**10. С какой стороны разрешается
производить высадку пассажиров из
кузова грузового автомобиля:**

- А) со стороны левого борта, предварительно убедившись в безопасности;
- Б) постараемся преодолеть находящееся на тротуаре препятствие;
- **В) со стороны правого и заднего бортов.**

11. Если на тротуаре, по которому мы идём, находится препятствие, например выкопанная яма или заграждение:

- А) перейдём на другую сторону улицы;
- Б) выйдем на проезжую часть и продолжим движение по проезжей части вдоль тротуара до тех пор, пока не сможем на него вернуться
- В) постараемся преодолеть находящиеся на тротуаре препятствие

11. Если на тротуаре, по которому мы идём, находится препятствие, например выкопанная яма или заграждение:

- А) перейдём на другую сторону улицы;
- Б) выйдем на проезжую часть и продолжим движение по проезжей части вдоль тротуара до тех пор, пока не сможем на него вернуться
- В) постараемся преодолеть находящиеся на тротуаре препятствие

12. Кататься на санках и на лыжах можно только:

- А) по дорожкам, предназначенным для пешеходов;
- Б) по правой стороне проезжей части;
- В) в парках, скверах, стадионах, там, где не ходят пешеходы и нет опасности выехать на проезжую часть.

12. Кататься на санках и на лыжах можно только:

- А) по дорожкам, предназначенным для пешеходов;
- Б) по правой стороне проезжей части;
- В) в парках, скверах, стадионах, там, где не ходят пешеходы и нет опасности выехать на проезжую часть.



**13. На оборудованном
дополнительным сиденьем и
подножками велосипеде можно
перевозить:**

- А) взрослого;
- Б) одного ребёнка;
- В) двоих детей.

**13. На оборудованном
дополнительным сиденьем и
подножками велосипеде можно
перевозить:**

- А) взрослого;
- **Б) одного ребёнка;**
- В) двоих детей.

На каком рис. №1, №2
правильно показаны места
для движения пешеходов?



На каком из рис. правильно
показано движение колонн
учащихся?

