


РАВНИНЫ И ГОРЫ РОССИИ

Окружающий мир
4 класс



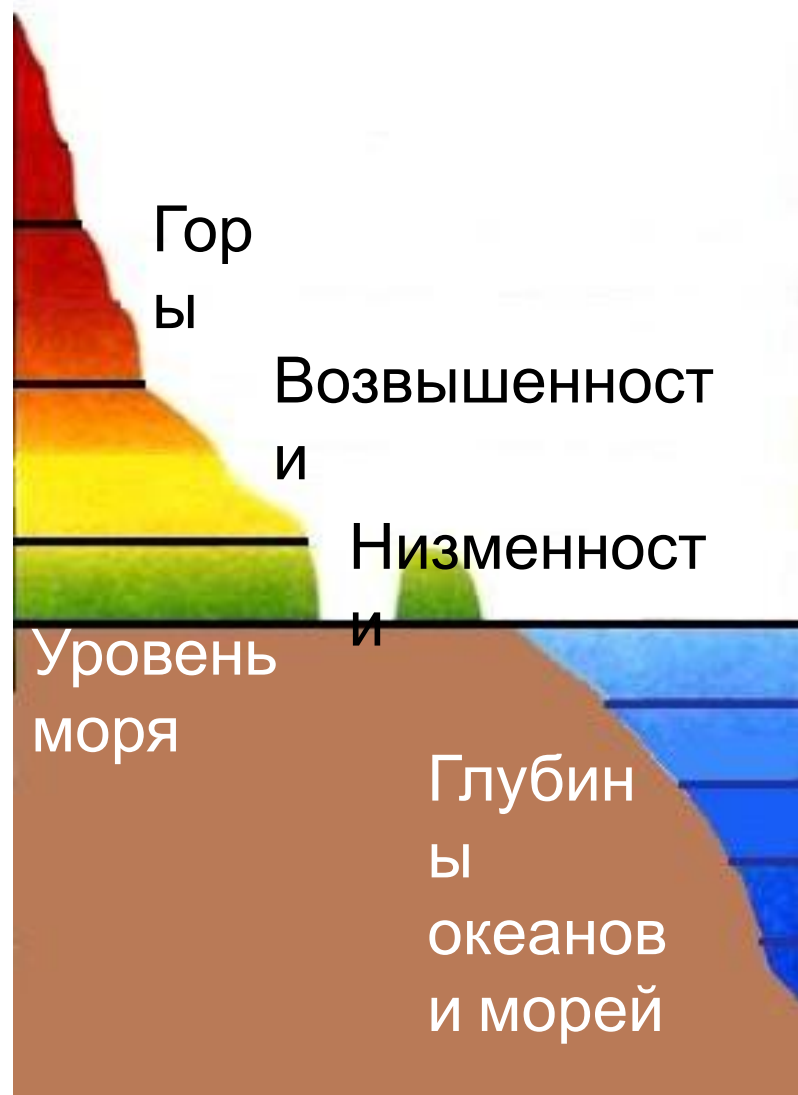
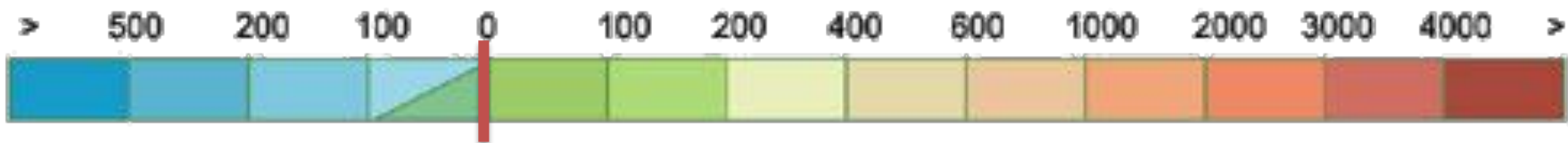
Работа в парах



Рассмотрите карту на с. 64-65 учебника и ответьте на вопросы:

Как называется эта карта?

Какое значение имеет цвет на карте?



Для определения высот и глубин на физических картах помещают шкалу высот и глубин. С помощью шкалы и соответствующей окраски на картах можно узнать, где находятся высокие участки суши, где - низкие, где глубокие участки моря (океана), а где - мелкие.

Формы рельефа Земли



Равнины на физической карте изображены зеленым цветом. Возвышенности – желтым цветом. Горы – коричневым цветом.

Формы рельефа Земли

Равнины



Горы



Равнины и горы являются основными формами земной поверхности.

Равнины

Плоские

Холмистые



Если на равнине нет возвышений и понижений, то ее называют плоской. Можно ехать часами и не встретить на плоской равнине заметных спусков и подъемов. Далеко видна линия горизонта.

Гораздо чаще встречаются холмистые равнины, где повышения чередуются с понижениями и рельеф более разнообразен. В природе обычно участки плоских и



Работа в парах



1. Найдите на карте (с. 64-65 учебника) Восточно-Европейскую и Западно-Сибирскую равнины.
2. Чем отличается их изображение?
3. Определите, какая равнина холмистая, а какая плоская.

Восточно-Европейская равнина




Западно-Сибирская равнина



равнине течёт много рек.



Работа в парах



1. Найдите на карте (с. 64-65 учебника) Среднесибирское плоскогорье.
2. Что вы можете сказать о поверхности плоскогорья?
3. А что означает слово «плоскогорье»?
4. Как вы думаете, это горы или равнина?

Среднесибирское плоскогорье





Равнины составляют большую часть территории России. Однако наша страна славится и своими величественными горами.

Горы расположены в основном на юге и

востоке России. <http://panowa-ox.narod.ru/>

Горы

Старые



Молодые



Не все горы сформировались в один и тот же период, некоторые много миллионов лет назад, а другие значительно позднее. **Форма горы указывает на ее возраст.**

Уральские горы



Кавказские горы



Это молодые и самые высокие (до 5000 м). Многие горы постоянно покрыты снегом. Самая высокая гора - Эльбс, двуглавой, потому что



Алтай и Саяны



Это молодые высокие горы, которые славятся красотой и богатством живой природы. Алтай включён в Список

Всемирного наследия.

Горы на полуострове Камчатка



С севера на юг
проходят горы
вулканов! Вулканы
природно



Вулканы Камчатки



Вулкан Ключевская сопка имеет высоту 4750 м. Он извергается каждые 6-7 лет. Извержение продолжается по несколько месяцев.

Подведём итоги



1. Покажите на карте известные вам равнины России.

2. Какие горы нашей страны вы запомнили?

Покажите их на карте

Комарова
Нина ЕВГЕНЬЕВНА
учитель
начальных классов
Лицей 533

